

通識教育(今日中國) 高級補充程度

本試卷必須用中文作答
兩小時三十分鐘完卷(上午八時三十分至上午十一時)

本卷設甲、乙兩組。甲組佔本單元分數 75%，乙組則佔 25%。

考生須回答甲組全部試題，並自乙組選答一題。

各題答案須寫在同一答題簿內。

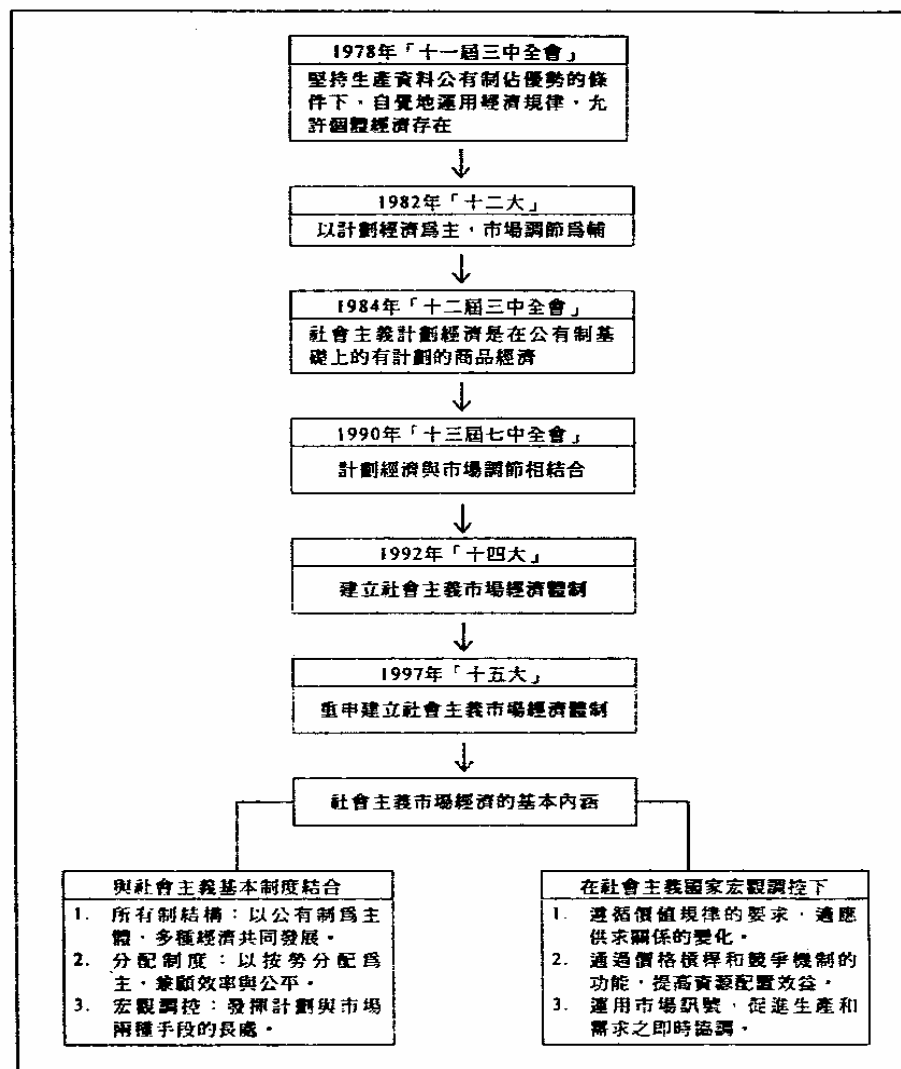
每題佔分於題末括號內顯示，用以提示答案所需之篇幅；答案可為一段或若干段。

本科的著重點在測試考生的表達能力，以及能否以清晰、簡明及合乎邏輯的論據支持個人的觀點，而非背誦資料的能力。

甲組

本組各題全答。

1. 細閱下列一則有關中國經濟改革發展過程的資料：

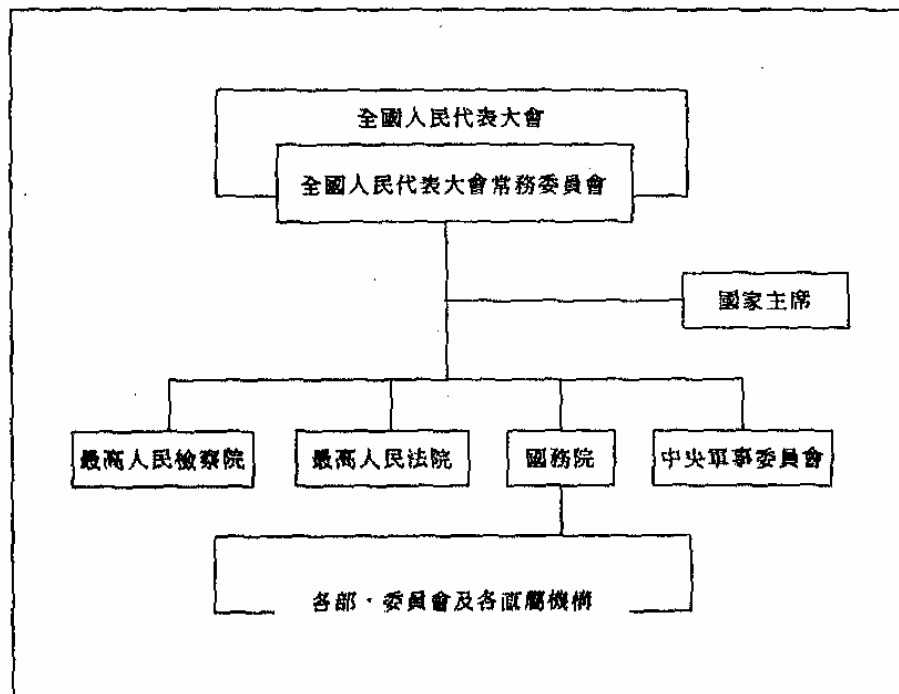


(a) 自1978年以來，中國經濟政策經歷了什麼變化？試參考上述資料加以說明。(7%)

(b) 你是否支持中國推行1992年「十四大」通過的社會主義市場經濟體制？試參考上述資料加以討論。(11%)

2. 細閱下列資料：

資料一：1982年憲法規定的中央國家機構簡表



資料二：兩名學生就中國全國人民代表大會(全國人大)的地位的對話

學生甲：全國人大是最高的國家權力機關。在國家和政府機構體系中，它居於最高地位，任何其它機關都不能超過它，也不能與它並列，不具有與它相同的地位。

學生乙：雖然全國人大是最高國家權力機關，但它真正的政治地位並不與憲法所賦予者相符……

(a) 假如你是學生甲，你會提出什麼理據支持「全國人大是最高的國家權力機關」這一觀點？ (7%)

(b) 試代學生乙完成上述說話，反駁學生甲所持的觀點。 (18%)

3. 細閱下列資料：

資料一：鄧小平「三步走」經濟現代化戰略目標

第一步：1990年實現國民生產總值比1980年翻一番。
 第二步：到公元2000年使國民生產總值再增長一倍。
 第三步：到下世紀中葉，人均國民生產總值趕上中等發達國家水平。

資料二：國民生產總值的變化

年份	國民生產總值 (人民幣億元)
1980	4,470
1990	17,693
1995	23,250
2000*	31,100

資料二：國民生產總值和主要產品居世界位次的變化

年份	國民生產總值	糧食	棉花	肉類	煤	原油	發電量	鋼
1980	151	2	2	3	3	6	6	5
1990	100	1	1	1	1	6	4	4
2000*	75	2	2	2	1	4	4	4

*2000年的數字是預估數字

(a) 自1978年以來，中國經濟現代化如何提升中國在國際上的經濟地位？試參考上述資料加以說明。 (7%)

(b) 你認為鄧小平「三步走」經濟現代化戰略目標能否全盤實現？試加以解釋。 (18%)

乙組

[佔本單元分數25%]

本組選答一題。

4. (a) 香港特別行政區奉行的「司法獨立」制度，在哪些方面與下列資料所示資本主義國家所奉行者相似？ (5%)
- (b) 在實踐司法獨立方面，香港特別行政區與中國內地有些什麼差異？你認為這些差異是什麼因素造成的？ (20%)

中國司法機關依法獨立行使司法權，與資本主義國家的所謂「司法獨立」有着原則性的區別。

資本主義國家標榜的「司法獨立」，主要有三方面的內容：一是根據「三權分立」原則，法院組織機構獨立，自成體系，檢察機關則隸屬於行政系統；二是「法官獨立」，法官按「自由心證」，獨立行使審判權；三是法官終身制和高薪制，非經彈劾，不得被免職、撤職和提前退休。

中國的司法機關獨立行使司法權，主要表現在：

- (1) 中國的司法權是一權之下的分工，是國家最高權力的組成部分，是國家權力機關的職能分工，不僅人民法院是獨立的，而且人民檢察院也是獨立的，都不屬於行政機關。
- (2) 人民法院依法獨立審判，是法院依法獨立審判而非審判員獨立審判。中國司法機關實行民主集中制原則，實行集體領導的制度。
- (3) 中國的審判人員和檢察人員實行限任制，而非終身制。這使得司法活動時刻都受人大的領導，從而保證司法活動依法獨立進行。

5. (a) 根據下列資料，指出 1978-93 年間中國城鎮及農村人口的變化。 (5%)

- (b) 你認為導致上述變化的因素是什麼？又這些變化帶來什麼經濟後果？ (20%)

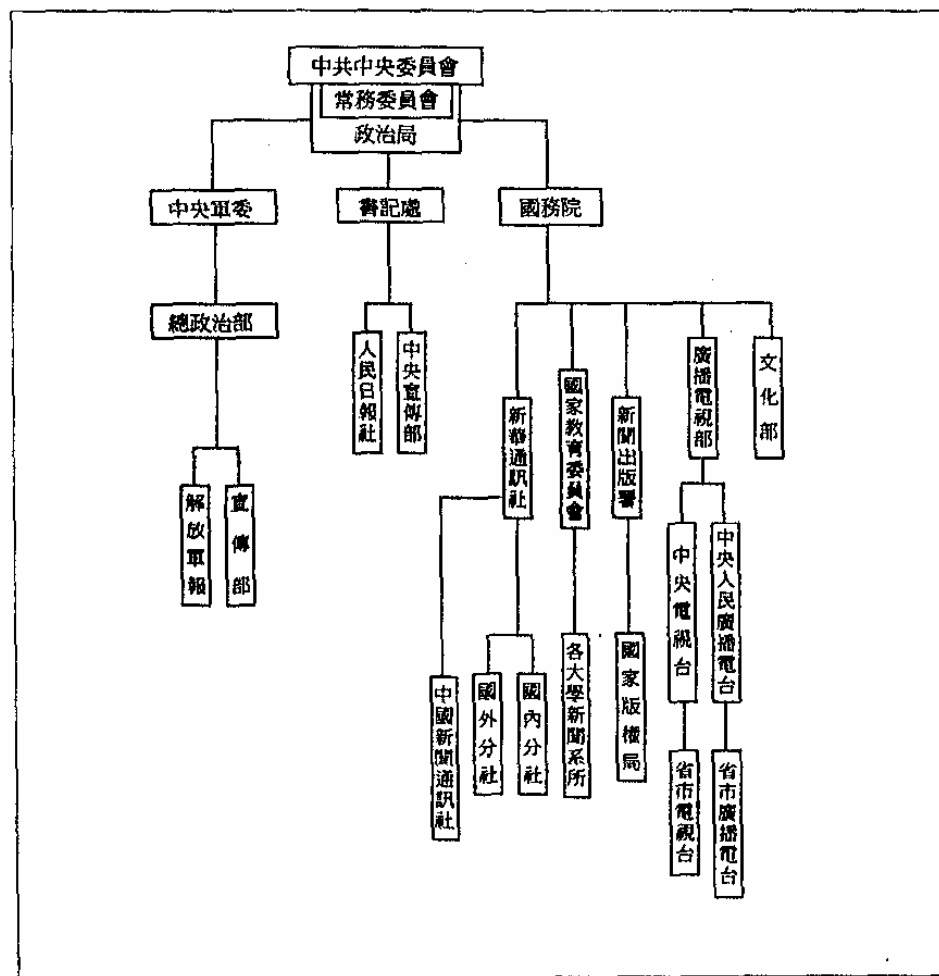
1978-93 年中國人口就居住地點的分布情況

年份	總人口 (百萬)	城鎮人口 (百萬)	百分率	農村人口 (百萬)	百分率
1978	963	172	17.9	790	82.1
1979	975	185	19.0	790	81.0
1980	987	191	19.4	796	80.6
1981	1,001	202	20.2	799	79.8
1982	1,017	215	21.1	802	78.9
1983	1,030	223	21.6	807	78.4
1984	1,044	240	23.0	803	77.0
1985	1,059	251	23.7	808	76.3
1986	1,075	264	24.5	811	75.5
1987	1,093	277	25.3	816	74.7
1988	1,110	287	25.8	824	74.2
1989	1,127	295	26.2	832	73.8
1990	1,143	302	26.4	841	73.6
1991	1,158	305	26.4	853	73.6
1992	1,172	324	27.6	848	72.4
1993	1,185	334	28.1	852	71.9

6. 1978 年改革開放以來教育在中國擔當的角色，是否反映了下列的觀點？試提出理據支持你的答案。 (25%)

列寧強調，學校應當成為無產階級專政的工具。毛澤東強調，教育必須為無產階級政治服務。中國共產黨認為學校不是單純傳授知識的場所，而是階級鬥爭的陣地。

- 7 你認為中國內地傳播媒介是否具有獨立性？試參考下圖，並就近年傳媒的發展加以申論。
(25%)



(摘自《東亞季刊》23卷2期)

試卷完