

通識教育(現代世界) 高級補充程度

本試卷必須用中文作答
兩小時三十分鐘完卷(上午九時至上午十一時三十分)

1. 本卷設甲、乙、丙三組。甲、丙兩組各佔本單元分數 25%，乙組則佔 50%。
2. 考生須回答甲、乙兩組全部試題，並自丙組選答一題。考生宜分別用四十分鐘作答甲、丙兩組，及用七十分鐘作答乙組試題。
3. 各題答案須寫在同一答題簿內。
4. 每題佔分於題末括號內顯示，用以提示答案所需之篇幅；答案可為一段或若干段。
5. 本科的著重點在測試考生的表達能力，以及能否以清晰、簡明及合乎邏輯的論據支持個人的觀點，而非背誦資料的能力。

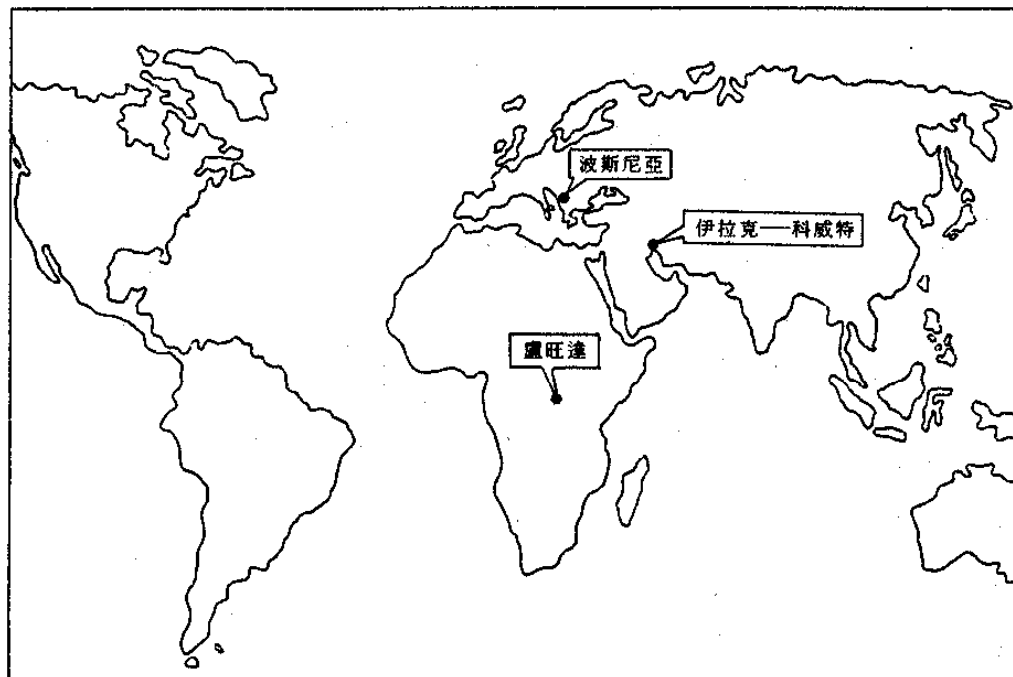
甲組

[佔本單元分數 25%]

本組各題全答。

1. 根據聯合國憲章第一條，聯合國的其中一個宗旨是「維持國際和平及安全，……並以和平方法且依正義及國際法之原則，調整或解決足以破壞和平之國際爭端或情勢」。

聯合國在下圖所示的地區/國家駐有維持和平部隊。試就圖中所示的其中一個地區/國家，討論聯合國在什麼程度上達成上述宗旨。(15%)



2. 以下是一份有關 1994 年 10 月所舉行的亞洲運動會的報章節錄：

中國國務院委員李鐵映取消訪問日本，以抗議日本邀請一名台灣政府官員出席 1994 年 10 月在廣島舉行的亞洲運動會。

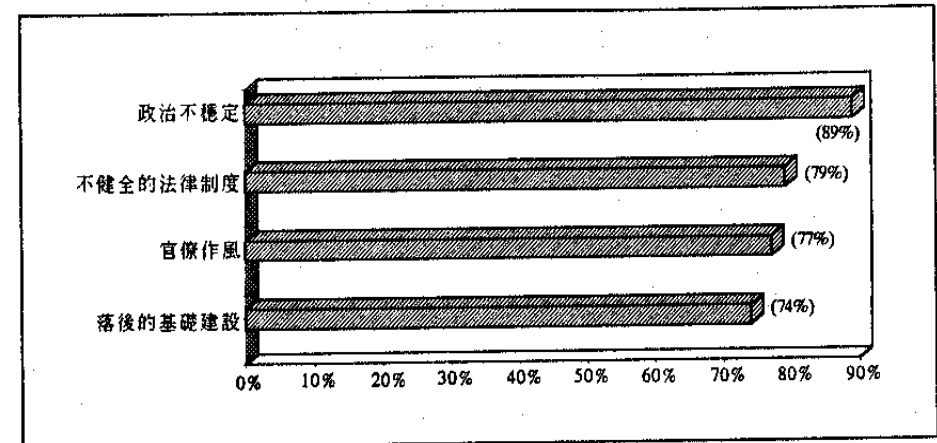
試參考上述報導，討論體育在什麼程度上能促進國際間的了解。

(10%)

本組各題全答。

3. (a) 一名經濟學者曾對一些國際投資公司進行調查，藉此了解它們認為哪些問題是阻礙第三世界國家發展的主要因素。以下是調查結果的概要：

表一：阻礙第三世界國家發展的主要因素




註：括號內的數字顯示有多大百分比的回應者認為該項問題是阻礙第三世界國家發展的主要因素。

- (i) 表一所提及的因素如何阻礙第三世界國家的發展？試解釋你的答案。 (15%)
- (ii) 除表一所提及的因素外，試舉出其他亦可能阻礙第三世界國家發展的因素，並提出理據支持你的答案。 (15%)
- (iii) 為什麼有這麼多第三世界國家出現政治不穩定的情況？試加解釋。 (5%)

此 頁 空 白

- (b) 下圖顯示一些新興工業國家/地區以及第三世界國家在1975至1993年間國內生產總值*的平均增長率：

表二：國內生產總值的平均增長率(1975-93年)



(*國內生產總值是一項指標，用以顯示某一個國家在一年內所生產的貨品及提供的服務總值。)

表二顯示香港、台灣、南韓和新加坡這「亞洲四小龍」在近年來取得快速的發展。發展緩慢的第三世界國家可從「亞洲四小龍」中取得什麼教訓？試舉出理由支持你的答案。

(15%)

丙組

[佔本單元分數25%]

選答一題。

4. 一位政治學者曾對一些國家向外國提供援助的目的進行研究，下表是其研究結果的概要：

提供援助的基本目的	「隱藏」的目的	提供援助的國家的類別
1. 推動接受援助的國家(以下簡稱為受援國)的經濟發展	保持受援國的政治穩定	西方國家
2. 協助受援國，使它們最終能自給自足	加快民主化的過程	西方國家
3. 象徵對受援國的友誼、承諾與支持	(a) 加強雙邊關係 (b) 傳播共產主義 (c) 增進阿拉伯國家/回教徒的團結	(a) 所有提供援助的國家 (b) 中國與前蘇聯 (c) 阿拉伯國家
4. 維持對受援國的內政及外交政策的影響		強國
5. 令受援國的政權繼續執政	保障提供援助的國家的政治與外交利益	強國
6. 人道的緊急援助	改善關係	所有提供援助的國家

試參考上表所提供的資料，探討外來援助對受援國的內政及外交政策所造成的影響。

(25%)

5. 在一節通識教育課上，兩個學生提出截然不同的觀點：

學生甲：隨著聯合國組織與其他區域性組織例如歐洲聯盟、北大西洋公約組織、東南亞國家協會、以及阿拉伯聯盟等出現以後，國與國之間的界限已遭打破，而彼此間的互相依賴也增強了。

學生乙：這是浮誇之言！事實上，宗教和種族差異導致國與國之間的衝突和猜忌增多。這世界若要變成一個「地球村」，還需經歷漫漫長路。

哪一個學生的觀點較有說服力？試解釋你的答案。

(25%)

6. 細閱下列評論：

在冷戰結束後的年代，由於美國經濟衰弱和前蘇聯的解體，加上日本和歐洲的崛起，令國際形勢從一個由美國和前蘇聯支配的「兩極」世界轉變為擁有多個權力中心的「多極」世界。

以上的評論在什麼程度上恰當地描述冷戰結束後的新勢力均衡？試提出理據支持你的看法。
(25%)

7. 下文是香港在1983及1993年與其主要通商地區的貿易概況的數據：

1983年			1993年		
進口			進口		
供應地	百萬元	%	供應地	百萬元	%
1. 中國	42,821	24.4	1. 中國	402,161	37.5
2. 日本	40,333	23.0	2. 日本	178,034	16.6
3. 美國	19,179	10.9	3. 台灣	93,968	8.8
4. 台灣	12,448	7.1	4. 美國	79,419	7.4
5. 新加坡	10,482	6.0	5. 南韓	48,220	4.5
6. 英國	7,456	4.2	6. 新加坡	47,835	4.4
7. 南韓	5,050	2.9	7. 德國	24,918	2.3
8. 西德	4,556	2.6	8. 馬來西亞	15,855	1.5
本地產品出口			本地產品出口		
目的地	百萬元	%	目的地	百萬元	%
1. 美國	43,802	42.0	1. 中國	63,467	28.4
2. 英國	8,538	8.2	2. 美國	60,292	27.0
3. 西德	8,043	7.7	3. 德國	13,969	6.3
4. 中國	6,223	6.0	4. 新加坡	11,344	5.1
5. 日本	3,910	3.7	5. 英國	10,771	4.8
6. 加拿大	3,731	3.6	6. 日本	9,677	4.3
7. 澳洲	2,927	2.8	7. 台灣	6,261	2.8
8. 新加坡	2,228	2.1	8. 加拿大	4,734	2.1
轉口			轉口		
目的地	百萬元	%	目的地	百萬元	%
1. 中國	12,183	21.6	1. 中國	274,561	33.4
2. 美國	8,028	14.3	2. 美國	180,349	21.9
3. 新加坡	4,523	8.0	3. 日本	44,156	5.4
4. 印尼	3,884	6.9	4. 德國	40,798	5.0
5. 台灣	3,454	6.1	5. 英國	24,536	3.0
6. 日本	3,176	5.6	6. 台灣	21,910	2.7
7. 南韓	2,440	4.3	7. 新加坡	17,143	2.1
8. 菲律賓	1,632	2.9	8. 南韓	15,538	1.9

試參考上述數據，從貿易方面分析香港與第三世界的關係。

(25%)

試卷完