

# ECONOMIC

## BOOK 1

- 01\_機會成本與基本概念 P.1
- 02\_需求及供應 P.42
- 03\_效率與公平 P.137
- 04\_生產要素和生產級別 P.175
- 05\_短期與長期生產及成本 P.224
- 06\_廠商擁有權、擴張及結合 P.252
- 07\_競爭與市場結構 P.295

## 1. 1990.Q1(a)(i)

王太是一位律師，也擅長打理家務，但是她僱用一名菲傭為她打理家務。

(i) 試用機會成本的概念解釋為何王太不做全職家庭主婦，卻僱用菲傭打理家務。(5 分)

## 2. 1990.Q4(c)(i)

設李先生的公司從政府取得配額。解釋這間公司運用這些配額出口成衣的機會成本是否為零。(4 分)

## 3. 1992.Q2(a)(i)

寫出「機會成本」的定義。(2 分)

## 4. 1993.Q5 (a)

陳先生在旺角擁有一樓宇單位。他使用該單位的個人喜好次序如下：

第一喜好：自住

第二喜好：出租

第三喜好：空置

試以「機會成本」解釋陳先生的第二和第三喜好的成本是否一樣。(4 分)

## 5. 1995.Q10 (a)(i) (I) &amp; (II)

下列是美國的一段新聞報導：

美國一位歌手義演兩場相同的演唱會，門券收入全數捐予非洲盧安達難民作購買糧食及醫藥之用。

(i)(I) 寫出機會成本的定義。(2 分)

(II) 以一個例子輔助解釋為甚麼該歌手演出該兩場演唱會是有機會成本的。(3 分)

## 6. 1996.Q1(a) &amp; (b)

百強可從兩種方式中選擇其一以消磨一個下午：他可以出席一個音樂會，或者與朋友去卡拉 OK 酒廊消遣。

解釋在下列情況下，百強去卡拉 OK 酒廊消遣的機會成本是否有變？

(a) 該音樂會十分沉悶。(2 分)

(b) 該酒廊服務十分差劣。(2 分)

## 7. 1997.Q11(b)

設某君在白置物業內經營酒家生意。

以一個例子輔助，解釋某君以上述方式使用該物業的機會成本在甚麼情況下會增加。(3 分)

## 8. 1998.Q1(a) &amp; (b)

小明升讀中四，可在三班中選讀其一。現根據他的喜好分列如下：

第一喜好：文科班

第二喜好：商科班

第三喜好：理科班

(a) 寫出機會成本的定義。(2 分)

(b) 若小明的學校不再開設商科班，解釋他選擇文科班的機會成本如何改變。(3 分)

## 9. 1999.Q1

大雄打算以 8 元向無牌小販購買一包三文治或一碗麵。若在麵湯裏發現一隻蟑螂，解釋這對大雄購買三文治的機會成本有甚麼影響。(3 分)

## 10. 2000.Q10(b)(ii)(I) &amp; (II)

(b) 假設甲經濟的 X 銀行，購買乙經濟的 Y 銀行價值 5 百萬元之控制性股權，從而收購了 Y 銀行。

(i)(I) 寫出機會成本的定義。(2 分)

(II) 假設 X 銀行並不知道 Y 銀行有一筆隱藏的巨額欠債。解釋這會如何影響 X 銀行該項收購行動的機會成本。(3 分)

## 11. 2001.Q10(d)

小祺處理他的金錢有如下的喜好：

第一喜好：購買金幣

第二喜好：在銀行儲蓄

第三喜好：投資股票

假設政府對銀行存款開徵利息稅。解釋小祺選擇購買金幣的機會成本會否因而改變。(4 分)

## 12. 2002.Q10(c)

假設部分大型銀行將存款利率調低，而部分銀行則將存款利率調高。

用機會成本的概念解釋這會如何影響存款在上述兩類銀行之間的流動。(4 分)

## 13. 2003.Q11(b)(i)

假設多間公司結業導致對貸款的需求大幅下跌，因此，部分銀行無法將超額儲備借出。

(i) 解釋上述貸款需求下跌會如何影響該等銀行持有超額儲備的機會成本。(4 分)

## 14. 2004.Q.2

陳先生和李先生都是中學教師，月薪都是\$30 000。

- (a) 寫出機會成本的定義。 (2 分)
- (b) 解釋陳先生和李先生當教師的機會成本是否必定相同。 (2 分)
- (c) 解釋他們辭職不再當教師的機會成本是否必定相同。 (3 分)

## 15. 2005.Q.9(b)(ii)

解釋紅隧更形擠塞會如何影響紅隧使用者渡海的機會成本。 (2 分)

## 16. 2005.Q.9(c)

解釋當有交通擠塞時，每一位紅隧使用者渡海的機會成本是否必然相同。 (3 分)

## 17. 2006.Q.2

嘉明考慮在大學修讀法律或醫學，為將來的職業作準備。解釋若出現下列情況，他選讀法律學系的機會成本會否受影響。

- (a) 法律界的預期工資下降 (2 分)
- (b) 醫學界的預期工資下降 (2 分)

## 18. 2007.Q.10(c)

在某個颱風期間，大量離境旅客滯留在香港機場。假設他們平均滯留 24 小時。

- (i) 解釋滯留會否導致他們該次訪港的機會成本改變。 (2 分)
- (ii) 在該 24 小時期間，他們或在機場等候，或獲安排往酒店免費住宿一宵。解釋他們所身處的情況會否影響(i)的答案。 (2 分)

## 19. 2008.Q.9(b)(i)

有人提議兩項措施以冷卻過熱的股市。

- (i) 分別解釋在下列兩種情況下，投資者選擇購買股票而不在銀行存款的機會成本是否會改變。
- (1) 提高銀行存款的利率。
- (2) 政府開徵股票買賣的資本增值稅。 (6 分)

## 20. 2009.Q1

去年夏天，張小姐和陳先生各自購買了一張面值\$20 的奧運紀念紙幣。為此，他們每人都要支付\$138 及用一天的時間排隊。

- (a) 寫出機會成本的定義。 (2 分)
- (b) 「張小姐購買上述奧運紀念紙幣的機會成本與陳先生的機會成本相同。」解釋這句子是否必然正確。 (2 分)

## 21. 2010.Q11(c)

由於銀行存款利息近乎零，所以部分投資者在投資股票與物業之間選擇其一。

- (i) 以一個例子輔助，解釋選擇投資股票的機會成本在什麼情況下會增加。 (3 分)
- (ii) 解釋在股息下降時，選擇投資股票的機會成本是否會改變。 (2 分)

## 22. 2011.Q1

電子動態版清明上河圖去年來港展出，很多市民排隊購買入場券。

假設這些市民要排隊一小時及付出\$10 購買一張入場券。

- (a) 寫出機會成本的定義。 (2 分)
- (b) 解釋這些市民購買一張入場券的機會成本是否必然相同。 (2 分)

## 23. SP.Q4(b)

在周末，有較多的顧客光顧「卡拉 OK」店，但「卡拉 OK」店所提供的服務較周日昂貴。

- (b) 解釋顧客在周末光顧「卡拉 OK」店的代價與周日相比是較高還是較低。 (5 分)

## 24. PP.Q1

彼德向瑪莉借了一本書，並應瑪莉請求承諾會於一個月後把書本連同一個書簽歸還給她。 (4 分)

解釋為何該書簽對彼德和瑪莉來說均可視為「利息」。

## 25. 2013.Q9(c)

以下是一篇本地報章報道的節錄。

港鐵公司在 2012 年提高鐵路票價 5.4%。是次票價上調是根據政府所訂的票價調整機制。為了回應公眾對票價上升的不滿，港鐵推出「搭十送一」優惠措施。

觀察所得，在港鐵站的顧客服務櫃位出現換領免費車票的人龍。假設這些乘客等候的時間 (3 分)

相同，他們換領免費車票的成本是否必然相同？試加解釋。

## 26. 2014.Q1

小玲是一位正在找工作的大學畢業生。她有數個選擇，而她的優先次序如下列所示：

- 第一選擇： 在政府任職政務主任
- 第二選擇： 在會計師行任職見習生
- 第三選擇： 繼續找工作，暫時不接受任何工作

在以下的情況中，分析小玲選擇任職政務主任的機會成本會否必然維持不變：

- (a) 政府調低政務主任的起始薪金。 (2 分)
- (b) 政府向所有正在找工作的畢業生提供失業援助金。 (3 分)

27. 2015.Q1(b)

越來越多的著名大學開辦「大規模開放線上課程」(MOCC)向不同背景的學生提供有系統的學習機會。(b) 有些人較喜歡報讀免費「大規模開放線上課程」,而其他人則較喜歡報讀在大學校內授課的收費課程。若課程的教學內容和教學時數皆相同,某人報讀免費「大規模開放線上課程」的成本是否必然低於另一人報讀在校內授課的收費課程的成本?試加以解釋。(3 分)

28. 2016.Q1

蘋果公司推出新型號的智能手機。為了購買該新型號手機,有人花費數小時嘗試登入蘋果公司的網站。若該新型號手機的轉售價值下跌,透過蘋果公司網站購買該新型號手機的機會成本會下跌。你同意嗎?解釋你的答案。(3 分)

29. 2017.Q1

小珍在基勝爾企業的青洲分行工作,她現在考慮其事業的下一步發展。她有數個選項,其優先順序如下:

- 第一選項:前往一家位於離鄉的企業工作
- 第二選項:轉職到一家毋須加班工作的本地企業
- 第三選項:留在現職企業

解釋在下列情況下,轉職到該毋須加班工作的本地企業的機會成本是否仍然維持不變:

- (a) 辭職此舉對南韓的軍事威脅加劇。(2 分)
- (b) 倘若小珍想享受更多閒暇的時間。(3 分)

30. 2018.Q1

雖然機票和酒店的費用在假日期間通常比較高,但是很多人仍然會到外地旅遊。以機會成本為依據,解釋為什麼旅客在假日期間到外地旅遊未必比非假日期間昂貴。(3 分)

31. 2019.Q1

某國正考慮填海取得更多土地,以興建住宅單位。解釋在以下情況,填海的機會成本會否改變:

- (a) 由於技術原因,在填海所得土地上興建的樓宇限高兩層。(2 分)
- (b) 填海造地所需的材料出現短缺。(3 分)

1. 1990.Q1(a)(i)

當全職主婦的機會成本是賺取被聘用為律師所得的收入。當律師的機會成本是聘請菲傭所付給的工資。因為前者高於後者,所以黃太選擇聘請菲傭,而不當全職主婦。

2. 1990/Q4(c)(i)

運用這些配額出口成衣的機會成本不是零。李先生的公司可在一定價格下出售配額。李先生的公司使用該配額的機會成本是出售配額所能賺取的收入。

3. 1992/Q2(a)(i)

機會成本:所有被放棄的選擇中價值最高者。

4. 1993/Q5(a)

機會成本是所有被放棄的選擇中價值最高者。陳先生選擇第二喜好或第三喜好所放棄的選擇中價值最高者同為第一喜好選擇。因此,他選擇第二喜好或第三喜好選擇的成本是相同的。

5. 1995/Q10(a)(i) (I) &amp; (II)

(a)(i)(I) 機會成本是指在放棄了的各種可能選擇中價值最高者。(a)(i)(II) 該歌手演出該兩場演唱會是有機會成本的,因為她要為該表演付出的努力、時間或其他資源皆有其它用途,例如拍廣告。

6. 1996/Q1(a) &amp; (b)

1. (a) 百強去卡拉 OK 酒廊消遣的機會成本會下降。百強去卡拉 OK 酒廊消遣的機會成本是出席有關的音樂會。該音樂會十分沉悶使其價值下降,令去卡拉 OK 酒廊消遣的機會成本下降。(b) 百強去卡拉 OK 消遣的機會成本不變。百強去卡拉 OK 酒廊消遣的機會成本是去音樂會。有關酒廊服務十分差劣並不影響音樂會的價值,故百強去卡拉 OK 酒廊消遣的機會成本亦不會改變。

7. 1997/Q11(b)

若被放棄的最高價值選擇的價值增加,某君使用該物業的機會成本亦會增加。例如,某君的物業租金收入增加。某君使用自置物業經營酒家生意的機會成本,是把該物業出租可能賺取的租金收入。因此,如某君的物業租金上升,他使用該物業的機會成本便會增加。

8. 1998/Q1(a) &amp; (b)

(b) 當學校不再開設商科班,小明選讀文科班的機會成本是選讀理科班所帶來的得益。小明對理科的喜好比商科低。即對小明而言,選讀理科班的價值較選讀商科班低。所以選讀文科班的機會成本會下降。



## 9. 1999/Q1

購買一包三文治的成本是所有被放棄的選擇中價值最高者，即一碗麵。

若在麵湯裏發現一隻蟑螂，該碗麵的價值會下降。由此，大雄購買三文治的機會成本下降。

## 10. 2000/Q10/(b)(ii)(I) &amp; (II)

(II) X 銀行進行收購的成本不變。

Y 銀行隱藏的債務不會影響被放棄的選擇中價值最高的一個。

這只會減低收購的價值。

(X 銀行進行收購的成本是放棄了把 5 百萬元用於其他最高價值用途的得益。(如購買 Z 銀行的股票))

## 11. 2001/Q.10(d)

購買金幣的機會成本是在銀行儲蓄的價值 / 得益。

例如：銀行儲蓄的利息回報

徵收利息稅使在銀行儲蓄的價值 / 得益下降 / 改變，

意即購買金幣的機會成本下降了 / 改變了。

## 12. 2002/Q.10(c)

在一家銀行存款的成本是在其他銀行存款所能賺取的利息

∴ 在那些減息的大型 (加息的小型) 銀行存款的成本較高 (低)。

∴ 存款會從那些減息的大型銀行流向那些加息的小型銀行。

[註：只寫出機會成本的定義而欠解釋者，無分。]

## 13. 2003/Q.11(b)(i)

考生應懂得以下概念：「銀行持有超額儲備的機會成本 = 銀行從它的借款人收取的利息。」

銀行貸款需求下降。利率會下降，導致這些銀行的利息收入下降。這些銀行持有超額儲備的代價因而下降。

另一種情況：銀行未能將超額儲備借出，由此賺取的利息收入便是零，(假設沒有其他投資機會以賺取收入，) 這些銀行持有超額儲備的代價是零。

## 14. 2004/Q.2

(a) 在所有被放棄的選擇中，價值最高的一項。

(b) 不一定相同。這是因為他們所有放棄的選擇中價值最高的一項未必相同。例如：他們可能放棄不同的工作。

(c) 不一定相同。這是因為他們所有放棄的月薪都是 \$30 000，但他們教學的非金錢報酬及其它金錢報酬可以不同。換言之，他們的全部代價可以不同。

## 15. 2005.Q.9(b)(ii)

機會成本增加

– 花費更多時間，而時間可以有其他用途，所以時間成本增加。或

– 油費增加。

## 16. 2005.Q.9(c)

不是，因為

對不同的紅隧使用者來說，所用時間的「最高價值的其他用途」可能有所不同。

## 17. 2006.Q.2

(a) 不受影響，因為

只影響在大學選修法律系的價值，並不影響他的機會成本即在大學選修醫學系的價值。

(b) 受影響 / 下降，因為

被放棄的選擇中價值最高的那一項即在大學選修醫學系的價值有所改變 / 下降。

## 18. 2007.Q.10(c)

(i) 會，因為

他們訪港的時間成本會改變 (增加)。

(ii) 不會，因為

他們訪港的時間成本沒有改變。/ 這只會影響他們在香港多停留 24 小時的價值。

## 19. 2008.Q.9(b)(i)

(b)(i) 考生能界定該項機會成本即是在銀行存款的價值 / 所獲得的利息回報。

(1) 會改變，因為

在銀行存款的利息回報增加了。

(2) 不會改變，因為

此稅項會影響於股票市場投資的價值，但不影響該項機會成本。

## 20. 2009.Q1

(a) 機會成本是在被放棄的選項中價值最高的一個。

(b) 否，這是因為

他們的時間的其他用途可能並不相同。

21. 2010.Q11(c)

- (i) 投資股票的機會成本是投資物業的回報，例如租金收入或該物業價值的上升。  
若租金收入上升或該物業價值上升，則機會成本上升。 3
- (ii) 不會，因為  
這變動只會影響投資股票的價值，而不影響其機會成本。 1

22. 2011.Q1

- (a) 機會成本是在放棄的選項中價值最高的一個。 2
- (b) 否，這是因為  
每人排隊一小時的時間成本並不相同。 1

23. SP.Q4(b)

顧客享用「卡拉 OK」店的服務代價包括該服務的市價和顧客的時間成本。於周末時，該服務的市價較高，顧客的時間成本較低。事實上周末時顧客對該服務的需求量較高，意味顧客於周末享用該服務的全部成本必然較低。 5

24. PP.Q1

- 對彼得：該書籤是他提早獲得該本書所付出的價格／代價。 (2)
- 對瑪莉：該書籤是她延遲消費所收到的溢價／補償。 (2)

25. 2013.Q9(c)

- 否，因為人們時間的其他用途各有不同，他們的時間成本不盡相同。 (3)

26. 2014.Q1

- (a) 是。 (1)
- 因為政務主任起始薪金下跌只會令小玲第三選項的價值上升至超越第二選項的價值水平。所以選擇任職政務主任的成本可能從第二選項的價值(即在會計師樓任職實習生)變為第三選項的價值(即繼續找工作而沒有接受任何工作並享有失業援助金)。

27. 2015.Q1(b)

- (b) 否。 (1)
- 因為某人報讀 MOOC 的時間成本可能高於另一人報讀校內課程的時間成本如上述課程學費。  
或前者(MOOC 學生)可能須花額外的時間獲取/下載該教材和課程講師或教學助理溝通。  
或前者可能要支付接駁互聯網的費用以獲取該教材。 (2)

28. 2016 Q.1

購買新型號手機的全部成本包括新型號手機的價格（貨幣成本）加上登入網站所花時間的價值。新型號手機的轉售價值不是所放棄的選項，故此當該價值下降購買新型號手機的成本沒有改變。 分數 (3)

望  
轉售價值的下降會減低（抄家）對新型號手機的需求，因此令超額需求下降，登入網站所需的時間減少，令購買新型號的時間成本下跌，購買新型號手機的成本下跌。 感 (3)

29. 2017 Q1

- (a) 否，所放棄的選項裡價值最高者（即第一選項）的價值下降。 分數 (2)

- (b) 否。南韓的工時可能會頗長，故此第一選項會變得較不吸引。 (3)

30. 2018 Q1

全部成本 = 金錢成本 + 時間成本 (3)

雖然在假日期間到外地旅遊的金錢成本(包括機票和酒店費用)一般較非假日為高，但是假日期間的時間成本(例如所放棄的收入)可能低很多。若所節省的時間成本高於額外的金錢成本，依全部成本計算，假日期間外遊會較便宜。

31. 2019 Q1

- (a) 機會成本會維持不變，因為高度限制只會減低填海所得土地之價值，並沒有影響已放棄的選項中價值最高者。 分數 (2)

- (b) 在短缺的情況下，政府需花費額外的金錢／資源以覓逐原料，故此貨幣／非貨幣成本上升，而全部成本上升。 (3)

## 1. 1991.Q2(c)(iii) (Modified)

寫出「免費物品」的定義。舉出氧氣屬於「免費物品」的一個例子和氧氣不屬於「免費物品」的一個例子。

## 2. 1994.Q1 (Modified)

港鐵公司公司在一些港鐵站提供免費接駁巴士服務。解釋該服務對社會來說是否一種「免費物品」。

## 3. 2000/Q1

句子一：冰是「免費物品」。

句子二：冰是「經濟物品」。

解釋一種情況，當中句子一 是正確的；再解釋一種情況，當中句子二 是正確的。

## 4. 2002/Q1

在地鐵站裏有免費的職位空缺刊物派發。解釋這些刊物是否社會上的「免費物品」。

## 5. 2004/Q1

2003 年 7 月，香港市民可以在星期天免費使用公眾泳池，解釋以上服務是否社會上的免費物品。

## 6. 2011.Q9(c)

一些零售店為高清電視機提供免費的維修服務。從社會的觀點出發，解釋上述服務是否免費物品。

## 7. SP.Q1

香港政府定期公布有關香港經濟的數據，部分數據可供市民在互聯網上免費瀏覽。解釋這些在互聯網上的數據是否免費物品。

## 8. 2012.Q1

某物品是免費的，它便是「免費物品」。你同意嗎？試加解釋。

## 9. 2013.Q9(b)

以下是一篇本地報章報道的節錄。

港鐵公司在 2012 年提高鐵路票價 5.4%，是次票價上調是根據政府所訂的票價調整機制。為了回應公眾對票價上升的不滿，港鐵推出「搭十送一」優惠措施。

在「搭十送一」計劃下，乘客在一週內星期一至五付款乘搭十程港鐵，便能獲得免費單程車票一張。該免費的車程是否免費物品？試加解釋。

## 10. 2015.Q1(a)

越來越多的著名大學開辦「大規模開放線上課程」(MOOC)向不同背景的學生提供有系統的學習機會。

(a) 任何人都可以在網上免費取用大部分「大規模開放線上課程」的教材。解釋這些教材是否

(i) 免費物品： (2 分)

(ii) 共用物品。 (3 分)

## 11. 2019.Q9A

歐愛美小姐是香港選美冠軍，她以在社交媒體網站展示化妝品的使用示範短片而聞名。她也在自己的網站售賣日本化妝品。

(a) 在社交媒體網站上的短片屬共用物品，還是私用品？試加以解釋。 (3 分)

## 12. 2020.Q1

免費物品必定是免費的。你同意嗎？試加解釋。

## 1. 1991.Q2(c)(iii) (Modified)

當一物品於價格為零時( $P=0$ )，其供應量大於其需求量 ( $Q_s > Q_d$ )，該物品能滿足所有人的慾望，屬免費物品。

當氧氣用作正常呼吸用途時，它是免費物品。

當氧氣是用作醫療用途或救援用途時，(如消防員用的氧氣筒，)這些氧氣須耗用稀少資源生產，屬經濟物品(而不是免費物品)。

## 2. 1994.Q1 (Modified)

當一物品於價格為零時( $P=0$ )，其供應量大於其需求量 ( $Q_s > Q_d$ )，該物品能滿足所有人的慾望，屬免費物品。

以社會角度看，製造它們是有成本的 / 它們的數量不足以滿足人類對它們的需求。

因此，港鐵公司的免費巴士服務(從社會角度而言)並非免費物品。

## 3. 2000.Q1

例：在極地的冰原是免費物品，因為其數量足以滿足人對它的欲望 / 無需犧牲資源以獲取它 / 2  
任何合適解釋

例：在飲品中的冰塊是經濟物品，因為其數量不足以滿足人對它的欲望 / 必須付出代價方可獲取它 / 任何合適解釋 2

## 4. 2002.Q1

它們不是免費物品，由於 1  
用以製造它們的資源還有其他的用途 / 以社會角度看，製造它們是有成本的 / 它們 2  
的數量不足以滿足人類對它們的需求 / 任何一種合理解釋

## 5. 2004.Q1

這不是免費物品，因為這服務不足以滿足所有人的慾望 / 人們想得到更多這種服務 / 提供這服務的資源有其他用途 / 提供該服務有機會成本。

## 6. 2011.Q9(c)

否，因為 1  
這服務不能滿足所有人的慾望 / 人們想得到更多這種服務。  
提供這服務的資源有其他用途 / 提供該服務有機會成本。 任何一項，2

## 7. SP.Q1

否。市民樂於瀏覽更多的數據。市民願意付出成本來瀏覽有關數據。在互聯網上提供有關數據 3  
是有機會成本的。

## 8. 2012.Q1

否。因為 (1)  
該物品可能是用稀少資源生產而這些資源可作另外用途。/ 人們仍然偏好更多該種物品。 (2)

## 9. 2013.Q9(b)

否。因為提供港鐵服務須運用稀少及有其他用途的資源。 (2)

## 10. 2015.Q1(a)

(a)(i) 否， (1)

因為該物品邊際生產成本大於零。或 (1)

因為該物品是運用稀少的資源所生產，而這些資源有其他用途。<sup>1</sup>

(ii) 是，<sup>2</sup> (1)

因為一個人可下載並學習該教材時，可沒減少另一人可獲取該教材的機會，即非競爭性消費。 (2)

## 11 2019.Q9A

(a) 共用物品。因為這些短片屬非競爭性消費。人們可以同一時間觀看短片而不會影響其他人。

分數  
(3)

## 12 2020.Q1

是。  
人們不會偏好更多的免費物品。沒有人願意為獲取更多免費物品而付費/放棄資源。

分數  
(1)  
(2)

<sup>1</sup> 或因為該物品的邊際使用價值大於零。

<sup>2</sup> 若下載該教材時間，網絡流量有限制(或擠塞問題)，答案可以為「否」。

## 1. 1996.Q10(d)

甲國實行計劃經濟而乙國實行市場經濟。解釋這兩類型經濟體系兩點不同之處。 (4 分)

## 2. 2013.Q2(a)

香港政府擬推出港人港地政策，在這政策下所興建的樓宇在三十年內只可售予香港永久居民。

(a) 什麼是私有產權？解釋為什麼樓宇的私有產權在這政策下可能被削弱。 (4 分)

## 1. 1996.Q10(d)

	甲國	乙國
大部分資源的擁有權	國有	私有
資源分配的決定	由政府控制 中央決定	價格機能主導 決策權分散

2@：最高：4

## 2. 2013.Q2

(a) 私有產權是指對私人擁有產業的獨有使用權，收入專屬權及轉讓權。在計劃下樓宇的私有產權被削弱了，原因是樓宇的擁有人將其單位賣給非本地居民的權利被限制了。 (4)

(b) 價格會較低，因為潛在買家的數量下降了，引致對這些單位的需求下降。 (3)



1. 1990.MC.Q3

市場經濟體系的基本經濟問題主要由\_\_\_\_\_來解決。

- A. 政府
- B. 價格機制
- C. 企業家
- D. 消費者

2. 1992.MC.Q5

在市場經濟裏，消費者中誰會獲得貨物及勞務基本上是由\_\_\_\_\_所決定的。

- A. 政治的偏好
- B. 供應者的偏好
- C. 受控制的價格
- D. 價格機能

3. 1993.MC.Q50

當一中央計劃經濟完全變為一市場經濟時，

- A. 該國的經濟決策大部分會由它的政府所決定。
- B. 全國所得分配會較為平均。
- C. 私人擁有資源的制度早已建立。
- D. 物品和勞務出現短缺的情況會較為多。

4. 1994.MC.Q4

新界的女性原居民，若父親死時沒有立下遺囑便不能繼承他的物業。這資源分配的準則是

- A. 政府配給。
- B. 市場機制。
- C. 暴力。
- D. 社會習俗。

5. 1994.MC.Q5

香港被視為一市場經濟體系，因為

- (1)它的實質人均本地生產總值高。
  - (2)在本港，價格是分配資源的工具。
  - (3)它有一個低稅制度。
  - (4)它的資源大部分是私人擁有的。
- A. 只有(1)、(2)
  - B. 只有(1)、(3)
  - C. 只有(2)、(4)
  - D. 只有(3)、(4)

6. 1995.MC.Q20

房屋委員會正考慮是否將公共房屋申請人的家庭入息限額提高。這考慮牽涉到什麼基本經濟問題?

- A. 生產什麼?
- B. 如何生產?
- C. 為誰生產?
- D. 生產什麼及為誰生產?

7. 1996.MC.Q3

香港被形容為一個資本主義的經濟體系，因為

- A. 全部資源調配的問題都由市場機能來解決。
- B. 收入分配並不平均。
- C. 並非全部公用事業都是政府所擁有的。
- D. 大部分資源都是私有的。

8. 1997.MC.Q4

下列哪一項關於市場經濟的描述是正確的?

- A. 非價格競爭並不存在。
- B. 在整個經濟體系裏的競爭都是完全競爭。
- C. 生產形態反映消費者的意願。
- D. 全部資源都是由私人所擁有和控制的。

9. 1998.MC.Q3

與市場經濟比較，計劃經濟的

- A. 收入分配較不公平。
- B. 通脹率必然較低。
- C. 失業率必然較低。
- D. 資源屬私有的佔較小比例。

10. 1999.MC.Q3 在一個市場導向的經濟裏，

- A. 人民的生活水準較在一個指令經濟裏為高。
- B. 失業率較在一個指令經濟裏為低。
- C. 資源分配多數由價格訊息所引導。
- D. 全部基建都是私人擁有的。

11. 2000.MC.Q4

在香港，下列哪一個市場非常依賴價格機制去解決三個基本經濟問題？

- (1) 醫療
  - (2) 教育
  - (3) 銀行貸款
  - (4) 電器用品
- A. 只有(1)、(3)
- B. 只有(1)、(4)
- C. 只有(2)、(3)
- D. 只有(3)、(4)

12. 2001.MC.Q2

下列哪一項關於市場經濟的描述是正確的？

- A. 在市場經濟內，所有市場都是完全競爭的。
- B. 在市場經濟內，個人和私有廠商擁有和控制大部分資源。
- C. 與指令經濟相比，市場經濟的收入分配較不公平。
- D. 與指令經濟相比，市場經濟的失業率較高。

13. 2002.MC.Q5

下列那幾項是在市場經濟裏如何分配物品和服務的主要決定因素？

- (1) 政府計劃
  - (2) 生產成本
  - (3) 消費者的需求
  - (4) 受管制的價格
- A. 只有(1)、(3)
- B. 只有(1)、(4)
- C. 只有(2)、(3)
- D. 只有(2)、(4)

14. 2003.MC.Q4.

在下列哪一種情況下，一個經濟被視為市場經濟？

- A. 它的利得稅率低。
- B. 它用價格來分配資源。
- C. 全部行業都有競爭。
- D. 在所有市場中，廠商加入或退出都沒有限制。

15. 2004.MC.Q4

與指令經濟相比，在市場主導經濟裡

- A. 收入分配較不公平。
- B. 為獲取物品和勞務的競爭更為激烈。
- C. 有更多生產物品是由價格訊息指導的。
- D. 沒有「稀少性」的問題。

16. 2005.MC.Q8

以下哪一項關於市場主導經濟的描述是正確的？

- A. 大部分資源由私人擁有。
- B. 所有經濟問題均依賴價格機制解決。
- C. 相對於指令經濟，收入分配較不公平。
- D. 不存在非價格競爭。

17. 2006.MC.Q1

香港迪士尼樂園開幕後，有人建議減低票價。該建議於經濟學上的 \_\_\_\_\_ 問題有關。

- A. 生產什麼
- B. 怎樣生產
- C. 為誰生產
- D. 生產什麼、怎樣生產和為誰生產

18. 2006.MC.Q4

在市場經濟裏，下列哪些是由價格訊息指導的？

- (1) 資源分配
  - (2) 生產的決定
  - (3) 消費的決定
- A. 只有(1)、(2)
- B. 只有(1)、(3)
- C. 只有(2)、(3)
- D. (1)、(2)及(3)

19. 2007.MC.Q3

與計劃經濟比較，市場經濟必然

- A. 有更大的貧富之間的收入差距。
- B. 有更大的通脹壓力。
- C. 有更高的失業率。
- D. 有更高比例的資源是由價格機制指導的。

20. 2008.MC.Q3

在下列哪情況下，一個經濟會被視為由市場主導的？

- A. 多數市場是完全競爭市場。
- B. 多數資源由價格機制分配其用途。
- C. 多數物品是經濟物品。
- D. 多數公用事業是私人擁有的。

21. 2009.MC.Q3

大量內地孕婦在香港的公立醫院分娩。有人建議向這些孕婦徵收附加費。以減少在香港公立醫院分娩的內地孕婦的數量。

上述有關香港公立醫院服務的建議是經濟學上\_\_\_\_\_的問題。

- A. 「怎樣生產」
- B. 「為誰生產」
- C. 「生產什麼」
- D. 「怎樣及為誰生產」

22. 2009.MC.Q4

下列哪句關於市場導向經濟的描述是正確的？

- A. 與在計劃經濟裏生活的人相比，在市場經濟裏生活的人較富有。
- B. 多數資源用於生產消費品。
- C. 多數市場是完全競爭的。
- D. 多數資源由私人擁有。

23. 2010.MC.Q3

下列哪項可以說明經濟學上的「為誰生產」問題？

- A. 本港製造商在廣東省設立工廠以減低生產成本。
- B. 本港政府正發展香港及亞太地區的郵輪旅遊。
- C. 香港科學館提供免費入場予全日制學生和長者。
- D. 香港有更多持牌銀行加入發行人民幣債券的行列。

24. 2010.MC.Q5

在市場主導的經濟裡，

- A. 多數市場屬完全競爭。
- B. 多數資源是由價格分配的。
- C. 多數生產計劃是由中央政府決策的。
- D. 多數廠商都是生產消費者物品的。

25. 2011.MC.Q3

假設政府提供更多資助房屋予中等收入人士，上述政策與經濟學的\_\_\_\_\_問題有關。

- A. 「生產什麼」
- B. 「怎樣生產」
- C. 「為誰生產」
- D. 「生產什麼及為誰生產」

26. 2011.MC.Q4

香港被視為市場主導的經濟，因為\_\_\_\_\_。

- A. 她的人均實質本地生產總值相對地高
- B. 收入分配不平均
- C. 大部分資源都是由價格機制來分配的
- D. 大部分基建都是私人擁有及控制的

27. SP.MC.Q10

彭樹德是一位男性新界原居民。下列哪項是由價格訊息指導的？

- (1) 他向堂兄購買一幢「丁屋」。
- (2) 在農曆新年時，他獲「原居民代表」分派紅封包。
- (3) 他將名下的其中一幢「丁屋」出租給一位非原居民。

- A. 只有(1)、(2)
- B. 只有(1)、(3)
- C. 只有(2)、(3)
- D. (1)、(2)、(3)

28. 2013.MC.Q1

香港政府建議在北區興建有住宅樓宇和商場的。其中公共房屋與私人房屋的比例引起不少人關注。另外，亦有人憂慮商場的規模，指這些商場可能主要為內地遊客服務。

上述個案和經濟學中的\_\_\_\_\_問題有關。

- A. 「為誰生產」
- B. 「生產什麼」及「怎樣生產」
- C. 「生產什麼」及「為誰生產」
- D. 「怎樣生產」及「為誰生產」

29. 2014.MC.Q4

美荷樓是一幢在五十年代興建的公共樓宇。今日該樓宇被評為香港歷史建築後，它被改建為旅舍，提供雙人房、家庭房及傷健人士房間。上述個案和經濟學中的\_\_\_\_\_問題有關。

- A. 「怎樣生產」
- B. 「為誰生產」
- C. 「生產什麼」及「怎樣生產」
- D. 「生產什麼」及「為誰生產」

30. 2015.MC.Q3

下列哪項是市場經濟的一個特點？

- A. 該經濟的收入分配不平均。
- B. 政府在調控該經濟內的商業活動中沒有角色。
- C. 該經濟的生產要素大多是私人擁有的。
- D. 該經濟內只有價格競爭。

31. 2016 Q.5

瑪麗從書店購買了一本烹飪書。她的朋友潔文告訴她：「你擁有這本烹飪書的私有產權。」瑪麗在購入該書後會擁有哪些權利？

- (1) 按書中的食譜，為潔文準備晚餐。
- (2) 把整本書掃描並上載到她的網誌。
- (3) 把書放在書架，不去閱讀它。
- (4) 把書借給潔文，並要求一頓晚餐作回報。

- A. 只有 (1)、(2)、(3)
- B. 只有 (1)、(2)、(4)
- C. 只有 (1)、(3)、(4)
- D. 只有 (2)、(3)、(4)

32. 2018 Q1

下列哪項有關計劃經濟的陳述是正確的？

- A. 該經濟中共用品的數量比市場導向經濟的多。
- B. 大部分生產活動是由政府官員進行。
- C. 所有資源由政府指撥分配。
- D. 在該經濟中，競爭仍然存在。

33. 2018 Q2

行政長官提議增加五十億元教育經常開支。其中一項提案是向修讀自資課程的合資格中學畢業生提供 30000 元補貼。以上提案與經濟學中的 \_\_\_\_\_ 問題有關。

- A. 「如何生產」
- B. 「為誰生產」
- C. 「生產什麼」和「如何生產」
- D. 「生產什麼」和「為誰生產」

34. 2018 Q3

約翰是一名中六畢業生，他正考慮留港或到內地修讀一個課程。下列哪些情況會降低他留港修讀該課程的機會成本？

- (1) 若他留港修讀該課程，他首年的學費會獲豁免。
- (2) 該內地課程的畢業生就業前景較佳。
- (3) 該內地課程所頒授的學術資格在港可能不獲承認。

- A. 只有 (1)、(2)
- B. 只有 (1)、(3)
- C. 只有 (2)、(3)
- D. (1)、(2) 及 (3)

35. 2019 Q2

下列哪些陳述與「為誰生產」的問題有關？

- (1) 只有長者 and 合資格的傷殘人士才可以享有「公共交通票價優惠計劃」的每程 \$2 票價優惠。
- (2) 若公共租住房屋（公屋）的住戶其家庭入息超過公屋入息限額五倍，便須遷出其公屋單位。
- (3) 電競音樂節由香港會議展覽中心轉移到香港體育館舉行，以容納更多來自世界各地的電競迷。

- A. 只有 (1)、(2)
- B. 只有 (1)、(3)
- C. 只有 (2)、(3)
- D. (1)、(2) 及 (3)

36. 2020 Q1

若一計劃經濟轉變為市場主導經濟，

- (1) 該經濟的收入分佈會更不均。
- (2) 更多的資源會以價格機制分配。
- (3) 人們擁有全部資源的私有產權。

- A. 只有 (1)
- B. 只有 (2)
- C. 只有 (3)
- D. (1)、(2) 及 (3)

37. 2020 Q2

農曆新年時，旅客在海濱餐廳訂座，觀賞煙花匯演。該煙花匯演是 \_\_\_\_\_，因為 \_\_\_\_\_。

- A. 共用品 ..... 政府支付該煙花匯演的費用
- B. 共用品 ..... 某人享用該物品不會減少其他人可享用的數量
- C. 私用品 ..... 私人廠商須使用資源來生產該煙花匯演
- D. 私用品 ..... 海濱餐廳座位的使用具排他性

01MC1 三個基本經濟問題及市場體系 多項選擇題 答案

1.	B	11.	D	21.	B	31.	C
2.	D	12.	B	22.	D	32.	D
3.	C	13.	C	23.	C	33.	D
4.	D	14.	B	24.	B	34.	B
5.	C	15.	C	25.	D	35.	A
6.	C	16.	A	26.	C	36.	B
7.	D	17.	C	27.	B	37.	B
8.	C	18.	D	28.	C	38.	
9.	D	19.	D	29.	D	39.	
10.	C	20.	B	30.	C	40.	

1. 1991.MC.Q1

鑒於社會上的「稀少性」問題，我們需要

- (1)實施價格管制。
- (2)自由選擇。
- (3)採用計劃經濟。
- (4)互相競爭。

- A. 只有(1)。(2)
- B. 只有(1)。(4)
- C. 只有(2)。(3)
- D. 只有(2)。(4)

2. 1991.MC.Q55

在哪一種情況下，商品 X 不會有「稀少性」？

- A. 它有大量供應。
- B. 沒有人想得到它。
- C. 它是免費的。
- D. 只有一個人想得到它。

3. 1992.MC.Q1

「稀少性」資源有以下特性：

- A. 供應固定
- B. 不容易找到
- C. 需求很大
- D. 在市場上有價

4. 1994.MC.Q1

“雖然日本是全世界最富裕的國家之一，它仍要面對「稀少性」的問題。”這句子是

- A. 錯的，因為「稀少性」只存在於發展中的國家。
- B. 錯的，因為日本國民生產總值高。
- C. 對的，因為日本人所擁有的不能滿足他們的全部慾望。
- D. 對的，因為日本收入分配不平均。

5. 1995.MC.Q1

有報道謂不少人排隊兩天以購買某停車場的泊車月票。這現象意味著

- (1)泊車位屬「稀少性」。
  - (2)競爭的存在。
  - (3)泊車位短缺。
- A. 只有(1)。(2)
  - B. 只有(1)。(3)
  - C. 只有(2)。(3)
  - D. (1)。(2)及(3)

6. 1997.MC.Q1

下列哪一項關於「稀少性」的描述是正確的？

- A. 在作出選擇後，稀少性的問題便獲得解決。
- B. 一物品若不是每個人都擁有，便是「稀少」的。
- C. 稀少性的意思是：人類有無窮的慾望。
- D. 富者與貧者都面對稀少性的問題。

7. 1999.MC.Q1

存在「稀少性」的問題是意味著

- A. 該經濟是計劃經濟。
- B. 為了獲得某物品而出現競爭。
- C. 對某物品實施了有效的物價管制。
- D. 財富並未平均分配。

8. 2004.MC.Q1

「稀少性」的存在，意味著

- A. 資源會由價格機制配置。
- B. 所有市場都是完全競爭的。
- C. 所有物品的供應都是固定的。
- D. 人們付出代價以獲取他們想要的東西。

9. 2005.MC.Q1

「稀少性」的存在，意味著

- A. 沒有「免費物品」這種東西。
- B. 人類慾望無窮。
- C. 每項經濟物品都有一個大於零的金錢價格。
- D. 要獲得某些物品是有代價的。

10. 2008.MC.Q1

從社會的角度出發，

- A. 人們不會為「免費物品」而競爭。
- B. 金錢價格是「稀少性物品」的唯一競爭準則。
- C. 有其他用途的資源都是「稀少」的。
- D. 以物易物的經濟是沒有「稀少性」的。

11. 2010.MC.Q1

下列哪項關於「稀少性」的描述是正確的？

- A. 若一種物品只有少量供應，它便是「稀少」的。
- B. 若人們想獲得更多某種物品，它便是「稀少」的。
- C. 計劃經濟中沒有「稀少性」這回事。
- D. 「稀少性」的問題可透過調節價格來解決。



12. SP.MC.Q1

「稀少性」的存在意味着

- A. 人類慾望無窮。  
 B. 所有物品都是經濟物品。  
 C. 要獲得某些物品是有代價的。  
 D. 每一經濟物品都必定有一個市價。

13. PP.MC.Q1

沒有稀少性，

- (1) 「歧視不會存在」。  
 (2) 「市價不會存在」。  
 (3) 「物品不會存在」。  
 A. 只有 (1) 及 (2)。  
 B. 只有 (1) 及 (3)。  
 C. 只有 (2) 及 (3)。  
 D. (1)、(2) 及 (3)。

14. 2016 Q1

下列哪項有關經濟物品的陳述是正確的？

- A. 經濟物品可能不是稀少的。  
 B. 社會對經濟物品施有壟斷。  
 C. 社會對經濟物品的偏好大於免費物品。  
 D. 人們對經濟物品和免費物品均會進行競爭。

15. 2016 Q.2

香港發幣局通銀幣期間，主發單位還發 USB 快閃儲存碟給參加者作為禮物。對主發單位來說，這種 USB 快閃碟是甚麼？

- (1) 經濟物品  
 (2) 免費物品  
 (3) 免費非物品  
 A. 只有 (2)  
 B. 只有 (3)  
 C. 只有 (1) 及 (2)  
 D. 只有 (1) 及 (3)

16. 2017 Q3

B. 錯誤

- A. 是一種邊際生產成本為零的物品  
 B. 它可以由政府提供  
 C. 它難以私有產權保護  
 D. 它最多只能使用一次

17. 2018 Q5

下列哪項有關羅浮宮博物館展品的陳述是正確的？

- A. 它們是共用品，因為羅浮宮博物館向公眾開放。  
 B. 它們是資本，因為它們是用於生產的人造資源。  
 C. 它們是消費物品，因為人們渴望更多的展品。  
 D. 它們是經濟物品，因為它們滿足人類的需要。

稀少性 多項選擇題 答

1.	D	11.	B
2.	B	12.	C
3.	D	13.	A
4.	C	14.	B
5.	D	15.	C
6.	D	16.	D
7.	B	17.	B
8.	D	18.	
9.	D	19.	
10.	A	20.	

## 1. 1990.MC.Q1

湯美可從以下三件物品中選擇一件作為他的生日禮物：一艘模型太空船、一架耳筒收音機和一件外套。他最喜歡模型太空船，其次為耳筒收音機。如果湯美選擇模型太空船，他的機會成本是什麼？

- A. 一架耳筒收音機
- B. 一架耳筒收音機和一件外套
- C. 一艘模型太空船的價錢
- D. 沒有機會成本，因為這是一份禮物

## 2. 1991.MC.Q2

蘇珊想在教書工作和歌唱事業兩者選擇其一。如果她選擇歌唱事業，她的機會成本會包括

- A. 作為教員的收入。
- B. 作為歌手的收入。
- C. 她已經支付的受訓做教員的學費。
- D. 她已經支付的受訓做歌手的學費。

## 3. 1992.MC.Q3

以下哪一項是上學讀書的機會成本？

- (1) 學費
- (2) 所放棄的收入
- (3) 疲勞的考試成績
- (4) 晚餐的開支
- A. 只有(1)、(2)
- B. 只有(1)、(3)
- C. 只有(2)、(4)
- D. 只有(3)、(4)

## 4. 1993.MC.Q2

黃先生可以花兩小時出席一音樂會；或替學生補習，收費每小時\$60。他又可用這段時間來繪畫，賺取\$150。若音樂會的票價為\$300，他選擇出席該音樂會的機會成本是多少？

- A. \$150
- B. \$300
- C. \$420
- D. \$450

## 5. 1994.MC.Q2

在一次抽獎中，彼得贏得一張可轉讓予他人的機票前往日本。下列哪一項正確？

- A. 這機票是「免費物品」。
- B. 彼得若遺失這機票，也沒有任何損失。
- C. 彼得使用這機票的機會成本是零。
- D. 如果這機票的價格上升，彼得使用這機票的機票成本會增加。

## 6. 1994.MC.Q3

李先生擁有一間攝影室。以往他出租攝影室時，每月可收到三萬元租金。現在，他不將攝影室出租，而用它來經營自己的生意，並且以月薪一萬元聘用一位模特兒。

李先生自己使用這攝影室的機會成本是甚麼？

- A. 每月一萬元
- B. 每月二萬元
- C. 每月三萬元
- D. 每月四萬元

## 7. 1995.MC.Q5

芬妮可在三份工作中選擇其一。她的選擇偏好如下：

首選：在 X 學校當教師

次選：在 Y 公司當秘書

第三選擇：在 Z 廠商當營業代表

假設芬妮的選擇偏好次序不變，下列哪一種情況會增加她在 X 學校當教師的機會成本？

- A. X 學校的學生變得更頑劣。
- B. Y 公司要求它的秘書增加工作時間。
- C. Y 公司決定增加它的秘書的薪金。
- D. Z 廠商決定增加它的營業代表的年終獎金。

## 8. 1996.MC.Q1

大強居住於自己擁有的住宅單位，該單位價值一百萬元。他可以出售該單位，將所獲金錢存於銀行，以年息率 5% 來收息。他亦可以將該單位出租，每月收取租金 \$5,000。對大強來說，他決定在該單位自住的機會成本是什麼？

- A. 一百萬元。
- B. 每年 \$50,000。
- C. 每月 \$5,000。
- D. 沒有機會成本，因為他用來自住。

## 9. 1997.MC.Q2

麥氏百貨公司展開推廣活動：凡顧客每購物滿\$1,000，便可獲得一張換物券，換取下列禮物：

換物券（張數）	禮物
10	1部攝影機
20	1部電視機
30	1張機票

大雄累積了 30 張換物券。若他拿來換取一張機票，他的機會成本是什麼？

- A. 一部電視機
- B. \$30,000
- C. 一部攝影機和一部電視機
- D. 一部攝影機、一部電視機和\$30,000

## 10. 1997.MC.Q3

後來，大雄發現用換物券來換取禮物必須排隊輪候。排隊輪候這件事顯示

- A. 這些禮物是真正免費的。
- B. 禮物數量短缺，不足以分派給全部顧客。
- C. 該推廣活動是成功的，同時該公司的產品需求亦有所增加。
- D. 顧客要獲得禮物須付出額外的代價。

## 11. 1997.MC.Q49

在某大型屋邨出售前，地盤辦事處門外有很多老人替準買家排隊輪候。這意味：

- A. 以這些老人和年輕人相比，該批樓宇對前者來說價值較高。
- B. 由於有短缺出現，該批樓宇的價格高於均衡水平。
- C. 這些老人排隊所用時間的機會成本，較準買家的為低。
- D. 這些老人排隊所用時間的機會成本為零，因為他們沒有工作。

## 12. 1998.MC.Q50

小美正考慮接受以下其中一份工作：

- (1)在某出入口公司當文員。
- (2)在某百貨公司當售貨員。

下列哪一項轉變不會影響她選擇當文員的機會成本？

- A. 該出入口公司增加員工福利。
- B. 該百貨公司提高薪金。
- C. 有第三份工作可供選擇而這工作的薪金比前兩份工作的為高。
- D. 該百貨公司宣佈將於一年後結束營業。

## 13. 1999.MC.Q50

國強邀約大雄在下月打網球。在下列哪一種情況中，大雄應邀打網球 不 會 有機會成本？

- A. 國強替他付費。
- B. 下午他沒有更值得做的事情。
- C. 他喜歡和國強打網球。
- D. 以上均 不 是 正確的答案。

## 14. 2000.MC.Q2

陳先生和黃先生分別前往 X 城，他們可以乘飛機或火車前往。飛機需時2 小時而火車需時 10 小時。飛機票價\$1,000 而火車票價\$200。在前往 X城的旅程中，陳先生放棄的收入是每小時\$200 而黃先生放棄的收入是每小時\$80。

若要前往 X 城，陳先生會乘搭\_\_\_\_\_而黃先生會乘搭\_\_\_\_\_。

- A. 火車.....火車
- B. 火車.....飛機
- C. 飛機.....火車
- D. 飛機.....飛機

## 15. 2000.MC.Q53

下列哪一項並非在香港興建迪士尼樂園的機會成本？

- A. 園址的其他用途。
- B. 投資的金額。
- C. 建築工程造成的污染。
- D. 迪士尼樂園的人場費。

## 16. 2001.MC.Q1

下列哪一項會改變某甲入場觀看演唱會的機會成本？

- A.因為交通擠塞，他遲了一小時才入場觀看演唱會。
- B. 他的視線被前面的觀眾遮擋著。
- C. 歌手的表演差勁。
- D. 這場演唱會起時一小時。

## 17. 2002.MC.Q3

李先生在自置物業裏居住。他在居所內居住是有機會成本的，因為

- (1) 它可將該居所出租，以賺取租金收入。
- (2) 他要繳付物業稅給政府。
- (3) 他要支付了一筆金錢，以購買該居所。

- A. 只有(1)
- B. 只有(1)、(2)
- C. 只有(1)、(3)
- D. 只有(2)、(3)

## 18. 2002.MC.Q4

下列哪一項會影響建造西鐵的代價？

- A. 建築工程對沿鐵路線自然環境造成的損害增加。
- B. 該鐵路維修員工的工資增加。
- C. 該項火車服務的利潤減少。
- D. 提供鐵路沿線巴士服務的巴士公司收益減少。

## 19. 2003.MC.Q2

嘉幅是中五畢業生，但找不到中六學位就讀。下列哪一項可能減低他重讀中五的代價？

- A. 入讀中五學費增加。
- B. 入讀中六學費下降。
- C. 中五畢業生的工資率下降。
- D. 嘉幅的新的英文科老師教得差勁。

## 20. 2003.MC.Q3

醫生少有轉業。下列哪一項可解釋此現象？

- A. 他們已花費大量時間及努力獲取執業牌照。
- B. 他們已付出高昂代價以累積專業知識和技能。
- C. 他們轉業須付出高昂代價。
- D. 他們當醫生須付出高昂代價。

## 21. 2004.MC.Q2

下列哪一項關於機會成本概念的陳述是正確的？

- A. 即使沒有選擇，還是有機會成本。
- B. 在計劃經濟中並沒有機會成本。
- C. 當某選擇的價值下降時，揀選該選擇的機會成本不會改變。
- D. 當「價值最高的選擇」的價值增加時，揀選該項選擇的機會成本會下降。

## 22. 2004.MC.Q13

皇家馬德里足球隊訪港時，很多人為購買球賽門票排隊多天。部分人投訴說即使他們願意付出主辦單位訂定的票價，還是買不到門票。這意味著

- (1) 購買門票只有價格競爭。
- (2) 主辦單位訂定的票價低於市場清銷價格。
- (3) 獲得一張門票的機會成本高於主辦單位訂定的售價。
- A. 只有 (1)、(2)
- B. 只有 (1)、(3)
- C. 只有 (2)、(3)
- D. (1)、(2) 及 (3)

## 23. 2005.MC.Q3

大衛可選擇以下兩種方式之一度過他的暑假：做暑期工或參加一項前往英國的交流計劃。下列哪一項會增加他做暑期工的機會成本？

- A. 該交流計劃的費用增加了。
- B. 該暑期工的工資提高了。
- C. 該交流計劃多提供一項有價值的課程。
- D. 從該暑期工中獲得的培訓減少了。

## 24. 2007.MC.Q2

一位中國內地居民考慮在下列二者選擇其一：參加某旅行社主辦的旅行團往香港旅行或往澳門旅行。在下列哪一種情況下，他選擇到訪香港的機會成本會增加？

- A. 在香港的旅程中，食物的質素較預期為差。
- B. 給導遊遺棄在香港的街頭。
- C. 澳門新發展的景點使澳門的旅客更享受其旅程。
- D. 澳門的酒店房租上升。

## 25. 2008.MC.Q2

下列哪項會增加濫用藥物的代價？

- A. 藥物價格上升。
- B. 政府加重對濫用藥物的懲罰。
- C. 濫用藥物對人的健康產生更大的傷害。
- D. 以上全部正確。

## 26. 2009.MC.Q2

下列哪種情況會增加中七畢業生接受大學教育的機會成本？

- (1) 大學學士課程由三年制轉為四年制。
- (2) 中七畢業生的工資率上升。
- (3) 一般大學畢業生的學術水平下降。
- A. 只有 (1)、(2)
- B. 只有 (1)、(3)
- C. 只有 (2)、(3)
- D. (1)、(2) 及 (3)

## 27. 2010.MC.Q2

茉莉選擇在香港或美國完成她的大學教育。在下列哪種情況下，她在美國求學的機會成本會上升？

- A. 美國的大學增加獎學金的名額。
- B. 香港的大學增加學費。
- C. 與美國的大學畢業生相比，香港的大學畢業生在就業市場的競爭力下降。
- D. 香港的大學提供的專業訓練課程的水平有所提高。

## 28. 2011.MC.Q2

一塊土地可用來建造高速鐵路、高速公路、隧道或文化區綜合發展項目。假設以上各項的可帶來的預期回報的金錢價值分別為 \$800 000、\$750 000、\$650 000及\$550 000。

使用該塊土地來建造高速公路的機會成本是 \_\_\_\_\_；而使用該塊土地來建造隧道的機會成本是\_\_\_\_\_。

- A. \$650 000 ..... \$550 000
- B. \$750 000 ..... \$650 000
- C. \$800 000 ..... \$750 000
- D. \$800 000 ..... \$800 000

## 29. SP.MC.Q2

瑪莉正從下列兩種方式中選擇一個來度過她的聖誕假期：替叔叔工作以賺取三千元；參加一個前往北京的文化之旅。

下列哪項會減低瑪莉替叔叔工作的機會成本？

- A. 瑪莉的叔叔將她的人工減至兩千元。
- B. 參加文化之旅的費用下降。
- C. 文化之旅其中一個精彩項目被取消。
- D. 瑪莉的叔叔同意聘請她最要好的朋友與她一起工作。

## 30. PP.MC.Q2

陳先生花了\$5 000 購買一部新手提電話，該電話可在二手市場以 \$7 000 售出。陳先生保留該手提電話的成本是 \_\_\_\_\_。

- A. \$0
- B. \$2 000
- C. \$5 000
- D. \$7 000

## 31. 2012.MC.Q2

郭先生計劃德國的汽車製造商購買一部新跑車，並在香港駕駛。下列哪種情況會令購買該部跑車的成本上升？

- A. 首次登記費上升。
- B. 汽油價格上升。
- C. 歐元兌港元貶值。
- D. 該跑車性能欠佳。

## 32. 2013.MC.Q2

書豪將觀看李娜參與的一場網球比賽。下列哪項會令書豪觀看該場網球比賽的成本上升？

- A. 由於交通擠塞，他遲到了30分鐘。
- B. 他的時限被前面的觀眾阻擋。
- C. 由於暴雨關係，比賽時間延長了一小時。
- D. 李娜受傷，沒有出場比賽。

## 33. 2014.MC.Q1

著名足球隊曼聯到訪香港進行一場友誼賽。比賽的前一天，該隊發現香港大球場的草地被連場大雨破壞，該隊考慮取消比賽。曼聯繼續在該惡劣草地進行比賽的機會成本會\_\_\_\_\_，因為\_\_\_\_\_。

- |    |      |       |                |
|----|------|-------|----------------|
| A. | 上升   | ..... | 球員受傷的機會增加了     |
| B. | 上升   | ..... | 球隊很有可能表現差劣     |
| C. | 維持不變 | ..... | 球隊已經支付了到訪香港的開支 |
| D. | 維持不變 | ..... | 球員在香港所花的時間是相同的 |

## 34. 2015.MC.Q2

大衛可選擇乘搭港鐵列車或巴士往元朗。假設上述兩種選擇所需的交通時間和車費在正常情況下均相同。下列哪項會引致乘搭港鐵列車往元朗的機會成本上升？

- A. 巴士的空調設備發生故障。
- B. 交通阻塞令巴士車程延長了15分鐘。
- C. 訊號問題令港鐵列車車程增加了15分鐘。
- D. 大衛對港鐵列車車廂內的新聞廣播感到煩擾。

## 35. 2016.MC.Q3

一名香港市民吳先生準備前往東京旅遊。下列哪項會令他去這次旅行的成本下降？

- A. 在他出發前，有一颱風剛剛移近東京。
- B. 在他放假期間，他的老闆將會請全體同事享用自助餐。
- C. 東京的風景比他想像中更優美。
- D. 日圓兌其他貨幣貶值。

## 36. 2017.Q4

對某經濟而言，下列哪(幾)項屬延遲建成一條新鐵路的損失？

- (1) 該新鐵路原本在延遲期間能為乘客節省的交通時間
  - (2) 因新鐵路工程延遲對承建商公司形象所造成的損害
  - (3) 對新鐵路附近的商店及屋宇在延遲期間所造成的騷擾
- A. 只有 (1)  
B. 只有 (2)  
C. 只有 (3)  
D. (1)、(2) 及 (3)

## 37. 2019.Q3

盧先生三年前用 \$60000 買入一輛二手車。假設他能以 \$2000 將該車轉售，或者，他需要花 \$5000 維修該車，才可以繼續使用它。他繼續使用该車的成本是多少？

- A. \$2000
- B. \$5000
- C. \$7000
- D. \$60000

## 38. 2021.Q3

中學畢業後，保羅考慮成為全職的社交媒體頻道關鍵意見領袖 KOL (俗稱網紅) 或成為電競選手。

下列哪些會減低保羅畢業後成為全職 KOL 的成本？

- (1) 保羅獲得錄製 KOL 影片器材的贊助。
  - (2) 電競隊給予保羅較低的基本薪金。
  - (3) 社交媒體頻道被駭客攻擊的風險增加。
- A. 只有 (1)、(2)  
B. 只有 (1)、(3)  
C. 只有 (2)、(3)  
D. (1)、(2) 及 (3)

## 39. 2021.Q4

由於新冠肺炎，學校的日常教學受到干擾，大部分學校使用視訊軟件（例如 Zoom 和 Google Meet）進行網上授課。假設校園重新開放，並允許面對面授課。

下列哪項是教師選擇網上授課還是面對面授課時最不重要的因素？

- A. 網上授課會減低教師感染新冠肺炎的風險。
- B. 教師不知道網上授課時學生正在做什麼，因為學生可能關掉鏡頭。
- C. 教師已經花費很多時間學習使用視訊軟件進行網上授課。
- D. 頻密使用視訊軟件進行網上授課可導致教師的視力受損。



01MC3 機會成本 多項選擇題 答案

1.	A	11.	C	21.	C	31.	A
2.	A	12.	A	22.	C	32.	C
3.	A	13.	D	23.	C	33.	A
4.	D	14.	C	24.	C	34.	C
5.	D	15.	D	25.	D	35.	D
6.	C	16.	D	26.	A	36.	D
7.	C	17.	A	27.	D	37.	C
8.	C	18.	A	28.	D	38.	A
9.	C	19.	C	29.	C	39.	C
10.	D	20.	C	30.	D	40.	

1. SP.MC.Q3

一項實證的陳述

- A. 永遠是對的。
- B. 可以被事實推翻。
- C. 可能包含了價值判斷。
- D. 對擁有某些相同價值取向的大眾而言，可能等同於一項規範性陳述。

2. SP.MC.Q10

彭樹德是一位男性新界原居民。下列哪項是由價格訊息指導的？

- (1) 他向堂兄購買一幢「丁屋」。
- (2) 在農曆新年時，他獲「原居民代表」分派紅封包。
- (3) 他將名下的其中一幢「丁屋」出租給一位非原居民。

- A. 只有 (1)、(2)
- B. 只有 (1)、(3)
- C. 只有 (2)、(3)
- D. (1)、(2) 及 (3)

3. PP.MC.Q3

下列哪些有關利息的陳述是正確的？

- (1) 利息是就延遲當時消費所收取的一個溢價。
- (2) 在以物易物經濟中，利率並不存在。
- (3) 利率下降會增加現時的消費。

- A. 只有 (1)、(2)
- B. 只有 (1)、(3)
- C. 只有 (2)、(3)
- D. (1)、(2) 及 (3)

4. 2012.MC.Q1

下列哪些是實證性陳述？

- (1) 最低工資實施後，更多工人會以兼職的形式獲聘。
- (2) 最低工資實施後，低技術工人會有較少人失業。
- (3) 在計算最低工資時，膳食時間應被計入工作時間。
- (4) 最低工資的實施擴大貧富的收入差距。

- A. 只有 (2)、(3)
- B. 只有 (1)、(4)
- C. 只有 (1)、(2)及(3)
- D. 只有 (1)、(2)及(4)

## 5. 2012.MC.Q3

下列哪項關於利息的陳述是正確的？

- A. 當利率下跌時，人們便會減少現時的消費。
- B. 若沒有通脹，利率便會是零。
- C. 在計劃經濟中，利息不存在。
- D. 沒有貨幣，利息仍然存在。

## 6. 2015.MC.Q1

下列哪些是實證性陳述？

- (1) 從內地輸入勞工會增加本港的職位空缺。
- (2) 從廣東省輸入勞工會較佳，因為他們能操粵語。
- (3) 來自中國的勞工的生產力比來自其他東亞國家的勞工高。
- (4) 從內地輸入 30 000 名勞工會令本港的失業率上升 1%。

- A. 只有 (1)、(2)
- B. 只有 (3)、(4)
- C. 只有 (1)、(3)、(4)
- D. 只有 (2)、(3)、(4)

## 7. 2016.MC.Q4

下列哪些有關利息的陳述是正確的？

- (1) 利息是延後消費的補償。
- (2) 因為人們沒有耐性等待，所以利息存在。
- (3) 利息在以物易物的經濟中存在。

- A. 只有 (1)、(2)
- B. 只有 (1)、(3)
- C. 只有 (2)、(3)
- D. (1)、(2) 及 (3)

## 8. 2016.MC.Q5

瑪蓮從書店購買了一本烹飪書。她的朋友潔文告訴她：「你擁有這烹飪書的私有產權。」瑪蓮在購入該書後會擁有哪些權利？

- (1) 按書中的食譜，為潔文準備晚餐。
- (2) 把整本書掃描並上載到她的網誌。
- (3) 把書放在書架，不去閱讀它。
- (4) 把書借給潔文，並要求一頓晚餐作回報。

- A. 只有 (1)、(2)、(3)
- B. 只有 (1)、(2)、(4)
- C. 只有 (1)、(3)、(4)
- D. 只有 (2)、(3)、(4)

## 9. 2017.Q.1

政府總龍基開會堂的營運商決定把舊龍基閣面上再包實漆望包，因為前者能賺得更多利潤。這是以 \_\_\_\_\_ 去解決 \_\_\_\_\_ 的問題的一個例子。

- A. 政府指令，……「生產什麼」。
- B. 政府指令……「為誰生產」。
- C. 市場機制……「生產什麼」。
- D. 市場機制……「為誰生產」。

## 10. 2017.Q2

下列哪項有關利息的陳述是正確的？

- A. 沒有貨幣，利息不會存在。
- B. 沒有通脹，利息不會存在。
- C. 沒有稀少性，利息不會存在。
- D. 利息是對借款人延遲消費的補償。

## 11. 2018.Q4

下列陳述是取材自香港財政司司長的 2017-18 年度財政預算案演詞。

陳述 (1)： 2016 年環球經濟錄得自環球金融危機以來最慢的增長。

陳述 (2)： 2016 年全年經濟增長率為 1.9%，符合去年預算案所估算的 1% 至 2%。

陳述 (3)： 在認同市場力量的同時，政府應積極發揮促進者的角色，善用公共資源，推出合宜的政策。

以上哪 (些) 項是規範性陳述？

- A. 只有 (1)
- B. 只有 (3)
- C. 只有 (1)、(2)
- D. 只有 (2)、(3)

## 12. 2019.Q1

參考以下解決房屋問題的建議：

政府應該興建一種新類型的房屋「居住易」，其業主能以一受管制的租金出租其單位。若業主想出售其物業，他們只能將單位售回政府。

與擁有一個私人樓宇單位相比，擁有一個「居住易」單位的業主的 \_\_\_\_\_ 會被削弱了。

- (1) 使用權
- (2) 獲取收入權
- (3) 轉讓權

- A. 只有 (1)、(2)
- B. 只有 (1)、(3)
- C. 只有 (2)、(3)
- D. (1)、(2) 及 (3)

下列哪些可在以物易物的經濟中存在？

- (1) 專門化  
(2) 通脹  
(3) 利息
- A. 只有 (1)、(2)  
B. 只有 (1)、(3)  
C. 只有 (2)、(3)  
D. (1)、(2) 及 (3)

14. 2021 Q1

參閱下列彼得和瑪莉所作的陳述。

彼得：「香港作為一已發展經濟體，它的基尼系數太高了。」  
瑪莉：「香港的基尼系數是全亞洲最高的。」

- 下列陳述屬 \_\_\_\_\_ 因為 \_\_\_\_\_。
- A. 彼得 — 實證性 — 大部分人認同該陳述  
B. 彼得 — 規範性 — 該陳述和現實世界的數據並不相符  
C. 瑪莉 — 實證性 — 該陳述可以被事實推翻  
D. 瑪莉 — 規範性 — 該陳述涉及價值判斷

15. 2021 Q2

為應對口罩市場的短缺，政府向全港市民免費派發可續用的銅芯口罩。

- 這是因 \_\_\_\_\_ 去解決 \_\_\_\_\_ 問題的一個例子。
- A. 政府指令 — 如何生產  
B. 政府指令 — 為誰生產  
C. 市場機制 — 如何生產  
D. 市場機制 — 為誰生產

01MC4 其它基本經濟概念 多項選擇題 答案

1.	B	11.	B
2.	B	12.	C
3.	B	13.	B
4.	D	14.	C
5.	D	15.	B
6.	C	16.	
7.	D	17.	
8.	C	18.	
9.	C	19.	
10.	C	20.	

## 1. 1990.Q.4(b)

假設本地市民消費意欲下降，因而成衣業內存貨堆積。用圖表輔助，說明上述情況。(6 分)

## 2. 1991.Q.1(b)

在 90/91 財政年度中，政府大幅增加汽油稅。分別用供需圖輔助，解釋這對

- (i) 汽油 (6 分)
- (ii) 新車 (7 分)

的均衡價格及數量有甚麼影響。

## 3. 1992.Q.1(d)(i) &amp; (ii)(l)

在香港，政府發出固定數目的市區的士牌照。

- (i) 繪一供應曲線以說明該種情況。(2 分)
- (ii) 設政府決定多發市區的士牌。用一供需圖輔助，解釋

(l)市區的士牌的市價如何受影響，及

## 4. 1992.Q.2(b)(ii)

(b)設美國向港製成衣徵收入口稅。繪圖輔助，解釋此舉對

- (ii)美製成衣 (5 分)
- 在美國市場的均衡價格及數量有甚麼影響。

## 5. 1992.Q.4(d)

由於新機場的興建，有更多公司決定將它們在荃灣的工廠重建為酒店和購物中心。

- (i) 解釋上述事項於未來數年間對荃灣區酒店和購物中心的需求和供應分別有甚麼影響。(6 分)
- (ii) 以一供需圖輔助，解釋為甚麼(d)(i)中物業的價格可能仍會上升。(6 分)

## 6. 1993.Q.4(b)(ii)

設有人將大量日本電視機從香港走私往中國。以圖輔助，解釋電視機在中國的均衡價格如何因此而受影響。(4 分)

## 7. 1995.Q.(3)

- (a) 寫出需求定律。(2 分)
- (b) 指出需求量與購買量不同之處。(2 分)

## 8. 1995.Q.11(a)

在新的快速公路建成之後，往返天水圍與中環的交通時間會隨之大量縮短。

此外，天水圍將有更多土地提供作建造私人樓宇之用。

葉先生認為上述政府政策的綜合效果會導致天水圍私人樓宇的價格上升。以一供需圖輔助，解釋在哪一種情況下葉先生的意見是對的。

(7 分)

## 9. 1997.Q.9(b)

設政府在新界西北興建一條鐵路。

以圖輔助，解釋該新鐵路對行走相同路線的小巴的總收益有何影響。(6 分)

## 10. 1998.Q.10(b)

假設政府對買賣非法電腦軟件雙方均予懲罰。分別以圖輔助，解釋此舉會如何影響下列各項的市場價格：

- (i)非法電腦軟件 (6 分)
- (ii)合法電腦軟件 (4 分)

## 11. 1999.Q.2

細閱以下一段新聞報導：

去年市民害怕吃到有毒的海鮮。雖然海鮮的入口數量減少，它的售價仍維持不變。

以一供需圖輔助，解釋上述報導中所指出的現象。(6 分)

## 12. 2000.Q.2

碧威：當朱古力的價格上升了，人們會減少購買它。

小燕：我不同意。朱古力的價格上升了，但人們買了更多數量的朱古力。

分別以圖輔助，解釋為何他們的說話都可以是正確的。(7 分)

## 13. 2000.Q.9(b)(i)

部份石油公司投訴生意額影響，因為部分駕駛者向走私客購買未完稅的汽油。

- (i) 以圖輔助，解釋汽油的走私活動會怎樣影響石油公司的銷售收益。(7 分)

## 14. 2001.Q.2

假設某國的郵費是固定的。由於電子商貿和電子郵件日漸普及，該國郵局的郵費收益大幅下降。

(a)以圖顯示該國郵局上述收益下降的情況。

- (b)為了補償收益的損失，該國郵局增加郵費。在(a)的圖上顯示該國郵局因增加郵費而導致的收益變動。(5 分)

## 15. 2002.Q.2

假設石油出口國組織將它的石油減產，同時，汽車的需求下降。以圖輔助，解釋在甚麼條件下汽油價格會上升。(7 分)

## 16. 2002.Q.10(b) (Modified)

假設這些銀行將住宅樓宇按揭貸款的利率調低。以圖輔助，解釋這會如何影響在購買私人樓宇方面的總開支。(6 分)

## 17. 2003.Q.1

某新聞記者寫道：

「.....政府規定月入超過\$21,000 的家庭不准申請購買居者有其屋。雖然如此，政府所提供的居屋住宅單位數目不足以應付申請。」

- (a)應用你在需求和供應方面的知識 (3 分)
- 描述上述居屋住宅單位的市場，並以圖輔助說明你的答案。

- (b) 若申請者的入息限額下調至 (4 分)
- \$18,000，以(a)部的圖輔助，解釋該限價下調對上述居屋住宅單位市場有什麼影響。

## 18. 2003.Q.10(b)

假設紙張價格劇跌，而就學人數則上升。

- (i) 解釋為何上述轉變會影響教科書的供應和需求。
- (ii) 以圖輔助，解釋在什麼條件下教科書的價格會下跌。(8 分)

## 19. 2004.Q.3

近年，使用數碼相機來攝影成為潮流。以圖輔助，解釋這會如何影響消費者在菲林方面的總支出。

20. 2008.Q.1

食米是香港的一種主糧。參閱下表：

年份	香港的食米總消耗量（噸）
1980	355 310
1990	351 182
2000	322 223

在上述期間，本港人口增加了。解釋導致上述食米消耗量轉變的兩項需求方面的因素。

(4 分)

21. 2008.Q.9(b)(ii)

某經濟的股票市場過熱，很多人都從銀行提取存款購買股票。

以一幅圖輔助，解釋開徵上述資本增值稅對該經濟的股票的總市值有甚麼影響。

(7 分)

22. 2009.Q.11(c)(i)

政府免收葡萄酒稅（包括紅酒稅）以使香港成為一個酒類交易及集散中心。

(i) 飲用紅酒在香港愈益普及，加上政府免收紅酒稅，基於這兩個事實解釋在甚麼情況下，紅酒的價格會上升。並以一供需圖輔助說明。

(7 分)

23. 2010.Q.1

塑膠購物環保袋徵費首階段實施一個月後，有報導指出不用徵費的不織布袋的銷售量上升。

根據以上資料，以供需圖輔助，解釋不織布袋的總銷售收益的轉變。

(5 分)

24. 2011.Q.11(a)

在2010年，香港的物業市道暢旺。

熱錢流入物業市場。另一方面，為防止物業市場過熱，政府推出更多土地作公開拍賣。

以供需圖輔助，解釋在甚麼條件下土地拍賣的成交價會上升。

(6 分)

25. 2012.Q12(c)(i)

人們認為本港的地產市場過熱。

(c) 政府決定重新推出居者有其屋計劃，合資格的市民可以大額折扣購買居住單位。

(i) 以一供需圖輔助，解釋重新推出居者有其屋計劃會如何冷卻私人樓宇市場。

(5分)

26. 2015.Q4(b)

細閱下列的新聞摘要。

人們對小型單位有強烈偏好，以致近月 400 平方呎以下單位的樓價被推至新高，預期未來會有越來越多的小型單位出售。

(b) 解釋人們對小型單位有強烈偏好會如何影響大型單位的供應。

(2 分)

27. 2015.Q11(d)

煙草稅是香港的一項間接稅。為了遏止吸煙，財政司司長增加了煙草稅稅率。

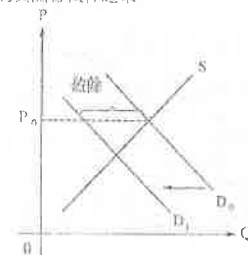
除了增加煙草稅，海關亦加強打擊非法售賣未完稅香煙，並搗破數個非法賣家。未完稅香煙的交易最有可能上升嗎？以圖輔助，加以解釋。

(7 分)

(-2016)

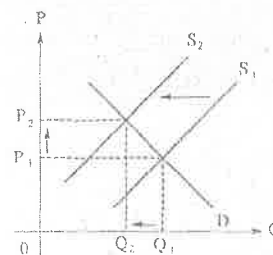
1. 1990.Q.4(b)

對成衣的需求下降是因為本地人的消費意欲下降，需求曲線會向左移。如價格維持在  $P_0$ ，便會出現盈餘，即未能售出的貨品會積存起來。

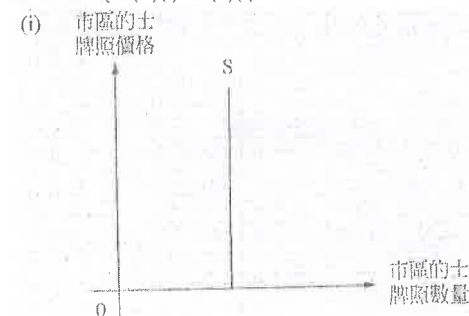


2. 1991.Q.1(b)

當政府向汽油徵稅後，汽油的生產成本會上升。這會引致汽油的供給減少，供給線會向左移。均衡價格會由  $P_1$  上升至  $P_2$ ，均衡數量會由  $Q_1$  減少至  $Q_2$ 。

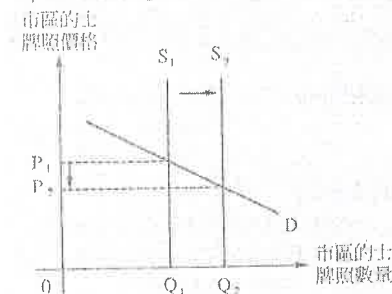


3. 1992.Q.1(d)(i) &amp; (ii)(i)



(ii)(i)

市區的士牌照的市場價格會由  $P_1$  下降至  $P_2$ ，因為當政府增發牌照，供給會增加，使供給曲線由  $S_1$  向右移至  $S_2$ 。



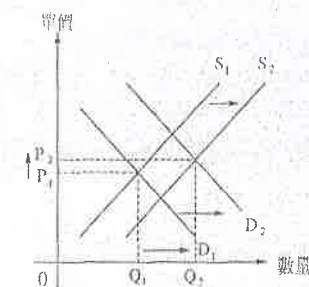
4. 1992.Q.2(b)(ii)

由於美國製成衣和港製成衣都是代替品，港製成衣的價格的上升會令美國製成衣的需求增加。需求曲線會由  $D_1$  移至  $D_2$ 。若其他因素不變，美國製成衣的均衡價格會由  $P_1$  上升至  $P_2$ ，均衡數量由  $Q_1$  增加至  $Q_2$ 。

5. 1992.Q.4(d)

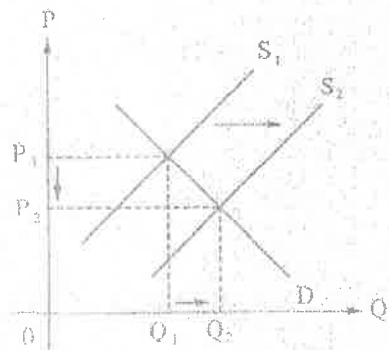
(i) 對臺灣的酒店和購物中心的需求會增加，因為在大嶼山興建的新機場接近臺灣，這樣會吸引外國專才和工人在臺灣居住，導致需求增加。

(ii) 若對酒店和購物中心需求的增幅大於供給的增幅，臺灣物業的價格仍會上升。





6. 1993.Q.4(b)(ii)

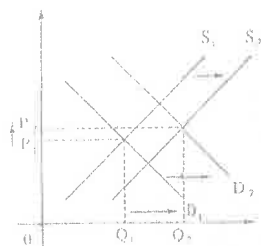


電視機在中國的使用會增加。供給曲線會由  $S_1$  移至  $S_2$ 。電視機在中國的均衡價格會由  $P_1$  下降至  $P_2$ 。

7. 1995.Q.(3)


- (a) 需求定律指在其他因素不變的情況下，當價格上升時，需求量會下降，反之亦然。
- (b) 需求量指在一定的價格水平下，消費者有能力而願意購買的數量。購買量則指在一定的價格水平下，消費者實際購買的數量。

8. 1995.Q.11(a)



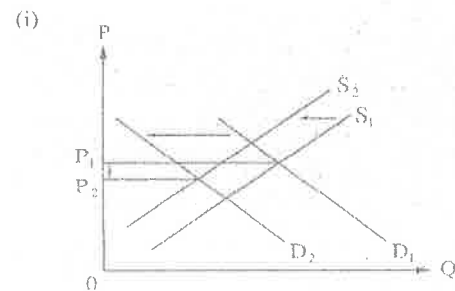
建成新天橋會引致對天水圍私人樓宇的需求增加。另一方面，更多的土地供應會令天水圍私人樓宇的供給增加。當需求增加而供給量不變時，私人樓宇的價格會上升。

9. 1997.Q.9(b)



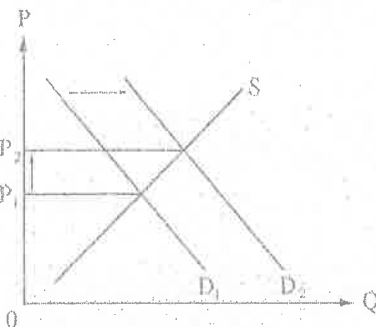
由於新鐵路是行走相同路線的小巴的代替品，對小巴服務的需求會減少。在這情況下，需求曲線會由  $D_1$  向左移至  $D_2$ 。結果，均衡價格由  $P_1$  下降至  $P_2$ ，均衡數量由  $Q_1$  減少至  $Q_2$ 。小巴的總收益會由  $OP_1AQ_1$  減至  $OP_2BQ_2$ ，圖中的陰影部分表示減少了的政府

10. 1998.Q.10(b)



常買賣非法電腦软件的雙方均予懲罰，非法電腦软件的需求和供給均會減少。需求曲線和供給曲均會向左移。不過，市場價格的改變則不能肯定，它可能上升，下降或維持不變，全視乎需求和供給減少的幅度，若需求減少的幅度大於供給減少的幅度，市場價格會由  $P_1$  下降至  $P_2$ 。

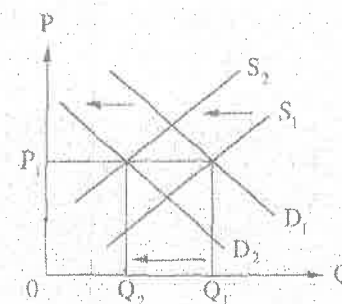
(ii)



由於合法和非法電腦软件是代替品，非法電腦软件需求的下降會導致合法電腦软件需求的增加。後者的需求曲線會由  $D_1$  向右移至  $D_2$ 。結果，合法電腦软件的市場價格會由  $P_1$  上升至  $P_2$ 。

11. 1999.Q.2

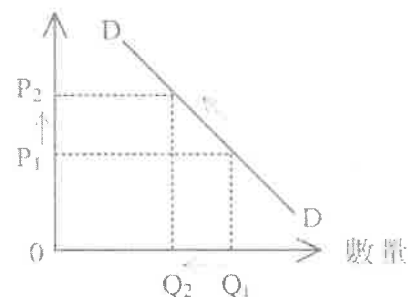
由於人們不會吃有毒的海鮮，對海鮮的需求會減少，引致需求曲線由  $D_1$  向左移至  $D_2$ 。同時，海鮮的入口量減少會令海鮮的供給減少，使供給曲線由  $S_1$  向左移至  $S_2$ 。不過，由於需求與供給的減幅相同，均衡價格維持不變。



12. 2000.Q.2

碧咸是指需求定律 / 向下斜的需求曲線 / 沿著一條正常的需求曲線的移動

單位價格

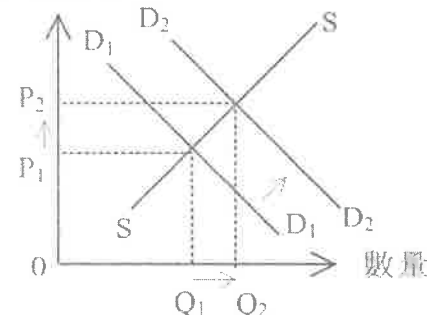


在圖上顯示：

- 向下斜的需求曲線
- 價格上升及對應需求量減少

小燕是指需求的改變 / 需求增加 / 需求曲線的移動 / 均衡點由於需求增加而有所改變

單位價格



在圖上顯示：

- 需求曲線右移
- 均衡價格增加
- 均衡量增加

13. 2000.Q.9(b)(i)

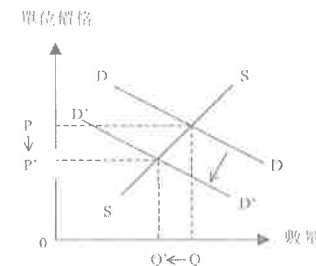
出現替代品

$$\Rightarrow D \downarrow$$

$$P \downarrow \text{ 及 } Q \downarrow$$

$$TR \downarrow$$

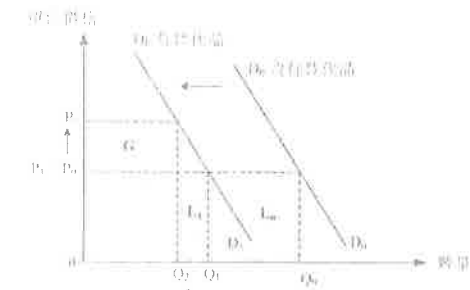
合法石油市場：



在圖上顯示：

- $D \downarrow$
- $PQ$  減至  $P'Q'$

14. 2001.Q.2



(a) 在圖上顯示：

需求線左移

郵費不變，即  $P_1 = P_0$

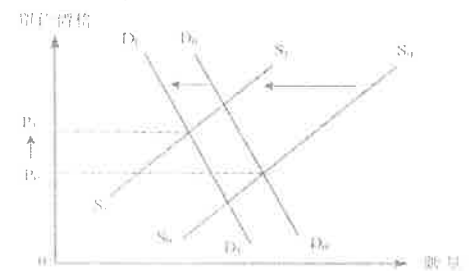
$L_0$  = 總收益減少的數量

(b) 在圖上顯示：

$L_1$  = 新的總收益損失

$G$  = 新的總收益增加

15. 2002.Q.2



在圖上顯示：

- 供應曲線向左移

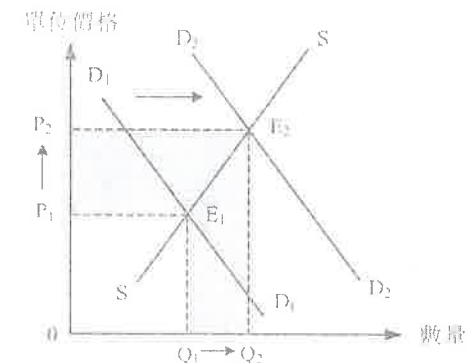
- 需求曲線向左移

- 供應線左移幅度 > 需求線左移幅度，同時正確顯示均衡價格的增加

文字解釋：

- 汽油供應減少 (∵ 汽油是一種石油副產品)
- 汽油與汽車是輔助品
- ∴ 汽油的需求會減少
- 供應變動的幅度 > 需求變動的幅度

16. 2002.Q.10(b) (Modified)



在圖中顯示：

- 需求曲線向右移

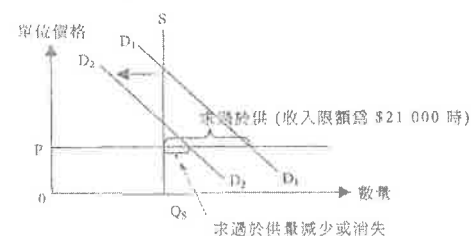
- 價格 ↑ 及交易量 ↑

- 總開支變動 =

文字解釋：

- 需求增加 (∵ 成本下降)
- 價格 ↑ 及交易量 ↑
- 總開支 ↑

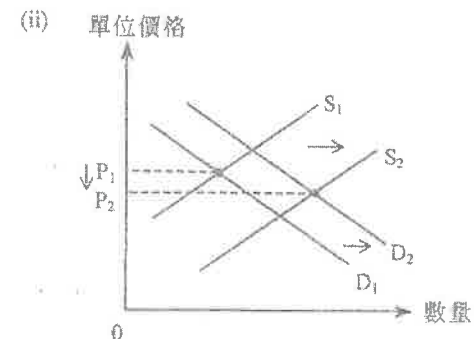
17. 2003.Q.1



由於固定價格低於均衡價格，出現求過於供現象，收入限額再收緊導致需求下降，故此求過於供量下降甚或消失。

18. 2003.Q.10(b)

(i) 生產成本較低導致供應增加。買家數目增加導致需求增加。

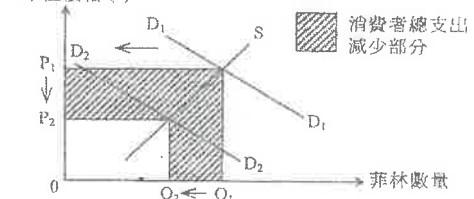


條件是供應增加大於需求增加，這導致其價格下降。

19. 2004.Q.3

由於數碼相機是傳統相機的代替品，傳統相機的需求因而下降。傳統相機與菲林是相輔物品，故此消費者對菲林的需求下降，導致消費者在菲林方面的總支出減少。

單位價格 (\$)

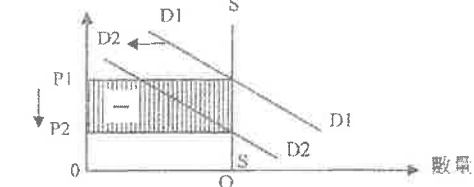


20. 2008.Q.1

- 替代品的數目：有更多替代品。
- 替代品的價格：替代品的價格下降。
- 消費者的收入：消費者的收入上升而食米是貧窮物品/劣等物品。
- 消費者的口味：消費者改變口味，減少吃米飯。

[只挑兩項答]

21. 2008.Q.9(b)(ii)



在圖上顯示：

- 需求線向左移

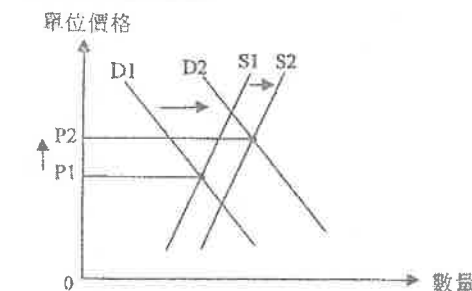
- 市價由  $P_1$  下降至  $P_2$

- 市值由  $P_1 \times Q$  下降至  $P_2 \times Q$

文字解釋：

- 對在股票市場投資的需求下降，原因是預期資本淨賺獲減少了。
- 股票價格下降
- 總市值  $[P \times Q]$  下降

22. 2009.Q.11(c)(i)



在圖上顯示：

- 需求線向右移

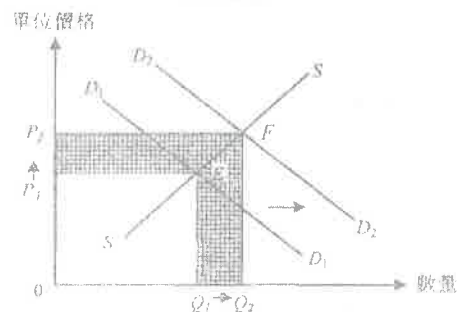
- 供應線向右移

- 新均衡價格 > 原有均衡價格

文字解釋：

- 愈益普及  $\Rightarrow$  需求增加
- 減稅  $\Rightarrow$  供應增加
- 需求增加 > 供應增加

23. 2010.Q.1

**不織布袋**

在圖上顯示：

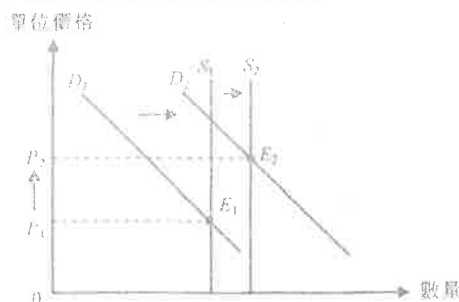
- 需求曲線向右移
- 面積 $OP_2EQ_2 > \text{面積}OP_1EQ_1$

文字解釋：

- 不織布袋是膠袋的替代品
- 不織布袋的需求增加
- ∴ 總收益增加

24. 2011.Q.11(a)

下圖顯示公開拍賣土地的供需圖。



在圖上顯示：

- 需求曲線向右移
- 供應曲線向右移
- 需求曲線的右移 > 供應曲線的右移，並顯示正確的價格增加

文字解釋：

公開拍賣的土地需求增加。  
公開拍賣土地的需求屬衍生需求 / 當物業需求增加，公開拍賣土地的需求會增加。  
已知：政府推出更多土地作公開拍賣條件：土地需求得的增加 > 土地供應的增加

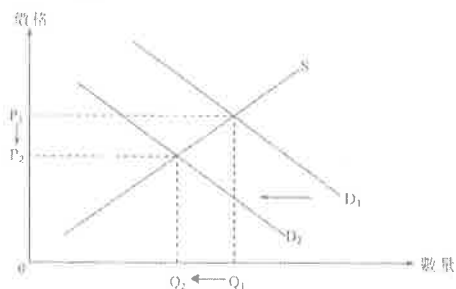
25. 2012.Q12(c)(i)

文字解說：

- 居屋單位和私人樓宇屬替代品。
- 公營房屋（居屋單位）供應增加會令私人樓宇的需求減少。
- 私人樓宇的價格下降。

圖中顯示：

- D向左移動
- P下跌



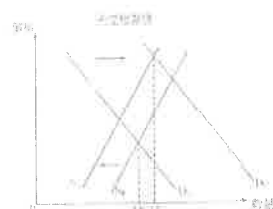
26. 2015.Q11(d)

文字解說：

一方面，未完稅香煙的供應因海關的打擊而下降。另一方面，因為未完稅和已完稅香煙屬代替品，煙草稅令未完稅香煙的需求上升。未完稅香煙的銷售量可能會上升，若需求上升對交易量的影響大於供應下降。

在圖中顯示：

- 需求曲線向右移 (1)
- 供應曲線向左移 (1)
- 最終均衡點的交易量較高 (1)



1. 1993.Q.3(c)

在繁忙時間，地鐵乘客數量超越地鐵服務的最高容量。在徵收繁忙時間附加費後，這些時間的擠迫情況得以紓緩。以圖輔助，解釋這種情況。

(8 分)

2. 1995.Q.9(a)

1994 年世界盃足球賽在美國舉行。人們從世界各地赴美觀看球賽。

(a)決賽在洛杉磯舉行，該城市出租住宿單位的供應是固定的。由於需求大，而租金價格未夠高，很多失望的球迷租不到這些住宿單位。

(i) 繪一充分標注的供需圖以顯示上述情況。

(2 分)

(ii) 若租金價格被提高至需求與固定供應吻合的水平，則這些住宿單位的租金收入與(a)(i)時的有何不同？以圖輔助，解釋你的答案。

(5 分)

3. 1999.Q.11(a)

有人相信在路上行走的的士數目永遠也不能滿足需求，而提高的士車資會增加的士服務的銷售收益。

(a) 以一幅供需圖輔助，解釋上述觀點。(8 分)

4. 2001.Q.10(c)(i)

甲銀行向公眾發行股票以籌集資金。該批股票的數量和認購價格均已固定，並且不是所有申請認購的人都能成功地認購。

(i)以圖輔助，解釋上述經濟現象。同時在圖上顯示所籌得資金的數目。

(7 分)

5. 2002.Q.11(b)

王小姐在某補習社任教經濟科。

該補習社還有學位的空缺，於是決定舉辦宣傳活動以招收更多學生，而學費則維持不變。

以圖輔助，解釋一項成功的宣傳活動會如何填滿該補習社的學額和增加該補習社的總收益

(7 分)

6. 2004.Q.10(a)

在2003年，「沙士」\*對香港的經濟有重大影響。

在「沙士」爆發初期，航空公司沒有減票價，也沒有減少班次。結果，飛往香港的航機都有大量的空置機位。以圖輔助，解釋上述經濟現象，並解釋這些航空公司的總收入如何受影響。

(8分)

\*「沙士」是嚴重急性呼吸系統綜合症的簡稱。

7. 2005.Q.9(b)(i)

西區海底隧道（即西隧）沒有交通擠塞問題。

在2004年7月，西隧調高收費（的士除外）。

(b)(i)在繁忙時間，香港海底隧道（即紅隧）有交通擠塞。

西隧調高收費，但紅隧的收費卻沒有增加。試以一圖輔助，解釋為何在上述情況下，紅隧在繁忙時間會變得更加擠塞。

(6分)

圖 1

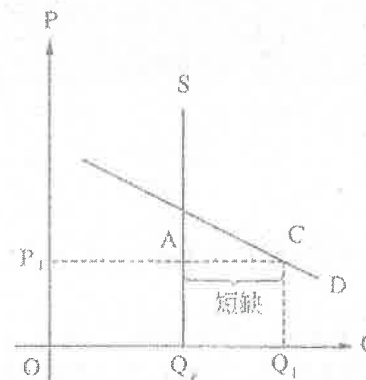
Y-axis label: 學生

X-axis label: 學生

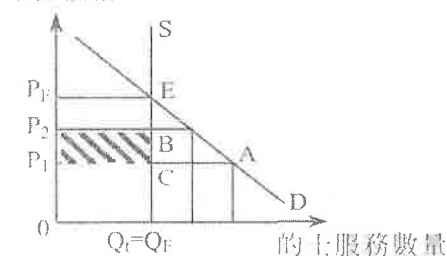
Origin label: 0

(-2013)

(i)



單位價格



- $P_1 < P_E$
- $P_1 < P_2 < P_E$
- 交易量  $Q_1$  不變

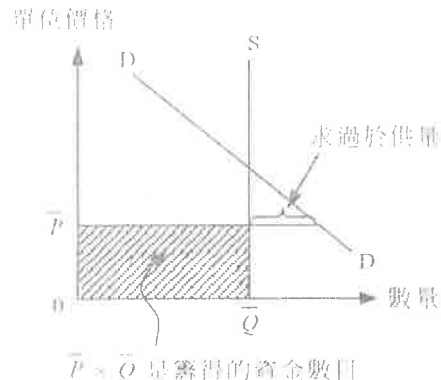


- 總銷售收益由  $P_1 \times Q_1$  增加至  $P_2 \times Q_1$  / 增加的收益 =  $P_1 P_2 BC$

解釋:

- 在  $P_1$  時有超額需求
- $P_1 \rightarrow P_2$  後仍有超額需求或仍低於均衡價格
- 交易量不變
- 總銷售收益  $P_1 \times Q_1$  增加至  $P_2 \times Q_1$  / 增加的收益是  $P_2 \times Q_1 - P_1 \times Q_1$

4. 2001.Q.10(c)(i)



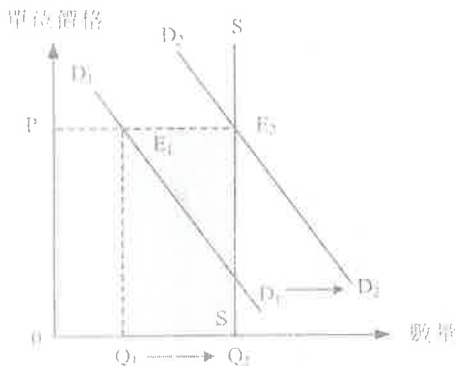
在圖上顯示:

- 一條垂直的供應線
- 價格設訂在均衡價格之下
- 出現求過於供
- $P \times Q$  是籌得的資金額

文字解釋:

- 售價  $P$  訂在均衡價之下
- (在  $P \times Q_1 > Q_1$  / 出現求過於供)

5. 2002.Q.11(b)



在圖中顯示:

- 學費水平  $P$  高於均衡價格
- 需求曲線向右移
- $D_1 D_1$  移至  $D_2 D_2$  或  $D_2 D_2$  之右

總收益增加 =

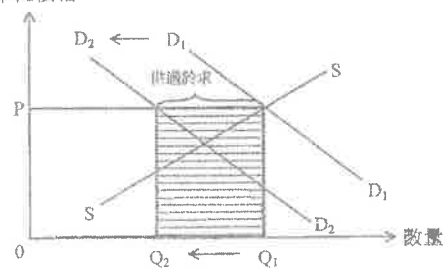
文字解釋:

- 需求增加
- 交易量↑ (及總收益增加)
- 供過於求量由  $Q_1 Q_2$  下跌至零

6. 2004.Q.10(a)

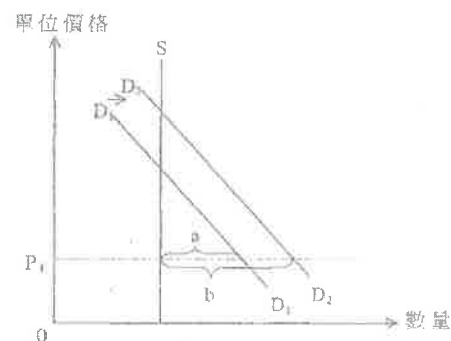
「沙士」爆發導致航空服務的需求減少, 在固定機票價格下的交易數量減少, 及總收入減少。

單位價格



[註: 以上分析假設市場原先在均衡狀態。考生亦可假設市場原先有超額供應或超額需求, 上述分析仍然適用。]

7. 2005.Q.9(b)(i)



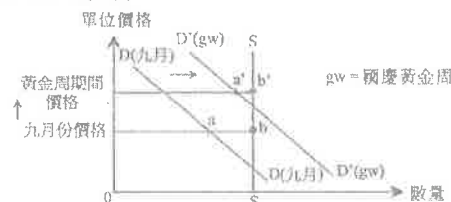
在圖上顯示:

- 價格 ( $P_1$ ) 在均衡價格之下
- 需求曲線右移
- 超額需求由  $a$  增加至  $b$

文字說明:

- 紅隧是西隧的代替品。
- 紅隧的需求增加。
- (在收費不變下,) 紅隧的超額需求增加。

8. 2006.Q.9(a)



在圖上顯示:

- 九月份價格 > 均衡價格
- $ab$  = 九月份時的供過於求量

文字解釋:

- 在九月份已出現供過於求

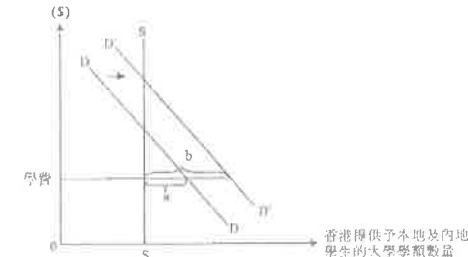
在圖上顯示:

- 在黃金周期間, 需求曲線右移至  $D'D'$
- 價格提高至一新水平 (在新價格下仍出現供過於求)
- 在黃金周期間的供過於求量 =  $a'b'$
- $a'b' < ab$

文字解釋:

- 需求增加
- 在黃金周期間供過於求量減少

9. 2007.Q.8(a)



在圖上顯示:

- 學費在均衡價格之下
- $a$  顯示原先的超額需求
- 需求曲線向右移
- $b$  顯示新的超額需求

文字解釋:

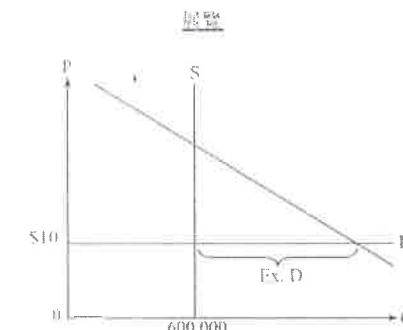
- 需求增加
- 學費低於均衡價格 / 學費不變 (導致超額需求增加)

10. DSE.PP.Q12 (只有 a 部屬於短缺與剩餘)

(a)(i)

在圖中顯示:

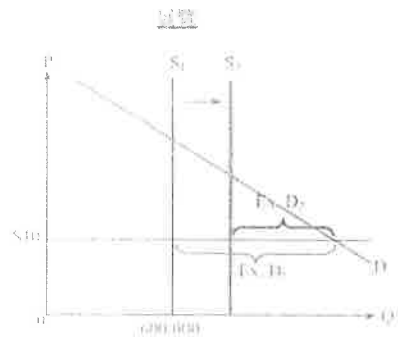
- 垂直供應曲線在 600,000
- 價格訂在 \$10, 即均衡水平之下
- 超額需求 / 短缺



方法二: 發行更多門票 / 延長展覽期

在圖中顯示:

- 供應曲線向右移
- 短缺減少



(b)(i)  
配給的功能：門票分配給願意支付最少\$200的買家。

(b)(ii)  
可能的角度：  
政府：

提高票價既可以減少炒賣門票，亦可增加展覽的總收入。

社會 / 效率：

浪費於排隊的時間較短，效率損失較少。

消費者：

短缺減少意味著較易獲得門票。

較高的價格令消費者盈餘下降。

黃生蠶

轉售門票的利潤下降，所以較少人炒賣門票。

任何其他相關點

注意：考生須書述其立場並有充分理據的論點支持。

1. 1991.Q.4(c)

本港很多建築公司形容他們正面臨「勞工短缺」的問題。

(i)經濟學上的「短缺」指的是甚麼？試繪一圖來說明。(5分)

(ii)假設現時建築工人工資率維持不變，分別繪圖輔助，解釋

(I)經濟衰退

(II)輸入建築工人

怎樣會減輕建築公司的「勞工短缺」問題。(5分)

2. 1994.Q.9(b)

由於對日貿易出現巨額赤字，有些美國人建議對進口日本汽車徵收很高的關稅。

上述關稅會如何影響

(i)新進口日本汽車在美國市場的均衡價格和數量？以圖輔助解釋。(5分)

(ii)美國汽車製造業工人的均衡工資率和就業數量？以圖輔助解釋。(6分)

3. 1996.Q.12(a)

香港的製造業工人正面臨失業率上升的問題。

(a)假設製造業工人不願意接受較低的工資率，分別以圖輔助，解釋以下每一項如何導致製造業工人失業。

(i) 經濟轉型引致二級生產萎縮 (5分)

(ii) 輸入製造業工人 (5分)

4. 1998.Q.9(c)

王先生的食店聘用了數名外地勞工。

(i)以圖輔助，解釋輸入外勞對香港飲食業工人均衡工資率的影響。(4分)

(ii)利用(c)(i)的圖說明輸入外勞對本地飲食業工人就業人數的影響。(3分)

5. 2000.Q.11(b)

以圖輔助，解釋在什麼條件下，中國大量工人遷移到乙國去會引致乙國所有工人（包括入境的移民在內）的總收入下降。(8分)

6. 2003.Q.11(d)

以圖輔助，解釋資訊科技公司結業會如何影響資訊科技行業專門人才的工資率和就業水平。

(6分)

7. 2010.Q.11(a)

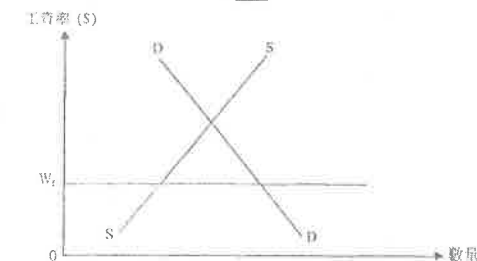
2008年的金融海嘯嚴重影響甲經濟。

(a) 假設工資率不變。以一幅供需圖輔助，解釋為何金融業的生意受金融海嘯而減少會導致該行業的失業人數增加。並且在該圖上顯示該行業的僱員總工資收入的損失。(9分)

8. 2011.Q.3

圖1顯示某行業勞工市場的供需線。假設政府引入最低工資法例，並設定最低工資率為 $W_r$ 。

圖1



(a)解釋該最低工資率 $W_r$ 是否有效。(2分)

(b)解釋該行業勞工的工資總收入會否改變。(3分)  
變。在圖1顯示實施最低工資法例後的工資總收入。

9. SP.Q11(a)

一些香港政客要求為低收入人士(如保安員及清潔工人)引入最低工資法。

(a) 考慮以下一個行業：市場工資率正處於均衡水平。以一幅圖輔助，解釋引入有效的最低工資會如何影響

(i) 該行業受僱工人的數目。(4分)

(ii) 該行業受僱工人的總收入。(7分)

10. 2013.Q10(c)

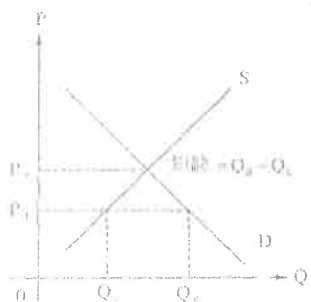
香港政府引入了有效的最低工資。其後，很多餐廳東主聲稱未能以最低工資率為餐廳聘請足夠員工。以一幅供需圖輔助，解釋為什麼可能出現上述現象。(9分)

(-2013)



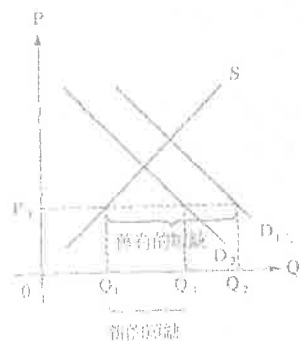
1. 1991.Q.4(c)

當現行價格低於均衡價格時，便會出現短缺。在此價格下，需求量會大於供應量。下圖顯示此情況：



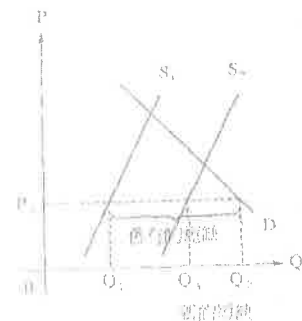
(ii)(I)

對勞工的需求在經濟不景氣的時會減少，因為生產水平下降。所以，勞工短缺的情況會緩和。規模會由 $Q_1Q_2$ 減至 $Q_1Q_3$ 。下圖顯示此情況：

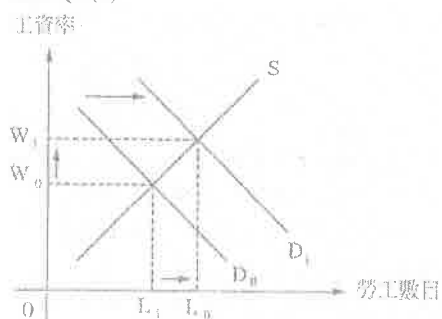


(ii)(II)

進口建築工人時，勞工供給會增加。所以，勞工短缺情況會緩和，規模會由 $Q_1Q_2$ 減少至 $Q_2Q_3$ 。下圖顯示此情況：



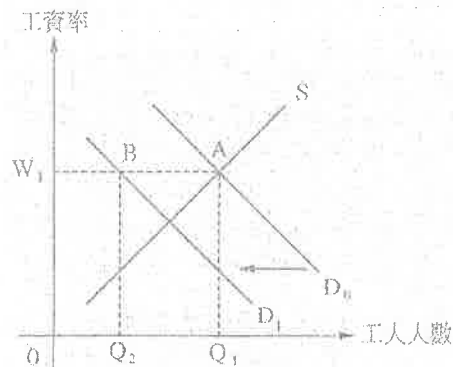
2. 1994.Q.9(b)



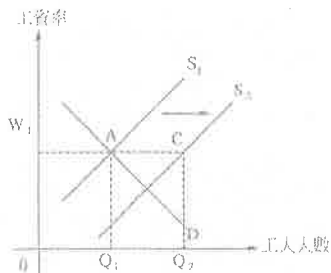
美國車與進口日本車是代用品，於是便對美國車的需求有所增加。此舉會引致美國汽車製造工人的（引申）需求增加。需求曲線由 $D_1$ 移至 $D_2$ 。假設其他因素不變，均很工資會由 $W_1$ 上升至 $W_2$ ，聘用人數由 $L_1$ 增加至 $L_2$ 。

3. 1996.Q.12(a)

二級生產的萎縮會引致對製造業工人的需求減少。需求曲線會由 $D_1$ 移至 $D_2$ 。由於工人不願意接受較低的工資率，工資率會維持在 $W_1$ 。結果，由於供給量（ $Q_1$ ）大於需求量，工人會出現超額供應AB。

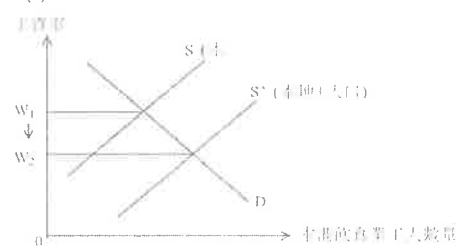


輸入製造業工人會增加勞力供應。供應曲線會由 $S_1$ 移至 $S_2$ 。當工資率維持在 $W_1$ ，供給量（ $Q_2$ ）會大於需求量（ $Q_1$ ），工人供應會出現盈餘AC。



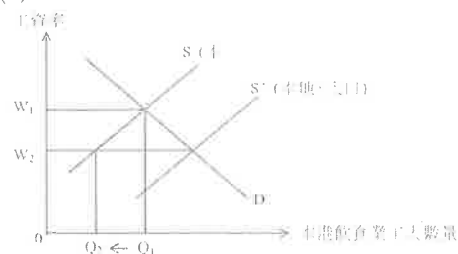
4. 1998.Q.9(c)

(i)



- 飲食業工人的供應有所增加
- 均衡工資率會下跌

(ii)



圖示：

$Q_1$ ：本地飲食業工人開始時就業水平

$Q_2$ ：本地飲食業工人新的就業水平

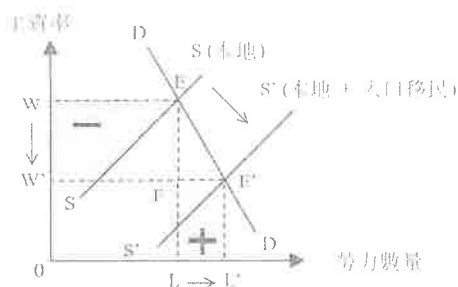
就業水平下跌或圖示 $Q_1 \rightarrow Q_2$

5. 2000.Q.11(b)

$S \uparrow$

需求彈性低

工資下降百分比 > 就業上升百分比

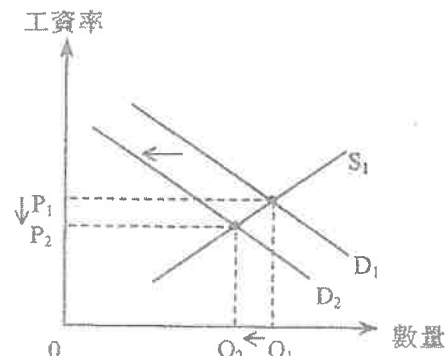


在圖上顯示：

-  $SS$  (本地工人) 右移至  $S'S'$  (本地+人口移民)



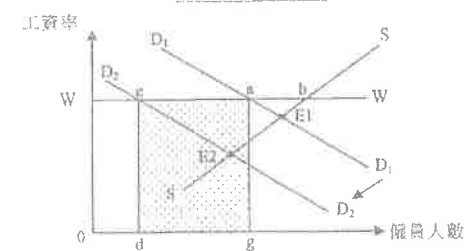
6. 2003.Q.11(d)



需求減少導致工資率下降及就業水平下降。

7. 2010.Q.11(a)

金融業的勞工市場



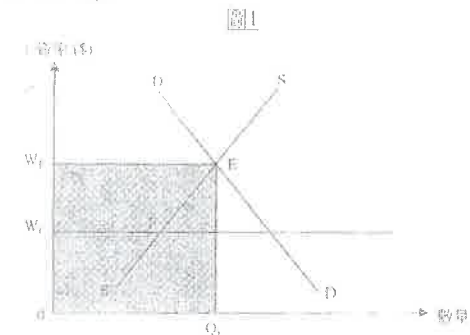
在圖上顯示：

- 工資率 $W$ 高於原來在 $E_1$ 的均衡工資率
- 原來的超額供應 $\overline{ab}$
- $D_1$ 移至 $D_2$
- 新的超額供應 =  $\overline{cb}$
- 長方形 $cdga$ 的面積 = 總工資收入的損失

文字解釋：

- 原來工資率較原來均衡工資率高／原來的供應量大於原來的需求量，差異為 $\overline{ab}$
- 對僱員的需求下降。
- 新的超額供應為 $\overline{cb}$ ，
- 它較原來的超額供應 $\overline{ab}$ 大。

8. 2011.Q.3



無效，這是因為  
 $W_c$  低於均衡工資  $W_E$


(b)

否，這是因為  
 (無效的價格管制) 不會改變工資率及數量。  
 陰影面積  $OW_cEQ_E$  在圖1顯示該面積。

9. DSE-SP.Paper2.Q11(a)

引入有效最低工資會令工資率上升，獲聘工人的數目下降。

圖上顯示：

 $W \uparrow$  及  $Q \downarrow$ 

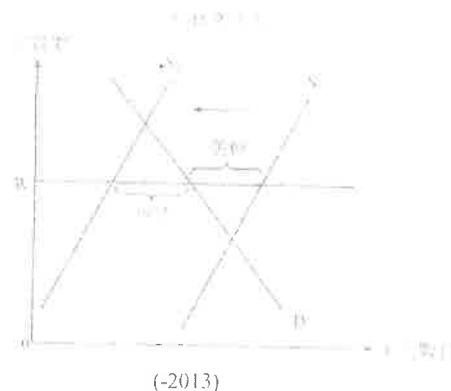
10. 2013.Q10(c)

文字解說：

一有效的價格下限會造成工人的盈餘。若餐廳工人轉至其他的行業工作（例如轉當保安員），在這行業工人的供應下降。在最低工資率的水瓶，工人的短缺可能出現。

在圖中顯示：

- 工資率訂在原初均衡之上
- 盈餘
- 供應曲線向左移動幅度大於盈餘
- 最終短缺



經濟 02D 需求及供應的價格彈性 問答題 (1990-2016)

1. 1991.Q.2(b)

假設在香港，公共醫療服務的供應屬「完全無彈性」。

現時公共醫療收費訂於均衡收費水平以下。假設政府將收費提高至均衡收費的水平。試繪一圖輔助，解釋下列各項會產生甚麼變化：

(i) 病人對公共醫療服務的需求量

(ii) 提供公共醫療服務獲得的收費總額

(8 分)

2. 1992.Q.1(d)(i) &amp; (ii)(1)

在香港，政府發出固定數目的市區的上牌照。

(i) 繪一供應曲線以說明該種情況。

(2 分)

(ii) 設政府決定多發市區的上牌。用一供需圖輔助，解釋

(I) 市區的士牌的市價如何受影響，及

(II) 為甚麼香港全部市區的士牌的總市值可能會上升。

(10 分)

3. 1993.Q.1(a) (Modified)

「好味棧」是一家快餐店。在某次宣傳期間，該店將漢堡包的單位售價由\$4.2 減至\$3.5。雖然減價，顧客購買漢堡包的總消費額卻上升。試以需求價格彈性，並輔以圖表，解釋該現象。

(7 分)

4. 1994.Q.11(b)

設一場颱風毀壞了甲國大量蔬菜，但蔬菜的銷售總值卻上升了。

以圖輔助，利用價格需求彈性解釋這種現象。

(7 分)

5. 1996.Q.11(a)

香港報業在 1995 年底爆發價格戰。

(a) 以下是某報館兩位經理的對話。

總經理：「減價會使我們報紙的總銷售收益下降。」

營業經理：「就算我們不減價，其他報紙減價都會使我們的總銷售收益下降。」

各以一圖輔助，解釋他們的論點。

(11 分)

6. 1997.Q.11(c)

設排污費大幅調高，因此影響本地酒家的總收益。以圖輔助，解釋在哪一種情況下該總收益會下跌。

(8 分)

7. 2005.Q.9(a),(b)(i)

西區海底隧道（即西隧）沒有交通擠塞問題。在2004年7月，西隧調高收費（的士除外）。

(a) 以圖輔助，解釋在甚麼條件下，西隧調高收費會增加它得銷售收益。

(6 分)

8. 2009.Q.9(b)

近年教科書的價格引人關注。

近年紙價大幅上升，以圖輔助，解釋在甚麼條件下出版商在教科書的總銷售收益會增加。(8 分)

9. 2012.PP.Q3

日本地震嚴重破壞生產各種記憶體產品的設施，如生產安全數碼卡（又稱 SD 卡）的設施，導致這些產品的價格上升。以圖輔助，解釋在什麼條件下日本消費者對這些記憶體產品的總支出會下降。

(7 分)

10. 2013.Q9(a)

以圖輔助，解釋在甚麼情況下港鐵票價上升會引致乘客對鐵路服務的總支出上升。

(5 分)

11. 2015.Q11(c)

煙草稅是香港的一項間接稅。為了遏止吸煙，財政司司長增加了煙草稅稅率。

(c) 一位經濟學家指出，「其他因素不變，增加煙草稅稅率不會有效地減少已完稅香煙的消費量。」毋須運用圖表，論證他的陳述。

(4 分)

(-2016)

12. 2018.Q5

當觀高峰期間，香港公立醫院的醫護人員人手不足。

(a) 某經濟學者指出：「即使政府大幅增加醫護人員的工資率，該問題仍然難以舒緩。」運用供應／需求彈性的概念，論證他的陳述。

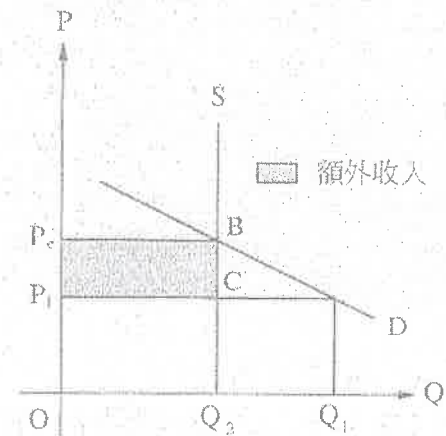
(3 分)

(b) 為了減輕醫護人員的壓力，政府計劃招聘退休醫護人員重投公立醫院工作。解釋該措施將如何影響香港的失業率。

(4 分)

1. 1991.Q.2(b)

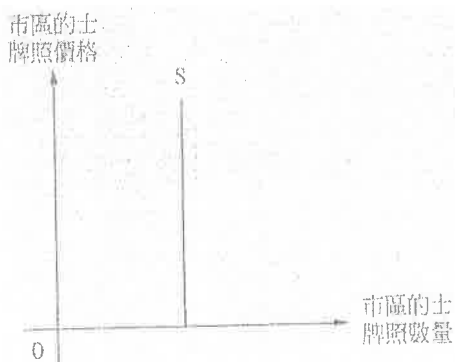
(i) 根據需求定律，若政府將費用提升至均衡價格  $P_e$ ，病人對公共醫療服務的需求量會由  $Q_1$  減少至  $Q_2$ 。



(ii) 因為交易數量維持在  $Q_2$ ，當醫療費用上升時，會引致總收入增加。總收入會由  $OP_1CQ_2$  增加至面積  $OP_eBQ_2$ 。

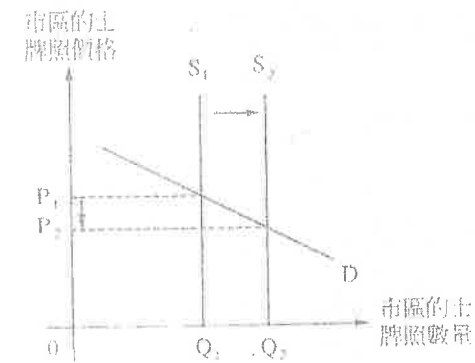
2. 1992.Q.1(d)(i) & (ii)(I)

(i)

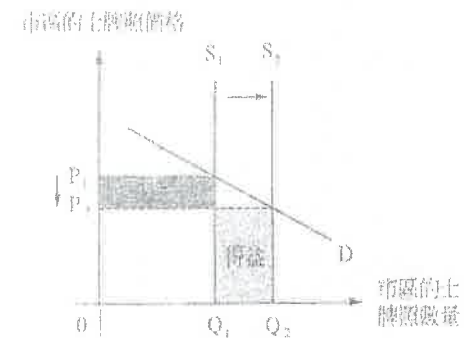


(ii)(I)

市區的士牌照的市場價格會由  $P_1$  下降至  $P_2$ ，因為當政府增發牌照，供應會增加，使供應曲線由  $S_1$  向右移至  $S_2$ 。



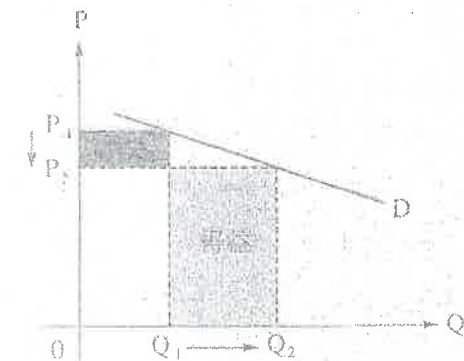
(ii)(II)



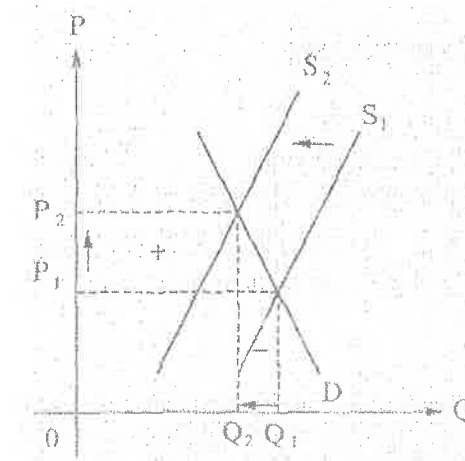
雖然市區的土牌照的價格下降，總市場價值依然會上升。當對土牌照的需求是彈性，此情況便出現。彈性需求指需求量增加的百分比大於價格下降的百分比。結果，得益的收入大於損失的收入。

3. 1993.Q.1(a) (Modified)

消費者的總支出會增加，因為漢堡包的需求是彈性，使需求量增加的百分比大於價格下降的百分比。換句話說，需求量上升引致的總支出得益大於價格下降引致的總支出損失。下圖顯示此情況：



4. 1994.Q.11(b)

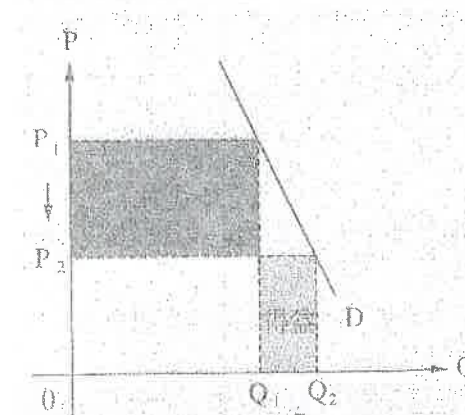


颱風會減少蔬菜的供給。所以，均衡價格會由 $P_1$ 上升至 $P_2$ 。當對蔬菜的需求是低彈性的，價格上升的百分比大於需求量下降。所以，得益的收入(+)大於損失的收入(-)，導致總銷售收入增加。

5. 1996.Q.11(a)

總經理的論點

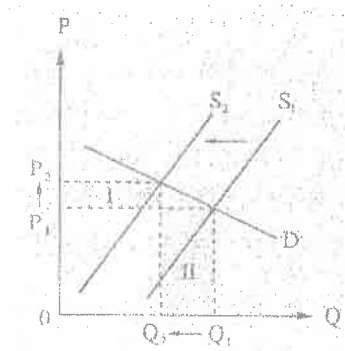
假若減價會使總銷售收益下降，對報紙的需求是低彈性的。



低彈性需求指價格下降的百分比大於需求量增加的百分比，損失的收入大於得益的收入。所以，總銷售收益會下降。

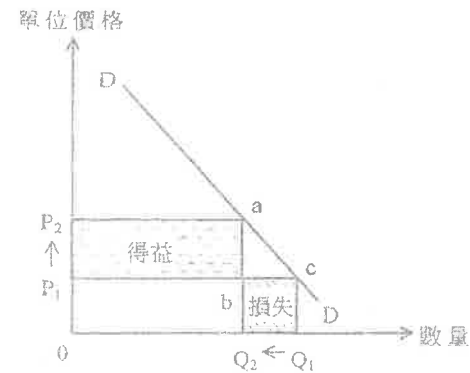
6. 1997.Q.11(c)

根據供需圖，當排污費大幅調高時，酒家的生產成本會上升。酒家服務的供給會減少，供給曲線會由  $S_1$  向左移至  $S_2$ 。結果，均衡數量會由  $Q_1$  減少至  $Q_2$ ，均衡價格則由  $P_1$  上升至  $P_2$ 。區域 I 代表總收益的增加，區域 II 代表總收益的減少。若對酒家服務的需求是彈性，則收益的增加少於收益的減少，導致總收益下降。



7. 2005.Q.9(a),(b)(i)

(a)



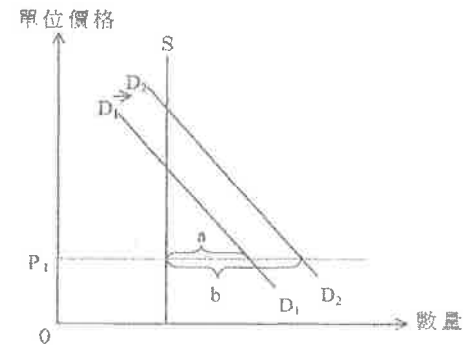
在圖上顯示：

- 面積  $abP_1P_2$  = 得益，面積  $bcQ_1Q_2$  = 損失
- 得益 > 損失

文字說明：

- 對隧道的需求屬低彈性
- ( $P$  增加) 及  $Q_d$  減少
- 價格變動百分比 > 需求量變動百分比

(b)(i)



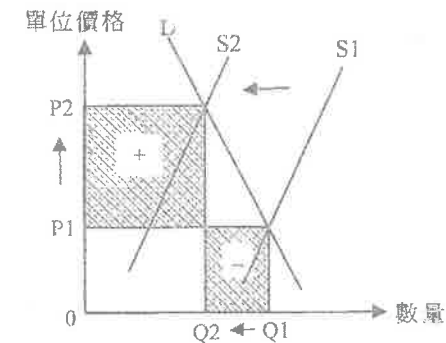
在圖上顯示：

- 價格 ( $P_1$ ) 在均衡價格之下
- 需求曲線右移
- 超額需求由  $a$  增加至  $b$

文字說明：

- 紅隧是西隧的代替品。
- 紅隧的需求增加。
- (在收費不變下，) 紅隧的超額需求增加。

8. 2009.Q.9(b)



在圖上顯示：

- 供應曲線向左移
- 數量↓及價格↑
- 「總收益減少」的面積 < 「總收益增加」的面積

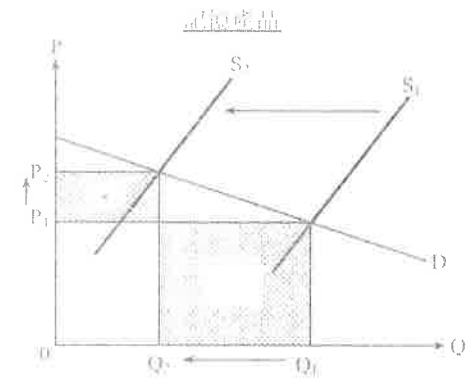
文字解釋：

- 生產成本↑ → 供應下降
- 價格↑ 及 數量↓
- 低彈性需求
- 數量改變的百分比 < 價格改變的百分比

9. 2012.PP.Q3

在圖上顯示：

- 供應曲線向左移
- 損失 > 得益



文字說明：

- 供應減少。
- 條件為記憶產品的需求屬高彈性。
- 需求量下降的百分率大於價格上升的百分率。

10. 2013.Q9(a)


文字解說：

若對港鐵服務的需求屬低彈性，車費上升的百分率會高於乘搭人次下降的百分率，故此總支出會上升。

在圖上顯示：

得益和損失的正確位置

得益 > 損失



11. 2015.Q11(c)

- 煙草稅增加已完稅香煙的市場價格，故令其需求量下降。(1)
- 若香煙消費者已吸煙成癮，他們對香煙的需求屬低彈性。因此需求量下降的百分率小於價格上升的百分率。(3)

12 2018 Q5

- (a) 醫護人員的供應可屬低彈性，因為醫護人員須有特別的培訓和資歷。即使政府大幅提高其工資率，醫護人員供應量上升的百分率仍然低於工資率上升的百分率。(3)
- (b) 失業率 = (失業人數 / 總勞動人口) × 100%  
失業人數不變而勞動人口則上升，原因是退休醫護人員原初不在勞動人口中，失業率會下降。(4)



1. 1990.Q.1b

設香港政府大幅度提高華傭的最低工資率

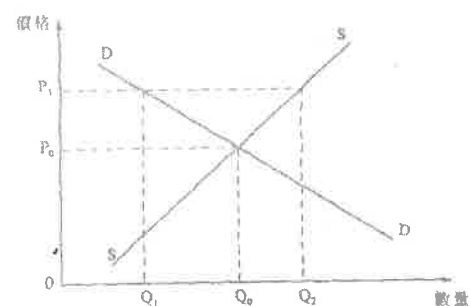
- (i) 用圖表輔助，解釋為何全港華傭的工資總收入可能因此減少。(8分)
- (ii) 用圖表輔助，解釋本地傭人的均衡工資和數量會受到什麼影響。(7分)

2. 1993.Q.4c

假設在香港出售電視機須繳納從量稅，稅款由售賣者繳付。試在—供需圖上分別指出消費者及售賣者的賦稅負擔。(5分)

3. 1994.Q.3

以下是某物品的供需圖：



如政府將價格上限設定在  $P_1$ ，市價和交易量會是多少？解釋你的答案。(4分)

4. 1997.Q.10b

若某國對入口貨的數量實施一項有效的配額限制，解釋該入口貨的市價和數量會如何改變，並以—供需圖清楚顯示出來。(8分)

5. 1998.Q.2

設政府將一項入口的配額數量增加，而增加後的配額限制仍屬有效。以圖輔助，解釋該入口貨的市價會否因而上升。(4分)

6. 2001.Q.9b

假設進口成衣的經濟體系將有效的進口成衣限額數量削減。以圖輔助，解釋在甚麼條件下該經濟體系在進口成衣方面的總支出會下降。(9分)

7. 2004.Q.9c

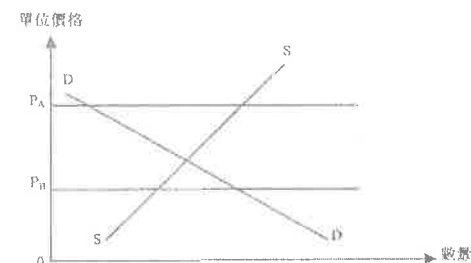
政府向汽車賣家徵收汽車首次登記稅。假設汽車賣家的稅項總負擔大於買家的稅項總負擔。

- (i) 寫出導致上述稅項分攤的條件，以圖顯示上述的情況。
- (ii) 在同一幅圖上，顯示汽車賣家的除稅後總銷售收益。(8分)

8. 2006.Q.1

圖1顯示物品X的市場供應曲線及市場需求曲線。假設政府將價格上限由  $P_A$  降至  $P_B$ 。

圖1



- (a) 解釋開始時價格上限  $P_A$  是否有效。(2分)
- (b) 解釋價格上限下降至  $P_B$  會如何影響消費者購買物品X的總支出，並在圖1顯示消費者總指出的改變。(4分)

9. 2007.Q.9c

政府向物品X開徵一項從量銷售稅。

- (i) 以圖輔助，解釋在甚麼條件下因引入該稅項導致物品X消費者總支出下降。(7分)
- (ii) 在(c)(i)的圖上顯示除稅後賣家總銷售收益的改變。(2分)

10. 2008.Q11(b)

從前，美國曾對進口的香港製造成衣實施配額限制。但是在配額限制下，美國輸入的港製成衣價值(以美元計算)仍然上升。提出一項理由解釋為什麼會如此。(2分)

11. 2010.Q11(a)

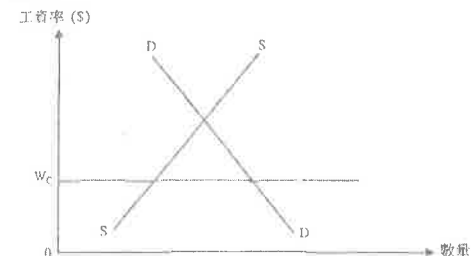
2008年的金融海嘯嚴重影響甲經濟。

假設工資率不變。以—幅供需圖輔助，解釋為何金融業的生意受金融海嘯影響而減少會導致該行業的失業人數增加。並且在該圖上顯示該行業的僱員總工資收入的損失。(9分)

12. 2011.Q3

圖1顯示某行業勞工市場的供需線。假設政府引入最低工資法例，並設定最低工資率為  $W_c$ 。

圖一



- (a) 解釋該最低工資率  $W_c$  是否有效。(2分)
- (b) 解釋該行業的工資總收入會否改變。在圖1顯示實施最低工資法例後的工資總收入。(3分)

13. Sample Paper.Q11(a)

一些香港政客要求為低收入人士（如保安員及清潔工人）引入最低工資法。

考慮以下一個行業：市場工資率正處於均衡水平。以—幅圖輔助，解釋引入有效的最低工資會如何影響

- (i) 該行業受僱工人的數目。(4分)
- (ii) 該行業受僱工人的總收入。(7分)

14. Practice Paper.Q12(a)

於2010年11月，電子動態版清明上河圖在本港展出。600 000張門票透過城市電腦售票網售票處和互聯網發售，每張作價 \$10。門票在短時間內售罄。很多市民投訴他們未能購得門票。

- (i) 以—幅供需圖說明上述現象。(3分)
- (ii) 建議兩項有助改善上述問題的措施，並以兩幅圖分別說明。(6分)

15. 2013.Q10(c)

香港政府引入了有效的最低工資。其後，很多餐廳東主聲稱未能以最低工資為餐廳聘請足夠員工。以—幅供需圖輔助，解釋為什麼可能出現上述現象。(9分)

(-2015)

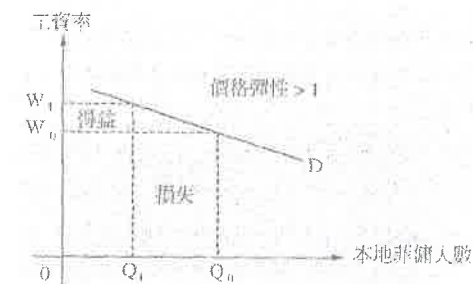
10. 由於有很多公眾地方市民都要強制配戴口罩，口罩成為生活必需品，

為了穩定本港外科口罩的供應，政府推出「本地口罩生產資助計劃」，提供補貼予本地口罩生產商。

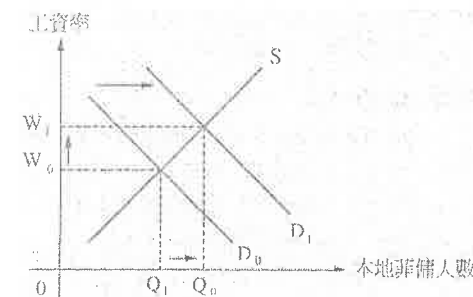
- (c) 以圖輔助，解釋在什麼情況下消費者對外科口罩的總支出會因為該補貼而下降。  
(7分)

1. 1990.Q.1b

由於菲傭的需求是彈性，即是價格彈性大於1，就業人數下降的百分率會大於工資上升的百分率，就業人數下降所帶來的損失較工資上升的得益大，所以收入下降。

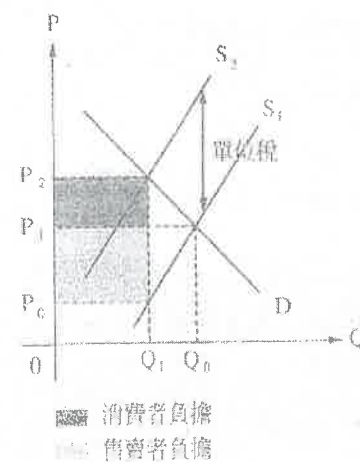


(ii)



2. 1993.Q.4c

供應曲線會以從每單位量稅稅額由 $S_1$ 向上移至 $S_2$ 。下圖顯示消費者和生產者的稅項負擔：

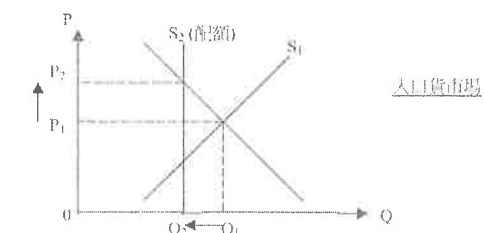


3. 1994.Q.3

將價格上限定於 $P_0$ 是無效的，因為價格上限在均衡價格之上。所以，市場價格和數量會分別維持在 $P_0$ 和 $Q_0$ 。

在價格 $P_1$ 下，盈餘 $Q_1 - Q_0$ 的出現會迫使價格下降至 $P_0$ ，即是供應量和需求量相等的價格。

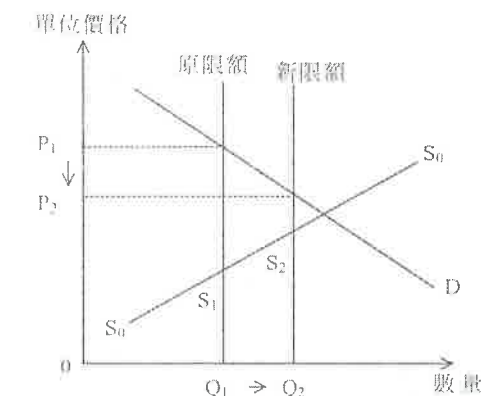
4. 1997.Q.10b



該有效的配額會使入口貨的市價上升及使其數量下降。

如圖所示，原來的供應曲線是 $S_1$ 。有效的配額把入口貨數量限於 $Q_2$ ，因此供應曲線在這限量變為垂直。新的供應曲線是 $S_2$ 。市價因此從 $P_1$ 上升至 $P_2$ ，入口貨數量則由 $Q_1$ 下降至 $Q_2$ 。

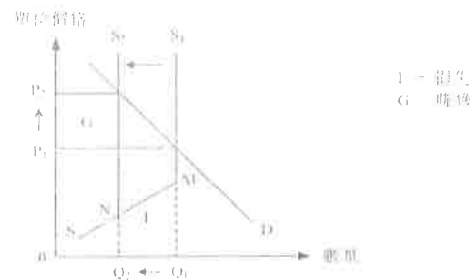
5. 1998.Q.2



圖：2分

- 入口供應上升 1
- 市價下跌 1

6. 2001.Q.9b



在圖上顯示

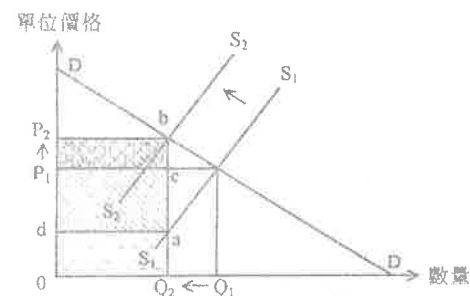
- 正確的供應線以顯示原始限額是有效的
- $S_1$  左移至  $S_2$
- 損失 = 得益

文字解釋：

- 供應減少
- 配額數量減少後， $Q \downarrow$  及均衡價  $P \uparrow$
- 條件：需求有彈性
- $\therefore Q$  的變動百分比  $> P$  的變動百分比

7. 2004.Q.9c

(i) 條件是：汽車的需求彈性大於其供應彈性。



供應曲線由  $S_1$  移至  $S_2$ ，賣家的稅項負擔 =  $acP_1d$  的面積。買家的稅項負擔 =  $cbP_2P_1$  的面積。  
 $acP_1d$  的面積大於  $cbP_2P_1$  的面積。

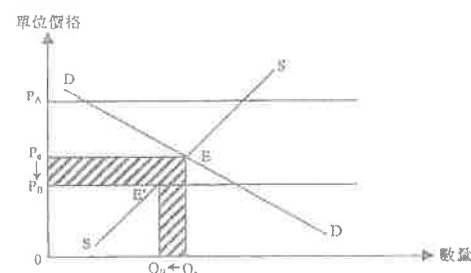
(ii)  $0 Q_2 a d$  的面積是除稅後總銷售收益。

8. 2006.Q.1

否，因為

 $P_A$  在均衡價格之上。

圖 1



在圖上顯示：

- 原有的總支出 = 面積  $0 P_e E Q_e 0$
- 新的總支出 = 面積  $0 P_B E' Q_B 0$

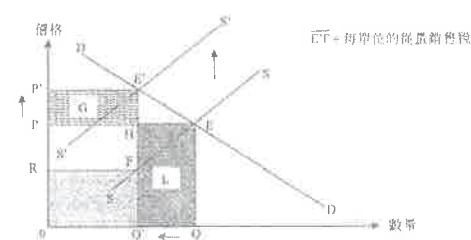
或：指出圖中陰影部分為總支出的減少部分

文字解釋：

- 價格從  $P_e$  下降至  $P_B$  及交易數量從  $Q_e$  減至  $Q_B$
- 消費者的總支出減少

9. 2007.Q.9c

(i)



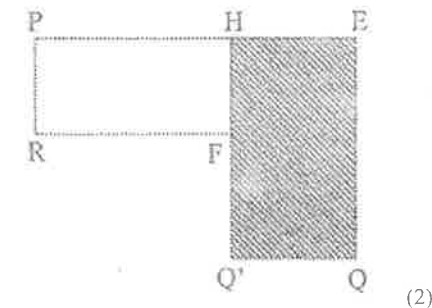
在圖上顯示：

- 供應曲線向上移
- 支出下降 (=L) + 支出上升 (=G)
- $G < L$

(ii)

在圖上顯示：

- 實施從量稅前的供應者收入 (=面積  $0QEP$ )
- 扣除從量稅後的供應者收入 (=面積  $0Q'FR$ )
- 或
- 供應者收入的轉變：面積  $Q'QEPFR$  是供應者收入減少的部分



文字解釋：

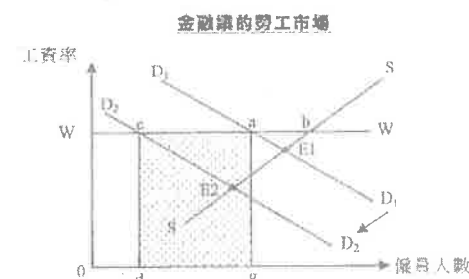
- 供應下降
- 需求屬高彈性
- 價格↑及數量↓
- 數量改變的百分比  $>$  價格改變的百分比

10. 2008.Q11(b)

港製成衣的質素有所改善。美國實施進口限額之後進口更多較高價格的港製成衣，（代替了那些面對限額問題的較低價格的港製成衣）。

[只批閱首項。]

11. 2010.Q11(a)



在圖上顯示

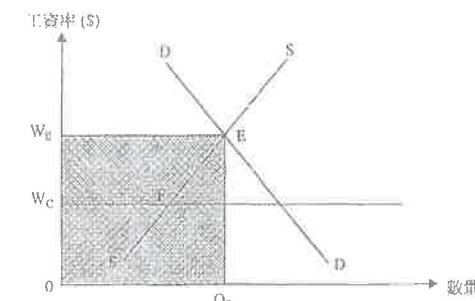
- 原來工資率較原來均衡工資率高/原來的供應量大於原來的需求，差異為  $ab$
- $D_1$  移至  $D_2$
- 新的超額供應 =  $cb$
- 長方形  $cdga$  的面積 = 總工資收入的損失

文字解釋：

- 原來工資率較原來均衡工資率高/原來的供應量大於原來的需求，差異為  $ab$
- 新的超額供應為  $cb$
- 它較原來的超額供應  $ab$  大。

12. 2011.Q3

圖一



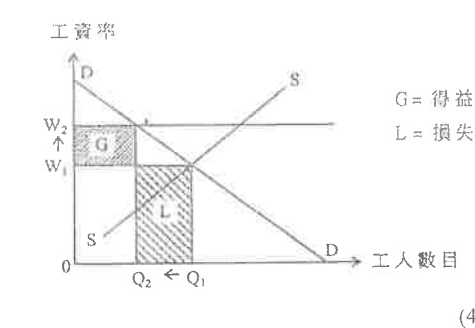
無效，這是因為

 $W_c$  低於均衡工資  $W_E$ 

13. Sample Paper.Q11(a)

(a)(i)

引入有效的最低工資會增加該行業的工資率，但受僱工人的數目會減少。

圖中顯示  $W \uparrow$  和  $Q \downarrow$ 

(a)(ii)

視需求彈性而定，該行業受僱工人的總收入可以增加或減少。

若需求的彈性強：工資率上升的百分比  $<$  受僱工人數目下跌的百分比，該行業工人的總收入會減少。

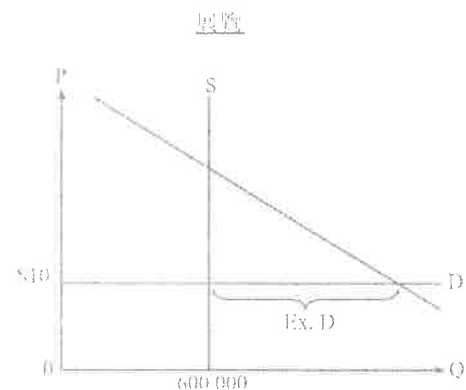
若需求的彈性弱：工資率上升的百分比  $>$  受僱工人數目下跌的百分比，該行業工人的總收入會增加。

圖中正確顯示G和L的位置（面積大小無拘）。

## 14. Practice Paper.Q12(a)

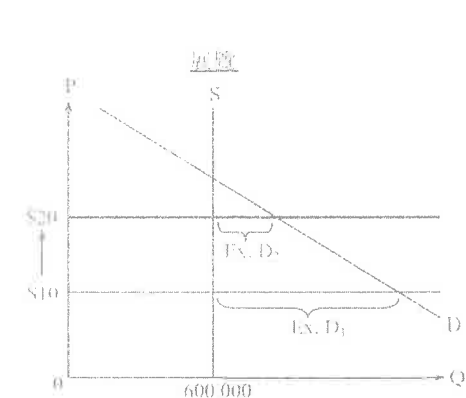
在圖中顯示：

- 垂直供應曲線在 600 000 (1)
- 價格訂在\$10，即均衡水平之下 (1)
- 超額需求／短缺 (1)

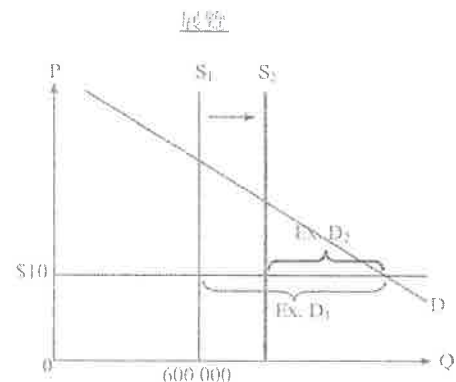


(a)(ii)

- 方法一：提高票價 (1)
- 在圖中顯示： (1)
- 價格上升 (1)
  - 短缺減少 (1)



- 方法二：發行更多門票／延長展覽期 (1)
- 在圖中顯示： (1)
- 供應曲線向右移 (1)
  - 短缺減少 (1)



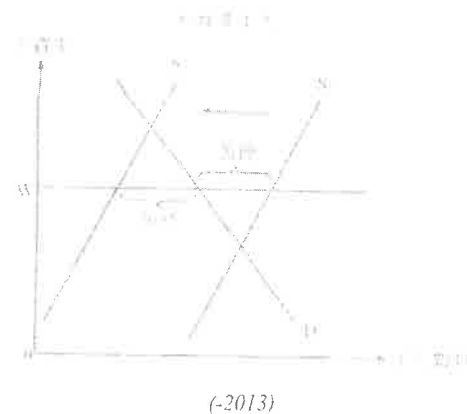
15. 2013.Q10(c)

文字解說：

- 一有效的價格下限會造成工人的盈餘。若 (4)
- 餐廳工人轉至其他的行業工作（例如轉當保安員），在這行業工人的供應下降。在最低工資率的水平，工人的短缺可能出現。

在圖中顯示：

- 工資率訂在原初均衡之上 (1)
- 盈餘 (1)
- 供應曲線向左移動幅度大於盈餘 (2)
- 最終短缺 (1)



## 1. PP.Q12(b)(i)

於 2010 年 11 月，電子動態版清明上河圖在本港展出。600 000 張門票透過城市電腦售票網售票處和互聯網發售，每張作價 \$10。門票在短時間內售罄。很多市民投訴他們未能購得門票。

(b) 有些人付出 \$200 從黄牛黨購買一張門票。

- (i) 寫出上述個案中價格所發揮的功能。 (1 分)

## 2. 2015.Q4(a)

細閱下列的新聞撮要。

人們對小型單位有強烈偏好，以致近月 400 平方呎以下單位的樓價被推至新高，預期未來會有越來越多的小型單位出售。

- (a) 從以上新聞撮要找出價格的一項功能，並加以解釋。 (2 分)

## 1. PP.Q12(b)(i)

配給的功能：門戶分配給願意支付最少\$200 的買家

(1)

## 2. 2015.Q4(a)

價格的功能：

- 小型單位上升價格引導地產商分配更多的資源生產小型單位 [分配功能]
  - 價格傳遞有關消費者需求(相對生產者供應)的資訊 [訊息功能]
- [只批閱首項]

@2,最高：2

## 1. SP.Q4

- (a) 在周末時，顧客有較多空餘時間，因此他們享用「卡拉 OK」店的服務所需付出的時間成本會較低。該服務在每一市價水平上的需求量都會增加，即是說該服務的需求會增加。需求增加的結果是市價會上升。 4
- (b) 顧客享用「卡拉 OK」店的服務代價包括該服務的市價和顧客的時間成本。於周末時，該服務的市價較高而顧客的時間成本較低。事實上周末時顧客對該服務的需求量較高，意味顧客於周末享用該服務的全部成本必然較低。 5

## 2. 2014.Q9(c)

需求定律：當某物品的價格上升，該物品的需求量下跌，反之亦然，其他因素維持不變。 (5)

計算稅款的單位是「每瓶」，而不是汽水的容量（例如每公升）。當對每單位（每瓶）汽水徵收同額的稅項，以容納的汽水容量計算，大瓶汽水變得較小瓶汽水便宜。大瓶汽水的相對價格（以小瓶汽水計算）下降。需求定律意味著相對小瓶汽水，人們會購買更多大瓶汽水，所以大瓶汽水的比例會上升。

## 3. 2016.Q13(b)(ii)

## (ii) 提案 A 對平均飛行距離的影響：

部分窮人在入息稅增加後未能負擔長途機票而轉搭短途旅程航機，故此平均距離會下降。

或

增加入息稅不會改變短途旅程機票和長途旅程機票的相對價格，故此對旅程的消費沒有影響。

或

部分窮人在入息稅增加後未能負擔機票，受預算所限的人大多會乘搭短途旅程航機，這些旅客的消失令平均距離上升。

@2  
最高：2

## 提案 B 對平均飛行距離的影響：

對出境旅客收取一定額費用會令長途機票相對短途機票的價格下降，有較高比例的旅客會搭長途旅程航機，令平均飛行距離上升。

(4)

## 4. 2021 Q2



## 1. SP.Q4

在周末，有較多的顧客光顧「卡拉 OK」店，但「卡拉 OK」店所提供的服務較周日昂貴。

- (a) 顧客在周末時有較多空餘時間。為什麼這事實可能會導致「卡拉 OK」店服務在周末時的市價較高？ (4 分)
- (b) 解釋顧客在周末光顧「卡拉 OK」店的代價與周日相比是較高還是較低。 (5 分)

## 2. 2014.Q9(c)

許多國家以國民健康為理由考慮徵收「汽水稅」。假設某國決定對賣家在市場中售出的每瓶汽水徵收一項從量稅。

- (c) 「由於對每瓶汽水徵收等額的稅款，不論瓶子大小，因此大瓶裝汽水在市場上售出的比例會上升。」以需求定律解釋這論點。 (5 分)

## 3. 2016.Q13(b)(ii)

H 國的機場管理公司是一間公營公司。它聘請了不同職員營運機場，例如有保安員、技術員、工程師和財務經理。

- (b) 該機場管理公司計劃興建多一條跑道，當中有兩個為該跑道融資的提案。

提案 A：政府增加利息稅

提案 B：機場管理公司向每位出境的旅客徵收一項定額費用

討論這兩個提案對 H 國下列一方面的影響：

- (i) 出境旅客的平均飛行旅程距離 (5 分)

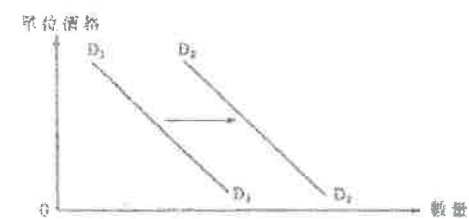
## 4. 2021.Q2

參閱以下巴士車費表。

原初車費 (全日)	
首 2 公里	\$30
以後每 250 呎	\$2

假設從 1:00 am 到 5:59 am，任何的士車程都會在原初車費之上加收 \$20 的通宵附加費。這項附加費將會如何影響乘客的士車客的平均車程距離？試加解釋。 (4 分)

## 1. 1990.MC.Q15



下列哪一種情況引致雪糕的需求曲線由  $D_1$  移至  $D_2$ ？

- A. 雪糕的生產成本下降  
B. 更多兒童喜歡飲汽水  
C. 雪糕價格下降  
D. 兒童有更多零用錢

## 2. 1990.MC.Q17

下列哪一種情況引致一國的石油均衡價格下降？

- A. 該國對人口石油實施配額限制  
B. 石油的勘探成本大幅上升  
C. 該國正迅速工業化  
D. 一廉價石油代用品已被發現

## 3. 1991.MC.Q23

當需求增加時，以下哪一項會使價格有較大的增幅？

- A. 這物品有大量未售出的存貨。  
B. 加入這行業是容易的事。  
C. 生產因素流動性低。  
D. 這行業有過剩生產能力

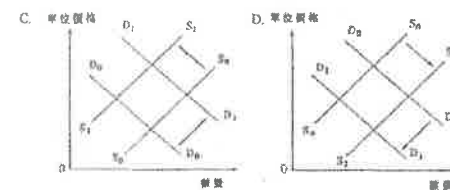
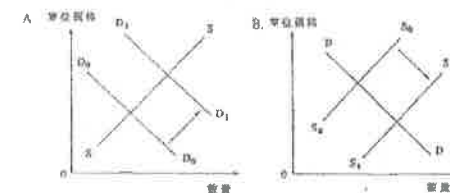
## 4. 1991.MC.Q24

以下哪一項可能導致香港房屋的市場需求有所增加？

- A. 移民湧入  
B. 利率上升  
C. 政府興建更多屋邨  
D. 樓價下跌

## 5. 1991.MC.Q25

最近香港被禁止出口象牙製品往外國。以下哪一圖說明禁運對象牙製品在本地出售數量的即時影響？



## 6. 1991.MC.Q57

以下哪一項

不會導致一產品出售後的總收益有所增加？

- A. 它的需求增加。  
B. 它的售價上升。  
C. 它的需求下降。  
D. 它的售價下跌

## 7. 1991.MC.Q58

假設政府將新進口汽車的首次登記稅提高 \$10,000。以下哪一項是錯誤的描述？

- A. 全部新進口汽車的市價會增加 \$10,000。  
B. 二手汽車的市價會上升。  
C. 賦稅負擔可以轉嫁到消費者身上。  
D. 新進口汽車的數目會減少

## 8. 1992.MC.Q21

對貨櫃運輸的需求增加導致對貨櫃車司機的需求增加。這一個\_\_\_\_\_的例子。

- A. 競爭性需求  
B. 聯合需求  
C. 引中需求  
D. 超額需求



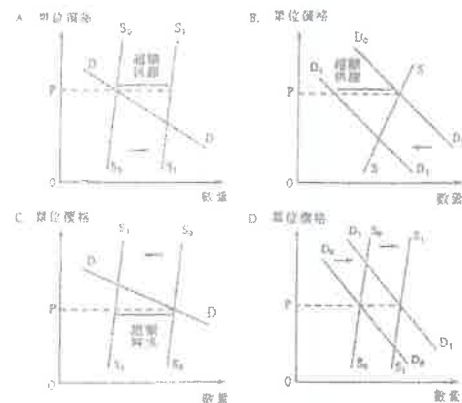
9. 1992.MC.Q22

以下哪項是導致進口私家車需求下降的因素？

- (1)石油出口國組織限制石油生產
  - (2)興建地下鐵路支線伸延至堅尼地城
  - (3)進口私家車價格上升
- A. 只有(1)、(2)  
B. 只有(1)、(3)  
C. 只有(2)、(3)  
D. (1)、(2)、(3)

10. 1992.MC.Q23

由於豐收，粟米大量囤積。以下哪一圖可解釋此現象？



11. 1992.MC.Q42

房屋委員會建議將公屋的出租單位售賣給現時住戶。但是，只有很少數的住戶表示有意購買他們現住的單位。在以下哪一種情況下，住戶會更願意購買這些單位呢？

- A. 私人樓宇供應增加
- B. 公屋單位加租
- C. 樓宇按揭利率上升
- D. 分配更多居者有其屋單位予公屋住

12. 1993.MC.Q18

1992 年本港住宅樓宇按揭的最高貸款額由樓價的九成減至七成。此舉導致住宅樓宇的

- A. 需求下降。
- B. 需求量下降。
- C. 供應上升。
- D. 供應量上升。

13. 1993.MC.Q20

在 1990-91 年期間，私人樓宇的價格迅速上升，而銷售量較前一年有所增加。以下哪一項理由可解釋此現象？

- A. 私人樓宇的需求不遵從需求定律。
- B. 私人樓宇的需求缺乏彈性。
- C. 公屋的供應有所增加。
- D. 私人樓宇的需求有所改變。

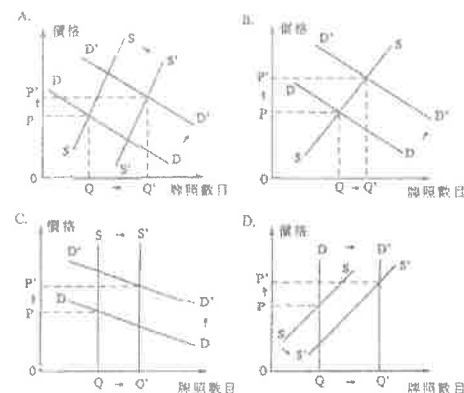
14. 1993.MC.Q57

近年本港教科書價格大幅上揚。以下哪一項並非導致上述情況的原因？

- A. 出版商將書籍改版的次數更多
- B. 有更多出版商出版教科書
- C. 工資及租金上揚
- D. 影印教科書的費用更為昂貴

15. 1994.MC.Q6

在香港，的士牌照數目受政府管制。某年，政府增發的士牌照後，的士牌價反而上升。下列哪一圖可說明上述情況？



16. 1994.MC.Q7

如果電影戲票漲價而鐳射影碟的租金下降，則鐳射影碟放映機的均衡價格

- A. 會維持不變。
- B. 會上升。
- C. 會下降。
- D. 可以上升或下降。

17. 1994.MC.Q58

下列哪一種情況 不會 增加私家車的需求？

- A. 私家車價格大幅下跌。
- B. 更多人居住在新界偏遠的地方。
- C. 公共交通的收費上升。
- D. 政府取消汽油稅。

18. 1995.MC.Q6

迪卡佛  
全部貨品半價發售

這種促銷方法可用 \_\_\_\_\_ 來解釋。

- A. 供應定律
- B. 規模經濟
- C. 需求定律
- D. 比較優勢原理

19. 1995.MC.Q8

某物品的市價相等於均衡價時，

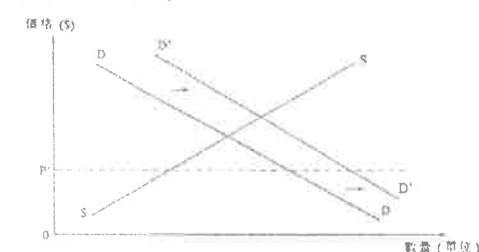
- (1) 售物者可將他們在該價格願意供應的數量全部售出。
  - (2) 沒有壓力使價格產生變動。
  - (3) 銷售收益達致最高水平。
  - (4) 消費者對該物品的欲望完全獲得滿足。
- A. 只有(1)及(2)  
B. 只有(1)及(4)  
C. 只有(2)及(3)  
D. 只有(3)及(4)

20. 1995.MC.Q9

居者有其屋計劃所提供的房屋是由抽籤分配的。這意味著

- A. 房委會低估了市民對居屋的需求。
- B. 抽籤是分配資源的最公平辦法。
- C. 居屋價格低於其成本。
- D. 居屋價格低於均衡價格

21. 1995.MC.Q12

上圖中物品 X 的市價由政府固定在  $P'$ 。若需求由  $D$  增加至  $D'$ ，

- (1) 求過於供的數量會更大。
  - (2) 交易量不會改變。
  - (3) 而需求屬有彈性，則銷售收益會增加。
- A. 只有(1)、(2)  
B. 只有(1)、(3)  
C. 只有(2)、(3)  
D. (1)、(2)及(3)

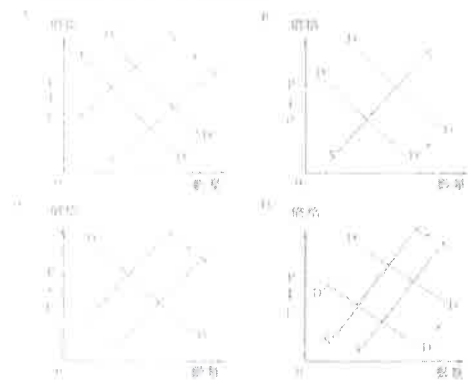
22. 1996.MC.Q4

在下列哪一情況下，中學教師的供應會增加？

- A. 政府提供津貼予學校以聘用更多語文教師。
- B. 政府提高教師的薪金。
- C. 合資格就讀中學的兒童人數增加。
- D. 商界職位空缺減少。

23. 1996.MC.Q5

假設流動電話的生產科技有所突破，及使用流動電話的每分鐘收費減低。結果，流動電話的價格下跌。下列哪一幅圖最能說明流動電話市場的情況？



24. 1996.MC.Q6

假設鐳射唱碟的價格下降，則鐳射唱碟機的價格會\_\_\_\_\_而鐳音帶的需求會\_\_\_\_\_。

A. 上升...增加  
B. 上升...減少  
C. 下降...增加  
D. 下降...減少

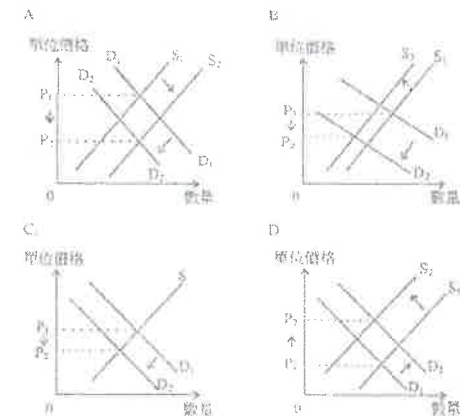
25. 1996.MC.Q56

當製造皮鞋的皮革供應有所增加時會引致下列各項後果，其中一項除外。該項是

A. 皮鞋需求有所增加。  
B. 皮鞋供應有所增加。  
C. 皮革需求有所增加。  
D. 皮鞋需求有所增加。

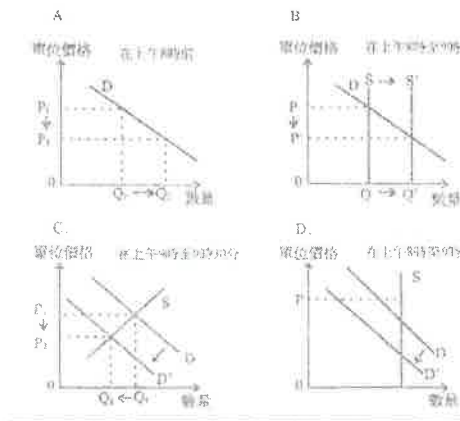
26. 1997.MC.Q5

瘋牛症在 1996 年出現時，有很多牛隻被毀滅。下列哪一幅圖將該事件對牛肉市場的影響描述得最恰當？



27. 1997.MC.Q6

香港地下鐵路公司鼓勵實施彈性上班時間計劃，以減低繁忙時間乘客的過份擁擠。因此，彌敦道幹線的乘客在上午 8 時前及在上午 9 時至 9 時30 分之間乘搭地鐵可獲減價優待。下列哪一幅圖可能是地下鐵路上述措施的一個結果？



28. 1997.MC.Q7

假設政府在 1997 年一月提高水費。這會導致什麼後果？

A. 水的需求下降。  
B. 家庭平均耗水量下降  
C. 政府的水費收益下降。  
D. 酒樓的生產成本下降，因為他們會減少用水。

29. 1998.MC.Q9

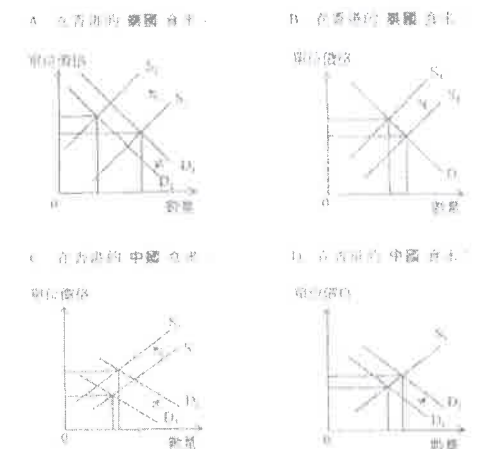
假設橙在香港的價格上升而其交易數量下跌。這可能因為

(1)運輸費用上升。  
(2)蘋果價格下跌。  
(3)已證明橙有助於減低感染傷風的機會。  
(4)橙在美國嚴重失收。

A. 只有(1)、(2)  
B. 只有(1)、(4)  
C. 只有(2)、(3)  
D. 只有(3)、(4)

30. 1998.MC.Q10

假設泰國稻米嚴重失收，輸往香港的出口下降。下列哪一項是該事件的一個結果？



31. 2000.MC.Q3

在上圖中，當價格  $P_1$  上升至  $P_2$  時，

A. 求過於供會消失。  
B. 交易量會下降。  
C. 總銷售收益必然上升。  
D. 只有當需求彈性弱時，總銷售收益才會上升。

32. 2000.MC.Q5

路邊咪錶泊車位 15 分鐘的泊車費由\$4 減至\$2 後，便愈難找到這種泊車位了。同時有報導謂在停車場內的泊車費維持每小時\$15 不變。下列哪一項對在路邊咪錶泊車位泊車的影響的描述是正確的？

A. 這可以用需求定律來解釋。  
B. 這是一項需求增加。  
C. 它的均衡數量有所減少。  
D. 它的需求彈性強

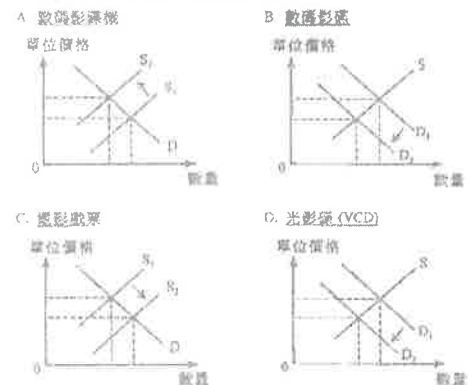
33. 2000.MC.Q9

下列哪項是聯合需求的例子？

A. 本地某公司的送遞文件服務和政府的郵政服務  
B. 機場快線鐵路服務和東涌線鐵路服務  
C. 雜誌和印刷用紙張  
D. 磁碟和磁碟驅動器

34. 2000.MC.Q12

生產數碼影碟(DVD)機的科技有所改善，下列哪一幅圖顯示這種科技改善的結果？



35. 2001.MC.Q3

「西瓜在這個夏天的銷量較去年高，而價格則較低。」這是因為西瓜的

- A. 需求增加了。
- B. 需求減少了。
- C. 供應增加了。
- D. 供應減少了。

36. 2001.MC.Q4

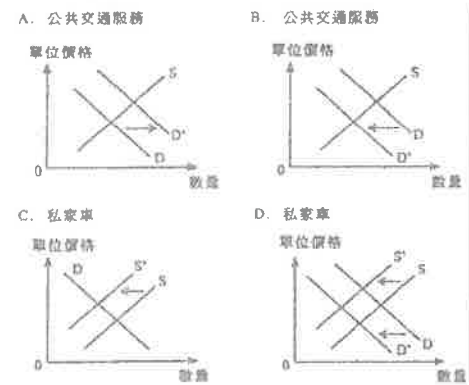
「一件貨品的價格上升會引致它的供應增加和對它的需求減少。」

上述句子是

- A. 正確的。因為價格改變會令供應和需求均改變。
- B. 不正確的。因為價格上升只會令供應增加。
- C. 不正確的。因為價格上升只會令需求減少。
- D. 不正確的。因為供應和需求均不會因價格改變而有所改變。

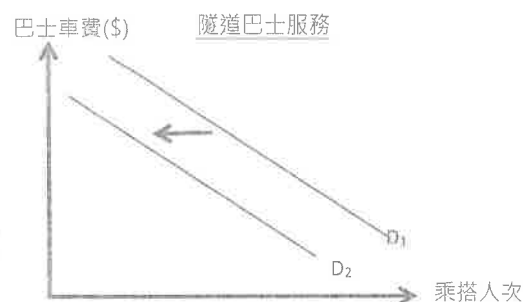
37. 2001.MC.Q5

政府大幅增加私家車牌照的年費。下列哪一幅圖顯示此舉的結果？



38. 2002.MC.Q7

參閱下圖



下列哪一種情況會導致圖中從 D1 到 D2 的需求改變？

- A. 計程車(即的士)的隧道費增加。
- B. 隧道巴士的服務班次增加。
- C. 巴士司機的工資率下降。
- D. 地鐵服務的票價下降。

39. 2002.MC.Q8


在某次豐收後，菜心的價格改變了 50%而交易量則改變了 40%。下列那項描述是正確的？

- (1) 菜心的需求量增加了。
- (2) 菜心的需求增加了。
- (3) 菜心的總銷售收益增加了。
- A. 只有(1)
- B. 只有(1)、(2)
- C. 只有(2)、(3)
- D. (1)、(2)及(3)

40. 2002.MC.Q50

中東戰爭爆發時，原本要飛經附近地區的民航機須繞道作更長途的飛行以避開戰區；而搭乘飛機旅行，要冒上更大的風險。

下列哪一幅圖不能正確顯示上述轉變的影響？



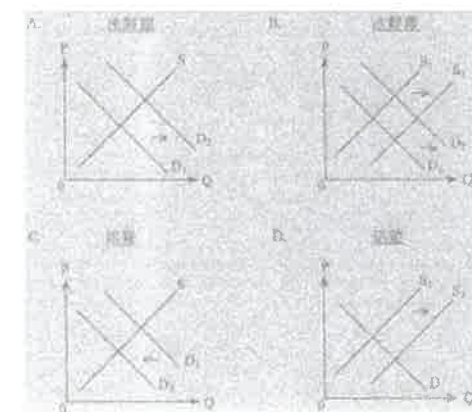
41. 2003.MC.Q8

某項研究指出，啤酒經證實含有一種有助骨骼健康成長的物質。這會導致啤酒的\_\_\_\_\_增加。

- (1) 供應
- (2) 交易量
- (3) 需求
- A. 只有(1)、(2)
- B. 只有(1)、(3)
- C. 只有(2)、(3)
- D. (1)、(2)、(3)

42. 2003.MC.Q14

下列哪一幅圖顯示從中國大陸來港的冰鮮雞儲藏及運輸費用大幅下降的結果？



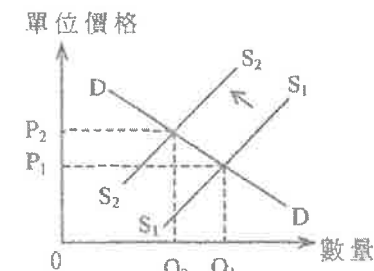
43. 2004.MC.Q5

假設通過法案將盜版光碟的買家加以懲罰。盜版光碟的價格會\_\_\_\_\_而交易量會\_\_\_\_\_。

- A. 上升 .... 增加
- B. 上升 .... 減少
- C. 下降 .... 增加
- D. 下降 .... 減少

44. 2004.MC.Q6

假設香港政府對公路使用者徵收費用。



上圖顯示上述收費對下列哪一個市場的影響？

- A. 地鐵服務
- B. 私家車
- C. 汽油
- D. 學校巴士服務

45. 2004.MC.Q8

- 假設某航空公司將它的票價減低。結果，
- 對它機型的需求會增加。
  - 它的乘客數量會增加。
  - 它的航機服務供應會增加。
  - 它的銷售收益會增加。

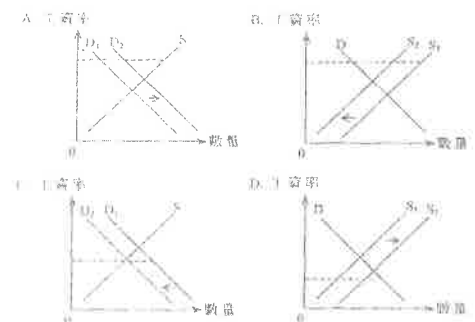
46. 2005.MC.Q4

假設傳統眼鏡的消費者漸改用隱形眼鏡。傳統眼鏡的均衡價格會因而\_\_\_\_\_，而傳統眼鏡銷售商的銷售收益則會\_\_\_\_\_。

- 上升 ..... 增加
- 上升 ..... 減少
- 下降 ..... 增加
- 下降 ..... 減少

47. 2005.MC.Q7

當香港有很多建築工人失業，澳門的建築業卻有工人短缺問題。假設澳門通過一條法例容許澳門從香港輸入建築工人，則關於該法例對澳門建築業的勞工市場的影響，下列那一幅圖會是最佳的描述？

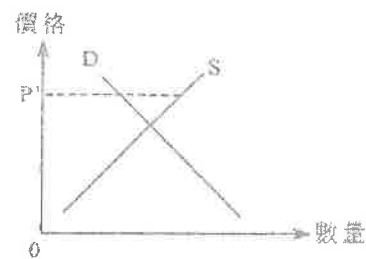


48. 2005.MC.Q9

- 在「更緊密經貿關係安排」(CEPA)下，中國政府對部份香港製造及出口到內地的貨品實施零關稅。結果是：在內地
- 這些貨品的價格會上升。
  - 這些貨品的價格會下降。
  - 在這些貨品上的總支出會上升。
  - 在這些貨品上的總支出會下降。

49. 2005.MC.Q13

某國政府將農產品價格固定在 $P'$ ，如下圖所示：



若肥料價格下降，則農產品的

- 求過於供量會更大。
- 交易量會增加。
- 銷售收益會增加。
- 供過於求量會更大。

50. 2006.MC.Q6

石油價格上升會導致\_\_\_\_\_減少。

- 石油的需求
- 小巴服務的需求
- 小巴服務的供應
- 小巴司機的供應

51. 2006.MC.Q7

現今香港有更多學校實施閱讀計劃以培養學生的閱讀習慣。這會導致書本的\_\_\_\_\_皆增加。

- 需求和供應
- 需求和供應量
- 供應和需求量
- 供應和供應量

52. 2006.MC.Q8

下列哪項會導致進口香港的日本電視機價格下降及銷售量上升？

- 香港從日本進口貨物的運輸費用增加。
- 香港從韓國進口更多類似型號而又較為廉宜的電視機。
- 日本生產電視機的技術有所進步。
- 香港的薪俸稅稅率下降。

53. 2006.MC.Q49

為了減少家居垃圾數量，政府計劃根據每一家庭丟棄的垃圾數量來徵收家居垃圾費。下列哪個概念可用來解釋上述政策？

- 需求定律
- 比較優勢原理
- 規模不經濟
- 邊際回報遞減定律

54. 2007.MC.Q5

假設生產液晶體電視機的技术進步了，液晶體電視機的價格會\_\_\_\_\_而傳統顯像管電視機的價格會\_\_\_\_\_。

- 上升 ..... 上升
- 上升 ..... 下降
- 下降 ..... 上升
- 下降 ..... 下降

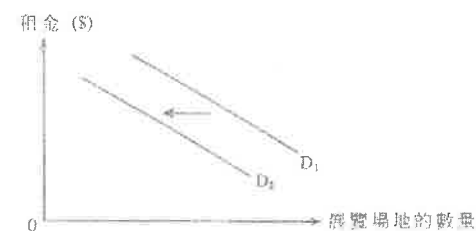
55. 2007.MC.Q10

導致汽油的全球市價及交易量都上升的一個可能原因是：

- 全球冬季的氣候較平常溫暖。
- 新興發展國家的工業高速發展。
- 石油輸出國組織將石油減產。
- 用以製造汽油的原油價格下降。

56. 2008.MC.Q4

下圖顯示香港展覽場地的市場。



下列哪項會導致圖中需求線從 $D_1$ 移至 $D_2$ ？

- 香港展覽場地的租金上升。
- 澳門展覽場地的租金上升。
- 香港舉辦貿易展覽會的數目增加。
- 澳門展覽場地的數量增加。

57. 2008.MC.Q6

近期上海股票市場過熱，與去年比較，某財經雜誌的售價由人民幣5元增加至人民幣8元，其銷售量上升了10%。

在上述個案中，

- 需求定律被推翻了。
- 該雜誌的需求曲線仍可以是向右下斜的。
- 該雜誌的需求屬低彈性。
- 該雜誌的供應屬高彈性。

58. 2008.MC.Q11

下表顯示食米的供需表：

單位價格 (\$)	需求量 (單位)	供應量 (單位)
5	10	25
4	13	20
3	15	15
2	20	10
1	27	5

若食米的管制價格由每單位\$2提高至每單位\$4，賣家的總銷售收益會從\_\_\_\_\_增加至\_\_\_\_\_。

- \$20 ..... \$45
- \$20 ..... \$48
- \$40 ..... \$48
- \$45 ..... \$48

59. 2009.MC.Q5

對\_\_\_\_\_的需求可視為\_\_\_\_\_的衍生需求。

- 牛肉 ..... 皮革
- 印刷用紙張 ..... 雜誌
- 流行歌曲 ..... MP3播放機
- 高清電視機頂盒 ..... 電視機

60. 2009.MC.Q6

麵粉的加價會導致\_\_\_\_\_的\_\_\_\_\_減少。

- 麵粉 ..... 需求
- 麵粉 ..... 供應
- 麵包 ..... 需求
- 麵包 ..... 供應



61. 2010.MC.Q6

假設進口稻米的價格及交易量皆下降。這可能是由下列哪項引致的？

- A. 燃料價格上升帶來運費的增加。
- B. 口味轉變，由食用稻米變為食用麵類。
- C. 稻米失收。
- D. 家庭收入增加，而稻米是正常物品。

62. 2011.MC.Q5

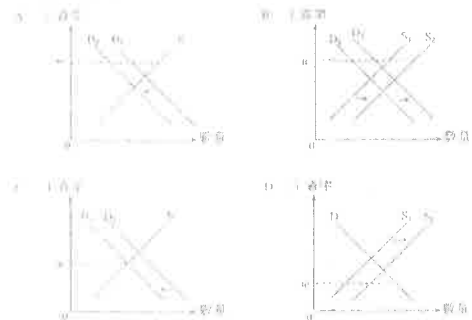
下列哪項是競爭性供應的例子？

- A. 光碟和光碟播放機
- B. 住宅樓宇和商業樓宇
- C. 教科書和印刷用紙張
- D. 麵包和牛油

63. 2011.MC.Q7

假設香港的菲傭在政府所訂的最低工資水平( $w$ )下有供過於求的現象。

又假設香港的雇主最近須為新聘菲傭額外購買一份保險。下列哪幅圖能正確反映上述香港菲傭市場的情況？



64. 2011.MC.Q9

政府針對塑膠購物袋實施環保徵費，而不織布袋則不用徵費。

假設不織布袋的生產商數目亦增加了。

結果，不織布袋的總銷售收益\_\_\_\_\_。

- A. 會增加
- B. 會減少
- C. 會維持不變
- D. 可能增加，可能維持不變，亦可能減少

65. DSE-SP.MC.Q16

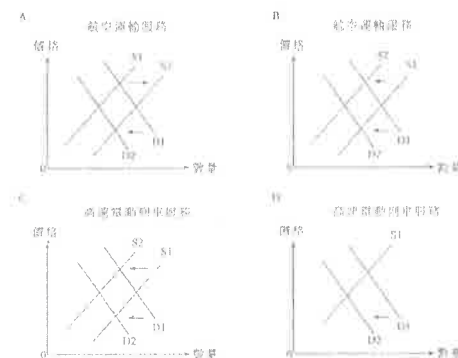
為了減低膠袋的使用量，政府計劃向消費者開徵一項收費，而這收費是按消費者從舖所取用的膠袋數量計算。

下列哪個概念可用來解釋上述政策？

- A. 需求定律
- B. 比較優勢原理
- C. 規模不經濟
- D. 邊際回報遞減定律

66. 2012.MC.Q13

一宗鐵路意外嚴重影響了乘客使用高速電動列車服務的信心。同時，航空公司正面對燃油價格上升的問題。下列那幅圖可代表上述事件的結果？



67. 2013.MC.Q10

當導出某物品的市場需求曲線時，下列哪項是假設不變的？

- (1) 消費者的收入
- (2) 該物品的價格
- (3) 相關物品的價格
- (4) 消費者的偏好
- A. 只有(1)、(3)
- B. 只有(2)、(3)
- C. 只有(1)、(2)、(4)
- D. 只有(1)、(3)、(4)

68. 2013.MC.Q12

在下列哪種情況下，物品 X 的價格下跌會令物品 Y 的價格下跌？

- (1) 物品 X 及物品 Y 是替代品。
- (2) 物品 X 及物品 Y 是輔助品。
- (3) 物品 X 及物品 Y 屬競爭性供應。
- (4) 物品 X 及物品 Y 屬聯合供應。
- A. 只有(1)、(3)
- B. 只有(1)、(4)
- C. 只有(2)、(3)
- D. 只有(2)、(4)

69. 2014.MC.Q12

下列哪一對物品中，對首先物品的需求會導致對次項物品的引伸需求？

- A. 航空服務及飛機師
- B. 西鐵線列車服務及輕鐵列車服務
- C. 藍光 (Blu-ray) 光碟及藍光光碟影碟機
- D. 香港迪士尼樂園和香港海洋公園

70. 2015.MC.Q10

下列哪項會引致活雞農場的總收入上升？

- A. 活雞飼料的價格下降。
- B. 政府調低對活雞農場的利得稅率。
- C. 出售活雞的有效配額有所提高。
- D. 政府減少對豬肉生產商的補貼。

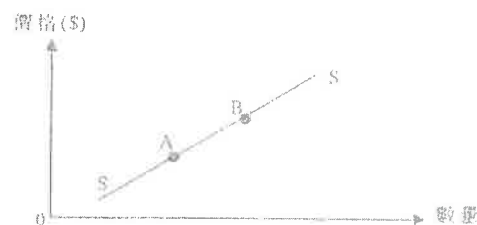
71. 2015.MC.Q14

其他因素維持不變，\_\_\_\_\_，物品 X 的價格上升會令物品 Y 的總收入下跌。

- A. 若物品 X 及物品 Y 是輔助品
- B. 若物品 X 及物品 Y 是替代品
- C. 若物品 X 及物品 Y 屬聯合供應
- D. 若物品 X 及物品 Y 屬競爭性供應

72. 2015.MC.Q15

智能電話的供應曲線是 SS。下列哪項原因最能解釋智能電話市場的均衡位置由 A 改變至 B？



- A. 零售商向購買智能電話的顧客提供更多贈品。
- B. 具備電話功能的平板電腦的體積縮小了。
- C. 市場上有更多智能電話生產商。
- D. 主要的流動網絡服務供應商同時提高他們的服务收費。

73. 2016.MC.Q13

下列哪種情況會令私人房屋的需求增加？

- A. 私人房屋的價格下降。
- B. 公共房屋的供應上升。
- C. 人們預期按揭貸款的利率稍後會上升。
- D. 人們預期私人房屋的價格稍後會上升。

74. 2016.MC.Q14

\_\_\_\_\_ 的需求可被視為 \_\_\_\_\_ 的引中需求。

- A. 咖啡豆 ..... 咖啡
- B. 自拍桿 ..... 數碼相機
- C. 雞翼 ..... 雞腿
- D. 報紙 ..... 印刷用紙

75. 2016.MC.Q17

在下列哪種情況下，香港建築工人的需求會上升？

- A. 市區重建的法律程序簡化了。
- B. 建築工人的工資率下降。
- C. 政府向建築業的培訓計劃提供更多津貼。
- D. 澳門建築業的工作機會減少。

76. 2017.Q14

下列哪種情況最有可能導致蘋果公司生產的 iPhone 的需求上升？

- A. 電池技術突破令其生產成本下降。
- B. 人們預期下一款的 iPhone 會有更多創新的特點。
- C. 三星公司的一款智慧手機被證實與蘋果公司禁止搬運手機。
- D. 蘋果公司調低 iPhone 的售價。

77. 2017.Q17

假設物品 Y 是劣等物品。當人們的收入增加而物品 Y 的生產成本上升，物品 Y 的均衡價格 \_\_\_\_\_。

- A. 會上升。
- B. 會下降。
- C. 會維持不變。
- D. 可能上升或下降。

78. 2019.Q12

下表顯示日本產優質水果和普通水果在日本和香港兩地的銷量，假設兩地消費者對日本產水果的偏好相近。

	日本產優質水果銷量 (單位)	日本產普通水果銷量 (單位)
日本	50	200
香港	$Q_1$	$Q_2$

假設這兩種水果由日本運至香港的費用相同，下列哪項／些數據與需求定律相符？

- (1)  $Q_1 = 30$ ； $Q_2 = 140$
- (2)  $Q_1 = 40$ ； $Q_2 = 150$
- (3)  $Q_1 = 45$ ； $Q_2 = 180$

- A. 只有 (1)
- B. 只有 (2)
- C. 只有 (3)
- D. 只有 (1)、(3)

79. 2020.Q12

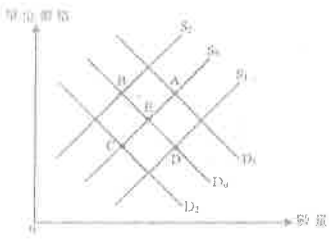
當導出某物品的市場供應曲線時，下列哪項／些會假設為不變？

- (1) 該物品的市場價格
- (2) 該物品的生產要素價格
- (3) 預期該物品在將來的價格

- A. 只有 (1)
- B. 只有 (2)
- C. 只有 (3)
- D. 只有 (2)、(3)



參閱以下物品 Y 的供需圖。



假設物品 Y 是劣等物品，而原初市場均衡點是 E，若消費者的平均收入水平下降，新的市場均衡點會是\_\_\_\_\_。

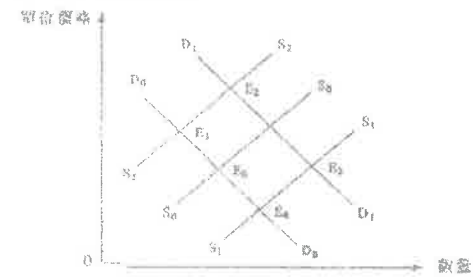
- A. A
- B. B
- C. C
- D. D

02MC1 答案

1	D	11	B	21	A	31	C	41	C
2	D	12	A	22	D	32	A	42	C
3	C	13	D	23	A	33	D	43	D
4	A	14	B	24	B	34	D	44	D
5	D	15	C	25	A	35	C	45	B
6	C	16	B	26	B	36	D	46	D
7	A	17	A	27	A	37	A	47	D
8	C	18	C	28	B	38	D	48	B
9	A	19	A	29	B	39	A	49	D
10	A	20	D	30	D	40	D	50	C

51	B	61	B	71	A
52	C	62	B	72	A
53	A	63	A	73	D
54	D	64	D	74	A
55	B	65	A	75	A
56	D	66	D	76	C
57	B	67	D	77	D
58	B	68	A	78	B
59	B	69	A	79	D
60	D	70	D	80	A

## 1. 1991.MC.Q12

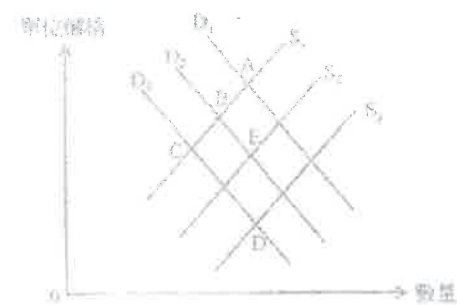


上圖顯示蘋果的市場情況。E0 是原來均衡點。如果人口增加和蘋果豐收，新的均衡點會是

- A. E<sub>1</sub>。
- B. E<sub>2</sub>。
- C. E<sub>3</sub>。
- D. E<sub>4</sub>。

## 2. 1998.MC.Q8

下圖顯示香煙的供應曲線和需求曲線。原來的均衡點是 E。

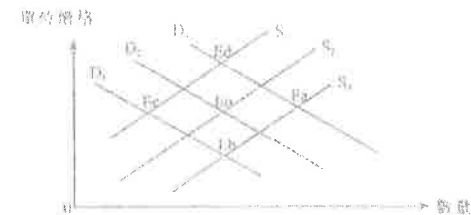


設政府提高家庭入息稅和香煙銷售稅。新的均衡點是

- A. A 點。
- B. B 點。
- C. C 點。
- D. D 點。

## 3. 1999.MC.Q12

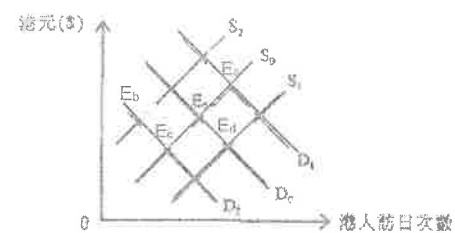
在下圖中，E<sub>0</sub> 是香港成衣產品在美國市場的原來均衡點。假設美國提高進口稅，而很多美國零售商原本是向香港落訂單的，現在改為向其他亞洲國家落訂單。那麼圖中新的均衡點便是



- A. E<sub>a</sub>
- B. E<sub>b</sub>
- C. E<sub>c</sub>
- D. E<sub>d</sub>

## 4. 2000.MC.Q7

下圖顯示香港人往日本旅遊的市場，起始均衡點是 E<sub>0</sub>。由於經濟衰退，香港人減少前往日本度假。此外，日圓兌港元升值

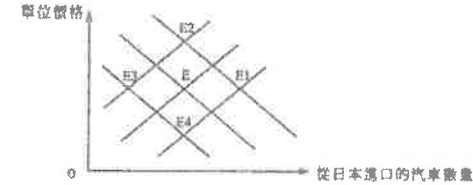


市場的新均衡點是

- A. E<sub>a</sub>
- B. E<sub>b</sub>
- C. E<sub>c</sub>
- D. E<sub>d</sub>

## 5. 2001.MC.Q10

以下是香港從日本進口的汽車供需圖。最初的均衡點是 E。

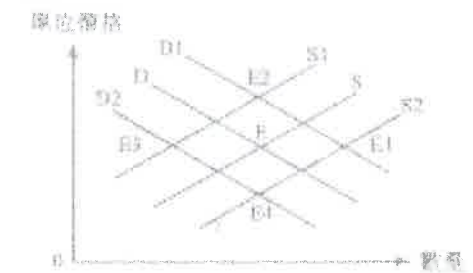


若從日本至香港的運費上升，及有更多類型相似而價格較低廉的韓國汽車進口香港，則新的均衡點是

- A. E<sub>1</sub>。
- B. E<sub>2</sub>。
- C. E<sub>3</sub>。
- D. E<sub>4</sub>。

## 6. 2002.MC.Q9

下圖顯示香港的飛機票市場供需圖。E 是原始均衡點。

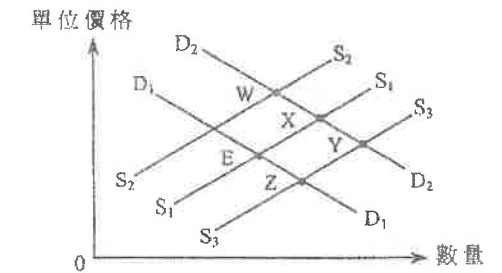


假設由於恐怖襲擊，往外國旅行的人數減少，而且航空公司的保險費上升至高水平。新的均衡點會在

- A. E<sub>1</sub>。
- B. E<sub>2</sub>。
- C. E<sub>3</sub>。
- D. E<sub>4</sub>。

## 7. 2004.MC.Q7

下圖顯示香港口罩市場的供需。原始均衡點是E。

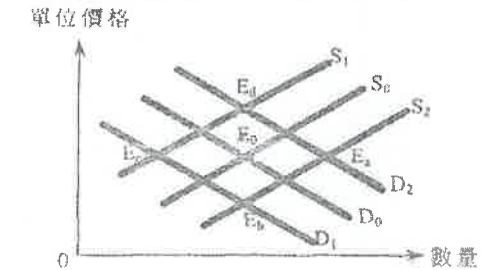


假設有更多人為防止呼吸系統疾病傳播而決定戴上口罩，同時生產口罩的廠商數目增加，新的均衡點會是

- A. W
- B. X
- C. Y
- D. Z

## 8. 2005.MC.Q5

在下圖中，E<sub>0</sub>是香港海鮮市場的原來均衡點。

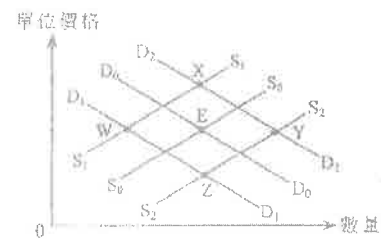


去年多名市民因為進食海鮮而中毒，與此同時漁民的漁獲也減少。因此，圖中新的均衡點會是

- A. E<sub>a</sub>
- B. E<sub>b</sub>
- C. E<sub>c</sub>
- D. E<sub>d</sub>

## 9. 2006.MC.Q5

下圖顯示私人樓宇市場，E點是原來均衡點。

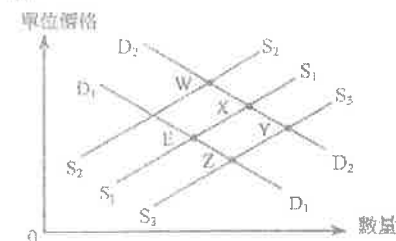


假設樓宇按揭貸款利率和建造私人樓宇的勞工成本兩者皆上升。圖中新均衡點會是

- A. W
- B. X
- C. Y
- D. Z

## 10. 2007.MC.Q4

下圖顯示澳門酒店住宿的供需線。E是原來均衡點。

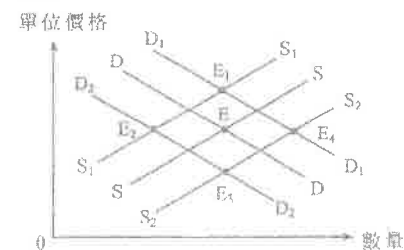


當澳門有愈來愈多酒店開業，往澳門旅遊亦變得愈來愈普及，新的均衡點會是\_\_\_\_\_。

- A. W
- B. X
- C. Y
- D. Z

## 11. 2008.MC.Q5

下圖顯示香港住宅樓宇的供需線。E是原來的均衡點。

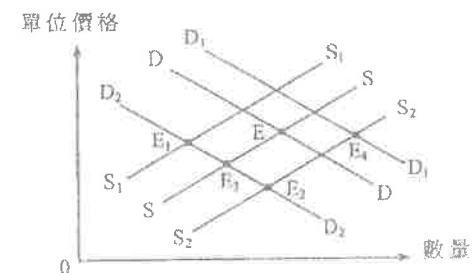


若本港人口增加，本地建築工人的工資率亦上升，那麼新的均衡點會在\_\_\_\_\_。

- A. E<sub>1</sub>
- B. E<sub>2</sub>
- C. E<sub>3</sub>
- D. E<sub>4</sub>

## 12. 2009.MC.Q7

下圖顯示中國內地奶製品在香港市場的供需線。E是原始均衡點。

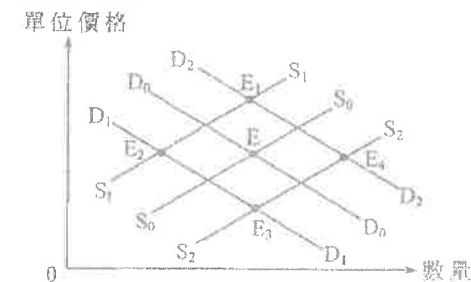


這些奶製品之中，部份被發現含有有害物質三聚氰胺。另外，內地奶製品的生產商中有一部份退出這個行業。上圖一個可能的新的均衡點是\_\_\_\_\_。

- E. E<sub>1</sub>
- F. E<sub>2</sub>
- G. E<sub>3</sub>
- H. E<sub>4</sub>

## 13. 2010.MC.Q8

下圖顯示人類豬型流感疫苗在香港的供需線。E是原始均衡點。

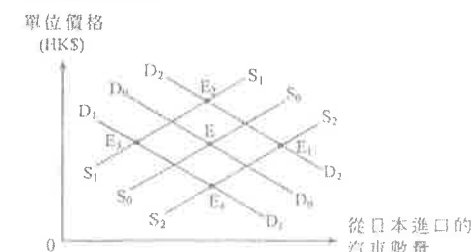


假設人類豬型流感疫苗製造商的數目增加了，同時感染該症的風險也上升了，上圖一個可能的新的均衡點是\_\_\_\_\_。

- A. E<sub>1</sub>
- B. E<sub>2</sub>
- C. E<sub>3</sub>
- D. E<sub>4</sub>

## 14. 2011.MC.Q6

下圖顯示香港從日本進口的汽車的供需線。最初的均衡點是E點。

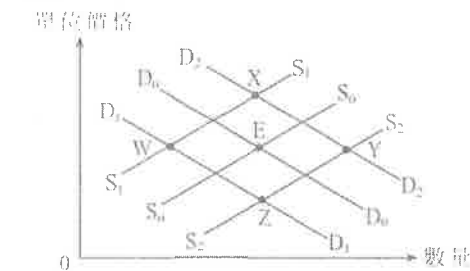


假設有傳言謂日本汽車因有功能失誤而可能導致交通意外。同時，日圓兌港元升值。新的均衡點會在\_\_\_\_\_點。

- A. E<sub>1</sub>
- B. E<sub>2</sub>
- C. E<sub>3</sub>
- D. E<sub>4</sub>

## 15. DSE-SP.MC.Q15

下圖顯示倫敦的酒店住宿市場，E點是原本的均衡點。

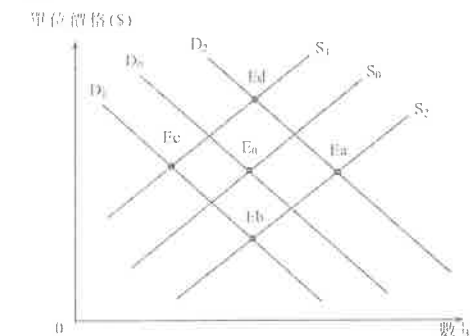


假設在倫敦的地鐵站發生炸彈襲擊事件及酒店營運成本上升。在圖中新均衡點將會是\_\_\_\_\_。

- A. W
- B. X
- C. Y
- D. Z

## 16. DSE-PP.MC.Q10

在下圖中，E<sub>0</sub>是本港印刷書籍市場的期初均衡點。

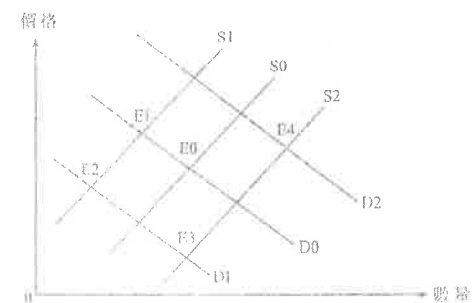


假設閱讀電子書籍成為趨勢，而印刷用紙的價格上升。圖中新均衡點會是\_\_\_\_\_。

- A. E<sub>a</sub>
- B. E<sub>b</sub>
- C. E<sub>c</sub>
- D. E<sub>d</sub>

## 17. 2012.MC.Q15

以下是某物業市場的供需圖，E0 是起初的均衡點。



若政府向樓宇買家徵收較高的印花稅並收緊對棄置建築廢料的限制，該物業市場新的均衡點會是\_\_\_\_\_。

- A. E1
- B. E2
- C. E3
- D. E4

## 18. 2013.MC.Q11

參閱以下有關本港名貴手錶市場的供需圖，原初的均衡點是 E0。

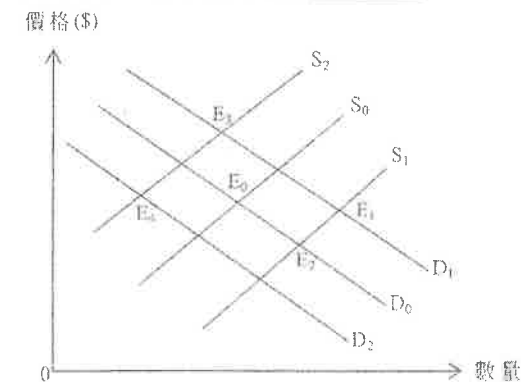


假設本港商舖的租金大幅上升，而內地的經濟出現衰退。新的均衡點會是\_\_\_\_\_。

- A. E1
- B. E2
- C. E3
- D. E4

## 19. 2014.MC.Q14

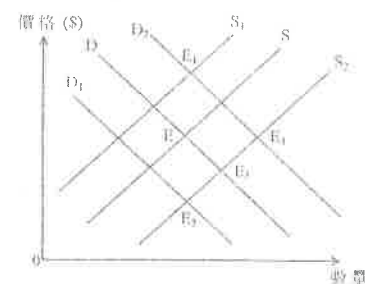
假設香港整容手術市場的原初均衡點是 E0。若人們對整容手術日漸接受，而政府對整容手術行業實施更多規管，新的均衡點會是\_\_\_\_\_。



- A. E1
- B. E2
- C. E3
- D. E4

## 20. 2016.MC.Q16

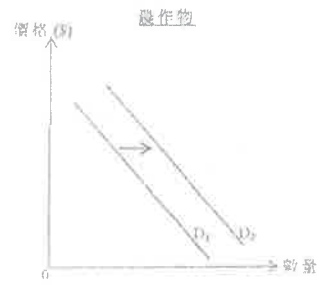
下圖顯示香港的士服務的供應和需求曲線。原初的均衡在 E 點。



新開發的智能手機應用程式如優步 (Uber)，令一些私家車車主能對公眾提供直達目的地的個人化運輸服務。同時，燃油價格大幅下降。新的均衡點會在\_\_\_\_\_。

- A. E1
- B. E2
- C. E3
- D. E4

21 2018 Q13

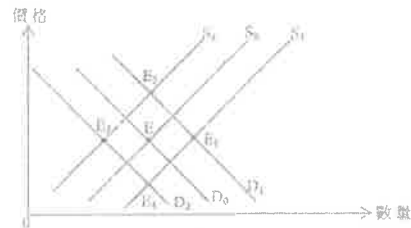


參考上圖，農具的價格會

- A. 上升，因為農作物和農具屬聯合需求。
- B. 下降，因為農作物和農具屬聯合需求。
- C. 上升，因為農作物的需求衍生出對農具的引伸需求。
- D. 下降，因為農作物的需求衍生出對農具的引伸需求。

22 2018 Q16

下圖顯示空氣清新機的供應曲線。原初的均衡點是 E。



假設空氣清新機的生產技術有所提升，同時，平均空氣污染指數近十年不斷上升，新的均衡點是\_\_\_\_\_。

- A. E<sub>1</sub>
- B. E<sub>2</sub>
- C. E<sub>3</sub>
- D. E<sub>4</sub>

23 2018 Q20

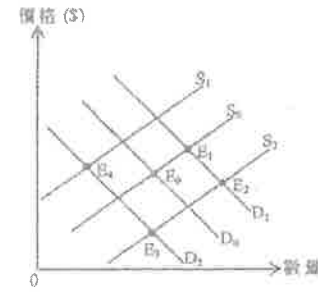
下表顯示本港新註冊 Tesla 電動車的數量。

月份	本港新註冊 Tesla 電動車的數量
2016 年 12 月	168
2017 年 1 月	168
2017 年 2 月	590
2017 年 3 月	2939

政府在 2017 年二月中公布電動車首次登記稅的全額減免會在 2017 年 3 月 31 日完結。

下列哪項最能解釋上述資料？

- A. 電動車的供應增加了，因為新技術減低電動車用電池的生產成本。
- B. 電動車的供應增加了，因為政府豁免首次登記稅。
- C. 電動車的需求增加了，因為政府在本港興建更多充電站。
- D. 電動車的需求增加了，因為買家預期購買電動車的未來會上升。

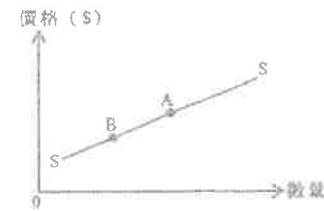
以下是電競設備的供需圖。原初的均衡點是 E<sub>0</sub>。

假設政府透過補貼電競設備製造商及電競訓練項目以推廣電競，新的均衡點是\_\_\_\_\_。

- A. E<sub>1</sub>
- B. E<sub>2</sub>
- C. E<sub>3</sub>
- D. E<sub>4</sub>

25 2019 Q17

電動車的供應曲線是 SS。下列哪項原因最能解釋電動車市場均衡點由 A 改變到 B？



- A. 所有電動車代理商提供更長的保養期。
- B. 政府取消購買電動車的補貼。
- C. 汽油供應商大幅增加汽油價格。
- D. 充電站的興建成本大幅下降。

26. 2021 Q13

對\_\_\_\_\_的需求可視為對\_\_\_\_\_的衍生需求。

- A. 手提電話 ... 耳機
- B. 手提電腦 ... 電池
- C. 音樂短片 ... 歌手
- D. 遊戲程式員 ... 網上遊戲



當物品 X 和物品 Y 是 \_\_\_\_\_，物品 X 的供應下降會令物品 Y 的 \_\_\_\_\_ 上升。

- A. 替代品 供應  
B. 替代品 供應量  
C. 輔助品 需求  
D. 輔助品 供應量

## 02MC2 答案

1	C	11	A
2	C	12	A
3	C	13	D
4	B	14	C
5	C	15	A
6	C	16	C
7	C	17	B
8	C	18	B
9	A	19	C
10	C	20	B

- 21C 24B  
22A 25B  
23D 26D  
27B

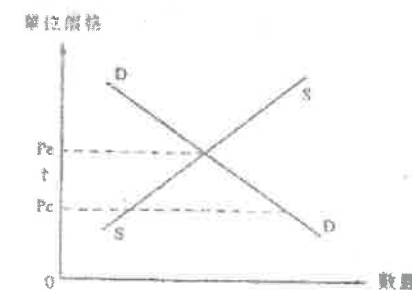
## 1. 1991.MC.Q19

價格	需求量 (單位)	總收益
\$2	10	\$20
4	6	24
6	4	24
8	3	24
10	1	10

在以下哪一段價格範圍內需求屬單一彈性？

- A. \$2 至\$6  
B. \$2 至\$8  
C. \$4 至\$8  
D. \$4 至\$10

## 2. 1992.MC.Q26



上圖顯示物品 X 的價格和數量。在價格上限取消後價格由  $P_c$  上升至  $P_e$ 。

物品 X 的消費總值會

- A. 因此而增加。  
B. 因此而減少。  
C. 維持不變。  
D. 增加或減少，視乎它的價格需求彈性而定。

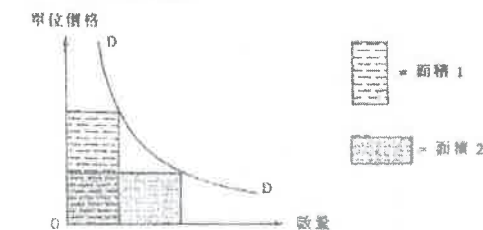
## 3. 1992.MC.Q28

設小麥的需求彈性高。若小麥失收，以下哪項會下跌或減少？

- (1)小麥價格  
(2)購買小麥總支出  
(3)對小麥的需求  
(4)小麥交易量

- A. 只有(1)、(2)  
B. 只有(1)、(3)  
C. 只有(2)、(4)  
D. 只有(3)、(4)

## 4. 1993.MC.Q25



如沿上圖曲線 DD 的各點需求彈性都是單位彈性時，面積 1 \_\_\_\_\_ 面積 2。

- A. 相等於  
B. 大於  
C. 小於  
D. 可大於亦可小

## 5. 1993.MC.Q28

天雨期間，雨傘的價格上升 10%，銷售量增加 15%。在這種情況下，雨傘的價格需求彈性或價格供應彈性是怎樣的？

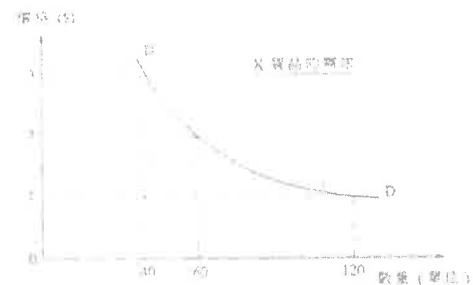
- A. 需求有彈性  
B. 需求缺乏彈性  
C. 供應有彈性  
D. 供應缺乏彈性

## 6. 1993.MC.Q29

一商品被徵稅。在該商品的需求 \_\_\_\_\_ 彈性及供應 \_\_\_\_\_ 彈性時，消費者的稅負擔較輕

- A. 有；有  
B. 有；缺乏  
C. 缺乏；有  
D. 缺乏；缺乏

## 7. 1995.MC.Q7



X 貨品的需求屬

- A. 有彈性
- B. 單一彈性
- C. 完全彈性
- D. 缺乏彈性

## 8. 1996.MC.Q10

某研究指出，巴士票價的改變對上午 9 時前的乘客數量並無影響，但對上午 9 時後時後的乘客數量卻有影響；這些乘客數量的變動百分比大於票價變動的百分比。若要取得最大銷售收益，巴士公司應該怎樣做？

- A. 無論在上午 9 時前或後都提高票價。
- B. 在上午 9 時前票價維持不變，但在上午 9 時後減價。
- C. 在上午 9 時前加價，但在上午 9 時後減價。
- D. 在上午 9 時前票價維持不變，但在上午 9 時後加價

## 9. 1997.MC.Q8

若泰國食米嚴重失收香港花費在泰國食米的總支出會

- A. 因而上升，因為價格上升。
- B. 因而下降，因為有替代品。
- C. 大致與前一樣，因為有替代品。
- D. 可能上升或下降，這取決於泰國食米的需求價格彈性

## 10. 1997.MC.Q9

在下列哪一種情況下，經紅磡的海底隧道服務的需求價格彈性會降低？

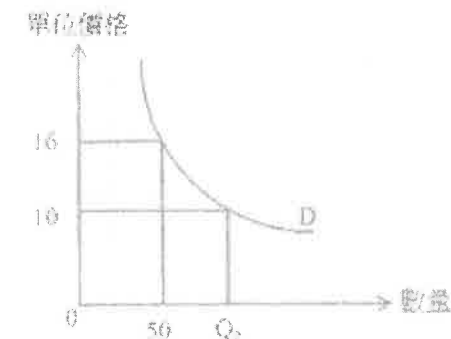
- A. 隧道收費由\$10 提高至\$30。
- B. 西區海底隧道通車。
- C. 東區海底隧道關閉做維修工作。
- D. 在荃灣和灣仔之間有渡海水翼船投入服務

## 11. 1997.MC.Q10

假設地下鐵路短程 (X) 和渡海 (Y) 的收費分別提高 6.9% 和 13.6%。若 X 和 Y 的需求量分別下跌 8% 和 3.5%，下列哪一項是正確的？

- A. X 和 Y 的需求都屬彈性高。
- B. X 和 Y 的需求都屬彈性低。
- C. X 與 Y 相比，前者需求彈性較低。
- D. X 與 Y 相比，前者需求彈性較高

## 12. 1998.MC.Q5



上圖中，若需求是單一彈性， $Q_2$  便是

- A. 60
- B. 75
- C. 80
- D. 100

## 13. 1998.MC.Q6

設物品 X 的單位價格從 \$2 上升至 \$2.8，而其需求量則改變 20%。下列哪一項是正確？

- A. 物品 X 的價格上升導致其需求量下跌，而該下跌的百分比大於價格上升的百分比。
- B. 物品 X 的價格上升導致其銷售收益上升。
- C. 物品 X 的需求彈性是 0.4。
- D. 物品 X 需求量的改變小於其價格的改變

## 14. 2000.MC.Q10

物品 X 的需求彈性是 1.2。在供應減少後，均衡數量下降 30%。均衡價格會

- A. 增加 25%。
- B. 減少 25%。
- C. 增加 36%。
- D. 減少 36%

## 15. 2001.MC.Q6

小欣說：「我很喜歡攝影。即使菲林的價格上升了 30%，我在菲林上的開支仍會維持不變。」小欣對菲林的需求屬

- A. 完全無彈性。
- B. 低彈性。
- C. 高彈性。
- D. 單一彈性

## 16. 2003.MC.Q5

下列哪一項會增加地下鐵路運輸服務的需求彈性？

- A. 削減與地鐵路線相近的巴士線。
- B. 地鐵減乘客票價。
- C. 九廣鐵路開設與地鐵路線相近的新路線。
- D. 地鐵的營運費用下降。

## 17. 2003.MC.Q7

下圖的需求線 DD 是一條直線。



A 點是需求線 DD 的中點。若單位價格由 \$8 增加至 P，總收益

- A. 會大於 \$80。
- B. 會等於 \$80。
- C. 會少於 \$80。
- D. 可能大於，亦可能少於 \$80。

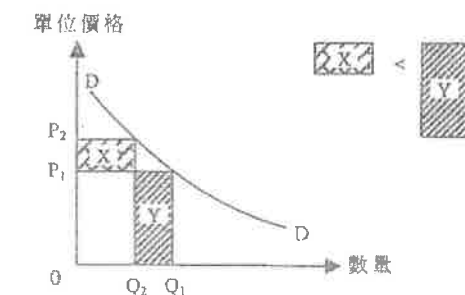
## 18. 2003.MC.Q13

一名市場研究員向經理提交報告：「即使我們減價以刺激銷量，銷售收益仍會維持不變。這是由於我們產品的需求彈性所導致的。」

根據他所言，他們產品的需求屬

- A. 完全無彈性。
- B. 低彈性。
- C. 高彈性。
- D. 單一彈性

## 19. 2004.MC.Q9



上圖中 DD 是一條需求曲線。在  $P_1$  至  $P_2$  的價格範圍內，需求彈性

- A. 小於 1。
- B. 等於 1。
- C. 大於 1。
- D. 可能小於 1 或大於 1，視乎  $P_1$ 、 $P_2$ 、 $Q_1$  及  $Q_2$  的實際數值而定。

## 20. 2005.MC.Q12

下表顯示某物品的價格與其總銷售收益之間的關係。

價格 (\$)	1	2	3
總銷售收益 (\$)	100	200	300

在上述價格範圍內，該物品的需求彈性

- A. 等於零。
- B. 大於零及小於一。
- C. 等於一。
- D. 大於一。

21. 2006.MC.Q9

因恐懼禽流感爆發，人們傾向減少食用活家禽而增加食用罐頭食品。因此，某牌子罐頭食品的價格改變了50%，交易量則由每月1 000罐增加至每月1 350罐。

我們可得結論如下：在上述價格範圍內，該罐頭食品的

- A. 需求屬高彈性。
- B. 需求屬低彈性。
- C. 供應屬高彈性。
- D. 供應屬低彈性。

22. 2007.MC.Q9

下表顯示物品X的價格與其銷售收益的關係。

價格 (\$)	10	20	30
銷售收益 (\$)	1 000	1 500	2 000

在上述價格範圍內，物品X的需求彈性

- A. 等於零。
- B. 大於零及小於1。
- C. 等於1。
- D. 大於1。

23. 2008.MC.Q10

香港出現高清電視廣播後，更多人選擇購買高清電視機。在甚麼條件下高清電視機的市價會維持不變？

- A. 消費者的收入上升。
- B. 政府給予低收入人士一筆現金資助以購買高清電視機。
- C. 高清電視機的需求完全缺乏彈性。
- D. 高清電視機的供應屬完全高彈性。

24. 2009.MC.Q9

陳先生不時因公幹往返香港、北京兩地。在去年，即使飛機票價上升了50%，陳先生在飛機票上的總支出不變。假設陳先生去年對飛機票的需求和之前一年相同，他去年對飛機票的需求屬於

- A. 完全無彈性。
- B. 低彈性。
- C. 單一彈性。
- D. 高彈性。

25. 2009.MC.Q10

假設由於人們更普及地使用iPod(一種可攜式媒體播放器)，傳統MP3播放器的價格下跌了40%，其銷售量改變了50%。

這顯示傳統MP3播放器在該價格範圍內的

- A. 需求彈性高。
- B. 需求彈性低。
- C. 供應彈性高。
- D. 供應彈性低。

26. 2010.MC.Q7

多數香港人用煤氣或電力煮食。假設電費大幅增加，消費者的電費總支出\_\_\_\_\_而煤氣費總支出則\_\_\_\_\_。

- A. 會減少 ... 會增加
- B. 會增加 ... 可能增加，亦可能減少
- C. 可能維持不變 ... 會減少
- D. 可能增加，亦可能減少 ... 會增加

27. 2010.MC.Q9

物品X的需求彈性是1。下列哪項對物品X的描述是正確的？

- A. 它的價格上升不會影響它的需求量。
- B. 它的代替品的價格上升不會影響它的需求量。
- C. 對它徵收從量稅不會影響消費者在該物品上的支出。
- D. 政府給予該物品的從量津貼不會影響賣家包括津貼額在內的總收益。

28. 2010.MC.Q10

假設物品Y的需求增加導致它的價格及交易量分別改變了10%及5%。下列哪項可以解釋它的價格及交易量改變的幅度？

- A. 該物品是慣性使用的物品。
- B. 該物品沒有近似的代替品。
- C. 生產該物品的廠商有剩餘生產力。
- D. 生產該物品的廠商使用了更專門的生產要素。

29. 2011.MC.Q10

某賣家發現當他將物品X的價格由\$10提高至\$12，每日總銷售收益由\$1 000增加至\$1 200。

根據以上資料，在該段價格範圍內，物品X的需求彈性是\_\_\_\_\_。

- A. 零
- B. 大於零但小於壹
- C. 等於壹
- D. 大於壹

30. 2011.MC.Q11

在去年復活節假期期間，泰國的政局不穩導致飛往當地的機票價格下降了50%，而其售出數量改變了70%。

這意味在該時期及上述價格範圍內，飛往泰國的機票的\_\_\_\_\_。

- A. 需求屬高彈性。
- B. 需求屬低彈性。
- C. 供應屬高彈性。
- D. 供應屬低彈性。

31. Sample Paper.MC.Q14

在冬季，婦女傾向購買更多補濕面霜。結果，某品牌的瓶裝保濕面霜的價格轉變了 20 %，成交量則由每月2 000 瓶升至2 800 瓶。我們可得結論如下：在上述的價格範圍內，這瓶裝保濕面霜的

- A. 需求屬高彈性。
- B. 需求屬低彈性。
- C. 供應屬高彈性。
- D. 供應屬低彈性。

32. Practice Paper.MC.Q9

假設原油出口國政局不穩。結果，汽油的價格增加 30%，而汽油的交易量改變了15%。我們可以得出結論如下：

- A. 汽油的需求屬高彈性。
- B. 汽油的需求屬低彈性。
- C. 汽油的供應屬高彈性。
- D. 汽油的供應屬低彈性。

33. 2012.MC.Q11

米雪是珠寶愛好者。她或：「我會將我全部的月薪花在珠寶上，不論它的價格如何。」由此我們可得出結論：她對珠寶的需求屬

- A. 高彈性。
- B. 低彈性。
- C. 單一彈性。
- D. 完全沒有彈性。

34. 2012.MC.Q12

由於天氣持續惡劣，本地蔬菜的交易量下降了40%，而價格上升了13%。下列哪些陳述是正確的？

- (1) 本地蔬菜的需求量下降。
- (2) 本地蔬菜的總支出上升。
- (3) 進口蔬菜的需求上升。
- (4) 進口蔬菜的總支出可能上升或下降，按其需求彈性而定。

- A. 只有(1)、(2)
- B. 只有(1)、(3)
- C. 只有(2)、(4)
- D. 只有(3)、(4)

35. 2014.MC.Q13

下列哪項會減低對機場快線列車服務的需求彈性？

- A. 有更多來往不同地區的機場巴士路線。
- B. 客貨車不准在機場接載乘客。
- C. 機場快線的車費增加。
- D. 機場快線列車的維修費用增加。

36. 2015.MC.Q11

下表顯示雪糕的價格和顧客對雪糕的總支出的關係。

單位價格 (\$)	5	6	7	8
總支出 (\$)	25	30	35	40

我們可從上表得出結論：雪糕的需求彈性是 \_\_\_\_\_ (不理會其負號)。

- A. 在零和 -1 之間
- B. 等於零
- C. 大於 -1
- D. 等於 -1

37. 2016.MC.Q15

物品 X 的生產成本下降，導致其價格和交易量分別改變了 5% 和 10%。下列哪項最能解釋上述的改變？

- A. 物品 X 是一種耐用物品。
- B. 物品 X 沒有接近的替代品。
- C. 生產物品 X 的廠商有剩餘的產能。
- D. 物品 X 的生產要素並不容易找到。

38. 2017.Q15

看看下列對話。

甲：我酷愛咖啡，不論其價格如何轉變，每週我總是購買相同數量的咖啡。

乙：我也酷愛咖啡！不論其價格如何轉變，每週我總是花費相同金額購買咖啡。

根據上述對話，乙對咖啡的需求屬 \_\_\_\_\_，而甲對咖啡的需求屬 \_\_\_\_\_。

- A. 完全沒有彈性……完全沒有彈性
- B. 完全沒有彈性……單一彈性
- C. 單一彈性……完全沒有彈性
- D. 單一彈性……單一彈性

39. 2018.Q17

豬柳蛋漢堡的原價是每個 \$11，麥當勞推出下列的限時折扣。



結果，更多人在優惠期間購買豬柳蛋漢堡。下列哪項有關這情況的陳述是正確的？

- A. 在優惠期間麥當勞沒有爭取最高利潤。
- B. 豬柳蛋漢堡的需求在優惠期間會上升。
- C. 若需求屬高彈性，消費者對豬柳蛋漢堡的總支出會上升。
- D. 製作豬柳蛋漢堡所需的食材會暫時出現短缺。

40. 219.Q11

細閱以下報章摘要：

登革熱恐襲襲港——上星期本港有 19 人確診在本地感染蚊病。登革熱是由白紋伊蚊傳播給人類，而白紋伊蚊是在本港常見的蚊子。

假設上述新聞發佈後，本港售賣的蚊怕水的價格和數量隨即分別轉變了 5% 和 120%，這顯示了在這段時間和價格範圍內，本港蚊怕水的 \_\_\_\_\_。

- A. 供應屬高彈性
- B. 供應屬低彈性
- C. 需求屬高彈性
- D. 需求屬低彈性

41. 2019.Q15

港怡醫院是一所新的私家醫院，於 2017 年初在黃竹坑開幕。港怡醫院以加薪 50% 來吸引公立醫院有經驗的護士轉職。

根據以上資料，在港怡醫院開幕後，下列哪項陳述是正確的？

- A. 若護士的需求屬高彈性，公立醫院有經驗的護士的工資率會上升超過 50%。
- B. 公立醫院有經驗的護士的供應會減少。
- C. 公共醫療服務的需求彈性會下降。
- D. 公共醫療服務的輪候時間會維持不變。

42. 2020.Q11

當澳洲紅酒的價格由 \$70 下降至 \$50，其需求量由 100 單位上升至 122 單位。在上述的價格範圍內，澳洲紅酒需求的弧彈性是多少？

- A. 0.59
- B. 0.77
- C. 1.30
- D. 1.68

某非牟利組織支持增加香煙稅。該組織透露，香煙價格每增加 10%，香煙總成交量則下降 4%。下列哪項關於香煙稅的陳述是**不正確**的？

- A. 上述個案說明了需求定律。
- B. 在增加香煙稅後，對香煙的總支出會增加。
- C. 增加香煙稅可能導致收入不均加劇。
- D. 香煙稅有助於減輕香煙生產不足的問題。

參考以下新聞。

為了減重車禍，政府對所有種類的車輛徵收一項生產稅（電動車除外）。

結果，汽油的價格改變了 22% 及其交易量改變了 35%。下列哪項陳述是正確的？

- A. 汽油的需求屬高彈性。
- B. 汽油的需求屬低彈性。
- C. 汽油的供應屬高彈性。
- D. 汽油的供應屬低彈性。

## 02MC3 答案

1	C	11	D	21	D	31	C
2	B	12	C	22	B	32	B
3	C	13	B	23	D	33	C
4	A	14	A	24	C	34	B
5	C	15	D	25	C	35	B
6	B	16	C	26	D	36	B
7	B	17	C	27	C	37	A
8	C	18	D	28	D	38	B
9	D	19	C	29	A	39	C
10	C	20	A	30	C	40	A

41 B

42 A

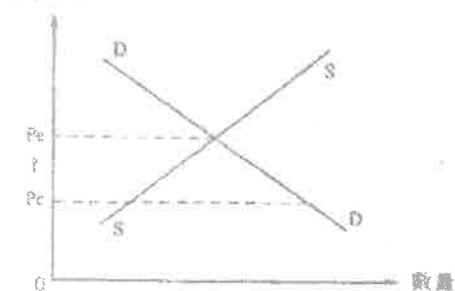
43 D

44 C



1. 1992.MC.Q27

單位價格



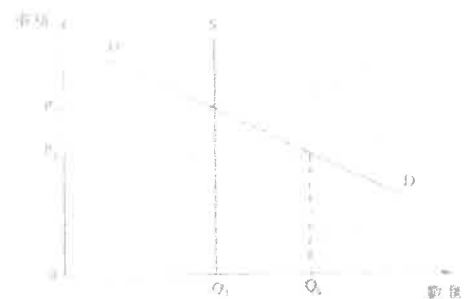
上圖顯示物品 X 的價格和數量。在價格上限取消後價格由  $P_c$  上升至  $P_e$ 。

物品 X 的消費總值會

- A. 因此而增加。
- B. 因此而減少。
- C. 維持不變。
- D. 增加或減少，視乎它的價格需求彈性而定。

2. 1994.MC.Q10

下圖顯示某演唱會入場券的供應和需求。



如果入場券以  $P_2$  而非  $P_1$  的價格出售，

- (1) 可能出現黑市買賣。
  - (2) 銷售收益會更少。
  - (3) 交易量會更大。
  - (4) 銷售收益可能增加或減少，視乎它的價格需求彈性而定。
- A. 只有(1)、(2)
  - B. 只有(1)、(4)
  - C. 只有(2)、(3)
  - D. 只有(3)、(4)

3. 1996.MC.Q8

短缺在下列哪一種情況下出現？

- A. 實施一低於均衡價的價格下限。
- B. 實施一有效的價格上限。
- C. 供應減少。
- D. 需求大幅增加

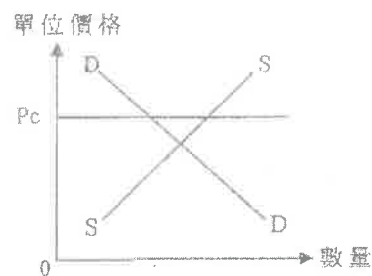
4. 1996.MC.Q9

假設初時某物品的價格固定在市場均衡水平之下。放寬該價格管制會導致

- (1) 銷售收益增加。
  - (2) 需求下降。
  - (3) 銷售收益增加，但必須符合一個條件，就是該物品的需求缺乏彈性。
  - (4) 供應量增加。
- A. 只有(1)及(2)
  - B. 只有(1)及(4)
  - C. 只有(2)及(3)
  - D. 只有(2)及(4)

5. 2010.MC.Q14

下圖顯示物品Z的市場。



若政府對物品Z實施價格管制，最高價格為每單位  $P_c$ ，

- A. 物品Z會出現求過於供現象。
- B. 物品Z會出現供過於求現象。
- C. 消費者在物品Z的總支出會維持不變。
- D. 消費者在物品Z的總支出會增加。

6. 2011.MC.Q8

若在均衡價格之\_\_\_\_\_設定一個\_\_\_\_\_，短缺便會出現。

- A. 上 ..... 價格上限
- B. 下 ..... 價格上限
- C. 上 ..... 價格下限
- D. 下 ..... 價格下限

7. 2013.MC.Q15

假設政府實施有效租金管制，即為業主向租客收取的每平方呎租金設定上限，下列哪項陳述是正確的？

- (1) 出租單位會有短缺。
  - (2) 業主出租他們單位的意欲會較低。
  - (3) 業主會花費較少的金錢維修出租單位。
- A. 只有(1)、(2)
  - B. 只有(1)、(3)
  - C. 只有(2)、(3)
  - D. (1)、(2) 及(3)

8. 2015.MC.Q13

很多人連日排隊買票觀看著名藝人于華的棟篤笑表演。有些人投訴即使他們願意支付主辦機構所訂的門票價格，他們仍買不到門票。上述情況意味著

- A. 價格是分配門票的唯一準則。
- B. 生產商沒有爭取最高利潤。
- C. 有可能出現黑市門票。
- D. 門票市場存在有效的價格上限。

9. 2017 Q18

假設政府對住宅單位實施有效的租金管制，下列哪項出現的可能性最低？

- A. 住宅單位會出現短缺
- B. 黑市會出現
- C. 窮人能夠較容易租得住宅單位。
- D. 業主會有較低意欲翻新其住宅單位作出租之用。

10. 2018 Q15

根據房委會的資料，公屋平均輪候時間為 4.7 年。下列哪項長遠來說會令公屋輪候時間增加？

- A. 向租住私人住宅的低收入家庭提供金錢補助
- B. 提高申請公屋的收入限額
- C. 放寬規管改變土地用途的規例
- D. 某億萬富翁為綜合社會保障援助計劃的申請者提供共享房屋

11. 2018 Q18

參閱以下物品 X 的供需表。

單位價格 (\$)	13	12	11	10	9	8	7
需求量 (單位)	70	80	90	100	110	120	130
供應量 (單位)	130	120	110	100	90	80	70

假設政府將價格上限由 \$8 提高至 \$12，下列哪項陳述是正確的？

- A. 物品 X 會出現 40 單位的短缺。
- B. 物品 X 會出現 40 單位的盈餘。
- C. 對物品 X 的總支出會上升 \$360。
- D. 物品 X 的交易量會維持不變。

12. 2020 Q10

小明在一家度假酒店預訂了一間房。後來他發現小欣在同一家酒店以較低價格預訂了一間房。下列哪些是這價格差異的可能原因？

- (1) 小明的預訂屬不可退款，而小欣的預訂可免費取消。
- (2) 小明預訂了週末的房間，而小欣預訂了平日的房間。
- (3) 小明預訂了海景房，而小欣預訂了街景房。

- A. 只有 (1)、(2)
- B. 只有 (1)、(3)
- C. 只有 (2)、(3)
- D. (1)、(2) 及 (3)

經濟 02MC4 市場干預(1) – 價格上限 多項選擇題 (1990–2016)

答案

1	A
2	A
3	B
4	B
5	C
6	B
7	D
8	C
9	C
10	B

11C

12C

1. 1992.MC.Q24 (取消)

若政府實施一低於均衡價格的價格下限，

- A. 銷售收益會有所減少。
- B. 交易量會有所減少。
- C. 會有超額供應。
- D. 不會有超額需求。

2. 1993.MC.Q27

在港菲傭工取最低工資。他們一般都要等待一段時間方能獲聘來港工作。以下哪一種情況可縮短他們的等待時間及增加獲聘來港工作的機會。

- A. 提高他們的最低工資額
- B. 取消該最低工資法例
- C. 菲律賓政治更不穩定
- D. 香港僱主需繳附加稅

3. 1998.MC.Q4

若將物品 X 的價格下限設在均衡價格之下，

- A. 物品 X 會出現短缺。
- B. 交易數量會下跌。
- C. 總銷售收益可能上升可能下跌，視乎物品 X 的需求彈性而定。
- D. 總銷售收益會維持不變。

4. 1999.MC.Q6

單位價格 (\$)	需求量 (單位)	供應量 (單位)
7	8	20
6	12	18
5	16	16
4	20	14
3	24	12

參照以上物品 X 的供求表。政府將它的最低價格定為每單位 \$4。若政府提高最低價格至每單位 \$6，

- A. 物品 X 的短缺會消失。
- B. 交易數量會增加。
- C. 消費者在物品 X 的總支出會減少。
- D. 物品 X 的盈餘會減少。

5. 2000.MC.Q6

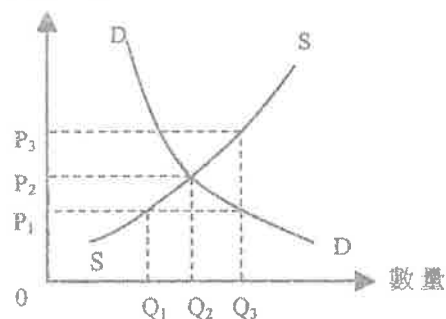
香港近期的經濟衰退已導致人們的收入減少。有見及此，政府決定將菲傭的有效最低工資水平調低。上述兩項變動會導致

- (1) 菲傭的需求下降。
- (2) 菲傭的供應量下降。
- (3) 菲傭的供過於求量下降。
- (4) 聘用菲傭的總支出下降。

- A. 只有(1)、(2)
- B. 只有(2)、(3)
- C. 只有(1)、(2)、(3)
- D. 只有(1)、(3)、(4)

6. 2004.MC.Q12

單位價格



參閱上圖。下列哪一項是正確的？

- A. 若價格上限設定在  $P_1$ ，交易量是  $Q_3$ 。
- B. 若價格下限設定在  $P_1$ ，交易量是  $Q_2$ 。
- C. 若價格下限設定在  $P_3$ ，交易量是  $Q_2$ 。
- D. 若價格上限設定在  $P_3$ ，非價格競爭會出現。

7. 2007.MC.Q7

實施最低工資法例會增加

- A. 非技術工人的就業機會。
- B. 非技術工人的工資總額。
- C. 非技術工人的失業人口。
- D. 外國在當地的投資。

8. 2008.MC.Q12

如果政府提高輸入勞工的有效最低工資，

- A. 輸入勞工的僱用量會上升。
- B. 輸入勞工的短缺問題會更為嚴重。
- C. 本地勞工的失業率會上升。
- D. 本地勞工的整體薪酬收入會上升。

9. 2009.MC.Q11

政府計劃引入跨行業的最低工資法例。實施有效最低工資的一個結果是：

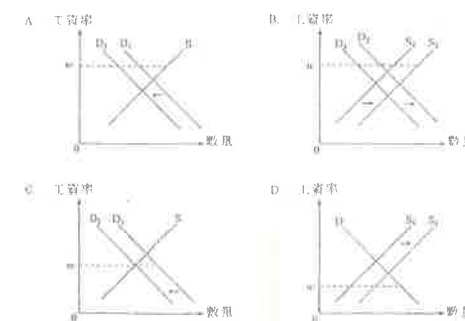
- A. 受僱低收入工人的平均工資收入必然增加。
- B. 受僱低收入工人的工資收入總和必然增加。
- C. 對低收入工人的需求必然減少。
- D. 低收入工人的供應必然增加。

10. 2011.MC.Q7

假設香港的菲傭在政府所訂的最低工資水平 ( $w$ ) 下有供過於求的現象。

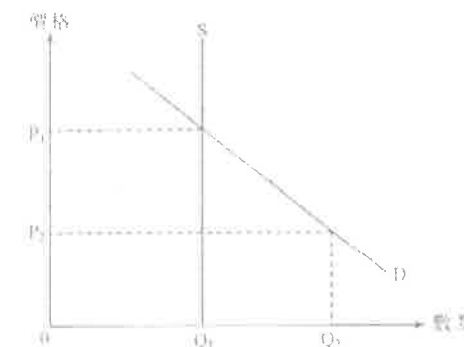
又假設香港的僱主最近須為新聘菲傭額外購買一份保險。

下列哪幅圖能正確反映上述香港菲傭市場的情況？



11. 2013.MC.Q14

參閱以下供需圖：



若政府將價格下限由  $P_2$  提高至  $P_1$ ，賣方收取的總收益

- A. 會上升。
- B. 會下降。
- C. 會維持不變。
- D. 可能上升或下降，視乎需求的價格彈性。

答案

1	D	11	C
2	B	12	
3	D	13	
4	C	14	
5	A	15	
6	B	16	
7	C	17	
8	D	18	
9	A	19	
10	A	20	

## 1. 1992.MC.Q24 (取消)

若政府實施一低於均衡價格的價格下限，

- A. 銷售收益會有所減少。
- B. 交易量會有所減少。
- C. 會有超額供應。
- D. 不會有超額需求。

## 2. 1993.MC.Q27

在港菲傭賺取最低工資。他們一般都要等待一段時間方能獲聘來港工作。以下哪一種情況可縮短他們的等待時間及增加獲聘來港工作的機會。

- A. 提高他們的最低工資額
- B. 取消該最低工資法例
- C. 菲律賓政治更不穩定
- D. 香港僱主需繳附加稅

## 3. 1998.MC.Q4

若將物品 X 的價格下限設在均衡價格之下，

- A. 物品 X 會出現短缺。
- B. 交易數量會下跌。
- C. 總銷售收益可能上升可能下跌，視乎物品 X 的需求彈性而定。
- D. 總銷售收益會維持不變。

## 4. 1999.MC.Q6

單位價格 (\$)	需求量 (單位)	供應量 (單位)
7	8	20
6	12	18
5	16	16
4	20	14
3	24	12

參照以上物品 X 的供求表。政府將它的最低價格定為每單位 \$4。若政府提高最低價格至每單位 \$6，

- A. 物品 X 的短缺會消失。
- B. 交易數量會增加。
- C. 消費者在物品 X 的總支出會減少。
- D. 物品 X 的盈餘會減少。

## 5. 2000.MC.Q6

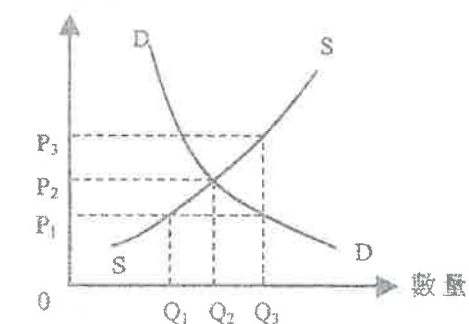
香港近期的經濟衰退已導致人們的收入減少。有見及此，政府決定將菲傭的有效最低工資水平調低。上述兩項變動會導致

- (1) 菲傭的需求下降。
- (2) 菲傭的供應量下降。
- (3) 菲傭的供過於求量下降。
- (4) 聘用菲傭的總支出下降。

- A. 只有(1)、(2)
- B. 只有(2)、(3)
- C. 只有(1)、(2)、(3)
- D. 只有(1)、(3)、(4)

## 6. 2004.MC.Q12

## 單位價格



參閱上圖。下列哪一項是正確的？

- A. 若價格上限設定在  $P_1$ ，交易量是  $Q_3$ 。
- B. 若價格下限設定在  $P_1$ ，交易量是  $Q_2$ 。
- C. 若價格下限設定在  $P_3$ ，交易量是  $Q_2$ 。
- D. 若價格上限設定在  $P_3$ ，非價格競爭會出現。

## 7. 2007.MC.Q7

實施最低工資法例會增加

- A. 非技術工人的就業機會。
- B. 非技術工人的工資總額。
- C. 非技術工人的失業人口。
- D. 外國在當地的投資。

## 8. 2008.MC.Q12

如果政府提高輸入勞工的有效最低工資，

- A. 輸入勞工的僱用量會上升。
- B. 輸入勞工的短缺問題會更為嚴重。
- C. 本地勞工的失業率會上升。
- D. 本地勞工的整體薪酬收入會上升。

## 9. 2009.MC.Q11

政府計劃引入跨行業的最低工資法例。實施有效最低工資的一個結果是：

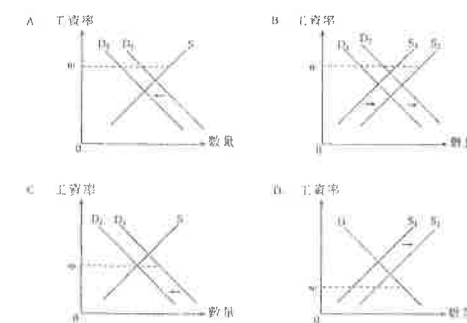
- A. 受僱低收入工人的平均工資收入必然增加。
- B. 受僱低收入工人的工資收入總和必然增加。
- C. 對低收入工人的需求必然減少。
- D. 低收入工人的供應必然增加。

## 10. 2011.MC.Q7

假設香港的菲傭在政府所訂的最低工資水平 ( $w$ ) 下有供過於求的現象。

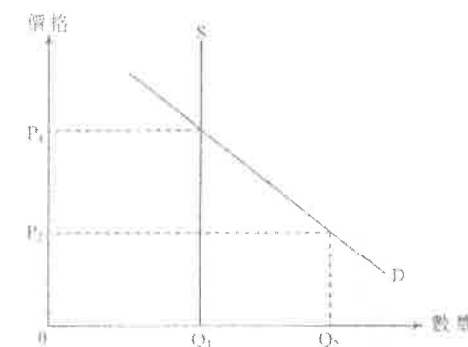
又假設香港的僱主最近須為新聘菲傭額外購買一份保險。

下列哪幅圖能正確反映上述香港菲傭市場的情況？



## 11. 2013.MC.Q14

參閱以下供需圖：



若政府將價格下限由  $P_2$  提高至  $P_1$ ，賣方收取的總收益

- A. 會上升。
- B. 會下降。
- C. 會維持不變。
- D. 可能上升或下降，視乎需求的價格彈性。

## 答案

1	D	11	C
2	B	12	
3	D	13	
4	C	14	
5	A	15	
6	B	16	
7	C	17	
8	D	18	
9	A	19	
10	A	20	

1. 1994.MC.Q12

如果政府對物品 Y 實施一有效的配額限制，Y 的市價會\_\_\_\_\_和它的交易量會\_\_\_\_\_。

- A. 上升；上升  
B. 上升；下降  
C. 下降；上升  
D. 下降；下降

2. 1994.MC.Q13

承接第 94.12 題，消費者購買物品 Y 的全部支出

- A. 減少。  
B. 增加。  
C. 保持不變。  
D. 增加或減少，視乎 Y 的價格需求彈性而定。

3. 1999.MC.Q7

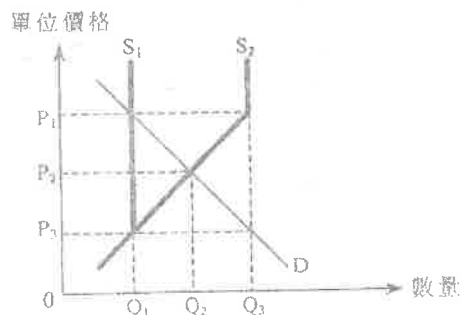
取消對某進口物品的有效限額管制會使

- (1) 它的價格下降。  
(2) 它的進口數量增加。  
(3) 它的總銷售收益增加。  
(4) 它的品質提高。

- A. 只有(1)、(3)  
B. 只有(1)、(3)  
C. 只有(1)、(3)及(4)  
D. 只有(2)、(3)及(4)

4. 2006.MC.Q10

中國對某入口貨品實施配額限制。配額數量為 $Q_1$ 時，該貨品的市價是 $P_1$ 。現假設中國將配額數量由 $Q_1$ 增至 $Q_3$ ，如下圖所示。結果，新的總銷售收益便是



- A.  $P_1 \times Q_1$   
B.  $P_2 \times Q_2$   
C.  $P_1 \times Q_3$   
D.  $P_3 \times Q_3$

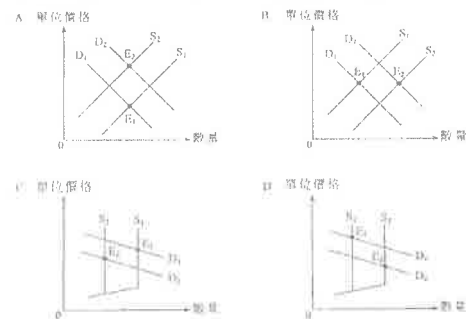
5. 2007.MC.Q8

中國在2005年取消了汽車進口配額制度。這會導致在國內，\_\_\_\_\_上升/增加。

- A. 汽車價格  
B. 汽車銷售數量  
C. 汽車製造業工人的收入  
D. 汽車銷售收益

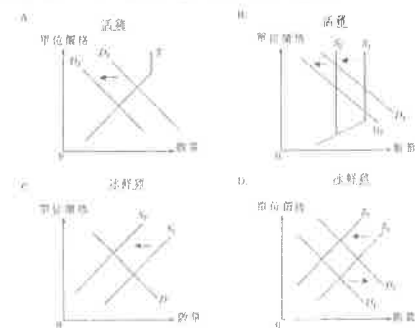
6. 2008.MC.Q9

中國減少從乙國進口成衣的有效配額數量。同時中國從其他國家進口的成衣變得較以往便宜。下列哪圖能說明中國從乙國進口成衣的市場變動？ $E_1$ 是原來的均衡點， $E_2$ 是新的均衡點。



7. 2009.MC.Q12

去年政府減少活雞進口香港的配額數量。另一方面，很多香港市民改變吃雞的習慣，以冰鮮雞代替活雞。下列哪幅圖說明上述現象？



8. 2010.MC.Q13

若香港政府取消內地供港活雞的人口配額，

- A. 香港的活雞價格會上升。  
B. 香港的活雞總銷售收益可能會增加。  
C. 香港的冰鮮雞銷售量會增加。  
D. 香港在冰鮮雞上的總支出可能會增加。

9. 2011.MC.Q13

參閱以下物品 X 的供需表。

價格 (\$)	100	90	80	70	60	50
需求量(單位)	80	100	120	140	160	180
供應量(單位)	200	160	120	80	60	40

若政府將物品X的生產配額限定在80單位，則消費者在該物品上的總支出會是\_\_\_\_\_。

- A. \$5 600  
B. \$6 400  
C. \$8 000  
D. \$9 600

10. Practice Paper.MC.Q11

參閱以下物品 X 的需求表及供應表。

單位價格 (\$)	20	18	16	14	12	10
需求量(單位)	500	550	600	650	700	750
供應量(單位)	800	750	700	650	600	550

若政府把配額由 700 單位減低至 550 單位，

- A. 市價會下跌\$2。  
B. 市價會上升\$2。  
C. 市價會上升\$4。  
D. 市價會上升\$6。

答案

1	B
2	D
3	A
4	B
5	B
6	C
7	B
8	B
9	C
10	C



1. 1994.MC.Q12

如果政府對物品 Y 實施一有效的配額限制，Y 的市價會\_\_\_\_\_和它的交易會\_\_\_\_\_。

- A. 上升；上升  
B. 上升；下降  
C. 下降；上升  
D. 下降；下降

2. 1994.MC.Q13

承接第 94.12 題，消費者購買物品 Y 的全部支出

- A. 減少。  
B. 增加。  
C. 保持不變。  
D. 增加或減少，視乎 Y 的價格需求彈性而定。

3. 1999.MC.Q7

取消對某進口物品的有效限額管制會使

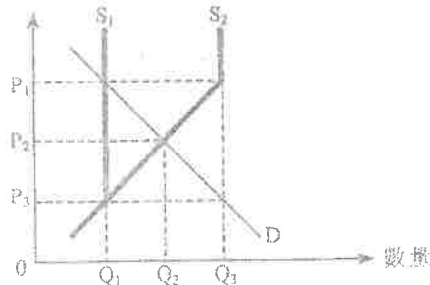
- (1) 它的價格下降。  
(2) 它的進口數量增加。  
(3) 它的總銷售收益增加。  
(4) 它的品質提高。

- A. 只有(1)、(3)  
B. 只有(1)、(3)  
C. 只有(1)、(3)及(4)  
D. 只有(2)、(3)及(4)

4. 2006.MC.Q10

中國對某入口貨品實施配額限制。配額數量為 $Q_1$ 時，該貨品的市價是 $P_1$ 。現假設中國將配額數量由 $Q_1$ 增至 $Q_3$ ，如下圖所示。結果，新的總銷售收益便是

單位價格



- A.  $P_1 \times Q_1$   
B.  $P_2 \times Q_2$   
C.  $P_1 \times Q_3$   
D.  $P_3 \times Q_3$

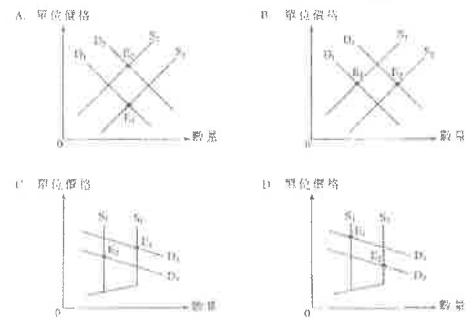
5. 2007.MC.Q8

中國在2005年取消了汽車進口配額制度。這會導致在國內，\_\_\_\_\_上升/增加。

- A. 汽車價格  
B. 汽車銷售數量  
C. 汽車製造業工人的收入  
D. 汽車銷售收益

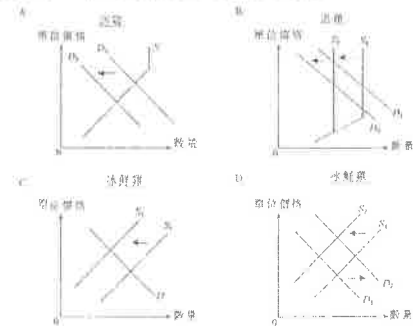
6. 2008.MC.Q9

甲國減少從乙國進口成衣的有效配額數量。同時甲國從其他國家進口的成衣變得較以往便宜。下列哪圖能說明甲國從乙國進口成衣的市場變動？ $E_1$ 是原來的均衡點， $E_2$ 是新的均衡點。



7. 2009.MC.Q12

去年政府減少活雞進口香港的配額數量。另一方面，很多香港市民改變吃雞的習慣，以冰鮮雞代替活雞。下列哪幅圖說明上述現象？



8. 2010.MC.Q13

若香港政府取消內地供港活雞的人口配額。

- A. 香港的活雞價格會上升。  
B. 香港的活雞總銷售收益可能會增加。  
C. 香港的冰鮮雞銷售量會增加。  
D. 香港在冰鮮雞上的總支出可能會增加。

9. 2011.MC.Q13

參閱以下物品 X 的供需表。

價格 (\$)	100	90	80	70	60	50
需求量(單位)	80	100	120	140	160	180
供應量(單位)	200	160	120	80	60	40

若政府將物品X的生產配額限定在80單位，則消費者在該物品上的總支出會是\_\_\_\_\_。

- A. \$5 600  
B. \$6 400  
C. \$8 000  
D. \$9 600

10. Practice Paper.MC.Q11

參閱以下物品 X 的需求表及供應表。

單位價格 (\$)	20	18	16	14	12	10
需求量(單位)	500	550	600	650	700	750
供應量(單位)	800	750	700	650	600	550

若政府把配額由 700 單位減低至 550 單位，

- A. 市價會下跌\$2。  
B. 市價會上升\$2。  
C. 市價會上升\$4。  
D. 市價會上升\$6。

答案

1	B
2	D
3	A
4	B
5	B
6	C
7	B
8	B
9	C
10	C

## 1. 1990.MC.Q51

假設政府增加\$2 香煙稅，每包香煙市價因而上升了\$1.5。下列哪一項描述為正確？

- A. 生產者負擔了稅項的 1/4。
- B. 香煙的需求有彈性。
- C. 香煙的供應有彈性。
- D. 香煙稅是一種累進稅

## 2. 1994.MC.Q8

參閱下列某國葡萄酒供求表後，回答第 94.8 及 94.9 題。

價格(\$)	需求量(單位)	供應量(單位)
30	90	60
32	80	65
34	70	70
36	60	75
38	50	80
40	40	85

假設原先葡萄酒市場是處於均衡狀況。

若每售出一單位葡萄酒政府便徵稅\$6，新的均衡價格是

- A. \$32。
- B. \$36。
- C. \$38。
- D. \$40。

## 3. 1994.MC.Q9

政府在上述稅項的收益是

- A. \$240。
- B. \$300。
- C. \$360。
- D. \$420。

## 4. 1995.MC.Q11

設政府對物品 X 徵收從量銷售稅 \$5。在下列哪一種情況下，它的價格會增加 \$5？

- A. X 的供應屬單一彈性。
- B. X 的供應屬完全無彈性。
- C. X 的需求屬完全無彈性。
- D. X 的需求屬單一彈性。

## 5. 1996.MC.Q7

價格(\$)	需求量(單位)	供應量(單位)
6	60	40
8	55	45
10	50	50
12	45	55
14	40	60

根據上表所示某物品的資料，若政府徵收從量稅每單位\$4，消費者賦稅負擔為

- A. \$90
- B. \$100
- C. \$110
- D. \$180

## 6. 1999.MC.Q8

參照以下物品 Y 的供求表，回答第 99.8 和 99.9 題。

單位價格(\$)	12	11	10	9	8	7
需求量(單位)	40	60	80	100	120	140
供應量(單位)	280	240	200	160	120	80

若政府對物品 Y 徵收 \$3 從量稅，新的總銷售收益是

- A. \$360
- B. \$800
- C. \$960
- D. \$1,320

## 7. 1999.MC.Q9

買家賦稅負擔與賣家賦稅負擔的比是

- A. 1 : 1
- B. 2 : 1
- C. 1 : 2
- D. 3 : 0

## 8. 2001.MC.Q8

假設政府對物品 X 徵收從量銷售稅。若物品 X 的需求屬\_\_\_\_\_而供應屬\_\_\_\_\_，則賣方會相對地承擔較小比例的課稅負擔。

- A. 高彈性 ... 高彈性
- B. 高彈性 ... 低彈性
- C. 低彈性 ... 高彈性
- D. 低彈性 ... 低彈性

## 9. 2002.MC.Q11

假設政府對某物品徵收從量銷售稅。在下列那一種情況下，在扣除為此特別銷售稅額後生產者的總收益會維持不變？

- A. 該物品的需求完全有彈性。
- B. 該物品的需求完全無彈性。
- C. 該物品的供應完全有彈性。
- D. 該物品的供應完全無彈性。

## 10. 2003.MC.Q11

參閱以下某物品的市場需求表：

價格(\$)	11	12	13	14
需求量(單位)	160	140	120	100

假設政府對該物品徵收每單位\$3 的從量銷售稅，結果，該物品的均衡價格從每單位\$12 增加至每單位\$13。

下列哪一項描述是正確的？

- A. 消費者比生產者有較大的賦稅負擔。
- B. 該物品的需求彈性大於 1。
- C. 總賦稅負擔是\$120。
- D. 總銷售收益(連稅在內)增加。

## 11. 2003.MC.Q12

參閱以下某物品的市場需求表：

價格(\$)	11	12	13	14
需求量(單位)	160	140	120	100

假設政府對該物品徵收每單位\$3 的從量銷售稅，結果，該物品的均衡價格從每單位\$12 增加至每單位\$13。

若由於生產成本減少，該物品的均衡價格降回至每單位\$12，則

- A. 生產者會承擔全部賦稅負擔。
- B. 總賦稅負擔會變成\$360。
- C. 會出現求過於供現象。
- D. 除稅後的總銷售收益會變成\$1260。

## 12. 2004.MC.Q10

假設政府對物品 X 徵收從量銷售稅，X 的供應是完全無彈性的，只有 \_\_\_\_\_ 要負擔該稅項而交易量 \_\_\_\_\_。

- A. 賣家 ..... 不會改變
- B. 賣家 ..... 會下降
- C. 買家 ..... 不會改變
- D. 買家 ..... 會下降

## 13. 2005.MC.Q10

細閱下表，回答05MC10及05MC11。

物品 X 的單位價格	市場需求量(單位)	市場供應量(單位)
\$6	60	40
\$9	55	45
\$12	50	50
\$15	45	55
\$18	40	60

若政府將物品X的生產限額固定在45單位，則物品X的市價是

- A. \$9
- B. \$12
- C. \$15
- D. \$18

## 14. 2005.MC.Q11

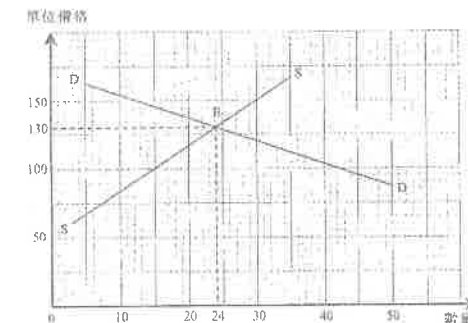
若政府改以從良稅將物品X的產量限制在45單位，則每單位物品X的從量稅是

- A. \$3
- B. \$6
- C. \$9
- D. \$12

## 15. 2006.MC.Q11

根據以下資料，回答06MC11及06MC12。

下圖顯示當政府徵收某物品每單位\$30的從量銷售稅時該物品的市場情況。



假設政府取消上述從量銷售稅。新市價會是多少？

- A. \$100
- B. \$120
- C. \$140
- D. \$160

16. 2006.MC.Q12

在新、舊市價範圍內，該物品的需求彈性

- A. 低於其供應彈性。  
B. 等於其供應彈性。  
C. 高於其供應彈性。  
D. 是 1。

17. 2007.MC.Q6

下表是某物品的供需表：

單位價格	\$20	\$25	\$30	\$35	\$40
需求量 (單位)	120	100	80	75	60
供應量 (單位)	80	80	80	80	80

若政府向物品徵收\$5從量稅，連稅在內的新的均衡價格會是\_\_\_\_\_。

- A. \$25  
B. \$30  
C. \$35  
D. \$40

18. 2007.MC.Q11

在下列哪一種情況下，政府向某物品徵收從量銷售稅會減少其均衡量？

- A. 它的需求彈性低。  
B. 它的需求彈性高。  
C. 它的需求屬單一彈性。  
D. 以上皆為正確答案。

19. 2008.MC.Q7

下表顯示物品X的供需情況。

單位價格 (\$)	需求量 (單位)	供應量 (單位)
5	10	50
4	20	40
3	30	30
2	40	20
1	50	10

若政府對物品X徵收\$2的從量銷售稅，新的均衡價格便會是\_\_\_\_\_。

- A. \$2  
B. \$3  
C. \$4  
D. \$5

20. 2008.MC.Q8

假設政府降低葡萄酒的從量銷售稅。

若葡萄酒的需求屬\_\_\_\_\_而供應屬\_\_\_\_\_，則賣家賦稅負擔的減少在比例上較買家為少。

- A. 高彈性 ..... 高彈性  
B. 高彈性 ..... 低彈性  
C. 低彈性 ..... 高彈性  
D. 低彈性 ..... 低彈性

21. 2009.MC.Q13

下表顯示物品X的供應和需求。

單位價格 (\$)	需求量 (單位)	供應量 (單位)
6	10	60
5	20	50
4	25	40
3	30	30
2	50	20
1	60	10

若政府對物品X徵收每單位\$3的從量稅，消費者的賦稅負擔會是\_\_\_\_\_。

- A. \$20  
B. \$40  
C. \$60  
D. \$100

22. 2010.MC.Q11

下表顯示物品M的市場。

單位價格	需求量 (單位)	供應量 (單位)
\$2	1 200	400
\$4	1 000	600
\$6	800	800
\$8	600	1 000
\$10	400	1 200

假設政府對物品M徵收每單位\$4的從量銷售稅。求2010.MC.Q11及2010.MC.Q12的正確答案。

新市價是\_\_\_\_\_。

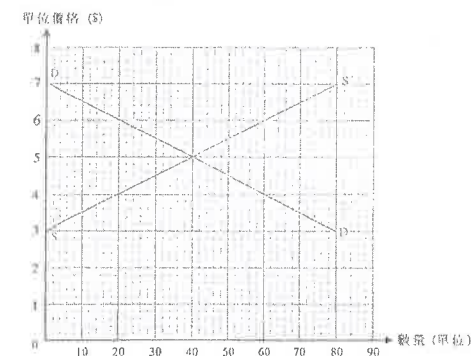
- A. \$4  
B. \$6  
C. \$8  
D. \$10

23. 2010.MC.Q12

生產者的總賦稅負擔是\_\_\_\_\_。

- A. \$1 200  
B. \$1 600  
C. \$2 400  
D. \$3 200

24. 2011.MC.Q12



上圖顯示物品X的供需線。若政府對該物品徵收每單位\$2的從量稅，消費者在該物品的總支出便會是\_\_\_\_\_。

- A. \$80  
B. \$120  
C. \$200  
D. \$240

25. Practice Paper.MC.Q8

增加煙草稅會導致

- A. 政府從香煙所徵收的稅款增加。  
B. 吸煙人士對香煙的總支出增加。  
C. 香煙總市值下降。  
D. 香煙零售商除稅後的總收益下降。

26. 2012.MC.Q16

參閱以下物品X的供需表,然後回答2012MC16及2012MC17。

價格(\$)	需求表(單位)	供應量(單位)
10	700	300
11	600	400
12	500	500
13	400	600
14	300	700
15	200	800

若政府對物品X徵收\$4從量稅，

- A. 總稅收會是\$2 000。  
B. 總銷售收益會減少\$1 800。  
C. 物品X的需求屬低彈性。  
D. 物品X的替代品的總銷售收益會下降。

27. 2012.MC.Q17

參閱上題，消費者賦稅負擔和生產商賦稅負擔的比率是\_\_\_\_\_。

- A. 1 : 1  
B. 1 : 3  
C. 3 : 1  
D. 以上各項均不是

28. 2013.MC.Q13

以下是物品X的供需表。

價格 (\$)	1	2	3	4	5	6	7	8
需求量 (單位)	90	80	70	60	50	40	30	20
供應量 (單位)	10	20	30	40	50	60	70	80

假設政府就每售賣一單位物品X收取\$2從量銷售稅。除稅後的總銷售收益是\_\_\_\_\_。

- A. \$180  
B. \$200  
C. \$280  
D. \$300

29. 2014.MC.Q22

政府對化妝品開徵從量銷售稅會

- A. 引致對化妝品的總支出下降  
B. 引致除稅後總銷售收益下降  
C. 增加化妝品市場的總社會盈餘  
D. 增加化妝品市場的生產者盈餘

## 30. 2015.MC.Q16

細閱下列有關某物品的供需表。

單位價格(\$)	4	5	6	7	8
需求量 (單位)	16	14	12	10	8
供應量 (單位)	14	14	14	14	14

假設政府對該物品徵收\$2 的從量稅。下列哪項有關該物品的描述是正確的？

- A. 賣方的除稅後收入會是\$70。
- B. 新的市場價格是\$6。
- C. 總稅項收入是\$28。
- D. 上述資料不足以判斷賣方的稅項負擔。

## 31. 2017 Q16

查閱下列物品 X 的供需表。

單位價格 (\$)	6	7	8	9	10	11	12	13
需求量	140	130	120	110	100	90	80	70
供應量	60	70	80	90	100	110	120	130

若政府對物品 X 徵收 \$2 從量稅，

- A. 賣家的除稅後收入會是 \$990。
- B. 買家承擔的稅項負擔會是 \$90。
- C. 總稅項收入會是 \$200。
- D. 買家對物品 X 的總支出會上升 \$40。

## 32. 2018 Q14

政府對某物品徵收從量稅。若 \_\_\_\_\_，該物品的價格會維持不變。

- (1) 需求屬完全彈性
- (2) 需求屬完全無彈性
- (3) 供應屬完全彈性
- (4) 供應屬完全無彈性

- A. 只有 (1)、(3)
- B. 只有 (1)、(4)
- C. 只有 (2)、(3)
- D. 只有 (2)、(4)

## 33. 2021 Q15

當對某物品徵收從量銷售稅，下列哪項／些組合可能令消費者稅項負擔大於生產者稅項負擔？

- (1) 高彈性需求；高彈性供應
- (2) 高彈性需求；低彈性供應
- (3) 低彈性需求；高彈性供應
- (4) 低彈性需求；低彈性供應

- A. 只有 (2)
- B. 只有 (1)、(3)
- C. 只有 (2)、(4)
- D. 只有 (1)、(3) 及 (4)

## 答案

1	A	11	D	21	B
2	B	12	A	22	C
3	C	13	C	23	A
4	C	14	B	24	B
5	A	15	B	25	D
6	B	16	C	26	B
7	B	17	B	27	A
8	C	18	D	28	B
9	B	19	C	29	B
10	B	20	C	30	C

31 B

32 B

33 D

## 1. 1990.MC.Q24

如果政府取消對農產品的津貼，農產品的價格會\_\_\_\_\_，而交易數量會\_\_\_\_\_。

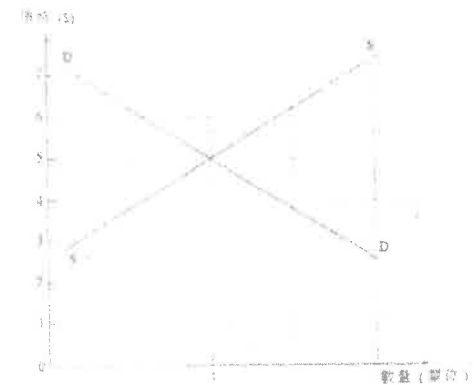
- A. 上升，增加  
B. 下降，減少  
C. 上升，減少  
D. 下降，增加

## 2. 1994.MC.Q11

物品 X 的需求完全缺乏彈性。設每生產一單位 X，政府便津貼\$4。獲得津貼後，X 的均衡價格會

- A. 保持不變。  
B. 下跌\$4。  
C. 下跌少於\$4。  
D. 下跌多於\$4。

## 3. 1995.MC.Q10

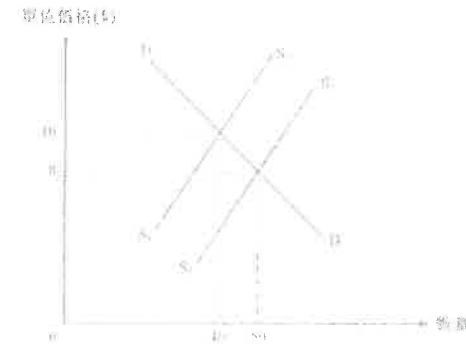


以上是物品 X 的供需圖。若政府對每單位的產出津貼\$2，市價會

- A. 下跌至 \$3。  
B. 下跌至 \$4。  
C. 上升至 \$6。  
D. 上升至 \$7。

## 4. 1996.MC.Q11

下圖顯示當某商品供供商獲得政府每單位\$5 的從量津貼時，該商品的單位價格從\$10 跌至\$8。



供應商從政府津貼中所獲得的利益共

- A. \$80  
B. \$120  
C. \$150  
D. \$250

## 5. 1999.MC.Q4

個案一：對物品 X 給予 \$10 單位津貼後，它的單位市價下跌 \$4。

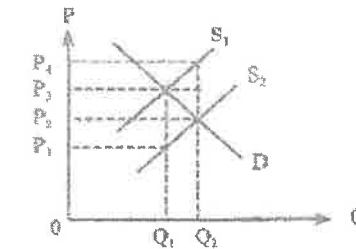
個案二：對物品 X 給予 \$10 單位津貼後，它的單位市價下跌 \$6。

我們可得出結論如下：比較兩個個案，物品 X 在個案一的需求彈性\_\_\_\_\_或供應彈性\_\_\_\_\_。

- A. 較低 …… 較低  
B. 較高 …… 較高  
C. 較低 …… 較高  
D. 較高 …… 較低

## 6. 2000.MC.Q11

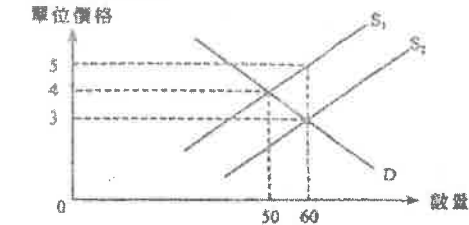
假設政府對物品 Y 給予單位津貼，使它的供應曲線從 $S_1$ 移至 $S_2$ 。



物品 Y 的賣家可享有的津貼利益是

- A.  $A. (P_2 - P_1) \times Q_1$   
B.  $B. (P_3 - P_1) \times Q_1$   
C.  $C. (P_3 - P_2) \times Q_2$   
D.  $D. (P_4 - P_3) \times Q_2$

## 7. 2001.MC.Q7



上圖顯示政府對某物品提供從量津貼的結果：該物品的供應由  $S_1$  增加至  $S_2$ 。

供應商新的總收益在減去上述津貼後\_\_\_\_\_之前政府沒有提供津貼時供應商的總收益。

- A. 少於  
B. 等於  
C. 多於  
D. 可能多於或少於

## 8. 2004.MC.Q11

下表顯示某物品的市場需求及供應。

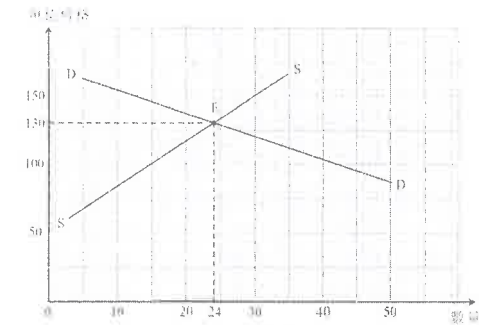
單位價格 (\$)	市場需求量 (單位)	市場供應量 (單位)
10	70	130
9	90	120
8	110	110
7	130	100
6	150	90
5	170	80

若政府向供應商提供從量津貼 \$3，

- A. 新均衡價格是每單位 \$5。  
B. 津貼總額是 \$390。  
C. 消費者享有的津貼利益大於供應商。  
D. 消費者總支出會減少。

## 9. Sample Paper.MC.Q12

根據以下資料，回答第SP.MC.12及SP.MC.13題。政府提供一項\$30 的從量補貼予X 物品的生產商。下圖顯示X 物品在得到補貼後的市場情況。



假設政府取消上述從量補貼，新市價會是

- A. \$100  
B. \$120  
C. \$140  
D. \$160

## 10. Sample Paper.MC.Q13

在新、舊市價範圍內，X物品的供應彈性

- A. 小於其需求彈性。  
B. 等於其需求彈性。  
C. 大於其需求彈性。  
D. 是 1。



## 11. 2014.MC.Q16

參閱以下某物品的供需表。

價格	\$1	\$2	\$3	\$4	\$5
需求量 (單位)	120	100	80	75	60
供應量 (單位)	60	75	80	100	120

根據以上資料，我們可得出結論如下：

- A. 當價格是\$2，總銷售收益會是\$200。
- B. 當政府把價格下限定為\$4，市場會出現25單位的短缺。
- C. 當政府給予賣家每單位\$2的補貼，總收益（包括補貼）會增加\$160。
- D. 當政府給予賣家每單位\$2的補貼，均衡價格會下降至 \$1。

## 12. 2015.MC.Q12

政府對生產綠色產品提供\$10 的從量補貼，市場價格因此下降了\$6。下列哪項/些有關綠色產品市場的描述是正確的？

- (1) 綠色產品的供應較其需求更具彈性。
- (2) 消費者所獲得的補貼得益比生產者多。
- (3) 綠色產品的需求上升。

- A. 只有 (2)
- B. 只有 (1)、(2)
- C. 只有 (1)、(3)
- D. (1)、(2) 及 (3)

## 13. 2016.MC.Q19

參閱以下某物品的供需表。

價格(\$)	40	50	60	70	80	90
需求量 (單位)	14	12	10	8	6	4
供應量 (單位)	6	8	10	12	14	16

當政府對該物品提供每單位\$20 的補貼，下列哪項陳述是正確的？

- A. 包括補貼在內的總收益是 \$840。
- B. 政府所支付的補貼總額是 \$200。
- C. 在原初市價和新市價的範圍內，需求彈性小於一。
- D. 它的補助品的總收益轉變是未能確定的。

## 答案

1	C	11.	C
2	B	12.	B
3	B	13.	A
4	C	14.	
5	D	15.	
6	D	16.	
7	A	17.	
8	B	18.	
9	C	19.	
10	A	20.	

1. PP.MC.Q13

下列哪項與需求定律並不相符？

- A. 對成衣實施進口配額會令進口成衣的平均質素改善。
- B. 居住在偏遠地區的人士購買於市中心舉行的音樂會門票時，會傾向選擇較佳的座位。
- C. 增加失業援助金會推高失業率。
- D. 若短程的士徵收一定額的額外費用，短程乘搭次數下跌的百分率會小於長程乘搭次數下跌的百分率。

2. 2015.MC.Q18

下列哪項與需求定律並不相符？

- A. 中秋節期間，香港進口較多日本的優質葡萄。
- B. 提高啤酒的從量稅引致小瓶啤酒在市場上的銷售數量下降。
- C. 對所有旅客徵收固定金額的機場離境稅後，旅客平均飛行旅程縮短了。
- D. 當提高入息稅中的子女免稅額，出生率便上升。

3. 2016.MC.Q18

下列哪項與需求定律並不相符？

- A. 當政府對紅酒徵收從價稅（即該稅項是價格的某一百分比），售出的高質紅酒和劣質紅酒的比率維持不變。
- B. 與農場附近的市場比較，距離農場較遠的市場售出較大量的貴價水果。
- C. 在經濟繁榮時，住宅樓宇的價格和交易量是正向關係。
- D. 泊車位的月租租金上流會令停泊於這些泊車位的車輛的平均質素下降。

4. 2017.Q13

下列哪項與需求定律並不相符？

- A. 政府對成衣的從量進口關稅令進口成衣的質素上升。
- B. 附近購買魚蝦較遠的市場售出的凍鮮魚比較，在賣魚場附近市場售出的鮮魚價格較貴。
- C. 當政府對白蘭地徵收從價稅，高級白蘭地與低級白蘭地銷售量的比率維持不變。
- D. 某屋苑餘下一部擁有良好景觀的單位，該單位售出的單位。

5. 2018.Q19

在的士收費作出以下調整後，下列哪項陳述是正確的？

現時的士收費		調整後的士收費	
首 2 公里：	\$20	首 2 公里：	\$25
其後每 200 米：	\$1.5	其後每 200 米：	\$1.5

- A. 乘客會乘搭更多的長途的士。
- B. 短途的士乘搭次數相對長途的士乘搭次數的比例會下降。
- C. 的士司機賺取的總收入會上升。
- D. 經營的士服務的固定成本會上升。

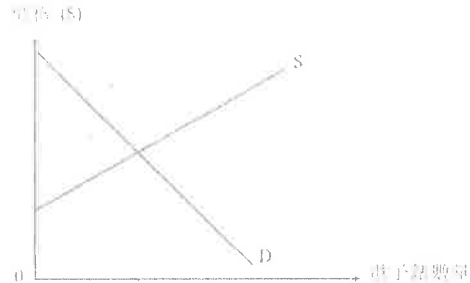
02MC9 答案

1.	D
2.	C
3.	D
4.	A
5.	B
6.	
7.	
8.	
9.	
10.	

## 1. SP.Q9(a)(b)

下圖顯示電子錶的市場供需情況。假設電子錶的市場屬於完全競爭。

圖一



(a) 在圖一顯示消費者盈餘及生產者盈餘。 (2 分)

假設科技改進導致生產電子錶的邊際成本下降。

(b) 上述的科技改進會如何影響電子錶的市價、交易量、消費者盈餘及生產者盈餘？ (5 分)

## 2. PP.Q4

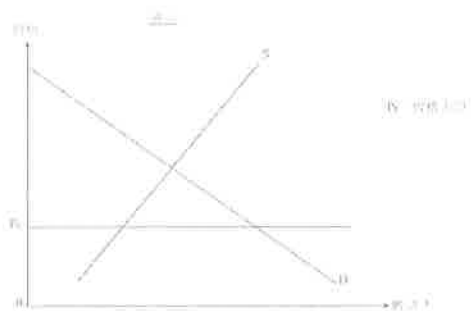

(a) 什麼是「效率損失」(deadweight loss)? (2 分)

(b)

一位老師說：「有效的價格上限可能增加消費者盈餘。」  
他的學生回答：「若是這樣，該價格上限可能提升經濟效率！」

(i) 你可同意該老師的說法嗎？以圖一說明你的答案。 (3 分)

(ii) 你可同意該學生的說法嗎？以圖二輔助，解釋你的答案。 (5 分)



## 3. PP.Q12(b)(i)

於 2010 年 11 月，電子動態版清明上河圖在本港展出。600 000 張門票透過城市電腦售票網售票處和互聯網發售，每張作價 \$10。門票在短時間內售罄。很多市民投訴他們未能購得門票。

(b) 有些人付出 \$200 從黃牛黨購買一張門票。

(i) 寫出上述個案中價格所發揮的功能。 (1 分)

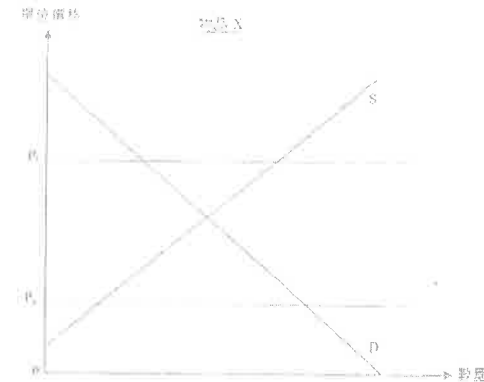
## 4. 2012.Q5(c)

甲國對物品 X 實施一有效的價格上限。

假設該有效的價格上限被調低了。該價格上限的轉變會改善經濟效率嗎？以圖輔助，解釋你的答案。 (4 分)

## 5. 2014.Q3

圖一顯示物品 X 的市場供應和市場需求曲線。假設政府將價格下限由  $P_a$  提升至  $P_b$ 。



圖一

以圖一輔助，解釋這樣提升價格下限能否改善經濟效率。 (6 分)

## 6. 2014.Q9(a),(b)

許多國家以國民健康為理由考慮徵收「汽水稅」。假設某國決定對賣家在市場中售出的每瓶汽水徵收一項從量稅。

(a) 在什麼條件下該國的汽水買家會比賣家承受較高的稅項負擔？以一供需圖加以說明。 (5 分)

(b) 利用 (a) 部的圖，表示在開徵該稅項後消費者盈餘的改變。 (1 分)

## 7. 2015.Q3

增加某物品在市場的有效配額會令效率損失減少。你同意嗎？以圖輔助，加以解釋。 (6 分)

## 8. 2015.Q4(a)

細閱下列的新聞摘要。

人們對小型單位有強烈偏好，以致近月 400 平方呎以下單位的樓價被推至新高，預期未來會有越來越多的小型單位出售。

(a) 從以上新聞摘要找出價格的一項功能，並加以解釋。 (2 分)

9. 2015.Q12(d)

研究顯示內地旅客的「個人遊」計劃為香港帶來經濟利益。不過，越來越多的香港居民要求政府減少透過該計劃到港的內地旅客人數。

(d) 部分居民投訴大量旅客令公共交通系統不勝負荷，導致所有乘客的交通時間大幅增加。以界外影響為依據，解釋為什麼當交通系統過分擁擠時可能出現無效率。(4 分)

10. 2016.Q4

近年來，很多顧客喜愛在餐廳拍攝他們享用的食物。並將照片在社交媒體分享。不過一些高級餐廳不准顧客拍照。解釋顧客「拍照並分享」這行為如何可能帶來界外影響。(3 分)

11. 2016.Q11(b)

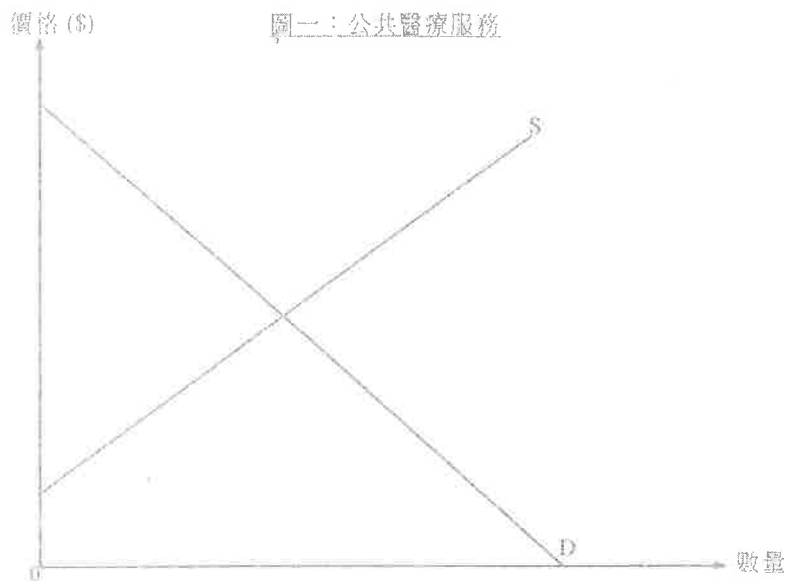
醫療服務是人類的其中一項基本需要。

資料甲：在本港某家公立診所外的一段對話

兒子：爸爸，我很不舒服呀。  
父親：糟了！排隊等候的人很多。  
兒子：為甚麼我們不去看私家醫生？  
父親：公立診所的收費只是 45 元，遠低於私家醫生的收費。

(b) 參考資料甲，並以圖一輔助，解釋公立診所釐訂的價格如何可能導致提供公共醫療服務時出現經濟沒有效率。(6 分)

(假設圖一中的供應曲線全數反映公共醫療服務的邊際社會成本。)



12. 2017.Q4

「Pokemon Go」是一款熱門遊戲，玩家需要攜帶智能手機前往不同的地點捕捉虛擬寵物。遊戲發展商在不同地區放置熱點，而這些熱點會吸引很多玩家聚集。一些在偏遠地區的餐廳發現生意急升，原因是它們位處這些熱點附近。

(a) 根據上述資料，以界外影響為依據，解釋放置熱點如何可能導致缺乏效率。(3 分)

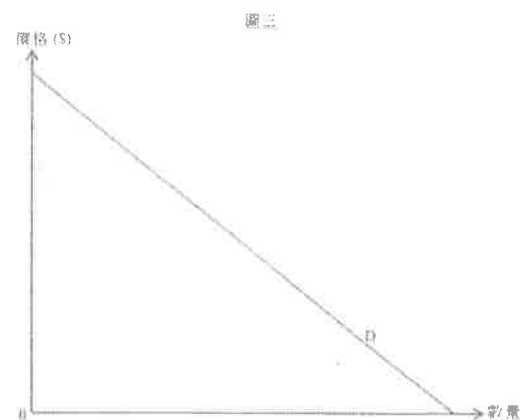
(b) 市場如何可以減輕這種缺乏效率的問題？(2 分)

13. 2017.Q11B

X 國政府向私立大學的教育服務提供一項從量補貼。

(b) 「即使學生和大學均獲得益，該補貼仍會導致缺乏效率。」透過在圖三中比較邊際成本和邊際得益，為以上陳述辯護。(3 分)

(c) 解釋補貼教育能否促進公平。(3 分)

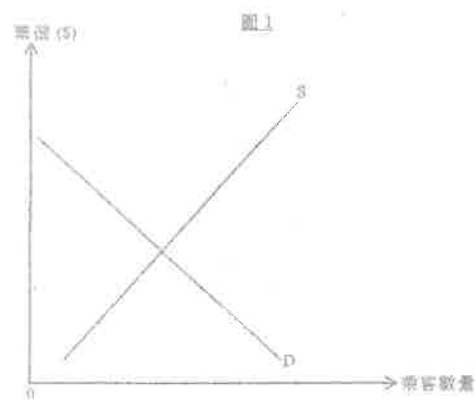


14. 2019.Q4

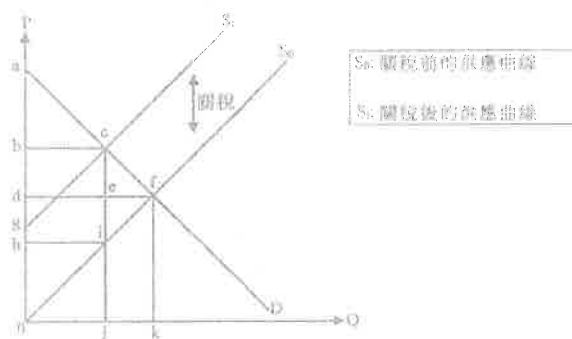
接受疫苗注射是防止感染流感病毒及保護自己的一個有效方法。運用界外影響的概念，解釋為什麼政府對接種季節性流感疫苗提供補貼可能會改善經濟效率。(4 分)

廣深港高速鐵路（高鐵）於 2018 年 9 月啟用。

- (a) 解釋高鐵應用對本港勞工流動性的影響。(3 分)
- (b) 在非假日時段，部分高鐵列車有很多的空置座位。以圖 1 輔助，解釋為什麼上述情況可能缺乏效率。(4 分)



- (a) 經濟學家認為關稅可能損害消費者及生產者。



參閱以上供應圖，完成下表。

(3 分)

	關稅前	關稅後
消費者盈餘	面積 $adfc$	
生產者盈餘		

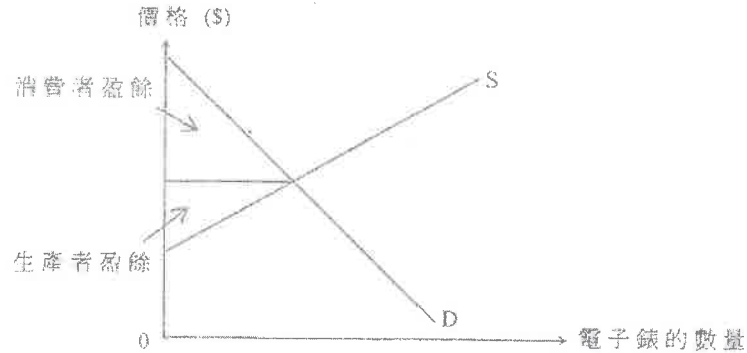
19. 由於在很多公眾地方市民都要強制配戴口罩，口罩成為生活必需品。

為了穩定本港外科口罩的供應，政府推出「本地口罩生產資助計劃」，提供補貼予本地口罩生產商。

- (c) 以圖輔助，解釋在什麼情況下消費者對外科口罩的總支出會因為該補貼而下降。  
(為了簡化，假設該補貼屬從量。)(7 分)
- (d) 配戴外科口罩能減低個人患上疾病的機會，也能預防將疾病傳染給他人。以昇外影響為依據，解釋該補貼如何可以改善經濟效率。(4 分)

1. SP.Q9(a)(b)

(a)



(b) 供應會增加，導致市價下降、交易量上升，消費者盈餘及生產者盈餘都增加\*

\*註：生產者盈餘會增加是基於供應線平行移動的假設

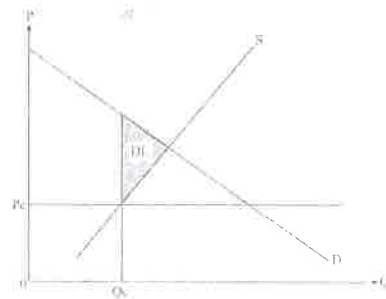
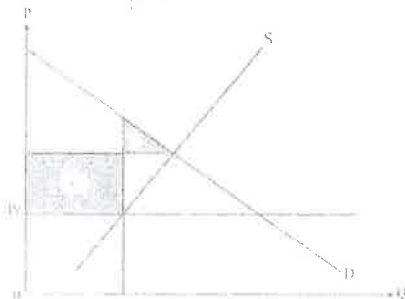
2. PP.Q4

(a) 效率損失是指當邊際得益和邊際成本不相等時所引致的總社會盈餘的損失，或導致潛在得益未能全部攫取。

(b)(i) 同意

在圖上顯示：

- 消費者盈餘的得益 (+)
- 消費者盈餘的損失 (-)



(b)(ii) 在圖上顯示：

效率損失 (DL)

量為  $Q_c$

文字說明：

- 不同意
- 當價格訂在均衡之下，交易量會減少。
- 賣方的邊際成本低於消費者的邊際得益／出現效率損失。

2

5

(1)

(1)

(1)

2

+

2

(1)

(1)

(1)

(1)

(1)

3. PP.Q12(b)(i)

(b)(i) 配給的功能：門票分配給願意支付最少\$200的買家

(1)

4. 2012.Q5(c)

✓ 否，因為

(1)

✓ 會出現較大的效率損失 / 總社會盈餘下降。

(1)

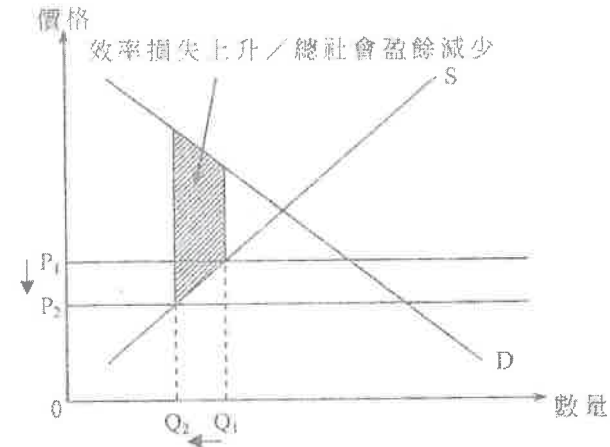
在圖上顯示：

✓ 價格上限下降

(1)

✓ 效率損失上升 / 總社會盈餘減少的正確位置

(1)



5. 2014.Q3

否。

(1)

文字解說：

該無效的價格下限( $P_u$ )變成了有效的價格下限( $P_e$ )。

(1)

在新的產量(在水平的 $P_e$ 線和需求曲線D相交的位置)，邊際得益(人們願意支付的最大金額)高於邊際成本而出現效率損失。

(1)

(1)

(1)

最高: 6

在圖中顯示：

- 正確的  $P_e$   $Q_e$

(1)

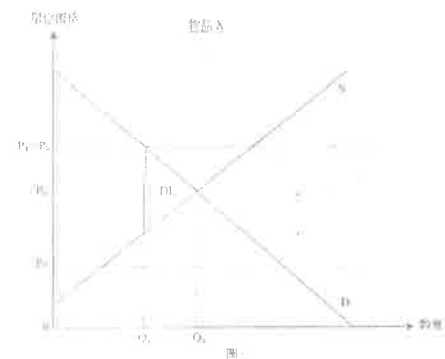
- 正確的  $P_1$   $Q_1$

(1)

- 效率損失 (DL) 的正確位置

(1)



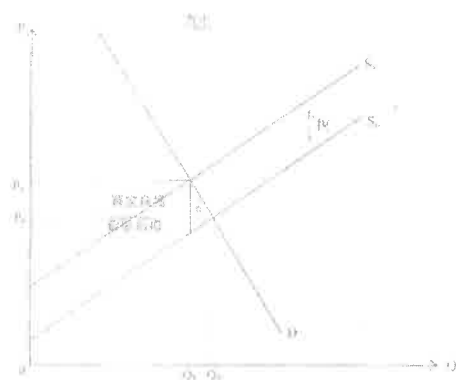


6. 2014.Q9(a),(b)

(a) 該條件是該物品的需求彈性低於其供應彈性。

在圖中顯示：

- 供應曲線向上平行移動（由從量稅所引致）
- P 上升和 Q 下跌
- 買家和賣家稅項負擔的正確位置
- 買家負擔 > 賣家負擔



(b) 在圖上顯示：

消費者盈餘的減少：買家負擔 + 面積 a

7. 2015.Q3

同意。

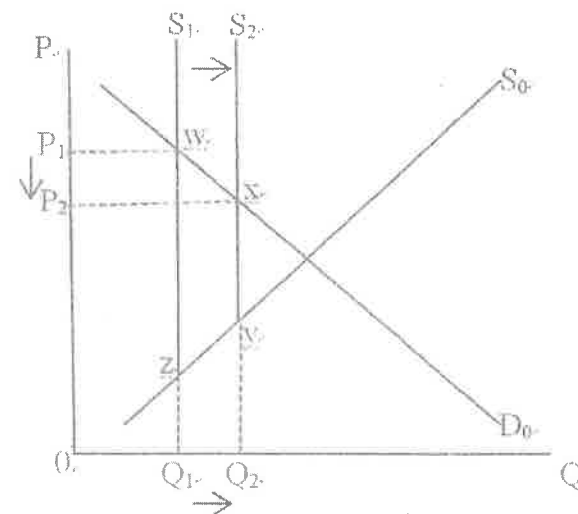
文字解說：

增加有效配額會增加供應並導致交易量上升和價格下跌。

邊際利益和邊際成本的差距會減少，因為生產量增加，更貼近有效率水平。

在圖中顯示：

- 有效配額增加對應供應曲線向右移
- P 減少而 Q 上升
- 效率損失減少的正確位置（面積 wxyz）



8. 2015.Q4(a)

價格的功能：

- 小型單位上升價格引導地產商分配更多的資源生產小型單位 [分配功能]
- 價格傳遞有關消費者需求(相對生產者供應)的資訊 [訊息功能]

@2.最高：2

[只批閱首項]

9. 2015.Q12(d)

負面界外影響 / 私人成本與社會成本分歧。

當公共交通工具過份擠迫（即達致飽和），任何額外的乘客都會令其他乘客的時間成本上升，卻沒有對這額外成本作出補償（意味著私人成本與社會成本分歧）。由於邊際社會成本大於邊際社會得益，在公共交通工具的乘客的數量高於有效率的水平。

10. 2016 Q4

(-2015)

在餐廳拍照可能會騷擾他人 / 在社交媒體分享照片可能會透露了食品的設計，這可能對餐廳的收益 / 利潤有負面的影響，但拍照者卻沒有對其影響作出（金錢或其他方面的）補償。這拍照並分享的行為可能造成負面界外效應。（涉及界外成本）

分數  
(3)

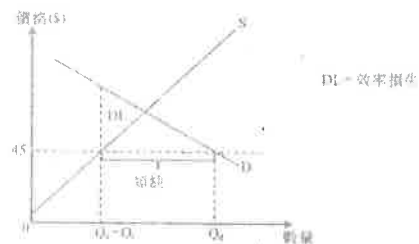
或

拍照並在社交網絡分享可能有推廣作用，吸引更多顧客到餐廳，為餐廳帶來更高的收益 / 利潤，而這額外的利益卻沒有被補償。這拍照並分享的行為可能造成正面界外效應。（涉及界外利益）

或  
(3)

(b) 在圖中顯示。

- 價格訂在均衡水平  
Q 的正確位置  
效率損失的正確位置



文字解說：

- 價格訂在 \$45，低於均衡水平  
交易量低於均衡數量，出現生產不足或短缺  
邊際利益 (MB)，邊際成本 (MC)

- (1)  
(1)  
(1)

## 12.2017 Q4

(a) 正向外部影響。偏遠地區的餐廳因遊戲發展而所選熱點的位置得益，如沒有補償發展商，故此出現了外部得益，而邊際社會得益大於邊際社會成本。這些餐廳附近的現有熱點數目是低於效率水平。

(b) 餐廳可付予遊戲發展商以增加其附近的熱點。

或

遊戲發展商可能向這些餐廳收費，以便在其附近放置更多熱點。

分數  
(3)

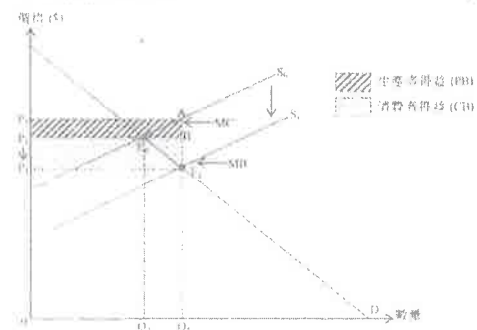
(2)

或  
(2)

## 13.2017 Q11B

在圖中顯示。

- 生產商賺取的數量補貼對平均移動  
從價格的正確位置 (P)  
從數量 (Q) 的正確位置  
生產商得益 (PS) 和消費者得益 (CS) 的正確位置  
消費者得益 (CS) 和生產者得益 (PS)



文字解說：

- 在  $Q_1$ ，邊際成本 (MC) 等於邊際得益 (MB)。

正確位置顯示。

- 邊際得益 (MB) 的正確位置  
邊際成本 (MC) 的正確位置

(1)

(1)

146

注射疫苗保護自己之餘也會減低他人被流感傳染的機會。由於接受疫苗的人沒有向其他（被流感傳染的機會減低的）人士收取補償，故此出現外部得益，邊際社會得益高於邊際社會成本。這意味著接受疫苗注射的人數低於效率水平。補貼可以令疫苗注射人數增加至較接近效率水平，因而縮窄邊際社會得益和邊際社會成本的差距。

## 15.2019 Q11AB

(a) 高鐵開通會增加勞工的地域流動性，因為交通網絡改善了。

(3)

(b) 文字解說：

所訂票價高於市場均衡（或均衡）水平，故此鐵路服務的邊際得益高於邊際成本。

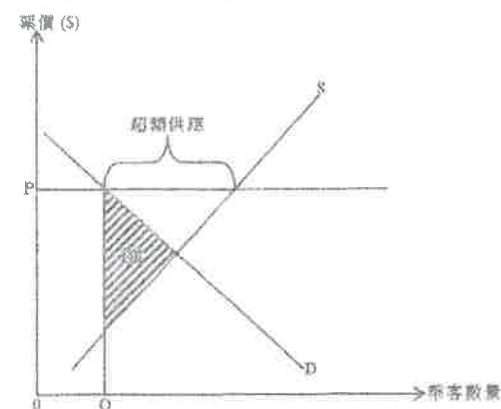
(2)

在圖中顯示：

- P 和 Q 的正確位置  
- DL（效率損失）的正確位置

(1)

(1)



## 16.2020 Q10C

(c)

	關稅前	關稅後
消費者盈餘	-	面積 abc
生產者盈餘	面積 dfg	面積 hi0

分數  
(3)

## 1. PP.11(d)

高中教科書的價格大幅上升，這是因為教科書出版商需要為新課程出版新教科書。

(d) 在學校書簿津貼計劃下，有需要的學生會獲得津貼，用以支付教科書的費用和與學校有關的雜項支出。解釋學校書簿津貼計劃如何能提升香港社會的公平性。(4 分)

## 2. 2012.Q10(b)

財政司司長在 2011 年公佈「\$6000 計劃」：向每位十八歲或以上的香港永久居民派發\$6000。

(b) 你認為政府應否推行「\$6000 計劃」以令香港社會更公平？試加解釋。(4 分)

## 3. 2015.Q8

政府正考慮從其財政盈餘撥出一筆款項，用於下列兩項提案：

提案 1： 將免費教育延長至 15 年

提案 2： 提供失業援助金

試以公平為依據，評價該兩項提案。(4 分)

## 4. 2016.Q11(c)(d)

醫療服務是人類的其中一項基本需要。

資料乙：摘錄自醫院管理局的網頁

醫院管理局致力提供以社區為本的基礎醫療服務，服務對象包括長者、低收入人士和長期病患者。

(c) 參考資料乙，解釋醫院管理局提供的服務如何可以促進公平。(2 分)

(d) 很多人認為公立診所應該提高收費以減少輪候時間。以公平和經濟效率為依據，評價這種看法。(4 分)

## 5. 2017.11C

英國政府對私立大學的教育服務提供一項從量補貼。

(a) 在什麼條件下學生享受的補貼得益份額會大於私立大學的份額？以圖三輔助，說明你的答案。(7 分)

(b) 即使學生和大學均能得益，該補貼仍會導致效率。透過在圖三中比較邊際成本和邊際得益，為以上陳述辯護。(3 分)

(c) 解釋補貼教育能否促進公平。(3 分)

## 6. 2019.Q2

李嘉誠基金以「善用錢」計劃的名義，向在元朗、屯門及離島區居住並應考 2018 年香港中學文憑考試的每名考生無條件發放 5000 元現金。

陳述 A： 該計劃可以改善這些地區考生的公開考試成績。

陳述 B： 該計劃可以令香港更公平。

(a) 解釋陳述 A 是否一項實證性陳述。(2 分)

(b) 論證陳述 B。(4 分)

## 1. PP.11(d)

– STAS 增加有需要學生家庭的收入而富有家庭不能獲益。

– STAS 有助促進機會平等，因為它會幫助有需要學生繼續學業。

– 教育可增加有需要學生們將來的收入，長遠或有助收窄收入差距。

– 任何其他相關點

2@；最高：4

## 2. 2012.Q10(b)

✓ 公平等是一個主觀的概念，涉及價值判斷。／不同人對公平有不同的準則。(1)

✓ 是，\$6 000 令窮人的收入有較大百分比的上升。(2)

✓ 否，因為計劃沒有幫助機會平等化。相對富人來說，窮人沒有取得較多的資源以改善他們的生產力／增加將來的收入。(2)

✓ 否，因為計劃沒有幫助結果平等化，因為不是每個人能在計劃中得益，例如非永久居民和未夠 18 歲的居民沒有資格領取\$6 000。(2)

✓ 任何其他相關點

最高：4

## 3. 2015.Q8 (partial)

提案 1：

– 機會均等：免費教育的年期增加令窮人能接受更多的教育，從而提高他們未來的生產力及賺錢能力。

提案 2：

– 收入/結果均等：給予失業人士較多福利縮減就業人士（富人）和失業人士（窮人）的收入差距。<sup>1</sup>

– 任何其他相關點

@2，最高：4

## 5. 2017.11C

(c) 是。補貼教育是令機會均等化的一種方法，故此窮人不會因為財務上的限制而不能獲得大學教育。教育亦改善他們將來的收入，故此能減輕兩代收入不均。(3)

## 6. 2019.Q2

(a) 陳述 A 是一項實證性陳述，因為它有可能被事實所推翻。

分數  
(2)

(b) 收入均等化：這些區域的平均住戶收入較低，故此該筆現金會幫助縮窄收入差距。

機會均等化：補貼教育會提高低收入人士獲得高等教育的機會，避免他們受其背景所累。

@2  
最高：4

<sup>1</sup>在有高技術工人失業的情況下，這未必能所見貧富人的收入差距。

1. SP.Q2

提出一個經濟出現收入不均的兩項原因。

(4 分)

2. 2012.Q4

根據聯合國 2008 年的一份報告，香港及北京的堅尼系數分別是 0.53 及 0.22。

(a) 與北京比較，香港貧富之間的收入差距屬較闊或較窄？

(1 分)

(b) 解釋增加薪俸稅的標準稅率會如何影響香港的除稅後堅尼系數。

(3 分)

3. 2013.Q7

表一顯示香港在 2006 年及 2011 年按職業分類的堅尼系數。

表一

	堅尼系數	
	2006	2011
建造業	0.362	0.385
金融，保險，地產和商用服務業	0.544	0.548

(a) 根據表一，哪項職業的從業員之間的收入不均情況較輕微？舉出兩個可能原因解釋這收入不均出現差異的情況。

(4 分)

表二顯示香港在 2006 年及 2011 年按行業分類的就業分布。

表二

	按行業分類的就業分布	
	2006	2011
建造業	8.0%	7.7%
金融，保險，地產和商用服務業	17.0%	19.2%

表三顯示香港在 2006 年及 2011 年的堅尼系數。

表三

	2006	2011
堅尼系數	0.533	0.537

(b) 表一及表二提供的資料如何可以幫助解釋表三所反映香港收入不均情況的轉變？

(4 分)

4. 2013.Q11(b)(ii)

政府已推出「鼓勵就業交通津貼計劃」，目標如下：

(1) 減輕低收入住戶在職人士往返工作地點的交通費負擔

(2) 鼓勵持續就業

申請人必須符合住戶每月入息和資產限額（以單身人士為例，每月入息不可超過\$7 300，而資產不可超過\$72 000）及每月工作不少於 72 小時以申請每月\$600 的津貼。

討論該計劃對下列各項的影響：

(ii) 收入不均

(3 分)

5. 2018 Q4


除了教育程度差異以外，解釋可能導致收入不均的兩個因素。

6. 2021 Q10a

由於在很多公眾地方市民都要強制配戴口罩，口罩成為生活必需品。

(a) 「強制配戴口罩對低收入組別造成的負擔較對高收入組別為大。」論證這陳述。(2 分)

(b) 政府向香港市民免費派發「銅芯口罩」。



解釋「銅芯口罩」是否

(i) 免費物品，

(2 分)

(ii) 共用品，

(2 分)

## 1. SP.Q2

以下任何兩項理由：

- ✓ 人力資本不同：教育程度較高的人有較高的收入；
- ✓ 歧視：受歧視的性別/族裔有較低的收入；
- ✓ 其他可能理由

2②，  
最高：4

## 2. 2012.Q4

- (a) 更闊 (1)
- (b) 較小，因為 (1)
- 較高收入組別除稅後收入會下降，而較低收入組別的收入維持不變。 (2)

## 3. 2013.Q7

- (a) ✓ 建造業。 (1)
- ✓ 這是因為一個人能否加入某特定職業，是與他的人力資本有密切關係。相對於金融專業人士，建造業工人的人力資本傾向較同質。 (2)
- ✓ 建造業向工人支付的薪金通常以工時計算，工人的薪金大致相同。金融及商業服務業的僱員的報酬除了底薪，通常亦包括根據表現發放的佣金、花紅及利潤分享。這可引致該行業內薪金有較大差異。 (2)
- 以上 (1 + 2)，最高：3
- (b) ✓ 對香港整體經濟來說，反映收入不均程度的堅尼系數是上升了。 (1)
- ✓ 表二所示，在建造業和金融及商用服務業的收入不均情況皆變得較嚴重。其他因素不變，這會令整體經濟的收入不均變得較嚴重。 (2)
- ✓ 表二所示，收入不均較嚴重的行業（金融、保險、地產及商用服務業）所佔勞動人口的比例上升，而收入不均較輕微的（建造業）所佔勞動人口的比例下降。其他因素不變，兩個行業之間就業形態的改變會令整體經濟的收入不均情況變得較嚴重。 (2)
- 以上 (1 + 2)，最高：3

## 4. 2013.Q11(b)(ii)

- (ii) 它有助減低收入不均，因為它只提供額外金錢予低收入人士，有助成果均等化／它增加低收入人士找到一份收入較高的工作機會，因為他們可到距離居住區域較遠的地方工作。 (3)

(-2014)

## 5. 2018.Q4

因素：

- 種族，因為職場可能有種族歧視，部分少數族裔在相同工作的工資率可能較低。
- 性別，因為職場可能出現性別歧視，女性平均工資率在相同職級會較低。
- 身體條件，因為較健康、高大或外表較佳的人平均收入可能較高，原因是這些人在部分職位發揮較高的生產力。(例如運動員、模特兒)。
- 任何其他相關點

[只批閱首兩項]

分數

②  
最高：4



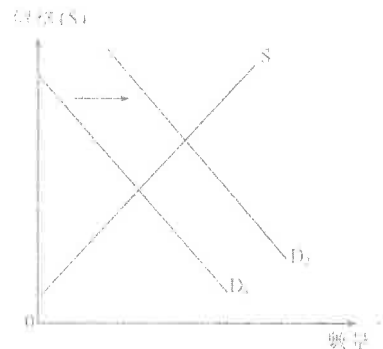
## 1. Sample Paper.MC.Q20

假設政府向某物品的生產商提供從量補貼，這會導致

- A. 消費者盈餘上升及生產者盈餘下降，因此對效率的影響不明確。
- B. 生產者盈餘上升及消費者盈餘下降，因此對效率的影響不明確。
- C. 效率的改善，因賣家及買家均會從補貼得益。
- D. 淨損失，因政府提供的補貼額大於消費者盈餘及生產者盈餘上升的總和。

## 2. Practice Paper.MC.Q14

下圖顯示在一個完全競爭市場內物品 X 的需求和供應曲線。

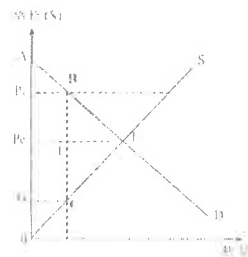


物品 X 的需求曲線由  $D_1$  移至  $D_2$ 。結果，

- A. 公司享有較多的生產者盈餘。
- B. 生產最後一單位的邊際成本會下降。
- C. 物品 X 的供應會增加。
- D. 消費者享有較少的消費者盈餘。

## 3. Practice Paper.MC.Q15

下圖顯示在一個完全競爭市場內物品 X 的需求和供應曲線。



假設價格上限設在  $P_1$ 。結果，

- A. 效率損失 (deadweight loss) 等於面積 BEF。
- B. 生產者盈餘等於面積  $P_1BCO$ 。
- C. 消費者盈餘等於面積 AEPc。
- D. 總社會盈餘等於面積  $P_1BCG$ 。

## 4. Practice Paper.MC.Q17

在下列哪些情況下，會導致經濟效率？

- (1) 消費者得到最大的總利益。
- (2) 所有潛在得益可以完全攫取。
- (3) 邊際社會利益等於邊際社會成本。

- A. 只有 (1)、(2)
- B. 只有 (1)、(3)
- C. 只有 (2)、(3)
- D. (1)、(2) 及 (3)

## 5. 2012.MC.Q14

由 2011 年 7 月 10 日開始，市區的士服務首兩公里的車費由 18 元增加至 20 元。下列哪些有關市區的士服務的陳述是正確的？

- (1) 的士服務的需求下降。
- (2) 相對短程的士服務，長程的士服務的價格下降。
- (3) 的士服務的消費者盈餘下降。

- A. 只有 (1)、(2)
- B. 只有 (1)、(3)
- C. 只有 (2)、(3)
- D. (1)、(2) 及 (3)

## 6. 2012.MC.Q19

增加對某物品的有效配額會導致

- (1) 該物品的交易量上升。
- (2) 該物品的質素進一步提升。
- (3) 效率損失較小。


- A. 只有 (1)、(2)
- B. 只有 (1)、(3)
- C. 只有 (2)、(3)
- D. (1)、(2) 及 (3)

## 7. 2013.MC.Q18

假設市場均衡產出水平高於效率產出水平。這意味著

- A. 若減少產出令其更接近效率產出水平，總社會盈餘會上升。
- B. 在均衡產出水平，邊際得益大於邊際成本。
- C. 消費者盈餘和生產者盈餘之和達到最大，因為市場產出水平滿足均衡條件。
- D. 政府有需要作出干預以令產出下降，因為出現過度生產。

8. 2013.MC.Q19

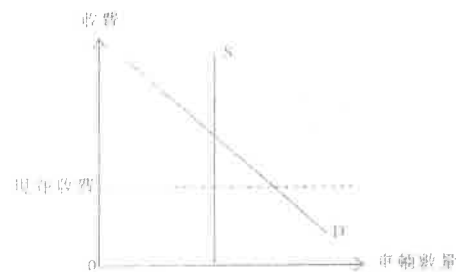
參閱以下某物品的供需圖，政府為該物品設立配額  $Q_1$ 。

下列哪項是減少該物品配額的結果？

- (1) 對該物品的總支出可能上升或下降。  
 (2) 消費者盈餘會下降。  
 (3) 總社會盈餘可能上升或下降。
- A. 只有 (1)  
 B. 只有 (1)、(2)  
 C. 只有 (2)、(3)  
 D. (1)、(2) 及 (3)

9. 2014.MC.Q15

參閱以下有關海底隧道的供需圖。



政府建議提高海底隧道的收費，以減輕繁忙時段的交通擠塞情況。假設隧道最大型車流量是固定的。

下列哪些陳述是正確的？

- (1) 對海底隧道服務的需求會減少。  
 (2) 海底隧道的總收益會上升。  
 (3) 由交通擠塞引起的效率損失會減少。  
 (4) 司機使用該隧道的機會成本會上升。
- A. 只有 (1)、(3)  
 B. 只有 (1)、(4)  
 C. 只有 (2)、(3)  
 D. 只有 (2)、(4)

10. 2014.MC.Q21

下列哪些是政府降低對某物品的有效價格上限的結果？

- (1) 生產者盈餘下降  
 (2) 超額需求上升  
 (3) 若需求屬高彈性，總銷售收益會上升。
- A. 只有 (1)、(2)  
 B. 只有 (1)、(3)  
 C. 只有 (2)、(3)  
 D. (1)、(2) 及 (3)

11. 2014.MC.Q22

政府對化妝品開徵從量銷售稅會

- A. 引致對化妝品的總支出下降  
 B. 引致除稅後總銷售收益下降  
 C. 增加化妝品市場的總社會盈餘  
 D. 增加化妝品市場的生產者盈餘

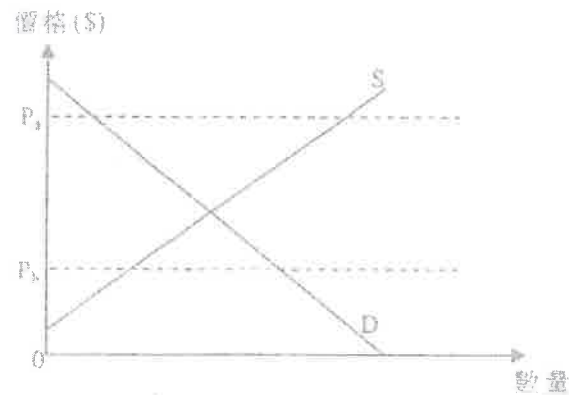
12. 2014.MC.Q23

假設汽車和汽油的供應曲線是向右上傾斜的。若政府對汽車的生產實施一有效的配額，

- A. 汽車市場的總社會盈餘會上升。  
 B. 汽車市場的生產者盈餘會下降。  
 C. 汽油市場的總社會盈餘會下降。  
 D. 汽油市場的消費者盈餘會上升。

13. 2015.MC.Q19

細閱下圖。

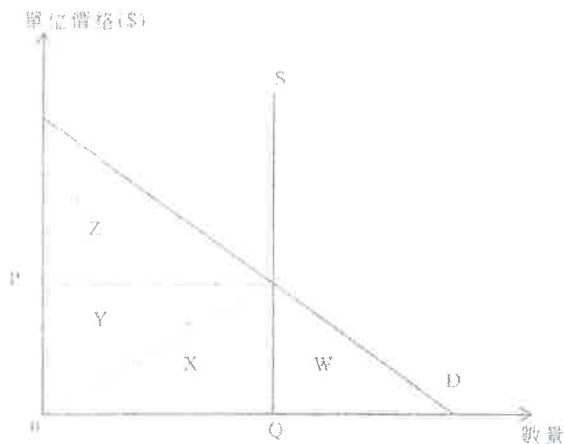


若政府將價格上限由  $P_a$  調低至  $P_b$ 。

- A. 交易量會上升。
- B. 效率損失會下降。
- C. 生產者盈餘會減少。
- D. 消費者盈餘會增加。

14. 2015.MC.Q22

細閱下圖。



最大的總社會盈餘等於 \_\_\_\_\_。

- A. 面積 Z。
- B. 面積  $(Y+Z)$ 。
- C. 面積  $(W+X+Y)$ 。
- D. 面積  $(X+Y+Z)$ 。

15. 2016.MC.Q21

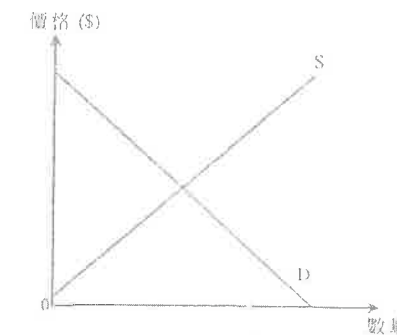
下列哪種情況會導致有效率？

- A. 總社會得益等於總社會成本。
- B. 生產者盈餘等於消費者盈餘。
- C. 邊際社會得益和邊際社會成本的差額為零。
- D. 市場上全部消費者的消費者盈餘達至最高。

16. 2016.MC.Q22

下圖顯示物品 X 的供應和需求曲線。

物品 X

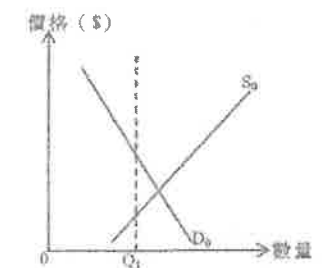


物品 X 和物品 Y 屬於競爭性供應。物品 Y 的需求上升會令物品 X 市場的消費者盈餘 \_\_\_\_\_，而生產者盈餘 \_\_\_\_\_。

(假設物品 X 的供應和需求曲線平行移動。)

- A. 增加 ... 增加
- B. 增加 ... 減少
- C. 減少 ... 增加
- D. 減少 ... 減少

17. 2019.Q21 參閱以下物品 X 的供需圖。



若政府把配額設定為  $Q_1$ ，\_\_\_\_\_ 會下降。

- (1) 總社會盈餘
- (2) 物品 X 的總支出
- (3) 消費者盈餘
- (4) 生產者盈餘

- A. 只有 (1)、(2)
- B. 只有 (1)、(3)
- C. 只有 (2)、(4)
- D. 只有 (3)、(4)

假設全球暖化導致鮮花收成欠佳，鮮花的邊際利益會 \_\_\_\_\_，而總交易價值 \_\_\_\_\_。

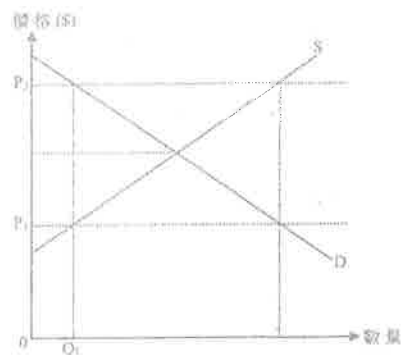
- A. 減少.....會減少
- B. 增加.....會增加
- C. 減少.....可能減少或增加
- D. 增加.....可能減少或增加

近年，中國對私家車的需求上升，這吸引了福士汽車（一家德國汽車製造商）在中國開設汽車製造工廠。

上述國家說明了價格的 \_\_\_\_\_ 功能，因為 \_\_\_\_\_。

- A. 配給.....在中國，私家車賣給最高價值的用家
- B. 配給.....在德國，較少買家願意購買私家車
- C. 分配.....在德國，私家車的供應下降
- D. 分配.....在中國，更多的資源投資在私家車的生產上

參閱以下物品 X 的供需圖。



若物品 X 的價格下限由  $P_1$  轉變至  $P_2$ 。

- A. 生產者盈餘會上升。
- B. 物品 X 的交易量會維持在  $Q_1$ 。
- C. 效率損失會增加。
- D. 物品 X 的短期需求會轉變為超額供應。

由於大部分學校進行網上授課，更多學生需要購買平板電腦。最後一單位的平板電腦的邊際成本會 \_\_\_\_\_，而生產者盈餘會 \_\_\_\_\_。

- A. 下降 ... 上升
- B. 下降 ... 下降
- C. 上升 ... 上升
- D. 上升 ... 下降

原初某國對咖啡豆生產實施有效配額。

若現在更多人愛喝咖啡，下列哪些有關咖啡豆市場的陳述是正確的？

- (1) 總支出會上升。
- (2) 效率損失會上升。
- (3) 消費者盈餘會上升。

- A. 只有 (1)、(2)
- B. 只有 (1)、(3)
- C. 只有 (2)、(3)
- D. (1)、(2) 及 (3)

## 03MC1 答案

1	D	11.	B (72)
2	A	12.	C (66)
3	B	13.	C
4	C	14.	D
5	C	15.	C
6	B	16.	D
7	A	17.	B
8	B	18.	D
9	C	19.	D
10	A (65)	20.	C

21C

22A

## 經濟 03MC2 界外效應 多項選擇題 (Sample – 2016)

## 1. Sample Paper.MC.Q18

在下列哪種情況下，私人與社會的成本/利益將不會出現分歧？

- A. 一家位於上游的化工廠污染一條河流，而沒有考慮對下游漁民造成的損害。
- B. 一名食客於酒樓吸煙而沒有考慮對附近的人的影響。
- C. 一個農夫飼養的羊群破壞鄰近農地的農作物，而該農地是該農夫所擁有。
- D. 一名鋼琴好手在家彈奏鋼琴而沒有向享受這些音樂的鄰居收取任何款項。

## 2. 2013.MC.Q20

養蜂者養蜂是為獲取蜂蜜。養蜂對附近果園的居民有利，因為蜜蜂幫助果園的果樹傳播花粉。下列哪項有關上述個案的陳述是正確的？

- A. 私人和社會得益分歧會出現，而蜂蜜會過度生產。
- B. 養蜂者應獲政府補貼以改善經濟效率。
- C. 若蜂蜜的價值高於水果的價值，政府毋須介入改正界外效應。
- D. 若附近果園屬該養蜂者所擁有，私人和社會得益分歧不會出現。

## 3. 2014.MC.Q18

韓國的流行歌手在香港越來越受歡迎。對這些歌手來說，下列哪些屬於他們的私人得益？

- (1) 出售他們的唱片所得的版稅收入增加了。
  - (2) 韓國所設計的服裝其銷售收益增加了。
  - (3) 到訪韓國的遊客人數增加了。
  - (4) 他們在香港舉行演唱會所分成的收益增加了。
- A. 只有 (1)、(3)
  - B. 只有 (1)、(4)
  - C. 只有 (2)、(3)
  - D. 只有 (2)、(4)

## 4. 2014.MC.Q19

在香港，下列哪些是減輕私人與社會成本分歧這個問題的方法？

- (1) 收取排污費
  - (2) 收取大學學費
  - (3) 收取電費
  - (4) 對使用膠袋徵費
- A. 只有 (1)、(3)
  - B. 只有 (1)、(4)
  - C. 只有 (2)、(3)
  - D. 只有 (2)、(4)



5. 2015.MC.Q17

下列哪項是私人利益和社會利益分歧的一個例子？

- A. 一名保安員在演奏廳當值時觀看到現場音樂會。
- B. 一名遊客在欣賞街頭歌手的音樂表演而沒有付費。
- C. 一名住客在卡拉 OK 酒廊隔鄰的居民因噪音不能入睡。
- D. 機場遷離後，該地區的住宅樓宇的市場價值上升。

6. 2017 Q12

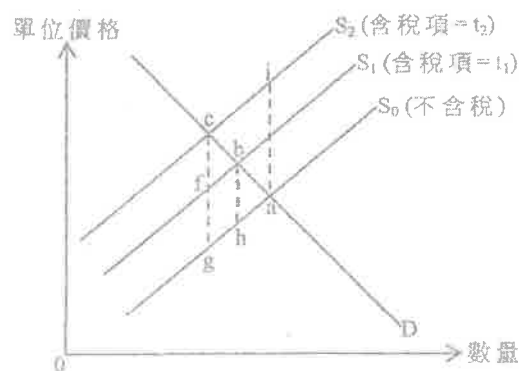
著名藝人于草蘭辦了一場表演，很多人抱怨未能購得門票。門票黃牛黨在互聯網上轉售這些門票，有買家付出高於港幣 \$10 000 購入一張門票。

上述個案說明，價格的 \_\_\_\_\_ 功能，因為 \_\_\_\_\_。

- A. 分配……這些門票配給予最高價值的買家。
- B. 分配……價格愈高，需求便會下降。
- C. 分配……價格愈高，利潤便會增加。
- D. 分配……更多的資源應該分配予生產商以增加供應。

7. 2018 Q22

下圖顯示物品 X 的供需曲線。



假設政府對物品 X 的稅項由  $t_1$  提高至  $t_2$ 。下列哪項陳述是正確的？

- A. 效率損失會增加面積  $bcgh$ 。
- B. 效率損失會減少面積  $abh$ 。
- C. 新的效率損失是面積  $bcf$ 。
- D. 新的效率損失是面積  $aci$ 。

8. 2018 Q23

近年，無人飛行系統變得十分普及，但在市區使用這些飛行器引起人們對它在噪音和安全方面的關注。民航處正考慮對生產、進口和銷售無人飛行系統作出監管。

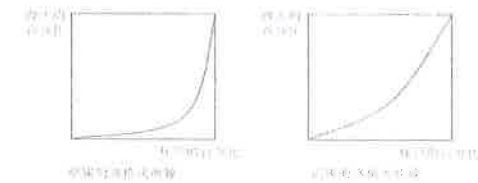


這是私人 and 社會 \_\_\_\_\_ 分歧的一個例子，而 \_\_\_\_\_ 的方法正被考慮用作減少該分歧。

- A. 成本……市場
- B. 成本……政府
- C. 利益……市場
- D. 利益……政府

## 1. Sample Paper.MC.Q19

細閱下列兩個經濟的洛倫茨曲線。



從上圖，我們可得出結論如下：

- A. 甲國的收入分配較乙國的平均。
- B. 乙國的收入分配較甲國的平均。
- C. 甲國的高收入組別人士較乙國的有更高收入。
- D. 乙國的高收入組別人士較甲國的有更高收入。

## 2. Practice Paper.MC.Q18

下表顯示甲經濟由年份 1 至年份 4 的堅尼系數。

年份	堅尼系數
1	0.534
2	0.563
3	0.609
4	0.614

根據以上資料，下列哪項／些陳述是正確的？

- (1) 高收入住戶的收入增加，而低收入住戶的收入則減少。
  - (2) 收入分布愈變不均。
  - (3) 一般生活水準下降。
- A. 只有 (1)
  - B. 只有 (2)
  - C. 只有 (3)
  - D. (1)、(2) 及 (3)

## 3. Practice Paper.MC.Q19

下列哪項是有效的最低工資法最有可能帶來的影響？

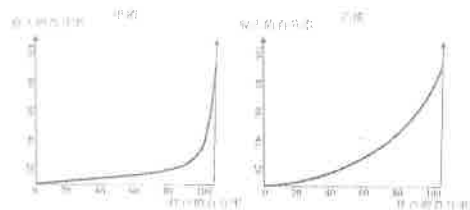
- A. 收入分布會變得較平均。
- B. 工人的總工資收入會上升。
- C. 就業人口會增加。
- D. 非價格競爭會出現。

## 03MC2 界外效應 答案

1.	C
2.	D
3.	B
4.	B
5.	B
6.	A
7.	A
8.	B
9.	
10.	

## 4. 2012.MC.Q20

下圖顯示甲、乙兩國的洛倫茨曲線。



根據以上兩圖，

- A. 乙國的國民收入較甲國高。
- B. 乙國的低收入組別的收入高於甲國低收入組別的收入。
- C. 甲國的低收入分配較乙國平均。
- D. 甲國的堅尼系數較乙國高。

## 5. 2012.MC.Q21

下列哪些是導致不同人之間收入不均的可能原因？

- (1) 種族的差異
  - (2) 資本擁有權的差異
  - (3) 健康的差異
- A. 只有 (1)、(2)
  - B. 只有 (1)、(3)
  - C. 只有 (2)、(3)
  - D. (1)、(2) 及 (3)

## 6. 2014.MC.Q20

下列哪項政策能減低香港按除稅及福利轉移後住戶每月收入計算的堅尼系數？

- A. 增加薪俸稅的標準稅率
- B. 減低薪俸稅的變態稅率
- C. 減低綜合社會保障援助的金額
- D. 向每位僱員的強積金戶口注入一筆等額的金錢

## 7. 2015.MC.Q21

假設某經濟除稅後的堅尼系數比稅前的堅尼系數高，這意味著

- A. 政府增加了給窮人的轉移支付的金額。
- B. 該經濟的稅制很可能是累退性的。
- C. 收入不均的問題比去年差。
- D. 政府應該改革稅制。

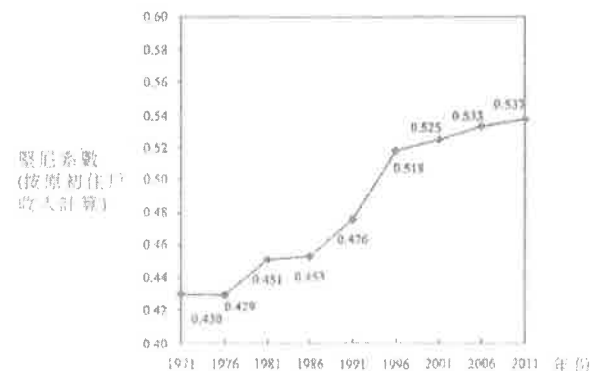
## 8. 2017.Q20

李嘉誠基金會向每位居住在那些平均住戶收入較低之偏遠地區的 2017 年香港中學文憑考試考生派發港幣 5 000 元。下列哪項有關該無條件餽贈的陳述是正確的？

- A. 這減低了收入不均，因為收到該餽贈的人較大部分來自低收入組別。
- B. 這增加了收入不均，因為對居住在非偏遠地區的考生並不公平。
- C. 因為該款項是給予那些居住在偏遠地區的所有考生，所以收入分配維持不變。
- D. 這有助機會均等化，因為那些考生會更用功讀書以提高其考試成績。

## 9. 2017.Q21

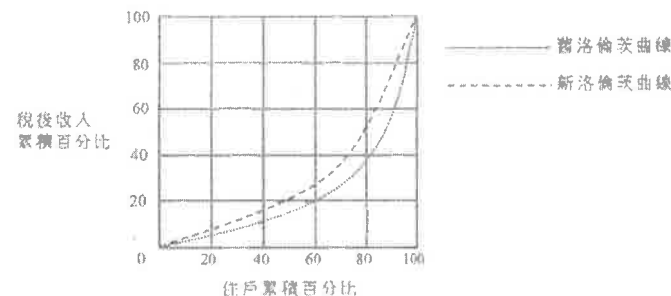
圖顯示香港的堅尼系數(按原初住戶收入計算)。



根據上圖，我們可以得出的結論是：

- A. 香港人的收入水平上升。
- B. 高收入住戶的收入增加而低收入住戶的收入減少。
- C. 福利政策未能減低收入不均。
- D. 收入差距日漸擴大。

## 10. 2019.Q19



下列哪項政策會使香港的洛倫茨曲線有以上的轉變？

- A. 減低利得稅率
- B. 減少薪俸稅免稅額
- C. 提高薪俸稅的累進程度
- D. 增加機場離境稅

由 2017 學年起，香港政府向修讀本地私立教育機構所開辦的全日制自資學士學位課程的學生提供每年 \$30 000 的資助。

下列哪些是這資助計劃的可能影響？

- (1) 失業率會下降，因為勞動人口會增加。
  - (2) 該計劃有助於機會均等化，因為來自低收入住戶的學生有更大機會接受高等教育。
  - (3) 全民就業產出水平將來會上升，因為人們接受較佳的教育和培訓後平均生產力會上升。
- A. 只有 (1)、(2)  
B. 只有 (1)、(3)  
C. 只有 (2)、(3)  
D. (1)、(2) 及 (3)

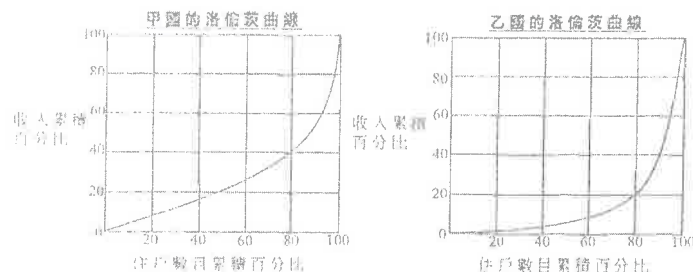
細閱下列的新聞摘要：

近十年來，由於需求持續上升，柏林住宅單位的租金已上升一倍。為了應付該問題，柏林政府實施「租金凍結法」，限制住宅單位的租金最少 5 年內不能增加。

假設香港推行類似的法例，下列哪項陳述是正確的？

- A. 堅尼系數會上升。
- B. 政府的物業稅收入會上升。
- C. 若住宅單位的需求持續上升，效率損失會出現。
- D. 物業持有人會有較高意欲裝修其單位。

細閱以下兩條洛倫茲曲線。



與乙國相比，

- A. 甲國的堅尼系數較高。
- B. 甲國的生活水準較高。
- C. 甲國最高層 20% 的住戶的總收入較低。
- D. 甲國的收入分佈較均等。

下表顯示 2018 年女性與男性按年齡劃分的平均年收入資料。

年齡	女性平均年收入 (港幣 \$)	男性平均年收入 (港幣 \$)
20 - 29	122 000	121 000
50 - 59	482 000	645 000

下列哪些可能解釋以上資料所示的現象？

- (1) 女性傾向於比男性更早離開職場以照顧家庭，以致擔任公司高職的女性較少。
  - (2) 勞動市場的性別歧視存在於年長一輩中。
  - (3) 人力資本的積累導致不同年齡組別的收入差異。
- A. 只有 (1)  
B. 只有 (2)  
C. 只有 (3)  
D. (1)、(2) 及 (3)

參閱以下香港的政策建議。

- 建議 (1): 向在公屋輪候冊上超過五年的人士提供現金補貼
- 建議 (2): 將長者綜合社會保障援助計劃的合資格年齡由 60 歲提高至 65 歲
- 建議 (3): 將薪俸稅的標準稅率提高

以上哪些建議會降低香港按稅及福利轉移後住戶每月收入計算的堅尼系數？

- A. 只有 (1)、(2)
- B. 只有 (1)、(3)
- C. 只有 (2)、(3)
- D. (1)、(2) 及 (3)

下表顯示有關兩個頂級足球聯賽的資料。

足球聯賽	球員的每年平均收入	
	防守球員	進攻球員
英格蘭	£2 751 537	£3 839 875
意大利	£1 536 945	£2 675 975

下列哪項／些是球員之間收入差異的可能原因？

- (1) 英格蘭頂級足球聯賽的電視轉播收入較意大利的為高。
  - (2) 英格蘭的物價水平較意大利的為高。
  - (3) 進攻球員的商業價值較防守球員的為高，因為進攻球員較受歡迎。
- A. 只有 (1)  
B. 只有 (2)  
C. 只有 (3)  
D. (1)、(2) 及 (3)

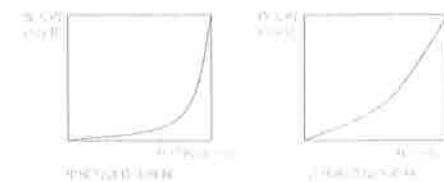
## 03MC3 收入不均 答案

1.	B
2.	B
3.	D
4.	D
5.	D
6.	A
7.	B
8.	A
9.	D
10.	C

- 11 C  
12 C  
13 D  
14 D  
15 B  
16 D

## 1. Sample Paper.MC.Q19

細閱下列兩個經濟的洛倫茨曲線。



從上圖，我們可得出結論如下：

- A. 甲國的收入分配較乙國的平均。  
B. 乙國的收入分配較甲國的平均。  
C. 甲國的高收入組別人士較乙國的有更高收入。  
D. 乙國的高收入組別人士較甲國的有更高收入。

## 2. Practice Paper.MC.Q18

下表顯示甲經濟由年份 1 至年份 4 的堅尼系數。

年份	堅尼系數
1	0.534
2	0.563
3	0.609
4	0.614

根據以上資料，下列哪項／些陳述是正確的？

- (1) 高收入住戶的收入增加，而低收入住戶的收入則減少。  
(2) 收入分布愈變不均。  
(3) 一般生活水準下降。  
A. 只有 (1)  
B. 只有 (2)  
C. 只有 (3)  
D. (1)、(2) 及 (3)

## 3. Practice Paper.MC.Q19

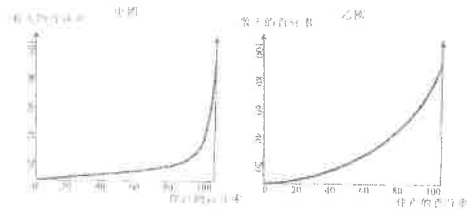
下列哪項是有效的最低工資法最有可能帶來的影響？

- A. 收入分布會變得較平均。  
B. 工人的總工資收入會上升。  
C. 就業人口會增加。  
D. 非價格競爭會出現。



## 4. 2012.MC.Q20

下圖顯示甲、乙兩國的洛倫茨曲線。



根據以上兩圖，

- A. 乙國的國民收入較甲國高。
- B. 乙國的低收入組別的收入高於甲國低收入組別的收入。
- C. 甲國的低收入分配較乙國平均。
- D. 甲國的堅尼系數較乙國高。

## 5. 2012.MC.Q21

下列哪些是導致不同人之間收入不均的可能原因？

- (1) 種族的差異
  - (2) 資本擁有權的差異
  - (3) 健康的差異
- A. 只有 (1) 及 (2)
  - B. 只有 (1) 及 (3)
  - C. 只有 (2) 及 (3)
  - D. (1)、(2) 及 (3)

## 6. 2014.MC.Q20

下列哪項政策能減低香港按除稅及福利轉移後住戶每月收入計算的堅尼系數？

- A. 增加薪俸稅的標準稅率
- B. 減低薪俸稅的邊際稅率
- C. 減低綜合社會保障援助的金額
- D. 向每位僱員的強積金戶口注入一筆等額的金錢

## 7. 2015.MC.Q21

假設某經濟除稅後的堅尼系數比稅前的堅尼系數高，這意味著

- A. 政府增加了給窮人的轉移支付的金額。
- B. 該經濟的稅制很可能是累退性的。
- C. 收入平均的問題比去年差。
- D. 政府應該改革稅制。

## 答案

1.	B
2.	B
3.	D
4.	D
5.	D
6.	A
7.	B
8.	
9.	
10.	

1. 1990.1 (a)

王太是一位律師，也擅長打理家務，但是她僱用一名菲傭為她打理家務。

(ii) 菲傭工作屬於何種生產級別？並加解釋。

(2 分)

2. 1996.2

「意粉屋」是一間快餐店，出售意大利薄餅和其他意式食物。

寫出該店所屬生產級別的名稱，並加以解釋。

(4 分)

3. 2004.9(d)

解釋汽車代理商屬何種生產類別。

(2 分)

4. PP.Q11(b)

高中教科書的價格大幅上升，這是因為教科書出版商需要為新課程出版新教科書。

(b) 解釋這些教科書內的知識是否共用品。

(3 分)

5. 2015.Q2(a)

很多電子產品零售商位於旺角。

(a) 電子產品零售商屬於哪一種類的生產？試加以解釋。

(2 分)

6 2017 Q13a

為了應付香港人口急速老化的問題，政府建議一項退休保障計劃，計劃下合資格長者每年可領取 \$38 760。

(a) 陳先生是一位獨居者。在該計劃下，他合資格領取 \$38 760。他便施高揚安老院服務，將會花費其中的 \$30 000 支付一年的院費。

(i) 安老服務屬哪一類別的生產？

(1 分)

(ii) 若陳先生入住安老院，解釋香港的本地生產總值會如何受影響。

(2 分)

1. 1990.1(a)(ii)

菲傭的工作屬第三級生產，因為工作是勞務的一種。

2. 1996.2

這是第二級及第三級生產。

第二級生產是將原料加工為半製成品或製成品的生產活動。

「意粉屋」將食物原料烹煮，變成煮好的食物，符合第二級生產的定義。

第三級生產是指提供各種不同服務。

顧客到「意粉屋」進餐時，有侍應生提供招待服務，正符合第三級生產的定義。

3. 2004.9(d)

第三級生產，因為他們提供服務。

4. PP.Q11(b)

是

(1)

✓ 知識屬非競爭性消費，一個人消費該物品不會減少他人可享用該物品的數量。

任何一項：

✓ 知識屬非排他性消費，要排除他人使用該物品的成本很大。

最高：2

5. 2015.Q2(a)

第三類生產，

(1)

因為它提供零售服務。

(1)

6 2017 Q13a

(a) (i) 三級生產，

1 分  
(1)

(ii) GDP 上升，因為安老院的服務收費是陳先生花費在最終物品和服務上的消費支出。

(2)

1. 1995.Q2

電視台製作每天的新聞報導時，不同的人擔任不同的職務例如：記者、編輯、拍攝人員等。

這說明哪一項經濟原理？列舉兩項理由解釋為何在製作該節目時應用該原理可以提高勞動生產力。(5 分)

2. 2001.Q1

列出分工可以增加勞工生產力的三項理由。(3 分)

3. 2003.Q10(a)

編製教科書時，不同人士擔任不同的職責，例如編輯、打字員和校對員。

上文說明了哪一個經濟學原理？建議三項理由解釋為何應用該原理可以提高勞工生產力。(4 分)

4. 2005.Q10(b)(iii)

在通商時，兩國增加各自的專業化程度。解釋這會如何

- (I) 提高兩國的勞工生產力。  
(II) 減低兩國的平均生產成本。(4 分)

5. PP.Q11(a)

高中教科書的價格大幅上升，這是因為教科書出版商需要為新課程出版新教科書。

(a) 生產教科書會涉及各種專家，如作者、編輯、繪圖設計師等。這說明了什麼經濟原理？列舉三項理由，解釋為什麼這原理能提升勞工生產力。(4 分)

6. 2013.Q10(a)

餐廳的工作人員包括廚師、侍應、經理和帶位員。

(b) 上述現象說明了什麼經濟原理？列出三個該原理能提高勞工生產力的原因。(4 分)

7. 2016.Q13(a)

H 國的機場管理公司是一間公營公司。它聘請了不同職員營運機場，例如有保安員、技術員、工程師和財務經理。

(a) 該做法說明了哪項經濟原理？舉出三項理由，解釋為什麼應用該原理能提高勞工的生產力。(4 分)

1. 1995.Q2

分工/專業化

- 可以根據天份和技能來指派工作
- 不斷練習使生手工人變成熟手工人
- 只須從事一種工序生產，不須從一種工序轉到另一種工序，可節省時間
- 不須學懂所有工序，可節省時間
- 鼓勵使用資本物品/較先進資本物品

2. 2001.Q1

- 促進機械化的生產
- 熟能生巧
- 節省學習時間
- 節省從一個工序轉換到另一個工序的時間
- 知人善任
- 任何其他相關點

只批閱首三項，1@，最高 3 分

3. 2003.Q10(a)

這是分工。勞工生產力增加的原因包括：

- 用最適人選來工作
- 熟能生巧
- 節省訓練時間
- 節省從一個工序轉換至另一工序工作的時間
- 刺激機械化

4. 2005.Q10(b)(iii)

(I) 專業化行業的工人和經理會更有效率，因為專業化容許他們學識更多專門知識及技術（即從實踐中學習）。2

(II) 專業化會擴大生產規模，故帶來規模經濟。（減低平均成本）2

5. PP.Q11(a)

分工／專門化生產

- 熟能生巧
- 用最適人選來工作
- 節省員工訓練的時間
- 節省轉換工作崗位的時間
- 任何其他相關點

1  
2@ x 2;  
最高: 4 分  
(只批閱首兩項。)

(I)  
1@ x 3;  
最高: 3 分  
(只批閱首三項。)

6. 2013.Q10(a)

問題 10(a) 原因：

熟能生巧  
挑選最合適的員工擔任工作  
節省訓練員工的時間  
促進機械化  
任何其他相關點  
[只批閱首三個]

7. 2016.13a

(a) 分工 / 專門化  
原因：

熟能生巧  
挑選最合適的員工擔任工作  
節省訓練員工的時間  
促進機械化  
任何其他相關點  
[只批閱首三個]

1. 1995.11(b)

葉先生擁有一物業代理行，並僱用瑪麗擔任文員一職。試將葉先生與瑪麗所扮演的經濟角色加以區分。解釋你的答案。 (4 分)

2. 1996.4(b)

解釋為甚麼交通燈是一種資本。 (2 分)

3. 1997.Q1

國強在新界擁有一幅土地作農耕用途。他僱用了工人在他的農場內與他一起工作。國強屬於哪幾類型的生產因素？解釋你的答案。 (4 分)

4. 2004.9(c)

解釋在陳列室中展示的汽車屬何種生產要素。 (2 分)

5. 2005.2

家明是一家冷氣器維修公司的東主。他也會為客戶維修冷氣機。家明屬於哪幾類的生產要素？試加解釋。 (4 分)

6. 2013.Q11(b)(i)

政府已推出「鼓勵就業交通津貼計劃」，目標如下：

(1) 減輕低收入住戶在職人士往返工作地點的交通費負擔

(2) 鼓勵持續就業

申請人必須符合住戶每月入息和資產限額（以單身人士為例，每月入息不可超過\$7 300，而資產不可超過\$72 000）及每月工作不少於 72 小時以申請每月\$600 的津貼。

討論該計劃對下列各項的影響：

(b)(i) 勞力流動性 (3 分)

7. 2015.Q10(c)

職業足球員通常在三十多歲退休。雖然他們大多在當球員時薪酬可觀，但有些在退休後只能找到低薪工作。以勞工流動性為依據，解釋上述現象。 (3 分)

8. 2016.Q10(b)

在中國西部省份，很多住宅樓宇的屋頂都安裝了太陽能電池板以進行太陽能發電。

(b) 解釋陽光在生產太陽能時屬於哪種生產要素。 (2 分)

## 1. 1995.11(b)

葉先生的經濟角色是代理行的企業家，而瑪麗只是勞力。因此，在職能方面葉先生須要作最後決策和承擔企業風險，但瑪麗只須在工作上付出智力和體力。

## 2. 1996.4(b)

資本是指一切在生產過程中使用的人造資源。

交通燈是提供指揮交通服務中使用的一種人造資源，因此是一種資本。

## 3. 1997.1

國強屬於企業家職能及勞力。

在生產過程中，企業家職能是負責決策及承擔風險。

國強擁有一幅土地和僱用了工人作生產用途，因此承擔了生產的風險及負責了農場的決策工作。

另一方面，勞力在生產過程中提供體力和腦力。

國強和工人一起工作，因此亦提供了體力和腦力。

## 4. 2004.9(c)

資本，因為這些汽車是人造資源（用以協助生產）。

## 5. 2005.2

企業家職能：他承擔風險 / 決策

(1+1)

勞力：他在生產過程中提供人力服務

(1+1)

## 6. 2013.Q11(b)(i)

(i) 它令地域流動性上升，因為工人較願意到其他地區工作。

(3)

## 7. 2016.10b

(b) 土地，因為它是大自然賦予的一種天然資源。

## 1. 1990.1(a)(iii)

列舉兩項理由說明為何僱用華傭是用「時計」而非「件計」方式付酬的。

(4 分)

## 2. 1992.1(c)

設某的士車主聘用一位司機提供的士服務並與司機攤分總營業額。對這位車主來說，這種支付酬勞的方式有甚麼優點和缺點？

(6 分)

分別舉述一項，並加解釋。

## 3. 1993.1(d)

「好味棧」是一快餐店。

「好味棧」的經理，除了收取固定月薪外，還可分享該店的部分利潤。上述兩種支付酬勞的方式對該店有甚麼好處？試各舉一項。

(4 分)

## 4. 1996.12(b)

件計是製造業常用的付酬方式。試從僱主的觀點出發，解釋該付酬方式的優、劣點各一。

(4 分)

## 5. 1998.11(a)

汽車代理商一般支付基本月薪予他們的售貨員，並且在他們每賣出一部汽車時，另外再付佣金。

從汽車代理商的角度，解釋兩項上述付酬方式的好處。

(4 分)

## 6. 1999.3

比較下列兩則廣告：

<p>甲公司 招聘貨車司機 工資：每月\$10 000</p>	<p>乙公司 招聘貨車司機 工資：每程\$200</p>
---	--------------------------------------

寫出上述兩種付酬方式的名稱。並從僱主的角度將它們加以比較，各舉一項較對方優勝之處。解釋你的答案。

(6 分)

## 7. 2001.9(c)

陳先生是某製衣廠的東主，以「件計」方式支付員工的工資。與「時計」方式比較，件計方式對陳先生有何利弊？試各舉一項。

(2 分)

## 8. 2007.2

細閱下列甲職位和乙職位的工作概況：

<p><b>甲職位</b> 打字文員 工作時間：上午 9 時至下午 5 時 每周工作 5 天 薪酬：每月 \$8 000</p>	<p><b>乙職位</b> 打字服務 將文件轉為 WORD 檔案 報酬：每張 A4 紙 (約 200 字) 為 \$4</p>
--	---

(a) 甲職位和乙職位的付酬方式分別是甚麼？

(2 分)

(b) 從僱主的角度出發，分別解釋使用

(i) 甲職位的付酬方式的一項缺點。

(2 分)

(ii) 乙職位的付酬方式的一項缺點。

(2 分)

9. 2008.9(c)

證券行以下列方式付酬予它部份的員工：基本薪酬加佣金。  
舉出採用該項付酬方式而非計時方式對雇主的兩項好處。

(4 分)

10. 2009.4

以下是對甲工作及乙工作的描述。

甲工作	乙工作
蒸餾水送貨司機	蒸餾水送貨司機
薪酬：每運送 1 單位 蒸餾水，得 \$1	薪酬：每天得 \$300

- (a) 甲工作的付酬方式是\_\_\_\_\_。(1 分)  
乙工作的付酬方式是\_\_\_\_\_。(1 分)  
(b) 相對於乙工作的付酬方式，解釋甲工作的付酬方式對雇主的利弊各一。(4 分)

11. 2010.3

很多大型電器零售店推銷員的付酬方式都是底薪加上佣金。  
從店主的角度出發，解釋這種付酬方式較只是採用底薪的付酬方式的一項優點，及這種付酬方式較只是採用佣金的付酬方式的一項優點。(4 分)

12. 2013.Q10(b)

以下是某餐廳招聘經理的廣告。

經理
工作時間：中午 12:00 – 下午 10:00 每週工作六天 薪金：每月 \$15 000 + 按表現發放花紅

- (i) 從餐廳東主的角度，解釋上述支薪方法相對時薪的一項優點。(2 分)  
(ii) 從經理的角度，解釋上述支薪方法相對利潤分享制度的一項優點。(2 分)

13. 2015.Q10(b)

下列是兩位職業足球員的合約。

合約甲	合約乙
球員甲	球員乙
每週 \$10 000	每場比賽 \$8 000 + 每進一球 \$10 000

從僱主的角度，解釋合約乙較合約甲兩項優勝之處。(4 分)

14. 2017 Q2

史提芬是某餐廳的車主，他以月薪支付其侍應的工資，並容許他們保留顧客給予的小費。

- (a) 以下列角度解釋為什麼上述安排較按時計薪為佳：(4 分)  
(i) 僱員的角度  
(ii) 僱主的角度  
(b) 由於開設了數間分店，該餐廳的平均生產成本上升了。以兩項理由，解釋為什麼出現這情況。(4 分)

15. 2018 10A

香港的外籍家庭傭工在兩年合約期間獲支付每月港幣 \$4 410 的最低工資。

- (a) 解釋為什麼外籍家庭傭工是按月計薪，而非以件計薪。

16. 2019 Q9C1)

她打算聘請兩名員工營運她的網站：

私人助理	短片設計師
職務： 安排每天日程和會議	職務： 製作上傳至社交媒體的短片
薪金： 每月 12 000 元	薪金： 每段短片 1 000 元

- (c) 從歐愛英小姐的角度，舉出該私人助理的支薪方法的一個優點和一個缺點。(2 分)  
(d) 從僱員的角度，舉出該短片設計師的支薪方法的一個優點和一個缺點。(2 分)



## 1. 1990.1(a)(iii)

華僑的工作涉及不同種類的工序及活動，若以計件工資來計算華僑的產出量，會是十分繁瑣，同時亦付出很大的代價。以計時工資來計算的成本遠比以計件工資來計算的為低。

## 2. 1992.1(c)

與司機分享利潤的優點是此舉能提高司機的工作意欲，令他們更努力地工作。因此，提高了車主的收入。  
此舉的缺點是車主可能要負擔較高的保養費，因為司機會為賺取較多收入而自行過量使用。

## 3. 1993.1(d)

經理的工作是一種勞務，所以難於計算他的產出量。故此，每月有固定的薪金總額比工資的計算，實屬分享利潤制度。經理不但是員工，還是車主。這可視為經理的工作更趨，使他更有效率地經營店舖。

## 4. 1996.12(b)

件計付酬是指按所生產物品的數量計算酬金。由於多勞多得，故工人更有工作熱誠。因此，勞工的生產力會提高。  
由於多勞多得，工人只著重產出量，故容易忽略產品的質素。因此，這會增加品質控制的成本。

## 5. 1998.11(a)

首先，此方式會提高售貨員的工作意欲，因為他們賣出的汽車越多，所得的佣金亦越多。  
另外，代理商的監督成本會下降，因為售貨員所取得的佣金已能反映其生產力，從而減少售貨員偷懶的機會。

## 6. 1999.3

甲公司採用「時計」，而乙公司則採用「件計」付酬方式。對僱主來說，採用「時計」方式的方好處在於其量度成本比「件計」方式低；因為貨車司機的產出並不標準化，難以量度。

可是，若採用「件計」方式付酬，僱主需直接量度司機的產出，成本比較昂貴。反之，採用「時計」方式，僱主只需計算司機的工作時間，量度成本會大幅減低。

另一方面，採用「件計」方式付酬，在提高生產力方面則較「時計」方式優勝。由於司機的報酬與其產出成正比，採用「件計」方式會鼓勵司機努力工作，並可避免在採用「時計」方式時，員工在工作時間內偷懶的問題。

## 7. 2001.9(c)

「件計」的好處是員工會有較高的意欲去工作，因為他們的收入與他們的產量成正比。其壞處是監察產品質素的成本很高，因為當員工只著重於提高其產量去賺取多些收入時，他們往往會忽略產量的質素。

## 8. 2007.2

(a) 甲工作：時計 1  
乙工作：件計 1

(b)(i)  
監察員工工作表現費用較高 / 員工工作 2  
意慾較低 / 生產力下降  
[只批閱 首 項。]

(ii) 產品質素下降 / 量度產出的費用較高 2  
[只批閱 首 項。]

## 9. 2008.9(c)

- 可提升員工的工作意欲 2@  
- 可減少監察員工工作表現的成本 最高 4  
- 可與員工共同分擔經營風險  
- 任何其他相關點  
[只批閱 首兩 項。]

## 10. 2009.4

(a) 甲工作：件計 1  
乙工作：時計 1

(b)  
一項優點：監察員工工作表現的費用較低 / 2  
員工工作意慾較高 / 生產力較高  
[只批閱 首 項。]

一項缺點：量度產出的費用較高 / 監察服務質素的費用較高  
[只批閱 首 項。]

## 11.

## 2010.3

這種付酬方式較只是採用底薪的付酬方式對僱主的優點：

- 可提升店員推銷意欲
- 可減少監察店員工作表現的成本
- 店員也要承擔部分經營風險
- 任何其他相關點

[只批閱 首 項。]

這種付酬方式較只是採用佣金的付酬方式對僱主的優點：

- 可穩定員工團隊
  - 任何其他相關點
- [只批閱 首 項。]

## 12. 2013.Q10(b)

- (i) - 這會改善經理的工作意欲。 2@, 最高：2  
- 任何其他相關點  
[只批閱 首 項。]
- (ii) - 這令收入較穩定，因為即使生意欠佳經理仍然獲發底薪。 2@, 最高：2  
- 任何其他相關點  
- [只批閱 首 項。]

## 13. 2015.Q10(b)

合約乙較合約甲優勝之處：

- 足球隊的東主分擔部分商業風險予球員乙，因為當球員乙沒有比賽 / 沒有進球時，所需支付給球員乙的酬勞較低。 @2;
  - 足球隊的東主降低檢查球員表現的成本，因為球員乙在訓練和比賽的工作意欲較高。 最高：4
  - 任何其他相關點
- [只批閱首兩項]

## 14. 2017.Q2

- (a) (i) 以僱員的角度： 分數 (2)  
努力工作 / 提供更好服務有可能獲取更高收入
- (ii) 以僱主的角度： (2)  
監察侍應表現的成本下降及 / 或侍應努力工作和提供更好服務的意欲會較強

## (b) 原因：

- 該廠商的規模可能變得過大，以致管理效率開始下降。
  - 該廠商可能有大量未償還的貸款，以致再借貸的邊際成本上升。
  - 該市場可能飽和，以致市場推廣成本上升。
  - 任何其他相關點
- [只批閱首兩項原因]

@2  
最高：4

(a) 量度外發家庭傭工產出的成本太高／家傭的工作並不標準化。

分數  
(2)

16/2019/Q9C11

(c) 優點：可節省計算員工產量的成本。  
缺點：工作意欲未必很高。  
[只批閱首項優點和首項缺點]

(2)

(d) 優點：多勞多得。  
缺點：收入或欠穩定。  
[只批閱首項優點和首項缺點]

(2)

1. 1994.2

平均勞動生產力的意思是甚麼？請建議可提高勞動生產力的兩種方法。

(6 分)

2. 1997.10(c)

寫出勞工平均生產力的定義，並舉述兩項理由以解釋為甚麼專門化生產可以提高一國的勞工平均生產力。

(6 分)

3. 2000.11(c)

假設乙國的平均勞工生產力高於甲國。寫出平均勞工生產力的定義，並舉出三項原因解釋為何乙國有較高的平均勞工生產力。

(5 分)

4. 2002.3

	甲廠商	乙廠商
聘用工人數目	100	120
每工人工作時數	500	800
產出（單位）	100 000	144 000

計算兩廠商各自的勞工平均生產力，並列舉兩項理由說明為甚麼它們勞工平均生產力是不同的。

(4 分)

5. 2008.2

參閱下列某工廠的資料：

	2006	2007
聘用工人數目	40	50
每名工人工作時數	300	200
產出的數量單位	36 000	40 000

(a) 分別計算該工廠於 2006 年及 2007 年的勞工生產力。

(2 分)

(b) 舉出兩項可能的原因來解釋為什麼勞工生產力有所轉變。

(2 分)

6. 2010.2

參閱以下甲、乙廠商的資料，兩廠商都從事同一行業。

	甲廠商	乙廠商
聘用工人的數目	20	12
每名工人工作時數	100	200
產出的數量（單位）	100 000	120 000

(a) 解釋甲廠商的勞力供應是否大於乙廠商。

(3 分)

(b) 解釋乙廠商勞工的平均生產力是否高於甲廠商。

(3 分)

- (ai) 來自歐盟的低技術工人的地域流動性會下降。因為簽證的要求令來自歐盟的工人到英國工作的成本上升。

分數  
(3)

經濟 勞力供應及勞工平均生產力。參考答案

1. 1994.2

平均勞工生產力是每人每小時的產出，亦可由總產量除以聘請勞工數目計算出來。

$$\text{平均勞工生產力} = \frac{\text{總產量}}{\text{聘請勞工數目}}$$

要提高勞工生產力，可提供勞工教育和訓練，使他們的工作技巧掌握得更純熟。

另外，增加資本物品的數量及提高其質素會提高勞工的工作效率，使勞工生產力提高。

2. 1997.10(c)

勞工平均生產力是指每單位勞力投入的產出。

專門化生產可以提高一國的勞工平均生產力的兩項理由如下：

首先，勞工會因不斷操作同一種工作而變得熟練，勞工變得更有效率。

另一方面，專門化可節省時間，每一位工人只須接受一個工序的訓練。

工人亦節省了從一個工序轉到另一個工序的時間。

3. 2000.11(c)

平均勞工生產力的定義是每單位勞力的產出。

三項導致乙國有較高的平均勞工生產力的原因如下：

首先，在提供教育和訓練方面，乙國可能較甲國優勝。因此，乙國的勞工的技術水平和生產力會較高。

其次，乙國的科技水平可能較甲國先進。這樣，乙國的勞工會有較高質素的機器裝備，他們的生產力也會提高。

最後，乙國有較佳的管理方式，導致生產因素的運用和協調更有效率，令工人的生產力較甲國高。

4. 2002.3

甲廠商： $100\,000 / (100 \times 500) = 2$  單位工時產出

乙廠商： $144\,000 / (120 \times 800) = 1.5$  單位工時產出

不同訓練和不同工作條件，可以導致它們的勞工平均生產力是不同的。

由於甲廠商為工人提供更佳訓練，使工人的生產力因而提高；此外，甲廠商為工人提供更佳工作條件，亦使工人的生產力提高。

5. 2008.2

(a) 2006年： $[36\,000 / (40 \times 300)] = 3$  單位 / 工時

2007年： $[40\,000 / (50 \times 200)] = 4$  單位 / 工時

(b) - 有更好的資本物品配合勞力的生產 / 機械化

- 更好的工作訓練 / 教育

- 更好的工作環境

- 更好的管理。例：實施分工

- 更大誘因。例：由時計改為件計

- 科技進步

- 任何其他相關點

[只抵閱 首兩項。]

1 @,  
最高：2

6. 2010.2

(a)

甲廠商的勞力供應 =  $(20 \times 100) = 2\,000$  工時。 (1)乙廠商的勞力供應 =  $(12 \times 200) = 2\,400$  工時。 (1)

∴ 結論是：甲廠商的勞力供應（是小于而）並非大於乙廠商。 (1)

(b)

乙廠商的勞工平均生產力 =  $(120\,000/2\,400) = 50$  單位產出/工時。 (1)甲廠商的勞工平均生產力 =  $(100\,000/2\,000) = 50$  單位產出/工時。 (1)

∴ 結論是：乙廠商的勞工平均生產力並非高於甲廠商（，兩者是一樣的）。 (1)

7.2017 Q12a

在英國人民投票反對留在歐盟（即英國脫歐）之前，來自歐盟的工人可以自由在英國工作，反之亦然。英國脫歐引起歐洲經濟震盪，下表顯示關於英國脫歐的一些看法：

英國政客： 歐盟低技術工人應該需要申請簽證才可在英國工作。	英國廠商業主： 該項對歐盟工人的新簽證要求影響到英國經濟的大部分廠商。
環球投資者： 英國政局不穩增加當地投資項目的風險。	歐盟官員： 英國國民前往歐盟國家遊覽或工作可能需要簽證。

(a) 參考英國政客的看法，解釋來自歐盟的低技術工人的勞工流動性會如何受影響。

(3分)

1. 1992.MC.Q4

以下哪一項被歸類為「消費」？

- A. 一位學生將未用過的聖誕咭留待來年聖誕節用。
- B. 一位學生協助清潔他的課室。
- C. 康太教導電視觀眾如何烹飪。
- D. 一位學生觀看音樂電視節目。

2. 1993.MC.Q4

下列哪幾項是三級生產者的例子？

- (1) 一流行曲歌星
- (2) 一麵包師傅
- (3) 一銀行櫃檯員
- (4) 一貨車司機
- (5) 一菲林顯影操作員
- A. 只有(1)、(2)、(5)
- B. 只有(1)、(3)、(4)
- C. 只有(1)、(3)、(5)
- D. 只有(2)、(3)、(4)

3. 1994.MC.Q60

下列哪一種活動 並非 歸類為生產？

- A. 一位母親教導她的孩子閱讀。
- B. 一位兒子幫他的母親在家裡預備晚餐。
- C. 一位父親在家裡修理電視機。
- D. 一位女兒在家裡與她的小貓玩耍。

4. 1995.MC.Q4

瑪麗在日間是某製衣廠的車衣女工。晚上，她是某餐館的女侍應。瑪麗是\_\_\_\_\_生產者。

- A. 二級
- B. 三級
- C. 初級及二級
- D. 二級及三級

5. 1999.MC.Q13

羅先生是香港某津貼中學的一位全職教師。他是一位\_\_\_\_\_生產者，以\_\_\_\_\_方式支薪。

- A. 第二級 ..... 「時計」
- B. 第二級 ..... 「件計」
- C. 第三級 ..... 「時計」
- D. 第三級 ..... 「件計」

6. 2002.MC.Q12

下列哪一項關於生產的描述是正確的？

- A. 已發展國家沒有第一級生產。
- B. 學生為慈善機構賣旗籌款是一種生產活動。
- C. 一家印度餐廳的生產只涉及第三級生產。
- D. 維修車輛屬於第二級生產。

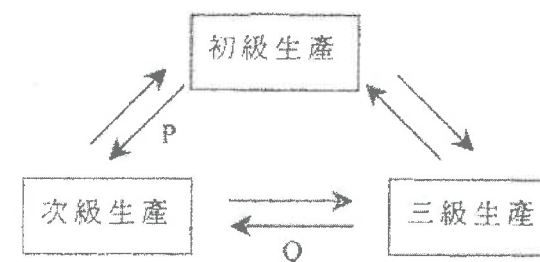
7. 2003.MC.Q15

下列哪項活動被歸類為經濟學上的生產？

- (1) 一位男士派送報紙。
- (2) 一位女孩縫製她的裙子。
- (3) 一位男孩售賣翻版光碟。
- A. 只有(1)、(2)
- B. 只有(1)、(3)
- C. 只有(2)、(3)
- D. (1)、(2)、(3)

8. 2005.MC.Q14

下圖顯示各級生產的關係。P 及 Q 分別代表甚麼？



- A. 服務；消費品
- B. 生產者物品；消費品
- C. 原料；服務
- D. 天然資源；生產者物品

9. 2007.MC.Q13

下表顯示香港就業分布的情況。

年份 部門	1985	1997	2005
第一級生產	2.2 %	0.5 %	0.4 %
第二級生產	43.5 %	20.4 %	13.7 %
第三級生產	54.3 %	79.1 %	86.0 %
(總計)	100 %	100 %	100 %

由上表，我們可推論從 1985 年至 2005 年，

- A. 第一級及第二級生產的就業人數減少了，第三級生產的就業人數則增加了。  
 B. 整體失業率維持不變。  
 C. 第三級生產對本地生產總值的貢獻增加了。  
 D. 第二級生產在就業上的重要性相對地減少了。

10. 2009.MC.Q14

在日本，一些度假酒店為顧客提供天然溫泉。這些度假酒店參與 \_\_\_\_\_，而這些溫泉被歸類為 \_\_\_\_\_。

- A. 初級生產 ..... 生產者物品  
 B. 三級生產 ..... 生產者物品  
 C. 二級生產 ..... 消費者物品  
 D. 三級生產 ..... 消費者物品

11. 2010.MC.Q15

細閱下列某經濟的資料。

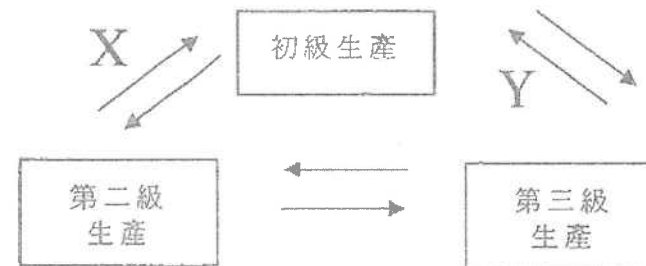
	佔總就業人口百分比 (%)	
	1999 年	2009 年
初級生產	39	5
第二級生產	21	30
第三級生產	40	65
(總計)	100	100

由上表，我們可得以下哪項結論？

- A. 在 2009 年，初級生產在總就業人口中的相對重要性下降了，因為它的勞工平均生產力增加了。  
 B. 多數人在 2009 年的生活水準較在 1999 年為佳。  
 C. 2009 年的第二級生產工人數目可能大於或小於 1999 年的數目。  
 D. 在 2009 年，第三級生產佔本地生產總值的百分比最大。

12. 2011.MC.Q14

下圖顯示三個生產級別的相互關係。X和Y分別代表什麼？



- A. 生產者物品：服務  
 B. 生產者物品：消費品  
 C. 原料：服務  
 D. 天然資源：生產者物品

13. SP.MC.Q5

下列哪項是共用品的例子？

- A. 某慈善機構提供的一個自修室  
 B. 一個公眾足球場  
 C. 一首李白的詩  
 D. 一幢被棄置的工廠大廈



14. PP.MC.Q4

下列哪項對三類生產之間的關係的描述是正確的？

- A. 第一級生產為其他類型的生產提供原材料。
- B. 第二級生產毋須依賴第三級生產去製造完成品。
- C. 第三級生產只依賴第一級生產。
- D. 三類生產是獨立的，其中第三級生產為最重要。

15. 2012.MC.Q4

政府總部的某車位是預留給各政府官員使用的。這個車位屬\_\_\_\_\_，因為\_\_\_\_\_。

- A. 私用品 ... 它只作私人用途
- B. 私用品 ... 它不可能被同時共享
- C. 共用品 ... 政府擁有它
- D. 共用品 ... 沒有人享有其獨有使用權

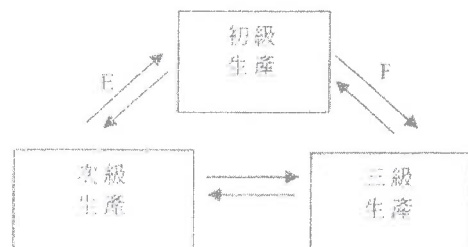
16. 2013.MC.Q6

下列哪項有關歐洲足球賽事的電視廣播的陳述是正確的？

- A. 若市民可在公眾場所如餐廳和卡拉 OK 欣賞賽事廣播，這些賽事的電視廣播便是共用品。
- B. 若某本地電視台購買了在本地的獨家播映權，這些賽事的電視廣播便是私用品。
- C. 這些賽事的電視廣播是免費物品，因為服務額外一位觀眾是沒有成本的。
- D. 若是球訓練學校播放這些比賽作教導兒童之用，這些賽事的電視廣播便是生產者物品。

17. 2014.MC.Q10

下圖顯示三個生產級別的關係。E 和 F 分別代表什麼？



- A. 消費者物品：原料
- B. 生產者物品：服務
- C. 原料：服務
- D. 生產者物品：原料

18. 2015.MC.Q23

下表顯示某經濟的就業分佈。

產業 \ 年	2010	2014
初級	0.4%	0.4%
二級	23.6%	18.5%
三級	76.0%	81.1%
整體	100%	100%

從上表我們可以得出以下結論：由 2010 年至 2014 年，

- A. 從事初級產業的工人數量維持不變。
- B. 整體就業率是相同的。
- C. 三級產業對本地生產總值的貢獻增加了。
- D. 以就業而言二級產業的相對重要性減低了。

19. 2016.MC.Q2

在香港電腦通訊展期間，主辦單位派發 USB 快閃隨身碟給參加者作為禮物。對主辦單位來說，這些 USB 快閃隨身碟是\_\_\_\_\_。

- (1) 經濟物品
- (2) 生產者物品
- (3) 消費者物品

- A. 只有 (2)
- B. 只有 (3)
- C. 只有 (1)、(2)
- D. 只有 (1)、(3)

20. 2016.MC.Q6

學校是提供教育服務的生產單位。以下是一些在學校常見的人物和物件：

- (1) 校舍
- (2) 教師
- (3) 學生
- (4) 教師擁有的私家車
- (5) 洗手間的洗手液

上述哪些是學校的資本？

- A. 只有 (1)、(4)
- B. 只有 (1)、(5)
- C. 只有 (2)、(3)
- D. 只有 (1)、(4)、(5)

04MC0 生產級別、消費品、資本物品、共用品及私用品 答案

1.	D	11.	C	21.	
2.	B	12.	A	22.	
3.	D	13.	C	23.	
4.	D	14.	A	24.	
5.	C	15.	B	25.	
6.	B	16.	D	26.	
7.	D	17.	D	27.	
8.	C	18.	D	28.	
9.	D	19.	C	29.	
10.	B	20.	B	30.	

1. 1990.MC.Q13

在經濟學上，下列哪一項為「土地」的例子？

- A.水塘
- B.工廠
- C.橡膠園
- D.礦藏

2. 1991.MC.Q10

以下哪一項是經濟學上「土地」的一個例子？

- A.填海所得的土地
- B.地下的原油
- C.貯藏於地下的汽油
- D.經改良的維多利亞海港

3. 1992.MC.Q7

中東戰爭導致科威特油井大火。救火隊員冒生命危險去撲滅火災。經濟學者將原油歸類為\_\_\_\_\_，抽油機為\_\_\_\_\_、救火隊員為\_\_\_\_\_、油井擁有者為\_\_\_\_\_。

- A.資本；資本；企業家；企業家
- B.資本；土地；勞力；勞力
- C.土地；土地；資本；企業家
- D.土地；資本；勞力；企業家

4. 1992.MC.Q8

「企業家職能」的主要功能是

- A.設計新產品。
- B.承擔風險。
- C.提供技術專才。
- D.對日常經營事務作出決定。

5. 1993.MC.Q8

下列哪一項屬於「土地」這一生產因素？

- A.西九龍填海區
- B.南中國海漁場
- C.麥理浩徑
- D.海洋公園

6. 1994.MC.Q15

在經濟學裏，政府中學的雨天操場被歸類為\_\_\_\_\_，而校長則被歸類為\_\_\_\_\_。

- A.資本；企業家
- B.資本；勞工
- C.土地；企業家
- D.土地；勞工

7. 1994.MC.Q16

資本不同於土地，例如：

- A.資本是由稀少的資源製造的，而土地則非。
- B.資本的供應彈性較低。
- C.資本的需求屬引伸需求，而土地的則非。
- D.資本為它的擁有者提供較高的回報。

8. 1995.MC.Q19

下列哪一項關於企業家職能的報酬的描述是正確的？

- A. 在商品售價前已可決定它有多少。
- B. 它可以是正值或負值。
- C. 它不跟隨其廠商的營業狀況好壞而變動。
- D. 它高於勞動力的報酬。

9. 1996.MC.Q15

下列哪一項是土地的一個例子？

- A.某能源廠從陽光收集到的太陽能
- B.在水塘收集到的雨水
- C.填海得來的土地
- D.早上農地上的露水

10. 1997.MC.Q13

下列哪一項在經濟學上被歸類為土地？

- A.海鮮酒家出售的活魚
- B.礦藏裏的銀礦
- C.西九龍新填海區的土地
- D.一塊開墾了的土地

11. 1998.MC.Q12

在經濟學上，下列哪一項歸類為土地？

- A.沿維多利亞港填海獲得的土地。
- B.在公海裏捕獲的魚。
- C.郊野公園裏種植的植物。
- D.新發現的地下原油。

12. 1998.MC.Q16

知識

- A.不是資本，因為它沒有一種形體。
- B.不是資本，因為它的擁有權不能轉讓。
- C.是資本，因為人人想擁它。
- D.是資本，因為它能增加將來的財富。

13. 1999.MC.Q11

土地有異於資本，由於

- A. 土地不能增加，而資本是可以增加的。
- B. 土地的需求彈性較資本為低。
- C. 使用土地沒有成本，而運用資本卻是有成本的。
- D. 土地的職業流動性較資本為低。

14. 2000.MC.Q13

下列哪一項被歸類為資本？

- A. 超級巨星的歌唱技巧。
- B. 人們在沙灘上享受的陽光。
- C. 海洋裏強烈的洋流。
- D. 沙漠裏的綠洲。

15. 2000.MC.Q14

「森林裏的野鳥在經濟學上被歸類為土地。」這句話是

- A. 正確的，因為牠們是「免費物品」。
- B. 正確的，因為牠們是天然資源。
- C. 不正確的，因為牠們可以移動而土地沒有地域流動性。
- D. 不正確的，因為牠們的供應並非固定。

16. 2001.MC.Q9

下列哪一項關於土地和資本的描述是正確的？

- A. 土地沒有職業流動性，但資本是有的。
- B. 製造土地沒有成本，但製造資本卻有成本。
- C. 土地是免費物品，但資本卻是經濟物品。
- D. 長遠而言，土地的数量是固定的，但資本的数量卻是可變的。

17. 2001.MC.Q11

下列哪一項被歸類為「資本」？

- A. 加州的陽光
- B. 科威特的油井
- C. 撒哈拉沙漠的沙
- D. 阿爾卑斯山上的新鮮空氣

18. 2001.MC.Q12

丹尼開設一家便利店，並聘用他的朋友國強打理店務。丹尼的工作被歸類為\_\_\_\_\_，而國強的工作被歸類為\_\_\_\_\_。

- A. 二級生產 ... 勞力
- B. 三級生產 ... 企業家職能
- C. 勞力 ... 二級生產
- D. 企業家職能 ... 三級生產

19. 2002.MC.Q15

在經濟學上，下列哪一項關於資本的描述是正確的？

- A. 在短期而言，固定資本的数量是不能改變的。
- B. 在所有生產因素當中，資本的回報率最高。
- C. 資本是製造出來以直接滿足消費者的慾望。
- D. 資本的地域流動性較土地的為高

20. 2003.MC.Q10

假如地鐵在新年前夕延長服務時間，下列哪些是地鐵延長服務時間的可變成本？

- (1) 電費支出 (2) 司機的超時工作津貼
- (3) 向銀行借錢因而要支付的利息
- A. 只有(1)、(2) B. 只有(1)、(3)
- C. 只有(2)、(3) D. (1)、(2)、(3)

21. 2003.MC.Q16

下列哪一項關於「土地」的描述是正確的？

- A. 人力可增加土地供應。
- B. 土地供應可能隨時間而改變。
- C. 土地是「免費物品」，因為它是大自然的一部分。
- D. 土地是「缺乏的物品（又稱稀少性物品）」，因為它是不能製造出來的。

22. 2004.MC.Q14

米高奧雲是利物浦足球會一位著名足球員。在經濟學上，他提供\_\_\_\_\_服務，他的工作屬於\_\_\_\_\_生產。

- A. 企業家職能 ... 第二級
- B. 企業家職能 ... 第三級
- C. 勞力 ... 第二級
- D. 勞力 ... 第三級

23. 2005.MC.Q15

下列哪一項在經濟學上被歸類為土地？

- A. 加了化學肥料的泥土
- B. 植林區裡的樹木
- C. 蘊藏於地下的煤礦
- D. 經開墾的土地

24. 2006.MC.Q13

陳先生擁有一家印刷廠，聘用瑪莉做會計。該工廠屬\_\_\_\_\_生產而瑪莉提供\_\_\_\_\_這種生產要素的服務。

- A. 第二級 ... 勞力
- B. 第二級 ... 企業家職能
- C. 第三級 ... 勞力
- D. 第三級 ... 企業家職能

25. 2007.MC.Q16

下列哪一項對土地的描述是正確的？

- A. 未開採的原油是土地，因為它的供應是固定的。
- B. 海洋是土地，因為它沒有地域流動性。
- C. 降在一片農地上的雨水是土地，因為它是用作生產的天賜之物。
- D. 在熱帶森林裡砍下來的木頭是土地，因為它有生產用途。

26. 2007.MC.Q17

土地有別於資本是因為

- A. 土地的供應不能控制，而資本是可以的。
- B. 土地是「免費物品」，但資本是經濟物品。
- C. 土地的職業流動性較資本的為低。
- D. 土地的供應彈性較資本的為高。

27. 2007.MC.Q18

在經濟學上，計程車被歸類為\_\_\_\_\_；而計程車車主將車子出租予司機的收入被歸類為\_\_\_\_\_。

- A. 土地 ... 租值
- B. 資本 ... 利息
- C. 土地 ... 利息
- D. 資本 ... 利潤

28. 2008.MC.Q14

下列哪項是經濟學上的土地？

- (1) 在大嶼山一帶水域生活的中華白海豚
- (2) 在香港海洋公園裡生活的大熊貓
- (3) 在後海灣裡出現的候鳥
- A. 只有(1)、(2)
- B. 只有(1)、(3)
- C. 只有(2)、(3)
- D. (1)、(2)、(3)

29. 2009.MC.Q15

下列哪項屬於生產要素「土地」？

- A. 在青藏高原上發現的瀕危動物藏羚羊。
- B. 在香港迪士尼樂園內種植的花朵。
- C. 在香港濕地公園內生活的鱷魚。
- D. 在青藏高原行駛的火車上供應的氧氣。

30. 2010.MC.Q17

下列哪項關於「土地」和「資本」的描述是正確的？

- A. 兩者的數量皆可人為地增加。
- B. 兩者皆為固定生產要素。
- C. 土地的供應較資本更具彈性。
- D. 土地較資本更缺乏地域流動性。

31. 2011.MC.Q16

在經濟學上，公立醫院裡的醫生提供\_\_\_\_\_的服務，而他涉及\_\_\_\_\_生產。

- A. 企業家職能 ... 第二級
- B. 企業家職能 ... 第三級
- C. 勞力 ... 第二級
- D. 勞力 ... 第三級

32. 2011.MC.Q17

陳小姐租用一間錄音室來錄製歌曲。在經濟學上，該錄音室被歸類為\_\_\_\_\_，而錄音室擁有人的租金收入被歸類為\_\_\_\_\_。

- A. 土地 ... 租值
- B. 土地 ... 利潤
- C. 資本 ... 利潤
- D. 資本 ... 利息

33. 2016.MC.Q7

學校是提供教育服務的生產單位。以下是一些在學校常見的人物和物件：

- (1) 校舍
- (2) 教師
- (3) 學生
- (4) 教師擁有的私家車
- (5) 洗手間的洗手液

長期而言，上述哪些是學校的可變生產要素？

- A. 只有 (1)、(5)
- B. 只有 (1)、(2)、(5)
- C. 只有 (2)、(3)、(4)
- D. (1)、(2)、(3)、(4) 及 (5)

34. 2016 Q.6

- (1) 校舍
- (2) 教師
- (3) 學生
- (4) 教師擁有的私家車
- (5) 洗手間的洗手液

1. 上述哪些是學校的資本？

- A. 只有 (1)、(4)
- B. 只有 (1)、(5)
- C. 只有 (2)、(3)
- D. 只有 (1)、(4)、(5)

35. 2019 Q.8

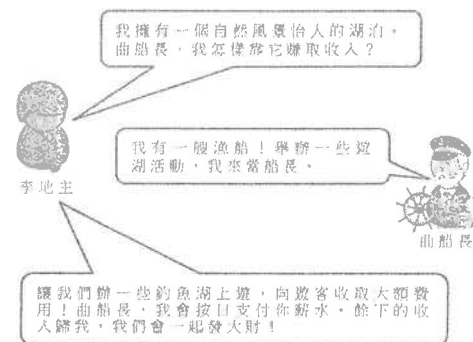
下列哪些是一家咖啡店的資本？

- (1) 咖啡機
- (2) 咖啡豆
- (3) 顧客帶來開派對用的遊戲機
- (4) 可供顧客免費借閱的漫畫書

- A. 只有 (1)、(2)
- B. 只有 (1)、(2)、(4)
- C. 只有 (1)、(3)、(4)
- D. 只有 (2)、(3)、(4)

36. 2020 Q.6

參閱以下對話。



已知土地的回報是租金，勞工的回報是工資，資本的回報是利息，企業家的回報是利潤。曲船長的收入包含了 \_\_\_\_\_，而李地主所賺取的餘下收入包含了 \_\_\_\_\_。

- A. 工資 ..... 利潤
- B. 利息 ..... 租金及利潤
- C. 工資及利息 ..... 租金
- D. 工資及利息 ..... 租金及利潤

## 04MC1 生產要素 生產要素的分類、報酬及特性- 多項選擇題 答案

1	D	11	D	21	B	31	D
2	B	12	D	22	D	32	D
3	D	13	A	23	C	33	B
4	B	14	A	24	A	34	B
5	B	15	B	25	C	35	B
6	B	16	B	26	A	36	D
7	A	17	B	27	B	37	
8	B	18	D	28	B	38	
9	D	19	D	29	A	39	
10	B	20	A	30	D	40	

## 1. 1991.MC.Q8

私家補習一般是依照「計時」方式支付報酬的。這是因為

- A.這種計酬方法可以提高工作熱誠。  
B.這種計酬方法可以保證有更佳的工作成績。  
C.補習費用可以較低。  
D.這種工作的產出量難以量度。

## 2. 1994.MC.Q18

香港的酒店侍應一般都不是只收取固定月薪，而是在低廉的基本工資上再加上客人給予的小費。對酒店東主來說，後一種支酬方法較前一種為

優之處是

- A.更容易計算侍應的產出。  
B.所需侍應數目較少。  
C.各侍應間關係更好。  
D.侍應提供更佳服務。

## 3. 1995.MC.Q17

香港的中學教師一般都是以「時計方式」計酬的，因為

- (1) 教師擔當多種不同性質的工作。  
(2) 教師的產出不易量度。  
(3) 這可以提高工作的積極性。  
A. 只有(1)、(2)  
B. 只有(1)、(3)  
C. 只有(2)、(3)  
D. (1)、(2)及(3)

## 4. 1996.MC.Q16

某僱主改變了他對僱員的付薪方法，觀察得下列結果：

	舊方法	新方法
每工人每天的產出數量	200	300
水準以下的產品數目	20	50

舊方法極可能是\_\_\_\_\_而新方法極可能是\_\_\_\_\_

- A.時計...件計  
B.件計...時計  
C.分享利潤法...時計  
D.件計...分享利潤法

## 5. 1998.MC.Q17

私人鋼琴教師的酬勞一般都是「以時計薪」而非「以件計酬」。下列哪幾項是正確的？

- (1)他們傾向工作更長時間。  
(2)僱主不鼓勵他們每課倉猝地教授更多樂章。  
(3)他們的產出不易量度。  
A.只有(1)、(2)  
B.只有(1)、(3)  
C.只有(2)、(3)  
D.(1)、(2)、(3)

## 6. 1999.MC.Q51

假設部分公務員的支薪方式由「時計」改變「件計」。這種改變 不會 使

- A. 他們的收入增加。  
B. 他們的工作質素改善。  
C. 監督他們工作的成本上升。  
D. 他們完成的工作數量更多。

## 7. 2000.MC.Q15

參閱以下的招聘職員廣告：

ABC 公司	XYZ 公司
信差	信差
職位要求：20-30 歲 男性/女性 薪酬：每月\$8,000 及 每次派遞另加酬勞\$5	職位要求：20-30 歲 男性/女性 薪酬：每月\$12,000

- A. XYZ 公司量度薪酬支出的成本較高。  
B. XYZ 公司信差的工作熱誠較高。  
C. ABC 公司信差的收入較高。  
D. ABC 公司監察信差的成本較低。

## 8. 2002.MC.Q16

陳太發現她的員工在舊有的薪酬制度下是懶惰的。現在，她採用另一套薪酬制度，因而公司的產出無論量與質都有所改善。這可能是因為舊薪酬制度是\_\_\_\_\_而新薪酬制度是\_\_\_\_\_。

- A. 件計.....時計  
B. 件計.....利潤分享  
C. 時計.....件計  
D. 時計.....利潤分享



9. 2003.MC.Q18

某工廠東主發現在他改變支付員工薪酬的方式後，員工生產力提高，但產品質素下降。舊的薪酬方式最有可能是\_\_\_\_\_而新的薪酬方式最有可能是\_\_\_\_\_。

- A. 時間薪酬.....件工
- B. 件工.....時間薪酬
- C. 利潤分享制.....時間薪酬
- D. 件工.....利潤分享制

10. 2006.MC.Q16

假設 ABC 公司聘用的推銷員的工資制度改變如下：



結果：

- A. 計算工資的成本下降。
- B. 監察推銷員工作表現的成本下降。
- C. 推銷員的收入下降。
- D. 推銷員的服務水平下降。

11. 2009.MC.Q18

在下列人士中，誰的僱主主要付出最高成本以監察其工作表現？

- A. 一位辦公室文員，他收取固定月薪作為報酬。
- B. 一位地產經紀，他收取佣金作為報酬。
- C. 一位導遊，他收取小費作為報酬。
- D. 一位明星，他與製片公司分享利潤作為報酬。

12. PP.MC.Q6

某工人是以他所生產的產品數量計算工資而非領取月薪。下列哪項陳述是不正確的？

- A. 該工人傾向提高其產量。
- B. 產出的質素傾向較低。
- C. 監察該工人驕懶的成本減低。
- D. 該工人的收入會增加。

13. 2012.MC.Q7

一些物業經紀行以基本薪金加佣金支付員工的薪金，因為

- (1) 這可提高員工的工作意欲。
- (2) 這可將部分經營風險轉嫁給員工。
- (3) 計算工資的成本較低。

- A. 只有(1)、(2)
- B. 只有(1)、(3)
- C. 只有(2)、(3)
- D. (1)、(2)及(3)

14. 2013.MC.Q7

中學教師一般按工時支薪，因為

- A. 這可改善他們的工作意欲。
- B. 他們偏好穩定收入。
- C. 大部分教師都是勤力的。
- D. 量度他們產出的成本很高。

15. 2016.MC.Q10

下列哪位最有可能以件工計酬？

- A. 一位報章專欄作家
- B. 一位小學教師
- C. 一位消防員
- D. 一位巴士司機

16. 2021.Q5

	工廠 A	工廠 B
聘用的工人數目	90	78
每位工人工作時數／每月	125	155
總產出／每月	79 850	82 800
產出質素不達標的百分比	37%	11%

參閱上表，下列哪項最能解釋工廠 A 和工廠 B 產出質素的差別？

- A. 與工廠 B 相比，工廠 A 聘請較少勞工服務。
- B. 與工廠 B 相比，工廠 A 進行較高度的分工。
- C. 與工廠 B 相比，工廠 A 機械化的程度較高。
- D. 工廠 A 是以件計薪而工廠 B 是以時計薪。



某名牌產品店的售貨員是按下列安排計薪：

每月薪金：HK\$12 000  
 遠標花紅：當達成銷售目標，會發放花紅。

從該店的角度看，下列哪些是採用上述安排而非只以時計薪的可能原因？

- (1) 售貨員的生產力會較高。
- (2) 監察服務質素的成本會較低。
- (3) 每月賺取的薪金有可能較高。

- A. 只有 (1)、(2)
- B. 只有 (1)、(3)
- C. 只有 (2)、(3)
- D. (1)、(2) 及 (3)

04MC2 生產要素 – 付酬方式 – 多項選擇題 答案

1.	D	11.	A
2.	D	12.	D
3.	A	13.	A
4.	A	14.	D
5.	D	15.	A
6.	B	16.	D
7.	D	17.	A
8.	D	18.	
9.	A	19.	
10.	B	20.	

1. 1992.MC.Q11

夏家與黃家為鄰，他們的小孩子都在同一幼稚園就讀。夏先生送他們上學，黃太太接他們放學回家。這是一個\_\_\_\_\_的例子。

- A. 分工
- B. 規模不經濟
- C. 報酬遞減
- D. 絕對優勢

2. 1993.MC.Q15

專業化對經濟有好處是因為

- A. 可有更多資源使用在生產資本物品上。
- B. 可免受保護主義的威脅。
- C. 失業的可能性較低。
- D. 生產因素的生產力獲得提高。

3. 1994.MC.Q59

下列哪一項 **不是** 分工的好處？

- A. 有更大工作熱誠
- B. 勞動生產力更高
- C. 需要較少量的工具
- D. 合適的人員做合適的工作

4. 1999.MC.Q52

下列哪一項 **並非** 分工的好處？

- A. 可享有更多規模經濟
- B. 經濟地使用工具
- C. 提高勞工生產力
- D. 透過更多練習使技巧得以改進

5. 2000.MC.Q19

若實施分工，

- A. 工人會有更大的工作滿足感。
- B. 機器的使用率會更高。
- C. 生產商會生產更多種類的貨品以適合顧客的不同口味。
- D. 工人的職業流動性會增加。

6. 2001.MC.Q16

下列哪一項是分工的好處？

- A. 有更多種類的物品和服務以供選擇。
- B. 工人更有工作熱誠。
- C. 工人的職業流動性較高。
- D. 訓練工人需時較少。

7. 2003.MC.Q 17

在一所中學裏，不同的教員負責任教不同的科目。下的哪項是上述安排的原因？

- (1) 減低訓練成本。
  - (2) 孰能生巧。
  - (3) 不同教員擅長任教不同的科目。
- A. 只有(1)、(2)
  - B. 只有(1)、(3)
  - C. 只有(2)、(3)
  - D. (1)、(2)、(3)

8. 2004.MC.Q 17

若實施分工，

- A. 廠商會享有規模經濟。
- B. 工人的職業流動性會更高。
- C. 工人會有更多收入。
- D. 每工時產出會上升。

9. 2006.MC.Q15

若實施分工，工人的職業流動性會\_\_\_\_\_，因為\_\_\_\_\_。

- A. 提高 …… 勞工生產力獲得提升
- B. 提高 …… 資本工具更能物盡其用
- C. 降低 …… 工作變得沉悶單調
- D. 降低 …… 工人只獲得某一特定技能的培訓

10. 2007.MC.Q14

分工可提高勞工生產力，其中一個原因是

- A. 使用較少工具
- B. 增加地域流動性。
- C. 節省時間，因為工人毋須轉換工序。
- D. 不同工序之間的依賴性較高。

11. 2009.MC.Q17

下列哪項是因實施分工而導致平均勞工生產力上升的一個可能的原因？

- A. 所需資本物品較少。
- B. 工人的職業流動性較高。
- C. 工人的總工資收入較高。
- D. 節省了工人在不同工序之間轉換工作所需的時間。

## 12. 2010.MC.Q16

一家大型超市連鎖店設有下列部門：市場推廣、銷售、送貨、會計及管理。上述安排有以下的優點：

- A. 員工會有更大的工作誘因。
- B. 可以向顧客提供更多種類的服務。
- C. 該超市連鎖店可享有規模經濟。
- D. 該超市連鎖店可節省訓練員工的成本。

## 13. 2011.MC.Q15

下列哪項是分工的好處？

- A. 資本物品可以更物盡其用。
- B. 失業的風險下降。
- C. 不同的生產階段變得更獨立。
- D. 可以提供更多物品和服務的選擇。

## 14. 2018.Q11

一位教授決定改變所任教科目的試卷評改方法：他不再要求其助教們批改他們所屬班別的整份試卷，而是指派每位助教批改全體考生整份試卷的其中一題。下列哪些情況可能會出現？

- (1) 評改會更準確，因為熟能生巧。
- (2) 訓練的時間會減少，因為每位助教只需要了解評卷參考的一部分。
- (3) 評改所需的工具會減少，例如需用較少的紅色原子筆。

- A. 只有 (1)、(2)
- B. 只有 (1)、(3)
- C. 只有 (2)、(3)
- D. (1)、(2) 及 (3)

## 04MC3 分工與專門化 多項選擇題 答案

1.	A	11.	D
2.	D	12.	D
3.	A	13.	A
4.	A	14.	A
5.	B	15.	
6.	D	16.	
7.	D	17.	
8.	D	18.	
9.	D	19.	
10.	C	20.	

## 1. 1990.MC.Q20

下列哪些情況可使勢力的供應增加？

- (1) 提高法定最低工作年齡
- (2) 政府推出失業救濟計劃
- (3) 在工資不變的情況下，工人願意工作更長時間
- (4) 延遲退休工作年齡

- A. 只有 (1)、(2)
- B. 只有 (1)、(4)
- C. 只有 (2)、(3)
- D. 只有 (3)、(4)

## 2. 1991.MC.Q9

以下哪一項會提高勞工平均生產力？

- A. 人口增加
- B. 延長工作時間
- C. 有更多機會可接受專上教育
- D. 熟練工人移民到外國去

## 3. 1991.MC.Q56

以下哪一項不會影響勞工的供應？

- A. 人口數目
- B. 人口組成
- C. 法定最低工作年齡
- D. 勞工生產力

## 4. 1992.MC.Q10

以下哪項可提高工廠工人的生產力？

- (1) 放棄「件計」工資制度
- (2) 裝設更多機器
- (3) 從中國大陸輸入勞工
- (4) 提供較佳的工作環境

- A. 只有 (1)、(2)
- B. 只有 (1)、(3)
- C. 只有 (2)、(4)
- D. 只有 (3)、(4)

## 5. 1993.MC.Q6

下列哪一項能提高一經濟中工人的平均生產力？

- (1) 擴充強迫教育至較高程度
- (2) 提高退休年齡
- (3) 增加資本物品的數量
- (4) 增加失業救濟金

- A. 只有 (1)、(3)
- B. 只有 (1)、(4)
- C. 只有 (2)、(3)
- D. 只有 (2)、(4)

## 6. 1993.MC.Q19

下表顯示一工廠在 1991 年和 1992 年生產衫裙的情況。

年份	1991	1992
僱用工人數目	20	25
生產衫裙數目	90 000	80 000
每名工人的工時	3 000	2 000

在 1992 年，這工廠僱用較\_\_\_\_\_勞動力。該年的勞工平均生產力較\_\_\_\_\_。

- A. 多；高
- B. 多；低
- C. 少；高
- D. 少；低

## 7. 1994.MC.Q17

以下哪種因素有可能使本港的勞力供應增加？

- (1) 政府再聘用一些已退休的公務員
- (2) 每年有更多公眾假期
- (3) 男性佔較高的人口比例
- (4) 工人的教育水平提高

- A. 只有 (1)、(3)
- B. 只有 (1)、(4)
- C. 只有 (2)、(3)
- D. 只有 (2)、(4)

8. 1995.MC.Q16

下列哪些情況會增加勞工的平均生產力？

- (1) 較大的勞動人口  
(2) 工人的教育水平及訓練較佳  
(3) 生產的組織較佳  
(4) 較少公眾假期

- A. 只有(1)及(2)  
B. 只有(1)及(4)  
C. 只有(2)及(3)  
D. 只有(3)及(4)

9. 1996.MC.Q12

下列哪一項會使一國的勞力供應減少？

- A. 職位空缺減少。  
B. 大學提供更多學位以供學生就讀。  
C. 勞工的退休年齡提高了。  
D. 人口移民數目增加。

10. 1996.MC.Q13

參閱下表，然後回答 1996Q13 及 1996Q14：

	甲廠商	乙廠商
聘用工人數目	200	120
每一工人的工作時數	1 000	1 900
產品數量	100 000	110 000

在下列各項比較中，哪一項是正確的？

- A. 乙廠商工人的生產力較高。  
B. 乙廠商聘用較多勞力。  
C. 乙廠商享有較大規模經濟。  
D. 乙廠商的生產較為資本密集。

11. 1996.MC.Q14

下列哪一項是甲、乙廠商有不同的勞工生產力的可能原因？

- A. 甲廠商工人有較佳訓練。  
B. 乙廠商有較佳的工作環境。  
C. 甲廠商有較多勞工。  
D. 乙廠商的工資率較高。

12. 1998.MC.Q14

在下列哪些情況下，勞工平均生產力會上升？

- (1) 機器數目有所增加。  
(2) 勞動人口數目有所增加。  
(3) 勞工的健康狀況有所改善。  
(4) 勞工每天工作時數有所增加。

- A. 只有(1)、(2)  
B. 只有(1)、(3)  
C. 只有(2)、(4)  
D. 只有(3)、(4)

13. 1998.MC.Q15

下列哪一項會導致香港的勞力供應增加？

- A. 輸入勞工的需求增加。  
B. 全部婦女不准超時工作。  
C. 更多僱主提供幼兒托管服務予其僱員。  
D. 有更多職位空缺。

14. 1999.MC.Q14

下列哪一項會增加香港的勞力供應？

- A. 提供更多日間託管兒服務。  
B. 付酬方式由「件計」改為「時計」。  
C. 增加每年公眾假期的日數。  
D. 移民往外國的人數下降

15. 1999.MC.Q20

參閱下表：

	甲廠商	乙廠商
聘用的工人數目	100	60
每個工人的工作時數	350	650
產量（單位）	140 000	156 000

下列哪一項對於甲廠商和乙廠商的描述是正確的？

- A. 乙廠商的平均勞動生產較甲廠商高。  
B. 甲廠商的平均勞動生產較乙廠商高。  
C. 甲廠商的勞力供應較乙廠商多。  
D. 乙廠商的勞力供應較甲廠商多。

16. 2001.MC.Q13

在下列哪一項情況中，香港的勞力供應會減少？

- A. 所有香港的大學都減少招收全日制學生。  
B. 香港有更多公司在上班時間提供培訓課程予他們的員工。  
C. 更少香港居民獲批准移民到美國。  
D. 香港政府提供津貼予私人機構安裝高科技儀器。

17. 2001.MC.Q15

參閱下表：

	甲廠商	乙廠商
聘用工人數目	60	40
總工作時數	1,200	1,000
總產量（單位）	10,800	9,500

以下哪一項是甲、乙廠商有不同勞工生產力的一個可能原因？

- A. 乙廠商的工作環境較佳。  
B. 甲廠商的分工程度較高。  
C. 甲廠商享有較大的規模經濟。  
D. 乙廠商使用較為勞力密集的生產方法。

18. 2002.MC.Q14

勞工的平均生產力較高，意指

- A. 每工人的平均產出較高。  
B. 每人的邊際產量較高。  
C. 每工人的總產出較高。  
D. 每單位勞力的總產量較高。

19. 2004.MC.Q16

在下列哪一種情況下，勞力供應會增加？

- A. 有更多職位空缺。  
B. 有更多大學提供四年大學學位課程，以代替三年大學學位課程。  
C. 一年裡的公眾假期減少。  
D. 退休年齡下降。

20. 2005.MC.Q16

參閱下表：

經濟體系	甲	乙	丙	丁
工人數目	20	5	30	15
每工人每星期的工作時數	5	25	5	20
總產出	11 000	12 000	9 000	10 000

哪一經濟體系的勞力供應最高？

- A. 甲  
B. 乙  
C. 丙  
D. 丁

21. 2005.MC.Q17

下列哪項會增加勞工的平均生產力？

- A. 僱用更多工人  
B. 延長工作時數  
C. 由時計工資轉為件計工資  
D. 減低分工的程度

22. 2006.MC.Q14

下列哪項會提高勞工的平均生產力？

- A. 勞動人口增加。  
B. 公眾假期減少。  
C. 先進機械機器的數量增加。  
D. 勞工的職業流動性減低。

23. 2007.MC.Q15

	甲國	乙國
工人數量	100	X
工人平均每天工作時數	8	Y
總產量（單位）	7200	7200

上表中，若乙國的勞工生產力較高，X 和 Y 的可能值可能分別是\_\_\_\_\_和\_\_\_\_\_。

- A. 140 ... .. 6  
B. 150 ... .. 5  
C. 200 ... .. 4  
D. 300 ... .. 3

24. 2009.MC.Q16

若政府提高法定退休年齡，

- A. 工人的職業流動性會增加。
- B. 平均勞工生產力會增加。
- C. 勞力供應會增加。
- D. 廠商會實施更多分工。

25. 2010.MC.Q18

下列哪項會提升勞工的平均生產力？

- (1) 晉升職位的數目增加
- (2) 退休工人的數目增加
- (3) 生產方式變得更加資本密集
- A. 只有(1)、(2)
- B. 只有(1)、(3)
- C. 只有(2)、(3)
- D. (1)、(2)、(3)

26. 2010.MC.Q20

下列哪項會減少香港的勞力供應？

- A. 中國內地有更佳及更多就業機會。
- B. 香港實施低技術工人的最低工資法。
- C. 香港薪俸稅的平均稅率下降。
- D. 提高香港人的退休年齡。

27. 2011.MC.Q18

下列哪項會提高勞工的平均生產力？

- (1) 擴展免費教育至大專程度
- (2) 提高退休年齡
- (3) 提供更多職業訓練予勞工
- A. 只有(1)、(2)
- B. 只有(1)、(3)
- C. 只有(2)、(3)
- D. (1)、(2)、(3)

28. SP.MC.Q6

下列哪項會提高勞工的平均生產力？

- A. 輸入外地專才的數目增加
- B. 平均工時增加
- C. 禁止使用對環境有害的機械
- D. 削減政府對持續進修的補貼

29. 2012.MC.Q6

下列哪項政策會令香港的勞動人口增加？

- A. 免費教育由九年延長至十二年
- B. 提高資本投資者入境計劃的最低資本要求
- C. 增加內地優才入境計劃的限額
- D. 訂立最高工時

30. 2012.MC.Q10

參考下表。

	甲工廠	乙工廠
聘用勞工的人數	60	10
總工作時數	2 000	5 000
總產量（單位）	12 000	20 000

下列哪項是甲工廠和乙工廠勞工生產力有差別的可能原因？

- A. 乙工廠提供較多員工訓練。
- B. 乙工廠使用較多機器。
- C. 甲工廠的工作環境較差。
- D. 甲工廠採用計件工資而乙工廠採用計時工資。

31. 2014.MC.Q9

下列哪項會增加某經濟的勞力供應？

- A. 更多廠商允許男性僱員請侍產假。
- B. 更多公司為加班的僱員提供免費交通。
- C. 大學為中學畢業生開辦更多全日制副學士學位課程。
- D. 政府對公務員實施最高工時。

32. 2015.MC.Q6

細閱下表。

	工廠甲	工廠乙
全職工人的人數	25	0
兼職工人的人數	0	50
全職工人的平均工作時數	8	0
兼職工人的平均工作時數	0	6
總產出 (單位)	12 000	15 000

下列哪項是工廠甲和工廠乙在勞工生產力上有差異的一個可能原因？

- A. 工廠甲以時薪支付工資，工廠乙則以件工計算。  
 B. 工廠甲向工人提供較多的訓練。  
 C. 工廠乙聘請的兼職工人有較高技術。  
 D. 工廠乙運用較多資本物品。

33. 2016.MC.Q8

在下列哪種情況下，某國的勞力供應會增加？

- A. 向現有的勞動人口提供更多訓練。  
 B. 法定最低工作年齡由 16 歲降低至 15 歲。  
 C. 外國直接投資增加。  
 D. 政府提高薪俸稅率。

34. 2047.MC.11

某廠商的投入與產出的關係如下：

	第一年	第二年
工人數目	30	35
每名工人的工作時數	10	8
產出數量 (單位)	3 000	2 900

根據上述資料，勞力供應會 \_\_\_\_\_，而平均勞工生產力會 \_\_\_\_\_。

- A. 增加；增加  
 B. 增加；減少  
 C. 減少；增加  
 D. 減少；減少

35. 2018.Q9

若 \_\_\_\_\_，香港的勞力供應會增加。

- A. 更多香港人移民外國  
 B. 更多香港學生入讀大專院校  
 C. 政府降低「優才入境計劃」的資歷要求  
 D. 所有在職父親可多得兩天的侍產假

36. 2018.Q10

下表顯示某廠商投入與產出的關係。其生產所需的投入只有資本和勞力。

資本 (單位)	勞力 (單位)	勞力的邊際產出 (單位)
2	1	5
2	2	7
2	3	9
2	4	8
2	5	6

在勞力的數量是 \_\_\_\_\_ 單位時，勞力的平均產出最高。

- A. 2  
 B. 3  
 C. 4  
 D. 5

37. 2019.Q6

在 2018–19 年度財政預算案，香港政府將持續進修基金的資助上限由每位申請人 \$10 000 提高至 \$20 000，以鼓勵市民繼續進修。

該政策會引致將來 \_\_\_\_\_ 和 \_\_\_\_\_ 上升。

- A. 勞力供應……地域流動性  
 B. 勞力供應……職業流動性  
 C. 勞工生產力……地域流動性  
 D. 勞工生產力……職業流動性



1. 1990.MC.Q9

一般來說，禁售象牙對\_\_\_\_\_的雕刻工人打擊最大，因為他們的\_\_\_\_\_流動性比較\_\_\_\_\_。

- A. 較年青，職業，低
- B. 較年青，地理，高
- C. 較年長，職業，低
- D. 較年長，地理，高

2. 1991.MC.Q6

假設政府對於在同一所學校裏服務超過 10 年的教員提供房屋津貼。此舉會\_\_\_\_\_這批教員的職業流動性和\_\_\_\_\_他們的地理流動性。

- A. 增加，增加
- B. 減少，減少
- C. 增加，減少
- D. 減少，增加

3. 1992.MC.Q9

以下哪一項可增加勞工的職業流動性？

- A. 發展高科技工業
- B. 設立更多專業團體
- C. 擴展職業訓練課程
- D. 伸延地下鐵路網絡

4. 1993.MC.Q14

律師的職業流動性普遍為低，因為

- A. 他們享有社會地位。
- B. 他們在其他行業並無專長。
- C. 他們轉職的機會成本高。
- D. 他們是律師公會會員。

5. 1995.MC.Q21

下列哪些情況會提高勞工的職業流動性？

- (1) 技術更專門化
- (2) 有更多關於職位空缺的訊息
- (3) 工會權力更大
- (4) 提供再培訓計劃
- A. 只有(1)及(2)
- B. 只有(1)及(3)
- C. 只有(2)及(4)
- D. 只有(3)及(4)

04MC4 生產要素：勞力供應、勞工平均生產力- 多項選擇題 答案

1	D	11	A	21	C	31.	B
2	C	12	B	22	C	32.	B
3	D	13	C	23	B	33.	B
4	C	14	A	24	C	34.	C
5	A	15	D	25	B	35.	C
6	C	16	B	26	A	36.	C
7	A	17	A	27	B	37.	D
8	C	18	D	28	A	38.	
9	B	19	C	29	C	39.	
10	B	20	D	30	D	40.	

6. 1999.MC.Q16

下列哪一類人的職業流動性較高？

- A. 大學裏的經濟學教授
- B. 會計師
- C. 售貨員
- D. 公司秘書

7. 2001.MC.Q14

假設政府開始從中國內地招聘有經驗的普通話教師來港任教。這會\_\_\_\_\_中國內地有經驗普通話教師的\_\_\_\_\_流動性。

- A. 減少 ... 職業
- B. 減少 ... 地域
- C. 增加 ... 職業
- D. 增加 ... 地域

8. 2004.MC.Q15

為了吸引更多內地專才來港工作，有些公司既話向他們提供房屋津貼，此舉會\_\_\_\_\_這些內地專才的\_\_\_\_\_。

- A. 減少... 職業流動性
- B. 增加 ... 職業流動性
- C. 減少... 地域流動性
- D. 增加 ... 地域流動性

9. 2008.MC.Q15

下列哪些情況會提高勞工的職業流動性？

- A. 改善運輸網絡
- B. 收緊獲取執業牌照的規限
- C. 提供更多再培訓計劃
- D. 提高法定退休年齡

10. 2012.MC.Q5

當 \_\_\_\_\_，該經濟中勞工的職業流動性會上升。

- A. 跨境鐵路網有所改善
- B. 勞力市場中有更多類型的工作需要牌照
- C. 持續進修能獲免稅額
- D. 生產更高度專門化

11. 2014.MC.Q11

下列哪項最有可能增加某經濟中勞工的職業流動性？

- A. 工會有更大的討價還價能力為其會員爭取福利。
- B. 勞工處為再培訓計劃的參加者提供學費回贈。
- C. 高速公路的擴展改善了交通網絡。
- D. 政府停止為職位空缺網上資料系統提供資金。

12. 2015.MC.Q4

若 \_\_\_\_\_，勞工的 \_\_\_\_\_ 流動性會下降。

- A. 政府在所有火車站推行「城市單車租賃計劃」 ..... 地域
- B. 數家大公司在其辦公室設立幼兒託管中心 ..... 地域
- C. 政府所提供的交通津貼因財政赤字而減少 ..... 職業
- D. 政府在更多的行業規定從業員須具備執業牌照 ..... 職業

13. 2016.MC.Q9

就職業流動性而言，下列哪項的流動性最高？

- A. 一位職業籃球員
- B. 一位持牌水喉匠
- C. 一位律師行的大學畢業實習生
- D. 一位會計師行的文員

14. 2017 Q7

某些中國的餐廳發現能運用機械人代替部分工人接待顧客而不會令產出下降。這會 \_\_\_\_\_。

- A. 增加餐廳工人的供應量。
- B. 增加這些餐廳的勞工生產力。
- C. 減低餐廳工人的地域流動性。
- D. 減低餐廳工人的職業流動性。

15. 2017 Q22

「鼓勵就業交通津貼計劃」協助低收入在職人士減低往返工作地點的交通費負擔，並鼓勵他們就業。工人只要符合指定條件，例如每月收入限額及資產限額，便有資格獲得津貼。

在上述計劃推行後，下列哪些會可能出現？

- (1) 勞力供應會增加。
- (2) 勞工生產力會增加。
- (3) 勞工的地域流動性會增加。
- (4) 收入平均會下降。

- A. 只有 (1)、(2)
- B. 只有 (3)、(4)
- C. 只有 (1)、(3) 及 (4)
- D. 只有 (2)、(3) 及 (4)

04MC5 生產要素：勞工的地域流動性及職業流動性 - 多項選擇題 答案

1.	C	11.	B
2.	B	12.	D
3.	C	13.	B
4.	C	14.	B
5.	C	15.	C
6.	C	16.	
7.	D	17.	
8.	D	18.	
9.	C	19.	
10.	C	20.	

經濟科 05A 短期和長期生產(邊際回報遞減定律、規模經濟) 問答題 (1990-2016)

1. 1991.Q4(a)

陳先生曾在一間建築公司任職貨車司機。去年他離開那公司後，開始直接與顧客接洽，用自己的貨車替顧客運送貨物。

- (i) 解釋陳先生現在是否經營一間廠商。 (3 分)
- (ii) 寫出上述生產過程中一項固定成本及一項可變成本，並加解釋。 (6 分)

2. 1992.Q.1(b)

列舉兩項理由說明為甚麼經營一間擁有多輛的士的大型的士公司比較經營一間只擁有一輛的士的小型士公司可能有更多好處。 (6 分)

3. 1993.Q.1(b)(c)

(b)由於顧客增加，「好味棧」需要僱用更多員工以增加產量。但是以該店現有的設備及工具，當聘用至某一數量的員工之後，繼續增聘員工也不能再增加產量。

哪一經濟定律解釋上述情況？並敘述該定律。 (5 分)

(c)(i) 去年「好味棧」計劃開設一分店。試解釋這是一個短期的，還是長期的計劃。 (2 分)

(ii) 分店設立後，生產漢堡包的單位成本下降了。試提出兩項經濟理由加以解釋。 (6 分)

4. 1994.Q.11(a)

陳先生擁有一農場。下表顯示該農場的投入—產出關係：

肥料（單位）	土地（單位）	勞力（單位）	蔬菜總產量（單位）
0	10	40	30
1	10	40	70
2	10	40	120
3	10	40	160
4	10	40	190

寫出報酬遞減定律，並解釋該定律是否適用於陳先生的農場。 (6 分)

5. 1995.Q.10(a)(ii)

試解釋舉辦兩場完全相同的演唱會而非單獨一場演唱會可能獲致的兩項規模經濟。 (4 分)

6. 1997.Q.3

下表顯示某工廠當有工人生病不能上班工作時總產量減少的情況：

生病不能上班的工人人數	日產量的下降（單位）
1	20
2	50
3	90
4	140
5	200

應用上述資料來說明邊際報酬遞減定律。 (5 分)

7. 1997.Q.9(a)

設政府在新界西北興建一條鐵路。

- (a) 若該新鐵路由九廣鐵路公司經營，舉述兩項理由以解釋為甚麼此舉會降低九廣鐵路公司的平均成本。(4 分)

8. 1998.Q.4

下表顯示某製衣廠每星期的產量，它只有兩項生產因素。

機器數目	工人數目	總產量(單位)
1	2	20
2	3	28
3	4	31
4	5	31
5	6	30

- (a) 寫出邊際回報遞減定律。(4 分)
- (b) 解釋上表資料可否說明邊際回報遞減定律。(2 分)

9. 2000.Q.4

下表顯示某廠商的生產情況。

機器(單位)	勞力(單位)	勞力平均產出(單位)
10	7	30
10	8	34
10	9	37
10	10	39
10	11	40

寫出邊際回報遞減定律，並解釋上表數據是否可說明該定律。(6 分)

10. 2001.Q.3

下表顯示某廠商的生產情況：

勞力(單位)	機器(單位)	總產出(單位)
10	5	100
11	5	150
12	5	250
13	5	400
14	5	530

解釋上述數據可說明經濟學的哪一條定律。

(7 分)

11. 2003.Q.2

- (a) 寫出邊際回報遞減定律。(3 分)
- (b) 下表顯示某廠上的投入-產出關係。解釋為什麼該表可以說明 (a) 部的定律。(3 分)

機器(單位)	勞力(單位)	機器的平均產出(單位)
1	3	12
2	3	13
3	3	14
4	3	13

12. 2006.Q.4

下表顯示某廠商的投入-產出關係。

勞力(單位)	機器(單位)	勞力總產出(單位)
2	3	40
3	3	90
4	3	150
5	3	180
6	3	200

寫出邊際回報遞減定律，並解釋上表數據是否可說明該定律。(6 分)

13. 2007.Q.3

- (a) 寫出邊際回報遞減定律。(3 分)
- (b) 細閱下列某工廠的資料：(4 分)

機器(單位)	勞力(單位)	平均產出(單位)
1	5	40
1	6	70
1	7	90
1	8	100

解釋上表數據是否可以說明邊際回報遞減定律。(4 分)

14. 2009.Q.3

下表顯示某廠商的投入-產出關係。

勞力(單位)	機器(單位)	勞力平均產出(單位)
1	2	10
2	2	12
3	2	14
4	2	16
5	2	17

寫出邊際回報遞減定律，並解釋上述數據能否說明該定律。(6分)

## 15. 2011.Q4

下表顯示某廠商的投入-產出關係。

勞力(單位)	機器(單位)	總產出(單位)
3	3	90
4	3	160
5	3	250
6	3	330

- (a) 寫出邊際回報遞減定律。(3 分)
- (b) 解釋上述數據能否說明邊際回報遞減定律。(3 分)

## 16. SP.Q3

下表顯示某廠商的投入-產出關係。

勞力(單位)	機器(單位)	勞力平均產出(單位)
1	3	400
2	3	450
3	3	500
4	3	450
5	3	400

寫出邊際回報遞減定律，並解釋上表數據是否可說明該定律。(6 分)

## 17. 2012.Q2

下表顯示某廠商的投入與產出的關係。

工人(單位)	機器(單位)	總產出(單位)
10	1	10
15	2	23
20	3	42
25	4	62
30	5	80

寫出邊際回報遞減定律，並解釋上述的資料能否說明該定律。(5 分)

## 18. 2015.Q2(b)

很多電子產品零售商店位於旺角。

- (b) 舉出兩項理由，解釋為什麼旺角一家電子產品零售商可能享有外部規模經濟。(4 分)

## 19. 2016.Q2(c)

「必摘星教育集團」是以中學生為對象的補習社。該集團可以向公眾發行股票和債券去籌集資本。

- (c) 當該集團在不同地區營運更多補習班時，提供服務的平均成本下降。舉出三項原因解釋為什麼其平均成本下降。(3 分)

## 20. 2016.Q3

下表顯示某廠商投入與產出的關係。

機器(單位)	勞力(單位)	勞力的平均產出(單位)
2	1	10
2	2	12
2	3	14
2	4	14
2	5	13

寫出邊際回報遞減定律，並解釋上述資料能否說明該定律。(6 分)

## 21. 2018.Q3

深圳已成為中國的「矽谷」。很多高科技廠商，例如騰訊、華為、比亞迪等，均設總部於深圳。解釋高科技廠商能在深圳享有的兩項外部規模經濟。(4 分)


## 22. 2019.Q5

王氏一家和陳氏一家是鄰居。寫出以下每項安排所涉及的一個經濟概念，並解釋為什麼該安排對兩個家庭有利。

- (a) 王先生教兩家的孩子英語，而陳太太則教他們日語。(3 分)
- (b) 在平安夜，這兩家人一起購買食材和煮食，而不是每個家庭各自購買和煮食。(3 分)

## 23. 2021.Q1

以下是某網上送遞外賣食物廠商招聘車手的廣告。

招聘車手!!!	
	
賺大錢	自攜裝備
<ul style="list-style-type: none"> <li>每張單計酬特別高！</li> <li>保留 100% 顧客給予的小費</li> </ul>	<ul style="list-style-type: none"> <li>一部智能電話</li> <li>一部電單車及必要的安全設備</li> </ul>

- (a) 從車手角度看，舉出以上安排的兩項缺點。(2 分)
- (b) 解釋車手的智能電話和電單車屬消費者物品還是資本物品。(2 分)
- (c) 在聘請更多車手後，該廠商發現其系統超出負荷，車手的邊際產出下降了。寫出解釋這現象的定律，並簡單解釋為什麼該定律可以應用於上述個案。(5 分)



## 1. 1991.Q4(a)

(i) 陳先生是個企業家。他負責作出決策和承擔風險。

(ii) 貨車的執照費是固定成本。它不會隨出車的大數而改變。汽油成本是可變成本，它會隨出車的大數而改變。

## 2. 1992.Q.1(b)

與小型的土公司相比，大型的土公司享有規模經濟。即是它可以用較低的平均成本去提供勞務。大型的土公司享有市場銷售上的規模經濟，因為它們能以較大的折扣優惠向供應商大批訂購原料和機械設備。

大型的土公司享有財政上的規模經濟。因為它有足夠的抵押品作為保證，所以它能以低利率向銀行貸款。

## 3. 1993.Q.1(b)(c)

(b) 這是邊際回報遞減定律。

它是指假設技術保持不變，如果把可變生產因素連續加進固定因素裡，邊際產量最後會下降。

(c) (i) 開設分店是長期的計劃，因這樣是擴展其生產規模。

(ii) 平均成本的下降是享有規模生產後的結果。美味店享有市場銷售上的經濟，因為它能向供應商大批訂購原料和機械設備，從而獲得較大的折扣優惠。它亦享有財政上的經濟。因為它可以以低利率向銀行借貸。

## 4. 1994.Q.11(a)

邊際回報遞減定律指假設技術不變，如果把可變生產因素連續加進固定生產因素裡，邊際產量最後會下降。

此定律適用於陳先生的土地的生產，因為當加進第三個單位的肥料，邊際產量下降。

以下顯示邊際產量的改變：

肥料（單位）	邊際產量（單位）
0	-
1	40
2	50
3	40
4	30

## 5. 1995.Q.10(a)(ii)

建立舞臺的成本會比較低，因為舞臺修飾可用來舉行兩場演唱會，而非只是一場演唱會。

此舉亦使籌辦商享有市場銷售上的經濟，因為兩場演唱會的廣告成本與一場的相同。

## 6. 1997.Q.3

假設該工廠有，比如說，100 名工人。在聘用了 95 名工人後，繼續聘用更多工人而導致的邊際產量的改變，可將題目所給的資料轉換成下表而求得：

上班工作的工人數目	邊際產量(單位/每天)
95	-
96	60
97	50
98	40
99	30
100	20

換言之，當可變因素（勞力）單位數目繼續不斷增加，而固定因素（土地，資本及企業家職能）單位數目保持不變，則邊際產量終於會遞減。這就是邊際報酬遞減定律。

## 7. 1997.Q.9(a)

九廣鐵路有限公司享有規模經濟。它享有市場銷售上的經濟。因為它向供應商大批訂購原料，例如火車車廂，會因而獲得優惠折扣，減低成本。另外，它亦享有財政上的規模經濟，因為它在貸款時享有較低的利率，使平均成本下降。

## 8. 1998.Q.4

(a) 邊際回報遞減定律是指假設技術保持不變，如果把可變生產因素連續加進固定因素裡，邊際生產最後會下降。

(b) 上表不能說明邊際回報遞減定律，因為生產時期是長期，所有生產因素均為變數。

## 9. 2000.Q.4

在生產中有固定因素，同時不斷增加可變因素的數量，（而生產技術不變），則邊際產量最終會下降。

邊際產量計算如下：

平均產量	邊際產量
30	-
34	62
37	61
39	57
40	50

∴ 上表數據可說明該定律。

## 10. 2001.Q.3

（分析數據資料顯示，）機器是一項固定生產因素。而當可變因素勞力不斷增加時，

勞力(單位)	機器(單位)	邊際產量(單位)
10	5	-
11	5	50
12	5	100
13	5	150
14	5	130

邊際產量最終是遞減的。

∴ 题目的數據資料可說明邊際回報遞減定律。

## 11. 2003.Q.2

(a) 生產中有固定因素，而可因素的數量不斷增加，邊際產量最終會減少。

(b)

機器(單位)	邊際產量(單位)
1	-
2	14
3	16
4	10

上表說明(a)所指的定律。這是由於在生產中不斷增加機器的數目，直至第4個單位的機器也在使用中時，邊際產量終於減少，從16個單位減至10個單位。

## 12. 2006.Q.4

定律如下：

生產中有固定因素，而可變因素的數量不斷增加，[生產技術維持不變]，邊際產量最終會減少。

勞力（單位）	4	5	6
邊際產量（單位）	60	30	20

或：

當勞力從4單位增加至5單位，勞力的邊際產出由60單位下降至30單位。此時勞力的邊際產出開始遞減。

∴ 上表數據可說明該定律。

## 13. 2007.Q.3

(a) 定律如下：

生產中有固定因素，而可變生產因素的數量不斷增加，邊際產量最終會減少。

(b)

勞力(單位)	邊際產量(單位)
5	-
6	220
7	210
8	170

可以，因為邊際產量下降。

## 14. 2009.Q3

定律如下：

生產中有固定因素，而可變生產因素的數量不斷增加，邊際產量最終會減少。

勞力(單位)	邊際產量(單位)
3	18
4	22
5	21

可以，因為（根據上表）邊際產量下降。



15. 2011.Q4

(a) 定律如下：

生產中有固定生產因素，而可變生產因素的數量不斷增加，邊際產量最終會減少。

(b) 可以，因為邊際產量下降。

勞力(單位)	邊際產量(單位)
4	70
5	90
6	80

16. SP.Q3

邊際回報遞減定律：當可變生產因素不斷增加，而固定生產因素(和生產技術)保持不變，邊際產出最終遞減。

勞力 (單位)	3	4	5
邊際產出 (單位)	600	300	200

或：當勞力單位由3增加至4時，勞力的邊際產出由600單位減少至300單位。

因此以上數據說明邊際回報遞減定律。

17. 2012.Q2

該定論寫出(若技術維持不變，)當更多的可變要素持續增加到某特定數額的固定要素，該可變要素的邊際產量最終會下降。

不會，因為 (1)

全部的要素屬可變的。 (1)

18. 2015.Q2(b)

(b) 原因：

- 減低營銷和推廣的成本 @2,
  - 減低供應商的運輸成本 最高:
  - 有更多的有關行業設立如配件和維修店 4
  - 任何其他相關點
- [只批閱首兩項]

(-2015)

21. 2018.Q3

解釋：

- 減低市場推廣的成本，因為該區會吸引更多高科技產品/服務的買家。
  - 減低運輸的成本，因為文雅和其他基礎會更快發展，改善交通情況。
  - 減低招請有經驗高技術工人的平均/邊際成本，因為更多該類工人會被吸引至該區。
  - 任何其他相關點
- [只批閱首兩項]

22. 2019.Q5

(a) 分工/專門化 (原理)  
[只批閱首項]

得益：

- 指派最適合的人擔任工作：雙方的家長可以運用他們的專長教育小孩，故此小孩能更有效地學習兩種語言。
- 生產及交易專門化：黃先生能專門教授英文(即從事其機會成本較低的生產)以換取其孩子向陳太太學習日文，兩家的小孩能以較低成本來更有效地學習兩種語言。(相似的論點亦適用於陳太太教授日文。)
- 任何其他相關點

(b) 規模經濟。  
[只批閱首項]

得益：

- 大量購買材料可獲更高折扣，故晚餐的平均生產成本下降。
- 一起烹食節省平均烹煮時間，同時也有更多的食物種類可供選擇。
- 任何其他相關點

21. 2018

@2  
最高: 4

(2)

(1)

(2)

## 1. SP.9(c)

假設電子錶的市場屬於完全競爭。 [...]

假設科技改進導致生產電子錶的邊際成本下降。

(c)在上述的科技改進前後，某廠商生產電子錶的邊際成本表如下：

產出(單位)	科技改進前的 邊際成本(\$)	科技改進後的 邊際成本(\$)
500	70	60
600	80	70
700	90	80
800	100	90
900	110	100

(i) 邊際成本是固定成本還是可變成本？試加解釋。

(2 分)

(ii) 假設在科技改進前電子錶的市價為\$80。在這市價下，該廠商的產量是多少？

(1 分)

(iii) 假設在科技改進後，電子錶的市價跌至\$70。在這市價下，該廠商的產量是多少？

(1 分)

## 1. SP.9(c)

(i) 邊際成本是可變成本，因為它隨產量而變。

2

(ii) 600

1

(iii) 600

1

## 1. 1990.MC.Q6

工人數目	邊際產出
1	10
2	12
3	14
4	13
5	12

根據以上圖表，僱用\_\_\_\_\_個工人時平均產出會是最髙。

- A. 2
- B. 3
- C. 4
- D. 5

## 2. 1994.MC.Q21

報酬遞減定律

- A. 陳述廠商會把可變生產因素不停地加在固定生產因素上。
- B. 表示廠商最終會虧損。
- C. 表示邊際產出可以是負數。
- D. 解釋長期生產。

## 3. 1994.MC.Q22

一生產者增加所有投入量使產出作雙倍增加。總生產成本則增加 80%。這可用\_\_\_\_\_來解釋。

- A. 供應定律
- B. 報酬遞減定律
- C. 規模經濟
- D. 規模不經濟

## 4. 1995.MC.Q22

下列哪一項關於規模經濟的描述是正確的？

- A. 它適用於短期及長期生產。
- B. 當產出增加時，它使平均成本下降。
- C. 只有當生產規模夠大時，它才出現。
- D. 當產出增加時，它使總成本下降。

## 5. 1996.MC.Q22

在短期生產時期內，

- (1) 有固定生產因素。
  - (2) 有可變生產因素。
  - (3) 生產技術是固定的。
- A. 只有(1)、(2)
  - B. 只有(1)、(3)
  - C. 只有(2)、(3)
  - D. (1)、(2)、(3)

## 6. 1996.MC.Q23

工人數目	1	2	3	4
平均產量(單位)	2	6	7	4

根據上表，在僱用了\_\_\_\_\_個工人進行生產之後，邊際報酬開始遞減。

- A. 1
- B. 2
- C. 3
- D. 4

## 7. 1996.MC.Q24

機器數目	工人數目	總產出
5	7	100
5	8	120
5	9	150
5	10	200

參閱上表資料，下列哪一項是總產出增加的可能原因？

- A. 分工
- B. 報酬遞減定律
- C. 比較優勢定律
- D. 規模經濟

## 8. 1997.MC.Q15

在聖誕前的繁忙季度，某工廠增加工人數目以增加其產量，這可以從下表顯示出來：

工人數目	總產量(單位)
21	210
22	242
23	276
24	300
25	310

下列哪一項可以解釋上述產出的變化？

- A. 報酬遞減定律
- B. 規模不經濟
- C. 不可分割性原理
- D. 倍數原理

## 9. 1999.MC.Q15

工人數目	邊際產出(單位)
1	10
2	12
3	11
4	10
5	7

在上表中，當第 \_\_\_\_\_ 個工人加入工作行列後，平均產出開始下降。

- A. 一
- B. 二
- C. 三
- D. 四

## 10. 2000.MC.Q16

機器數目	工人數目	總產出(單位)
3	3	90
3	4	160
3	5	250
3	6	360

上述資料顯示一種 \_\_\_\_\_ 情況，當時 \_\_\_\_\_。

- A. 短期 \_\_\_\_\_ 回報遞減定律是適用的
- B. 短期 \_\_\_\_\_ 回報遞減定律是不適用的
- C. 長期 \_\_\_\_\_ 存在規模經濟
- D. 長期 \_\_\_\_\_ 存在規模不經濟

## 11. 2000.MC.Q17

下列哪一項意味規模經濟的存在？

- A. 產出增加時，總生產成本下降。
- B. 生產規模增加時，不均生產成本下降。
- C. 產出增加時，利潤上升。
- D. 產出增加的比例小於投入增加的比例。

## 12. 2001.MC.Q17

下表顯示某廠商生產貨品 X 的情況。生產該貨品只需要兩種投入。

資本（單位）	勞力（單位）	總產量（單位）	總成本（\$）
1	1	20	100
2	2	35	200
3	3	45	300
4	4	50	400

由以上資料可見，

- A. 邊際報酬遞減定律適用於該廠商。
- B. 該廠商享有規模經濟。
- C. 該廠商的生產規模出現規模不經濟。
- D. 該廠商正處於最佳生產規模

## 13. 2002.MC.Q13

顯示某廠商的月產量。該廠商只有兩種投入：勞力和機器。

機器（單位）	勞力（單位）	總產量（單位）
1	3	18
1	4	28
1	5	40
1	6	50
1	7	X

若邊際回報遞減定律用於該廠商，X

- A. 必定少於 50。
- B. 可以是大大於 50 的任何數值。
- C. 必定小於 60。
- D. 等於 60。

## 14. 2003.MC.Q20

以下是陳先生工廠的資料。

工人數目	平均產出（單位）
10	5
11	6
12	7

假設當超過 12 名工人開工，邊際回報遞減就會出現。那麼 13 名工人的總產出

- A. 可能大於 102 單位。
- B. 可能等於 102 單位。
- C. 必然少於 102 單位。
- D. 是不確定的。

## 15. 2004.MC.Q18

甲廠商的投入-產出關係如下：

勞力（單位）	機器（單位）	機器平均產出（單位）
4	1	6
4	2	7
4	3	8
4	4	7
4	5	5

根據上表，在使用\_\_\_\_\_單位機器時，邊際產量開始遞減。

- A. 第2個
- B. 第3個
- C. 第4個
- D. 第5個

## 16. 2005.MC.Q18

當某廠商享有規模經濟時，它處於\_\_\_\_\_，而它的\_\_\_\_\_正在下降。

- A. 短期.....平均成本
- B. 長期.....平均成本
- C. 短期.....總成本
- D. 長期.....總成本

## 17. 2005.MC.Q19

下表顯示某廠商生產物品X的情況。在生產過程中只需兩種投入。

資本（單位）	工人數目	工人每天平均工時	總產量（單位）
2	10	10	5 000
2	10	9	4 900
2	10	8	4 700
2	10	7	4 400

由於市場需求下降，該廠商減少產出，將工人的每天工時由10小時減至8小時。

根據以上資料，我們可以得出以下結論：

- A. 該廠商減少物品X的供應。
- B. 該廠商僱用的勞力數量維持不變。
- C. 邊際回報遞減定律適用於該廠商。
- D. 該廠商享有規模經濟。

## 18. 2006.MC.Q17

甲廠商的投入-產出關係如下所述：

勞力（單位）	機器（單位）	勞力的邊際產量（單位）
1	2	14
2	2	16
3	2	18
4	2	X

在聘用第3個單位勞力後出現邊際回報遞減。4個單位勞力的平均產量可以是\_\_\_\_\_個單位產出。

- A. 16
- B. 16.5
- C. 17
- D. 17.5

## 19. 2006.MC.Q19

某生產者增加全部投入的數量以使產出量倍增。下表顯示產出改變後的平均成本變化。

總產出（單位）	平均成本（\$）
10 000	6
20 000	7

根據以上資料，我們可得以下結論：

- A. 該廠商享有規模經濟。
- B. 該廠商受損於規模不經濟。
- C. 邊際回報遞減定律適用於廠商。
- D. 該廠商的生產正處於最適規模。

20. 2007.MC.Q19

下表顯示甲廠商的投入-產出關係。

資本（單位）	勞力（單位）	邊際產量（單位）
1	10	10
1	11	9
1	12	8
1	13	7

我們可從上表得到以下哪一項結論？

當勞力投入增加時，

- A. 總產出正在增加。  
 B. 平均產出正在增加。  
 C. 甲廠商正面對規模不經濟。  
 D. 平均生產成本正在減少。

21. 2008.MC.Q16

一家廠商的投入-產出關係如下：

勞力（單位）	機器（單位）	勞力的平均產量（單位）
1	2	14
2	2	15
3	2	16

邊際回報遞減在僱用第三個勞力單位後出現。第4個勞力單位的邊際產量必然是任何少於\_\_\_\_\_個單位的產出。

- A. 15  
 B. 16  
 C. 17  
 D. 18

22. 2008.MC.Q18

若一家廠商只增加僱用工人數目來擴充生產，

- A. 它所僱用工人的工資會上升。  
 B. 它所僱用工人的平均生產力會上升。  
 C. 該廠商會享有規模經濟。  
 D. 它所僱用工人的邊際產量最終會減少。

23. 2009.MC.Q19

以下是某廠商的投入、產出及平均成本的資料。投入只包括資本及勞力兩者。

資本（單位）	勞力（單位）	總產出（單位）	平均成本（\$）
500	5	3000	3
1000	10	4500	4
1500	15	5500	5

在上述產出範圍內，我們可得以下哪個結論？

- A. 該廠商的生產處於最適度生產規模。  
 B. 邊際回報遞減定律適用於該廠商。  
 C. 該廠商生產該貨品沒有比較優勢。  
 D. 該廠商的生產因規模不經濟而受損。

24. 2010.MC.Q19

某廠商的投入-產出關係如下：

機器（單位）	勞力（單位）	勞力的平均產出（單位）
3	1	20
3	2	12
3	3	11
3	4	10

根據上表，該廠商在聘用了\_\_\_\_\_個單位的勞力後便出現邊際回報遞減。

- A. 1  
 B. 2  
 C. 3  
 D. 4

25. 2011.MC.Q20

在聖誕節前的繁忙季度，某工廠增加工人數目以增加其產量，這可以從下表顯示出來：

工人數目	平均產出（單位）
5	100
6	105
7	108
8	109

下列哪項可解釋上述產量的變化？

- A. 邊際回報遞減定律  
 B. 規模不經濟  
 C. 規模經濟  
 D. 比較優勢原理



## 26. SP.MC.Q7

某廠商增加全部投入的數量以令產出量增加一倍。下表顯示產出改變後總成本的變化。

總產出（單位）	總成本（\$）
10 000	60 000
20 000	140 000

根據以上資料，我們可得結論如下：

- A. 該廠商享有規模經濟。
- B. 該廠商受困於規模不經濟。
- C. 在產出量增加一倍後，該廠商無法歸本。
- D. 最適規模的產出是 10 000 單位。

## 27. PP.MC.Q5

下表顯示某廠商的月產量。該廠商只有兩種投入：機器和勞力。

機器（單位）	勞力（單位）	總產量（單位）
2	5	10
3	5	20
4	5	32
5	5	42
6	5	X

若邊際回報遞減定律適用於該廠商，X

- A. 必定小於 42。
- B. 必定大於 42。
- C. 可以等於 42。
- D. 等於 52。

## 28. 2013.MC.Q4

機器（單位）	勞力（單位）	平均產出（單位）
2	3	30
2	4	40
2	5	55
2	6	55

上表顯示 \_\_\_\_\_ 的情況，其中 \_\_\_\_\_。

- A. 短期      ...      邊際回報遞減定律並不適用
- B. 短期      ...      邊際回報遞減定律使用
- C. 長期      ...      出現規模經濟
- D. 長期      ...      出現規模負經濟

## 29. 2013.MC.Q5

為求增加護士的數目以擴展醫療服務，政府投放了更多資源予大學開辦更多護士課程。在這情況下，私家醫院會

- A. 享有內部規模經濟。
- B. 承受內部規模負經濟。
- C. 享有外部規模經濟。
- D. 承受外部規模負經濟。

## 30. 2014.MC.Q5

下表顯示某廠商的生產計劃。該廠商只採用兩種生產要素：勞工和機器。

勞工（單位）	機器（單位）	總產量（單位）
1	4	100
2	4	120
3	4	150
4	4	170
5	4	165

當第 \_\_\_\_\_ 個單位的勞工加入工作行列，勞工的邊際產量開始下降。

- A. 二
- B. 三
- C. 四
- D. 五

## 31. 2015.MC.Q9

下表顯示甲廠商的總產出。該廠商生產時只運用資本和勞力。

勞力（單位）	資本（單位）	總產出（單位）
12	2	110
12	3	130
12	4	160
12	5	X

下列哪項有關甲廠商的陳述是正確的？

- A. 若上述資料說明邊際回報遞減定律，X 的值可以等於 180。
- B. 若上述資料說明邊際回報遞減定律，X 的值可以等於 190。
- C. 若上述資料說明邊際回報遞減定律，X 的值可以大於 200。
- D. 邊際回報遞減定律並不適用於甲廠商，因為資本不是固定生產要素。

10. 一間快餐中心延長其營業時間一小時以開銷更多油電費。下列各項中，哪些屬於快餐店一小時所涉及的機會成本？

- (1) 會計員的薪金  
(2) 電費  
(3) 預料費用  
(4) 租金支出

- A. 只有 (1) 及 (4)  
B. 只有 (2) 及 (3)  
C. 只有 (1)、(2) 及 (4)  
D. (1)、(2)、(3) 及 (4)

33. 2018 Q6

下表顯示一家利潤極大化廠商其成本與產出的關係。該廠商的固定成本是\$5。

產出(單位)	1	2	3	4	5	6
平均成本(\$)	7	6	7	8	9.6	12

下列哪項陳述是正確的？

- A. 最優的生產規模是 2 單位。  
B. 在生產第三個單位的產出後，該廠商出現規模負經濟。  
C. 若市價是\$8，產出是 4 單位。  
D. 若市價是\$9，利潤是\$6。

34. 2018 Q12

下列哪項有關規模經濟的陳述是正確的？

- A. 它可以是壟斷能力的來源。  
B. 當平均固定成本下降，規模經濟便會出現。  
C. 只有大型廠商才享有規模經濟。  
D. 它是邊際回報遞減定律的結果。

35. 2019 Q5

下表顯示某廠商的生產資訊。它所需的投入只有資本和勞力。

資本(單位)	勞力(單位)	總產量(單位)	總生產成本(\$)
2	2	10	100
3	3	30	270
4	4	45	360
5	5	55	385

根據上表，我們可以得出結論如下：

- A. 邊際回報遞減定律適用於該廠商。  
B. 總固定成本是 \$100。  
C. 最優規模是 45 單位。  
D. 該廠商享有規模經濟。

港島東的太安樓是著名的「為食天堂」。那裏很多小店售賣各式街頭小吃，如車仔麵、雞蛋仔、餃子和芒果糯米糍。來自不同地區的顧客均在太安樓大飽口福。

根據以上資料，太安樓的街頭小吃店能\_\_\_\_\_。

- A. 享有內部規模經濟  
B. 享有外部規模經濟  
C. 承受內部規模負經濟  
D. 承受外部規模負經濟

37. 2020 Q8

下表顯示某廠商的生產計劃。該廠商只採用兩種要素，即勞力和機器。

機器(單位)	勞力(單位)	勞力的平均產量(單位)
4	1	20
4	2	21
4	3	22
4	4	X

若上述資料說明邊際回報遞減定律，X 的值\_\_\_\_\_。

- A. 可以是 23  
B. 可以小於 22  
C. 必然大於 22  
D. 必然小於 22

38. 2021 Q11

下表顯示某廠商的生產計劃，它只聘用勞工及機器這兩種要素。

勞工(單位)	機器(單位)	總產出(單位)
1	2	10
2	2	25
3	2	45
4	2	$Q_1$
5	2	$Q_2$

假設以上數據說明邊際回報遞減定律。下列哪些數值和該定律相符？

- (1)  $Q_1 = 60$ ； $Q_2 = 70$   
(2)  $Q_1 = 40$ ； $Q_2 = 30$   
(3)  $Q_1 = 65$ ； $Q_2 = 85$

- A. 只有 (1)  
B. 只有 (3)  
C. 只有 (1)、(2)  
D. 只有 (2)、(3)

05MC1 短期和長期生產 參考答案：

1	C	11	B	21	D	31.	A
2	C	12	C	22	D	32.	B
3	C	13	C	23	D	33.	D
4	B	14	C	24	C	34.	A
5	D	15	C	25	B	35.	D
6	B	16	B	26	B	36.	B
7	A	17	C	27	C	37.	B
8	A	18	A	28	B	38.	C
9	D	19	B	29	C	39.	
10	B	20	A	30	C	40.	

1. SP.MC.Q8

一家廠商生產一物品時，它的邊際成本表可被理解為它的供應表，這是因為

- A. 它的產出增加時，它的邊際成本會增加。  
 B. 在已知該物品價格的情況下，我們可從邊際成本表得知它計劃生產該物品的數量。  
 C. 它計劃生產該物品的數量受到生產該物品的邊際成本所影響，兩者關係是正向的。  
 D. 在已知該物品數量的情況下，我們可從邊際成本表得知該物品的價格。

2. PP.MC.Q12

以下是一間受價公司的總成本表。該公司的固定成本等於\$20。

數量 (單位)	總成本 (\$)
1	40
2	65
3	95
4	130
5	170

假設市價是 \$35。在利潤極大化產出水平，該公司的利潤和總生產者盈餘分別是\_\_\_\_\_ 和 \_\_\_\_\_。

- A. \$10 ... \$10  
 B. \$10 ... \$30  
 C. \$30 ... \$10  
 D. \$30 ... \$30

3. 2012.MC.Q9

細閱下表有關某受價廠商的生產成本。

產出 (單位)	2	3	4	5	6
邊際成本(\$)	4	6	8	10	12
平均可變成本(\$)	3	4	5	6	7
固定成本(\$)	1	1	1	1	1

若產品價格為\$6，

- A. 該廠商會生產 5 單位的產出以爭取最高利潤。  
 B. 該廠商可賺取的最高利潤是\$5。  
 C. 當該廠商的利潤為最高時，其平均可變成本是\$5。  
 D. 該廠商的最低總成本是\$13。

4. 2013.MC.Q3

下表顯示某廠商的成本與產出的關係。

產出 (單位)	0	1	2	3	4	5
總成本 (\$)	10	28	42	52	60	72

根據上表，我們可得出結論如下：

- A. 該廠商享有規模經濟的好處。  
 B. 該廠商的最佳生產規模是 5 單位的產出。  
 C. 平均可變成本正上升。  
 D. 總固定成本是\$10。

## 5. 2014.MC.Q6

下表顯示某受價者的成本和產量的關係。

產量 (單位)	總成本(\$)
1	20
2	45
3	75
4	110
5	150

已知該廠商的利潤極大化產量是 3 單位。若固定成本增加\$5，該物品的價格和產量分別是 \_\_\_\_\_ 和 \_\_\_\_\_。

- A. \$25 ..... 2 單位  
 B. \$30 ..... 2 單位  
 C. \$30 ..... 3 單位  
 D. \$75 ..... 3 單位

## 6. 2015.MC.Q5

下表顯示在完全競爭市場內某廠商的邊際成本。

產量 (單位)	3	4	5	6	7	8	9
邊際成本 (\$)	5	5.5	6	6.5	7	8	9.5

假設租用機器的租金 (屬固定成本) 上升了\$2，而每單位產出的邊際成本減少了\$0.5。該廠商利潤極大化的產量因此 \_\_\_\_\_，而利潤 \_\_\_\_\_。

- A. 上升 ..... 下跌  
 B. 上升 ..... 可能上升或下跌  
 C. 下跌 ..... 下跌  
 D. 下跌 ..... 可能上升或下跌

## 7. 2016 Q.12

下表顯示一受價者的成本與產出的關係。

產出 (單位)	平均成本 (\$)
2	20
3	21
4	22
5	23
6	24
7	25

假設市場價格是 \$25，爭取最高利潤的產出和利潤分別是多少？

- A. 4 單位及 \$0  
 B. 4 單位及 \$12  
 C. 7 單位及 \$0  
 D. 7 單位及 \$12

## 8. 2017 Q8

下表顯示某受價者的成本與產出的關係。

產出 (單位)	平均成本 (\$)
5	10
6	11
7	12
8	13
9	14

市場價格是 \$20，假設每單位產出的平均成本上升 \$2。該廠商的利潤會 \_\_\_\_\_。

- A. 增加 \$16  
 B. 增加 \$14  
 C. 減少 \$16  
 D. 減少 \$14

## 9. 2019 Q4

如果某受價者廠商的固定成本下跌 \$200 而每單位邊際成本上升 \$10，利潤極大化的產量會 \_\_\_\_\_，而利潤 \_\_\_\_\_。

- A. 上升 ..... 會下降  
 B. 上升 ..... 可能上升或下降  
 C. 下降 ..... 會上升  
 D. 下降 ..... 可能上升或下降

## 10. 2019 Q10

下表顯示某受價者廠商成本與產出的關係。

總產出 (單位)	平均成本 (\$)
3	10
4	15
5	20
6	25
7	30

若利潤極大化的產量是 6 單位，市場價格會是 \_\_\_\_\_。

- A. \$5  
 B. \$25  
 C. \$30  
 D. \$50

## 11. 2020 Q9

參考以下某利潤極大化廠商的成本與產出關係表。

數量 (單位)	1	2	3	4	5
平均成本 (\$)	5	6	7	8	9

若每單位產量的平均成本降低 \$1，而市場價格是 \$8，

- A. 最低生產成本為 \$18。  
 B. 利潤極大化產量是 3 單位。  
 C. 最大利潤是 \$10。  
 D. 每單位產出的邊際成本會維持不變。

下表顯示某製襪廠商的成本與產出的關係。

產出 (單位)	平均成本 (\$)
1	5
2	4
3	4
4	4.5
5	6

根據上表，我們可以得出結論：當市場價格由 \$6 下降至 \$4。

- A. 該廠商開始享有規模經濟。
- B. 該廠商的總成本會由 \$30 下降至 \$12。
- C. 該廠商的利潤會減少 \$6。
- D. 供應量會由 5 單位下降至 3 單位。

## 05MC2 答案

1.	B
2.	B
3.	B
4.	D
5.	C (56)
6.	B
7.	B
8.	D
9.	D
10.	D

11 B  
12 C

## 1. 1990.Q4(a)(ii)

李先生全資擁有「利新製衣廠」。這製衣廠將與一成衣零售集團合併，成立一間公眾有限公司。

(ii) 轉變成為一公眾有限公司對利新有何益處？解釋其中兩項。(4 分)

## 2. 1992.Q3(c)(ii)

匯豐銀行為一公眾有限公司。這類型商業組織與私人有限公司有甚麼分別？列舉其中三項。(6 分)

## 3. 1993.Q3(a)

地下鐵路公司是一公營公司。

- (i) 誰擁有公營公司？(2 分)
- (ii) 從社會的觀點，以地鐵公司為例，分別列舉兩項公營公司較政府部門優勝之處，及一項公營公司較私營廠商優勝之處。(6 分)

## 4. 1995.Q1

李、周、林律師行
Lee, Chau, Lam & Co., Solicitors

上述廠商屬何種商業所有權形式？列舉該種形式其中三項特徵。(4分)

## 5. 1995.Q11(c)

在本港，很多小型物業代理行以獨資經營形式註冊，而非以有限公司形式註冊。列舉三項獨資經營較有限公司為優的地方。(6 分)

## 6. 1996.Q3(a)

維他奶國際有限公司的股價曾經下跌，因為部分產品發現受到污染而遭受毀滅。寫出該廠商的所有權型式的名稱。解釋該形式的兩項優點。(5 分)

## 7. 1999.Q10(b)

香港有嚴重的失業問題。政府鼓勵市民自己創業。若將合夥與私人有限公司兩種經營方式加以比較，前者對企業擁有者有何優點？有何弱點？請各舉兩項。(4 分)

## 8. 2001.Q11(c)

與私人有限公司比較，解釋公眾有限公司的兩項優點。(4 分)

## 9. 2002.Q4

何謂有限償償責任？(2 分)

## 10. 2003.Q3

欣欣和民民共同管理一家廠商。由於民民管理不善，兩人都必須出售自己的物業來為該廠商還債。上述廠商屬於何種商業所有權形式？列舉該種形式的其中兩項特徵。(3 分)



11. 2004.Q4

寫出香港的公眾有限公司的三項特徵，藉以將它和私人有限公司區分出來。 (3 分)

12. 2005.Q3(a)

以下香港證券市場的資料摘錄自某報章某天的報道。

代號	電訊公司	股票收市價(\$)
0331	華潤萬眾電話	0.290
0315	數碼通	8.700
0008	電訊盈科	4.925

寫出上述電訊公司所有權型式的名稱。若與獨資相比，舉出該型式對企業擁有者的兩項優點和兩項缺點。 (5 分)

13. 2008.Q4(a), (b)(i)

一家公眾有限公司享有「有限債務責任」而一家合夥則不能。

(a) 「有限債務責任」的意思是甚麼？ (2 分)

(b) 解釋上述兩種擁有權形式

(i) 在擁有權的轉讓方面有何不同。 (2 分)

14. 2009.Q2

香港特區政府於 2007 年從股票市場購入若干數量的香港交易及結算所有限公司(簡稱港交所)股票。港交所的所有權形式屬於哪一類？列出該類所有權形式的兩項特徵。 (3 分)

15. 2011.Q2

ABC 有限公司是本港一家私人有限公司。

(a) 寫出有限債務的定義。 (2 分)

(b) 除有限債務外，列出私人有限公司的兩項特徵。 (2 分)

16. SP.Q9(d)

柏榮是 ABC 電子表生產有限公司 的其中一名股東，他不可以將自己持有這公司的股份在股票市場轉讓予其他人。

(i) ABC 電子表生產有限公司 屬於哪一類所有權形式？ (1 分)

(ii) 作為 ABC 電子表生產有限公司 的其中一名股東，在該公司破產時，柏榮是否需要用他自己的個人財物去償還公司的債務？試加解釋。 (2 分)

17. 2012.Q12(b)

華懋集團是香港的地產發展商之一。與其他主要發展商不同，華懋並沒有將其股票在股票市場上市。寫出作為私人有限公司而非上市公司的優點和缺點各二。 (4 分)

18. 2015.Q9(a)

(a) 麥當勞在香港一家私人有限公司。寫出成立私人有限公司相比於成立公眾有限公司的一項優點和一項缺點。 (2 分)

19. 2016.Q2(a)

「必摘星教育集團」是以中學生為對象的補習社。該集團可以向公眾發行股票和債券去籌集資本。  
(a) 寫出該集團的商業所有權種類名稱。 (1 分)

20 2017 Q10

香港鐵路有限公司(股單編號: 66)為本港提供鐵路服務。

(a) 港鐵是一間上市公司。寫出這種擁有權與私人有限公司的兩項不同之處。 (2 分)

(b) 有政客建議政府應該回購港鐵股份，令該公司變成由政府全資擁有。提出正反論點各一以討論該建議。 (4 分)

(c) 根據表一，我們可否得出「港鐵本地服務的總收入上升是由於其低彈性需求所致。」這結論？以圖輔助，解釋你的答案。 (7 分)

表一：港鐵本地服務的業務資料

年份	車費調整率	總乘客人次 (百萬)	總收入 (港幣百萬元)
2012	+5.4%	1 431	14 523
2013	+2.7%	1 475	15 166
2014	+3.6%	1 548	16 223

21 2018 Q2

去年，彼德營運一家獨資經營的廠商。最近他邀請了保羅和瑪莉成立一家合夥公司，把業務擴展至其他市場。

(a) 提出兩個原因解釋彼德為什麼轉變其廠商的商業擁有權以擴展業務。 (2 分)

(b) 瑪莉投資於該廠商但不會參與其管理。瑪莉屬哪類生產要素？解釋你的答案。 (2 分)

22 2019 Q3

舉出香港一家公營公司的例子。就所舉例子，提出由公營公司而非私營企業提供該服務的兩個好處。 (3 分)



## 1. 1990.Q4(a)(ii)

由於利申公司的股東只有有限債務責任，這會鼓勵他們投資更多資本。另外，由於公司可以有許多股東，故可籌集較多的資金。

## 2. 1992.Q3(c)(ii)

公眾有限公司如恒生銀行的股票能在股票市場中自由轉讓，而私人有限公司的股票必先得到董事局的同意才能轉讓予別人。公眾有限公司的股東數最少為2人，沒有上限。私人有限公司的股東數目則為2-50人。法律規定公眾有限公司每年都要在報章上刊登它們的業績報告，但私人有限公司則無此必要。

## 3. 1993.Q3(a)

(i) 公營公司由政府擁有的。

(ii)

公營公司較政府部門優勝之處包括以下幾項：

- 第一、公營公司如地下鐵路公司會有較高意欲去減低生產成本，因為它們需要自負盈虧。
- 第二、公營公司對員工的控制會較好，因為它們並非公務員。
- 第三、公營公司較私人公司優勝之處是前者有強健的財政結構，因為它有政府財政上的支持。

## 4. 1995.Q1

(普通)合夥

特徵：

- 2 至 20 個合夥人
- 無限償債責任
- 每個合夥人對廠商債務須負全責
- 合夥人受其他任何一位合夥人的商業行動所約束
- 新合夥人不易加上或原有合夥人退出有困難
- 容易成立或解散
- 帳目無須公開
- 合夥人死亡或破產會導致合夥的解體
- 任何一個相關點

## 5. 1995.Q11(c)

- 開辦成本低
  - 容易成立及解散：適合生意額變化大的企業
  - 利得稅稅率較低
  - 會計成本低
  - 可保留商業秘密/帳目無須公開
  - 任何一個相關點
- (只批閱首三項。)

## 6. 1996.Q3(a)

(a) 公眾有限公司

優點：

- 有限償債責任：股東的損失只限於他在該公司的投資額。
- 法人身分：公司作為一個法人可以簽合約，擁有物業及起訴他人等。
- 利潤或損失屬於公司，不屬於股東。
- 資金來源更廣泛
- 投資風險低，鼓勵更多人投資(就算他們並未具備做這種生意的專業技能亦可以)=>規模經濟。
- 股權容易轉讓
- 投資者容易將股權轉換為現金。
- 由專業人士經營生意
- 擁有權和管理權是分開的，又有規模經濟。

- 公司有延續性

∴公司的存在不受個別股東的死亡或退出所影響。

(只批閱首兩項。)

## 7. 1999.Q10(b)

優點：

- 稅率較低
- 較易設立 / 關閉
- 經營生意的法律規範較少
- 這方面的成本較輕
- 其他合理論點

弱點：

- 無限償債責任
- 資金來源較窄
- 缺乏延續性
- 較小可能獲享規模經濟
- 其他合理論點

## 8. 2001.Q11(c)

- 資金來源更廣：可向公眾集資
- 股票可自由轉讓，不須董事局批准
- 分工範圍更廣闊

[只批閱首兩項。]

## 9. 2002.Q4

東主對廠商的債務責任只限於他在該廠商的投資額。

## 10. 2003.Q3

這是普通合夥。它的特色包括：

- 無限債務責任
- 每一名合夥人對廠商的債務都要負上全部責任
- 所有合夥人都受到其他合夥人生意決策上的束縛
- 合夥人數目由 2 至 20
- 新合夥人的加入或現在合夥人的退出都並非易事
- 容易設立或解散

## 11. 2004.Q4

三項可以區分的特徵包括：

- 股東的人數沒有上限
- 股份可以自由轉讓
- 資金來源更廣 / 可邀請公眾人士入股
- 公司帳目公開

## 12. 2005.Q3(a)

公眾有限公司。

優點包括：

- 資金來源更廣
- 有限償債責任
- 法人地位
- 股份可以自由轉讓
- 經營有延續性
- 任何其他相關點

[只批閱首兩項。]

缺點包括：

- 公司帳目公開
- 利得稅稅率較高
- 被收購風險較高
- 開業手續複雜
- 任何其他相關點

## 13. 2008.Q4(a), (b)(i)

該廠商東主的債務責任只限於他在該廠商的投資額。

	公眾有限公司	合夥
擁有權的轉讓	無須得到其他股東的同意	須得到其他合夥人的同意

## 14. 2009.Q2

公眾有限公司。

- 獨立法人地位
- 有限債務責任
- 擁有權和管理職務是分開的
- 公司有延續性
- 股份可自由轉讓
- 向公眾發行股票
- 股東數目沒有上限
- 法例規定須披露財務狀況
- 任何其他相關點

## 15. 2011.Q2

(a) 股東對公司的債務負擔只限於他們的投資額。

- (b) 股東人數為1至50名
- 股份不可自由轉讓
  - 股份不可公開認購
  - 毋須向公眾披露公司財務狀況
  - 有獨立法人地位
  - 擁有權和管理職務是分開的
  - 公司有延續性
  - 任何其他相關點

## 16. SP.Q9(d)

- (i) (非上市)有限公司。
- (ii) 否，柏榮的債務只限於他已付出或應許付出的投資額。

17. 2012.Q12(b)

優點：

- 對擁有權有較大的控制／較難被收購
- 毋須對公眾披露會計資料
- 任何其他相關點

[只批閱首兩項]

18. 2015.Q9(a)

好處：

- 被收購的風險較低
- 毋須向公眾披露會計資料
- 任何其他相關點

[只批閱首項]

壞處：

- 車主不能自由轉讓其股票
- 公司不能向公眾發行股票
- 任何其他相關點

[只批閱首項]

19. 2016 Q.2a

(a) 公眾有限公司／上市公司

20 2017 Q10

- (a) - 上市公司的股票是自由買賣的，而私人有限公司的股票則不是。
- 上市公司須向公眾披露其會計資料，而私人有限公司則不需要。
  - 上市公司可以向公眾發行股票和債券，而私人有限公司則不可。

[只批閱首兩項]

(b) 支持港鐵的論點：

- 政府可更有效控制港鐵票價，它可以自由地減低票價減輕乘客的負擔。
- 若港鐵由政府全資擁有及支持，港鐵可能較容易獲取貸款為其營運或投資融資。

[只批閱首項]

反對港鐵的論點：

- 這可能令港鐵的管理變得欠缺效率及對市場（價格）的訊息欠缺敏感。
- 購買港鐵所涉及的金額龐大，政府將該筆款項用在其他方面（如教育和醫療）可能更佳。

[只批閱首項]

分數

@1  
最高：2

@2  
最高：2

@2  
最高：2

@1;  
最高：1

@1;  
最高：1

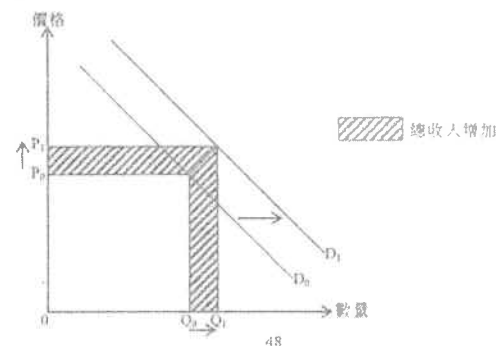
(c) 否。

文字解說：

- 需求上升。
- 價格和交易量均上升。
- 總收入上升。

在圖中顯示：

- 需求曲線向右移
- 價格和數量上升
- 總收入增加



(1)  
(2)  
(1)  
最高：7

(1)  
(1)  
(1)

21 2018 Q2

(a) 原因：

- 彼得想邀請更多投資者以獲得擴展業務的新資金。
- 彼得可以運用保羅和瑪利的不同專業知識以進行在新市場的業務活動。
- 任何其他相關點

[只批閱首兩項]

@1  
最高：2

(b) 企業家職能

因為她承擔業務風險。

(2)

22 2019 Q3

例子：

- 香港機場管理局
- 香港出口信用保險局
- 任何其他相關例子

[只批閱首項]

好處：

- 較容易從政府取得有關公眾的資料以供決策之用
- 可以較低的價格提供穩定的服務
- 在政府支持下較容易獲取貸款
- 任何其他相關點

[只批閱首兩項]

(1)

@1  
最高：2

## 1. 1994.Q4

銀行普通股股東與定期存款客戶的回報有何分別？試加以比較。 (6 分)

## 2. 1999.Q4

某有限公司正考慮應採用發行新股抑或是發行債券以籌措資金作擴充用途。  
就該公司的觀點來看，發行股票與發行債券比較，前者有何利弊？請各舉一項。 (4 分)

## 3. 2001.Q10(c)(ii)

甲銀行向公眾發行股票以籌集資金。該批股票的數量和認購價格均已固定，並且不是所有申請認購的人都能成功地認購。

(ii)與發行債券比較，列舉發行股票以籌集資金對甲銀行的兩項好處。 (2 分)

## 4. 2008.Q4(b)(ii)

一家公眾有限公司享有「有限債務責任」而一家合夥則不能。

(b)解釋上述兩種擁有權形式

(ii)在籌集資金來源方面有何不同。 (2 分)

## 5. 2010.Q10(a)

香港某大藥廠向公眾發行股票以籌集資金。

(a)從一家公眾有限公司現存股東的角度出發，相對於發行債券，寫出發行股票的一項優點和一項缺點。 (4 分)

## 6. 2012.Q12(b)

陳先生考慮把\$6000 投資在某上市公司發行的股票或債券上。舉出兩項理由解釋為什麼對陳先生來說，債券可以是較股票為佳的選擇。 (4 分)

## 7. 2016.Q2(b)

「必摘星教育集團」是以中學生為對象的補習社。該集團可以向公眾發行股票和債券去籌集資本。

(b)從董事的角度，解釋發行股票比發行債券一項優勝和一項不足之處。 (4 分)

## 1. 1994.Q4

普通股股東的回報是股息，而定期存款的用戶的回報則是利息。股息的比率並不固定，多少則視乎公司所得利潤所定。不過，利息比率是固定的，不會受公司利潤的多少而改變。

## 2. 1999.Q4

好處：無利息負擔 / 無須負擔贖回債券的責任 2分

壞處：較易被收購 2分

## 3. 2001.Q10(c)(ii)

無利息負擔 / 無須負擔贖回債券的責任

## 4. 2008.Q4(b)(ii)

	公眾有限公司	合夥
籌集資金的來源	可發行股票及債券	不可發行股票及債券 / 向親友借貸等

## 5. 2010.Q10(a)

一項優點：

沒有利息的負擔 / 沒有贖回的義務。

[只批閱首項。]

一項缺點：

容易被收購 / 在該公司獲得的利益會被攤薄。

[只批閱首項。]

## 6. 2012.Q12(b)

優點：

- 對擁有權有較大的控制 / 較難被收購
- 毋須對公眾披露會計資料
- 任何其他相關點

[只批閱首兩項]

} 1@：最高：2

缺點：

- 不能向公眾發行股票籌集資金
- 轉讓擁有權較困難
- 任何其他相關點

[只批閱首兩項]

} 1@：最高：2

## 7. 2016.Q2b

(b) 優勝之處：

- 沒有利息的負擔
- 沒有贖回的義務

[只批閱首項]

} @2  
最高：2

不足之處：

- 攤薄了對公司的控制權
- 提高了被收購的風險

[只批閱首項]

} @2  
最高：2

1. 1990.Q4(a)(i)  
李先生全資擁有「利新製衣廠」。這製衣廠將與一成衣零售集團合併，成立一間公眾有限公司。  
(i) 與零售集團合併對利新有何益處？解釋其中兩項。 (4 分)
2. 1991.Q5(b)(iv)  
設一經濟體系中只有甲、乙兩銀行  
假如乙銀行收購甲銀行，此收購屬於何種合併類型？列出乙銀行因此可能獲得的兩項好處。 (7 分)
3. 1992.Q4(a)  
甲公司在港灣擁有數間工廠。本港一間地產發展乙公司收購了甲公司。乙公司決定將部分工廠重建為酒店及購物中心。  
(i) 此屬於哪一類型的合併？ (2 分)  
(ii) 這種合併對乙公司有甚麼益處？解釋其中兩項。 (6 分)
4. 1994.Q9(a)  
日本一貨車製造商為擴張生產，也開始製造私家車。此種擴張屬何類型？寫出兩項導致該類擴張的動機。 (5 分)
5. 1996.Q11(b)  
香港報業在 1995 年底爆發價格戰。假設某報館開始出版一份獨立銷售的雜誌。  
(i) 這屬哪一種擴張？試加以解釋。 (3 分)  
(ii) 列舉兩項進行這種擴張的動機。 (2 分)
6. 1998.Q3  
某電視廣播公司收購一間影片製作公司。從經濟角度出發，寫出進行上述收購兩項可能動機。 (4 分)
7. 1999.Q11(b)  
某的上公司與一家酒樓合併。指出這是哪一種合併，並解釋該類合併的兩項可能動機。 (5 分)
8. 2000.Q10(b)(i)  
假設甲經濟的 X 銀行，購買乙經濟的 Y 銀行價值 5 百萬元的控制性股權，從而收購了 Y 銀行。  
(i) 解釋上述的購買屬於哪一類擴張，並解釋該項收購可導致的三項規模經濟。 (8 分)
9. 2002.Q11(d)  
王小姐在某補習社任教經濟科。  
(d) 該補習社同時也發行教科書予公眾購買。列舉該擴張行動的四項可能動機。 (4 分)
10. 2003.Q9(b)(ii)  
香港自 1998 年起出現通貨收縮。  
甲廠商是本港一家製造商，他的產品都是出口貨。假設甲廠商在香港設立零售店來售賣它的產品。  
解釋上述情況屬於何種類型的擴張，並建議該類型擴張的兩項可能動機。 (6 分)

11. 2004.Q11(c)(i)  
某著名時裝連鎖店開設分店。  
(i) 解釋該連鎖店在上述擴張中可能享有的兩項規模經濟。 (4分)
12. 2006.Q3  
開設的時候，華特迪士尼公司只製作卡通片。後來它擴充營業，擁有和經營迪士尼主題公園及酒店。  
解釋上述情況屬於何種類型的擴張，並指出該類型擴張的兩個可能動機。 (4分)
13. 2007.Q1  
地鐵和九鐵合併後，預期鐵路服務的平均生產成本會下降。  
提出三項理由解釋為甚麼該合併可使平均成本下降。 (6 分)
14. 2009.Q9(a)  
近年教科書的價格引人關注。  
教科書出版商一般是大量印刷教科書以減低他們的平均成本。  
(a) 解釋廠商擴大生產規模可享受的兩項規模經濟。 (4 分)
15. 2010.Q9(a)(b)  
香港海洋公園正進行全新發展計劃。  
(a) 海洋公園會擴張，使它的設施倍增。解釋海洋公園在擴張後可能享受到的兩項規模經濟。 (4 分)  
(b) 此外，由於預期訪客人數上升，海洋公園更計劃在公園內興建三間主題酒店（高峰水療度假酒店、海洋酒店及漁人碼頭酒店）。寫出上述擴張的類別，並解釋你的答案。 (2 分)
16. 2011.Q11(b)  
在 2010 年，香港的物業市道暢旺。  
(b) 本地一家物業代理擴充業務，設立更多分行。  
寫出上述擴張的類別的名稱及該類別擴張的兩項動機。 (3 分)
17. PP.Q2  
一家中國汽車生產商於 2010 年收購一家瑞典汽車生產商。解釋這個案涉及哪種合併，並列出這種合併的三個可能動機。 (5 分)
18. 2012.Q3  
某電信服務供應商成立一間信貸公司，向公眾提供貸款。  
(a) 解釋上述情況屬於何種類型的擴張。 (2 分)  
(b) 列出上述擴張的三個可能動機。 (3 分)



19. 2014.Q4

大快樂集團經營連鎖餐廳，提供中式食物。

- (a) 大快樂集團近日設立了快樂學院，為中式餐廳的廚師和經理提供專業培訓。這屬於哪類擴張？試加以解釋。(2 分)
- (b) 解釋這項擴張的兩個好處。(4 分)

20. 2015.Q9(b)

- (b) 麥當勞把業務擴展至經營咖啡屋 McCafe，有如星巴克等咖啡屋一樣出售優質咖啡。這屬於哪一類型的擴張？試加以解釋。(2 分)

21. 2019.Q9B

歐愛美小姐是香港選美冠軍。她以在社交媒體網站展示化妝品的使用示範短片而聞名。她也在自己的網站售賣日本化妝品。

- (a) 在社交媒體網站上的短片屬日用品，還是私用品？試加以解釋。(3 分)
- (b) 除了日本化妝品，她開始在其網站售賣韓國化妝品。這屬哪類擴張？舉出這類擴張的兩個可能原因。(3 分)

22. 2020.Q2

某連鎖中華餐館開設了一家餅店。

- (a) 解釋上述情況屬於哪種類型的擴張。(2 分)
- (b) 列出上述擴張的兩個可能動機。(2 分)
- (c) 在開設十家餐館後，該廠商發現平均成本下降了。舉出兩個可能原因。(2 分)

23. 2021.Q3

國泰航空於 1992 年收購了一家航空飲食公司，並將它改名為國泰航空飲食服務（香港）有限公司（CPCS）。在 2019 年，CPCS 提供約三千萬份膳食予各航空公司。

從國泰航空的角度看，寫出上述結合的名稱，並舉出該類結合的兩個動機。(3 分)

1. 1990.Q4(a)(i)

利申公司與零售商合併能確保利申公司在適當的地點、時間售賣適當質量及數量的產品。另外，利申公司可更直接和快速地收集關於顧客的取向、投訴等的資料，有助改良產品的質素。

2. 1991.Q5(b)(iv)

這是橫向合併。

因為銀行是直接地互相競爭的。

此舉能為（乙銀行）除去競爭對手，並增強其市場（壟斷力）。

同時，乙銀行能享有規模經濟，並減低平均成本。

例如，它能享有財政上的規模經濟。它可以用較低的利率向銀行借貸，因為它有足夠的抵押品。

3. 1992.Q4(a)

(i) 這是集團整合。

(ii) 這種合併能擴展乙公司的生產規模，從而使它享受到規模經濟。  
另外，這能令公司作多元化的發展，有助減低經營的風險。

4. 1994.Q9(a)

這是側面合併。

這種合併能令火車製造商的業務擴展至私家車生產，變得更多元化，從而分散投資風險。

這合併亦有助製造商擴展其生產規模，從而享有規模經濟。

5. 1996.Q11(b)

- (i) 側面擴張 1  
報紙與雜誌是相關的产品但未必互相競爭。 2  
或  
橫向擴張 1  
∵報紙與雜誌可被視為同類產品。 2
- (ii) -資源運用更佳 1@  
-可利用報章的名聲賺取更多利益  
-分散投資/分攤風險 最高:2  
-規模經濟  
[只批閱首兩項。]

6. 1998.Q3

- 保證有穩定的片源以供電視台播放 任何兩項  
- 電視廣播公司能主導或影響該影片製作公司放映哪些影片 2@  
- 以一個適當例子說明規模經濟。例如：可更充分利用該電視台的專業人材、設備等 最高4  
- 分散該電視台的投資風險  
- 其他相關點

## 7. 1999.Q11(b)

集團結合。

解釋下列任何兩項：

- 分散生產 / 分攤風險
- 財政規模經濟
- 管理規模經濟
- 市場規模經濟
- 其他相關點 (技術規模經濟除外)

[只批閱 首兩項。]

## 8. 2000.Q10(b)(i)

橫向合併

因他們從事相同或類似的行業。

解釋下列任何三項：

- 財政規模經濟
- 管理規模經濟
- 分攤風險
- 研究與發展
- 任何一個其他相關點

[只批閱 首三項。]

## 9. 2002.Q11(d)

- 利用品牌聲譽 / 商譽
- 產品多元化
- 提高聲譽
- 更善用資源 / 享用規模經濟
- 其他相關點

[只批閱首四項。]

## 10. 2003.Q9(b)(ii)

這是前向擴張，因為該製造商向下一級生產擴張。

該類擴張的動機包括：

- 更易獲得市場資訊
- 保證產品有銷路
- 規模經濟，例如財政規模經濟
- 提高商譽 / 利用品牌

## 11. 2004.Q11(c)(i)

兩項相關的規模經濟包括：

銷售規模經濟：大量入貨可減低成本等等

技術規模經濟：更充分運用廠房及設備

管理規模經濟：專業化的範疇更廣

財務規模經濟：較易集資及減低利率

1  
2@,  
最高: 41  
1  
2@,  
最高: 61@,  
最高: 4

## 12. 2006.Q3

集團擴張，因為

電影製作與酒店營運兩種企業性質完全不同。

或：

側向擴張，因為

它們的產品只屬相關而非互相競爭。

- 集團擴張或側向擴張的可能動機：
- 產品多元化，用以分散風險
- 利用品牌推銷其他產品/提高商譽
- 更靈活地運用資源
- 從規模經濟中得益
- 任何其他相關點

[只批閱 首兩項。]

1  
+1  
1@,  
最高  
: 2

## 13. 2007.Q1

該合併在以下幾方面可使平均成本下降：

- 由於分工更精細 / 聘用專業管理，使生產力提高
- 資源可以更為物盡其用/消除重疊的資源運用。
- 籌措資金更靈活/可安排較低息的銀行貸款。
- 大量採購原料可享折扣優惠。
- 產量擴大後更能攤薄廣告費用。

[只批閱 首三項。]

## 14. 2009.Q9(a)

- 大規模廠商更能充分運用機器和廠房設備，從而導致平均生產成本下降。
- 在大規模廠商內專門化的範疇更廣，這可提升廠商的生產效率和降低平均成本。
- 大規模廠商可用較低成本集資，例如能以較低利率向銀行貸款。
- 大量採購原料可享折扣優惠，從而減低平均成本。
- 產量擴大後更能攤薄廣告費用，從而減低均成本。
- 大規模廠商可藉分散市場/原料來源地以降低風險。
- 大規模廠商可攤薄研發費用（降低平均成本）以開發新生產技術。

2@,  
: 4

注意：新高中文憑試（HKDSE）經濟科不要求考生分辨銷售規模經濟 / 技術規模經濟 / 財政規模經濟 / 管理規模經濟 等等，考生只需解釋規模擴大如何令平均成本下降。



## 15. 2010.Q9(a)(b)

在規模擴大後，海洋公園可能享有以下的規模經濟：

- ✓ 財務規模經濟：可用較低成本集資，例如能以較低利率向銀行貸款。
- ✓ 管理規模經濟：專門化的範疇更廣，這可提升廠商的生產效率和降低平均成本。
- ✓ 採購規模經濟：大量採購原料可享折扣優惠，從而減低平均成本。
- ✓ 銷售規模經濟：產量擴大後更能攤薄廣告費用和為顧客提供額外服務的費用，這會降低平均成本。
- ✓ 研究與發展：產量擴大後更能攤薄研發費用，從而減低平均成本。
- ✓ 風險分散：由於設立更多不同類的景點，海洋公園可藉分散市場/原料來源地以降低經營的風險。

2@, 最高：4

## 16. 2011.Q11(b)

橫向擴張。

- 更有效地運用資源
- 增加市場佔有率
- 享有規模經濟
- 任何其他相關點

[只批閱首兩項]

1@

最高：2

## 17. PP.Q2

水平擴張：兩間公司生產同類物品。

(2)

可能動機：

- 更靈活運用資源
- 規模經濟
- 品牌上獲益
- 增加市場佔有率
- 任何其他相關點

[只批閱首三項]

1@;  
最高：3

## 18. 2012.Q3

可能的動機：

- 令產品／收入多元化以分散風險
- 將某產品的品牌運用於其他的產品上
- 更有效地運用資源，因為兩間公司可分享部分的資源
- 享有規模經濟（例如：廣告的平均成本會下降，因為這項總成本可攤分在更大數量的產出上。）
- 任何其他相關點 [只批閱首三項]

1@; 最高：3

## 19. 2014.Q4

- (a) 縱向後向擴張。因為大快集團成立快樂學院將業務擴展至上一階段的生產以直接控制原來業務（食品）的要素投入（廚師和經理） (2)
- (b) 好處：
  - 要素投入的供應較穩定，例如廚師和經理
  - 善用品牌效應
  - 可設計配合自己業務的課程，故此聘用該學院畢業生時可減少訓練時間
  - 任何其他相關點

[只批閱首兩項]

@2;  
最高：4

## 20. 2015.Q9(b)

側向擴張，

(1)

因為快餐和咖啡屬相關產品但並不直接競爭。

(1)

## 21. 2019.Q9B

(b) 橫向擴張。

(1)

原因：

- 擴大市場佔有率
- 享有規模經濟
- 利用品牌效應
- 任何其他相關點

[只批閱首兩項]

@1  
最高：2

## 22. 2020.Q2

(a) 側面擴張

(2)

因為該廠商擴張至生產相關但非競爭性的產品。

(b) 動機：

- 市場／產品多元化
- 規模經濟
- 利用品牌
- 任何其他相關點

[只評閱首兩項。]

@1  
最高：2

(c) 原因：

- 廣告成本由大量產出攤分
- 可大量購入生產原料
- 更廣泛地進行勞工專門化
- 任何其他相關點

[只評閱首兩項。]

@1  
最高：2

1. 1990.MC.Q12

獨資經營的優點包括：

- (1)有限債務責任
- (2)靈活的決策
- (3)更精細的分工
- (4)與顧客有更多接觸

- A. 只有(1)、(2)
- B. 只有(1)、(3)
- C. 只有(2)、(4)
- D. 只有(3)、(4)

2. 1990.MC.Q21

陳先生是一間貿易行其中一位老板。這貿易行最近宣告破產，之後法庭接管了陳先生的私人物業。這貿易行屬哪一種商業組織？

- A. 獨資
- B. 合夥
- C. 私人有限公司
- D. 公眾有限公司

3. 1993.MC.Q3

陳先生購買了一公眾有限公司的股票，下列哪一項是對的？

- A. 他不能參與該公司的管理。
- B. 他每年都收取該公司的股息。
- C. 他須向公眾交代他的個人帳目。
- D. 他可自由轉讓他對該公司的擁有權

4. 1993.MC.Q9

小明和小玲以普通合夥的形式開設一商號。下列哪一項是對的？

- A. 其中一人可享受有限償債責任。
- B. 小明和小玲平分所賺得的利潤。
- C. 如果小明以該合夥的名義舉債，小玲亦須承擔該筆債款。
- D. 小明可以不經小玲同意而將自己的合夥擁有權轉讓。

5. 1993.MC.Q10

香港國際商業信貸銀行 (BCC HK) 是一私人有限公司。當它在 1991 年倒閉時，

- A. 股東可在股票市場出售他們的股份以避免損失。
- B. 政府根據銀行條例接管這銀行。
- C. 存款人有權在股東取回金錢後收回屬於他們的金錢。
- D. 股東的損失只限於他們投資在該銀行的金錢。

6. 1994.MC.Q19

公眾有限公司的股票扮演什麼經濟角色？

- A. 編寫公司帳目
- B. 作出生產的決定
- C. 承擔風險
- D. 分享利潤

7. 1994.MC.Q24

有限公司是一法人。這表示

- A. 它必須遵守法律。
- B. 它可以公司名義起訴他人。
- C. 它的管理權與擁有權是分開的。
- D. 它的股票可以在股票交易所上市買賣。

8. 1995.MC.Q24

股東可以控告他的公司，因為

- A. 公司享有有限償債責任。
- B. 公司是一法人。
- C. 公司由董事會管理。
- D. 公司內管理權與擁有權是分開的

9. 1996.MC.Q18

下列哪一項是普通合夥經營的特徵？

- A. 只有不活躍合夥人可享受有限償債責任。
- B. 任何一位合夥人逝世，該廠商便要解散。
- C. 全部合夥人都平均分享該廠商的利潤。
- D. 合夥人轉讓股權，必須獲得多數合夥人的同意。

10. 1997.MC.Q17

小美、小紅和小強以有限合夥形式經營一家廠商，其中小美是一位有限合夥人。下列哪一項是正確的？

- A. 小紅享有有限償債責任。
- B. 他們必須將利潤均分。
- C. 小美不得參與該廠商的管理。
- D. 若小美去世，該合夥廠商便必須解散。

11. 1999.MC.Q18

永康、志安和秀文以普通合夥形式經營生意。下列哪一項是正確的？

- A. 他們均分利潤。
- B. 各人不需其他合夥人同意，也可將其擁有權自由轉讓予他人。
- C. 他們要承擔無限償債責任。
- D. 他們要公開該合夥的財政狀況

12. 2000.MC.Q20

王先生與陳先生以合夥形式經營生意。下列哪一項是正確的？

- A. 他們享有有限債務責任。
- B. 轉讓擁有權時無須另一合夥人同意。
- C. 他們每人都要為另一人在生意上的決定負上責任。
- D. 該合夥的帳目須公開予公眾人士

13. 2002.MC.Q17

下列那一項關於香港的有限公司的描述是正確的？

- A. 優先股股東和債券持有人都要承擔無限償債責任。
- B. 發行更多債券會增加公司被收購的風險。
- C. 公眾有限公司的股票和債券是在股票市場上買賣的。
- D. 當公司破產時，債券持有人有權先於股東取得公司的資產

14. 2006.MC.Q20

安琪、邦妮和嘉嘉共同擁有一家廠商。該廠商是一個法人。下列哪項關於該廠商的陳述必然正確？

- A. 該廠商可發行股票籌集資金。
- B. 最少有一名東主須負上無限債務責任。
- C. 任何一名東主死亡，該廠商都要解散。
- D. 該廠商須向公眾披露其帳目。

15. 2007.MC.Q22

下列哪一項對公眾有限公司的描述是正確的？

- A. 該公司可以是一家上市公司的股東。
- B. 該公司發行的股票是在股票市場上交易的。
- C. 股東的數目不超過50人。
- D. 它的回報較私人有限公司為高。

16. 2009.MC.Q21

李先生原是一位獨資經營者，他為了擴充生意，與陳先生合組了一家普通合夥。結果，

- A. 他們的償債責任限於他們在該廠商的投資額。
- B. 他們須均分利潤。
- C. 他們每人都要為另一合夥人的商業決策負責。
- D. 他們可發行股票以籌集資金。

17. 2010.MC.Q22

下列哪項對私人有限公司的描述是正確的？

- A. 該公司發行的股票在股票市場中買賣。
- B. 擁有權的轉讓須得到其他股東的同意。
- C. 該公司須公開它的財政資料。
- D. 該公司繳交利得稅的稅率較公眾有限公司低。

18. 2011.MC.Q23

下列哪項是普通合夥的一個特徵？

- A. 部分合夥人可享受有限債務責任。
- B. 任何一個合夥人去世，該合夥便要解散。
- C. 全部合夥人均分該廠商的利潤。
- D. 在獲得多數合夥人同意下，股份便可轉讓。

亞細亞的合夥人將他們的合夥轉成私人有限公司。在轉變後，

- A 該廠商會有更多資本作發展之用。
- B 該廠商的平均生產成本會較低。
- C 該廠商會享有較低的稅得稅率。
- D 該廠商會擁有獨立法人地位。

## 私營企業的分類 - 答案

1.	C	11.	C
2.	B	12.	C
3.	D	13.	D
4.	C	14.	A
5.	D	15.	A
6.	C	16.	C
7.	B	17.	B
8.	B	18.	B
9.	B	19.	D
10.	C	20.	

1. 1990.MC.Q18

下列哪一項為側面合併的例子？

- A. 麵粉廠與西餅店合併
- B. 牛仔褲廠與泳衣廠合併
- C. 首飾廠與麵廠合併
- D. 傢私廠與木廠合併

2. 1991.MC.Q21

國泰航空公司收購了港龍航空公司。這是一個\_\_\_\_\_的例子。

- A. 橫向合併
- B. 側面合併
- C. 向前縱合併
- D. 向後縱合併

3. 1993.MC.Q24

以下哪一項是「側面擴張」的一個例子？

- A. 一電話公司與一電報公司合併
- B. 一酒店與一超級市場合併
- C. 一醫院設立一學校以訓練護士學生
- D. 一傢俬公司與另一傢俬公司合併

4. 1994.MC.Q27

一旅行社收購一地產公司。這屬於何種合併？

- A. 集團結合
- B. 側面合併
- C. 縱面合併
- D. 橫面合併

5. 1995.MC.Q27

一出版商收購一店。對該出版商而言，這是一種\_\_\_\_\_。

- A. 集團結合。
- B. 前向合併。
- C. 後向合併。
- D. 側向合併。


6. 1998.MC.Q19

某著名歌星擴充他的表演事業至生產印有他照片的文具。這屬於哪一類擴張？

- A. 橫向
- B. 前向
- C. 後向
- D. 集團式

7. 2004.MC.Q24

某恤衫製造廠擴張生意，如下圖所示：



對該恤衫製造廠來說，X和Y的擴張類型分別是\_\_\_\_\_擴張和\_\_\_\_\_擴張。

- A. 後向.....側向
- B. 側向.....側向
- C. 後向.....前向
- D. 側向.....前向

8. 2008.MC.Q22

一家餐飲公司擁有很多餐館售賣不同類的中國菜。最近，它新開設了一家麵包店。下列

2008.MC.Q22中哪項描述是正確的？

該餐飲公司的擴張是\_\_\_\_\_的一個例子。

- A. 側面擴張
- B. 垂直向前擴張
- C. 橫向擴張
- D. 綜合擴張

9. 2017.Q9

佐丹奴國際有限公司是一個便服零售商。它開設了佐丹奴女裝 Giordano Ladies，提供高級女士服裝和套裝。這是\_\_\_\_\_擴張的一個例子。

- A. 橫向
- B. 縱向
- C. 側向
- D. 集團

06MC2 廠商擴張與結合的種類 多項選擇題 答案

1.	B	11.	
2.	A	12.	
3.	A	13.	
4.	A	14.	
5.	B	15.	
6.	D	16.	
7.	D	17.	
8.	A	18.	
9.	C	19.	
10.		20.	

1. 1994.MC.Q28

在香港，當一商業銀行收購另一商業銀行，

- A. 它對存款利率有更大的影響。
- B. 它可以分散生意上的風險。
- C. 它的市場佔有更高。
- D. 它會出現規模不經濟的問題。

2. 1995.MC.Q28

下列哪一項是集團結合的最大好處?

- A. 產品多元化。
- B. 規模經濟。
- C. 保障產品的銷路。
- D. 更高的市場佔有率。

3. 1997.MC.Q20

若一家餅店收購一家咖啡店，下列哪幾項是正確的？

- (1) 可以為其產品提供一條出路。
- (2) 資源可以運用得更好。
- (3) 生意風險可以透過分散投資而減少。
- (4) 利潤會增加。

- A. 只有(1)、(2)、(3)
- B. 只有(1)、(2)、(4)
- C. 只有(1)、(3)、(4)
- D. 只有(2)、(3)、(4)

4. 2000.MC.Q24

一家流動電話公司與一家商業銀行聯營一種生意。銀行的客戶可以利用該流動電話公司來處理銀行戶口事宜。以下哪一項是該流動電話公司各種參與該項聯營生意的動機中可能性最低的？

- A. 保證原料有穩定的供應
- B. 從更有效率地運用資源中得益
- C. 可從規模經濟中得益
- D. 推廣商譽

## 5. 2001.MC.Q23

一家巴士公司擴充業務，開始提供來往離島的渡輪服務。此舉可使該巴士公司

- A. 分散風險。
- B. 的產品市場多元化。
- C. 享有更高的市場佔有率。
- D. 享有技術規模經濟。

## 6. 2002.MC.Q22

某大型凍牛肉供應商陳太開設牛扒屋連鎖店。對該供應商而言，

- (1) 該生意擴張屬於前向擴張。
  - (2) 全盤生意出現損失的風險會下降。
  - (3) 這可保證她的凍牛肉有穩定的銷售市場。
- A. 只有(1)、(2)
  - B. 只有(1)、(3)
  - C. 只有(2)、(3)
  - D. (1)、(2)、(3)

## 7. 2003.MC.Q23

參閱以下報告回答2003.MC.Q23&2003.MC.Q24：

「名氣廊 (Towngas Avenue) 是煤氣公司最大的顧客服務中心。名氣廊同時售賣抬具、玻璃器皿和在店內經營咖啡店。」

將煤氣公司的生意擴展至經營名氣廊是一個什麼的例子？

- A. 橫向擴張
- B. 後向擴張
- C. 前向擴張
- D. 集團擴張

## 8. 2003.MC.Q24

將煤氣公司的生意擴展至經營名氣廊，對煤氣公司有以下的好處：

- A. 享受技術規模經濟。
- B. 保證生產原料有穩定的供應。
- C. 保證產品有足夠的市場出路。
- D. 生產多元化，並將風險分散。

## 9. 2005.MC.Q24

廠商可用哪種合併方式以保證其原料的供應？

- A. 後向合併
- B. 前向合併
- C. 集團結合
- D. 橫向合併

## 10. 2006.MC.Q23

當一家國際航空公司收購一家本地航空公司，前者可獲得以下的好處：

- A. 保證可獲得穩定的原料供應。
- B. 保證它有更高的服務質素。
- C. 享有管理規模經濟。
- D. 避免規模不經濟的出現。

## 11. 2007.MC.Q23

地鐵公司引入了八達通卡，那是一種聰明卡，支援小額交易。回答2007.MC.Q23及2007.MC.Q24

對於地鐵公司來說，這屬於哪一種擴張？

- A. 橫向
- B. 前向
- C. 後向
- D. 集團式

## 12. 2007.MC.Q24

該類型擴張具備下列哪一項優點？

- A. 享有技術規模經濟。
- B. 增加所經營業務的市場佔有率。
- C. 增加公司利潤。
- D. 分散經營上的風險。

## 13. 2008.MC.Q23

一家餐飲公司擁有很多餐館售賣不同類的中國菜。最近，它新開設了一家麵包店。下列

2008.MC.Q23中哪項描述是正確的？

該餐飲公司的擴張有助該公司

- A. 產品多元化以分散營業風險。
- B. 對市價有更大的影響力。
- C. 提升其工人的生產力。
- D. 獲得更穩定的原料供應。

## 14. 2009.MC.Q24

地鐵有限公司與九廣鐵路公司的合併是\_\_\_\_\_的例子，有\_\_\_\_\_的優點。

- A. 橫向合併... .. 保證生產原料供應穩定
- B. 縱向合併... .. 減低生產成本
- C. 側面合併... .. 規模經濟
- D. 集團合併... .. 資源運用更有效



15. 2010.MC.Q24

一家麵包店收購一家麵粉廠。此舉對前者的好處是

- A. 可以保證它的產品有銷售渠道。
- B. 可以擴大它的市場佔有率。
- C. 可以保證它的生產原料有穩定的供應。
- D. 可以分散市場。

16. SP.MC.Q9

假設一家中國電腦生產商收購一家美國電腦生產商。下列哪項並不是該中國電腦生產商在該收購中可獲得的好處？

- A. 將競爭對手變成夥伴
- B. 分散需求波動的風險
- C. 為公司建立良好聲譽
- D. 降低平均生產成本

17. 2013.MC.Q8

某廠商可透過進行\_\_\_\_\_確保原料供應穩定，而它可以透過進行\_\_\_\_\_增加市場佔有率。

- A. 後向合併... 橫向合併
- B. 後向合併... 側向合併
- C. 前向合併... 橫向合併
- D. 前向合併... 側向合併

18. 2015.MC.Q8

759 阿信屋是本地一家售賣進口零食的零售商。它將業務擴展至售賣化妝品和護膚產品。下列哪項最不可能是該擴張背後的動機？

- A. 減少競爭
- B. 享有規模經濟
- C. 將其品牌推廣至其他產品
- D. 以業務多元化分散風險

19. 2016.MC.Q11

香港電視網絡有限公司(HKTV)推出一個網上購物平台「HKTV Mall」。這擴張

- (1) 有助分散業務風險。
- (2) 確保公司有更高的利潤。
- (3) 將其品牌擴展至其他市場。

- A. 只有 (1)、(2)
- B. 只有 (1)、(3)
- C. 只有 (2)、(3)
- D. (1)、(2) 及 (3)

20. 2018.Q8

日本餐飲龍頭企業「東利多控股」收購了本港麵食連鎖店譚仔雲南米線。下列哪項最不可能是該擴張背後的動機？

- A. 確保要素投入的供應
- B. 藉產品多元化分散風險
- C. 享有規模經濟
- D. 將業務擴展至其他市場

21. 2019.Q9

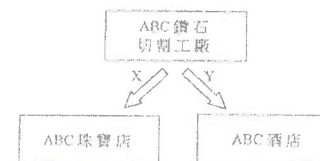
一家香港旅行社經營日本旅行團業務。它投資興建了一家酒店，為其日本旅行團的團友提供住宿服務。

下列哪項最有可能是該擴張背後的動機？

- A. 增加市場佔有率
- B. 確保要素投入的供應
- C. 保證其服務有銷售渠道
- D. 減少競爭

22. 2020.Q18

ABC鑽石切割工廠的業務擴張如下：




對ABC鑽石切割工廠來說，X和Y所示的擴張類型分別是\_\_\_\_\_擴張和\_\_\_\_\_擴張。

- A. 後向 ..... 集團
- B. 後向 ..... 側向
- C. 前向 ..... 集團
- D. 前向 ..... 側向

23. 2021.Q8

2017年中國網上食品外送行業的市場佔有率(%)



8. 2017年「餓了麼」收購了「百度外賣」，下列哪項／些可能是這收購背後的動機？

- (1) 可享有規模經濟
- (2) 使業務多元化以分散風險
- (3) 可對市場價格有更大影響力

- A. 只有 (1)
- B. 只有 (1)、(2)
- C. 只有 (1)、(3)
- D. 只有 (2)、(3)

06MC3 廠商擴張與結合的目的 多項選擇題 答案

1.	C	11.	D
2.	A	12.	D
3.	A	13.	A
4.	A	14.	C
5.	A	15.	C
6.	B	16.	B
7.	D	17.	A
8.	D	18.	A
9.	A	19.	B
10.	C	20.	A

21 B  
22 C  
23 C

1. 1991.MC.Q15

以下哪一項是合夥比獨資為優勝的地方？

- A. 有更大誘因去追求效率。
- B. 制訂管理決策時更為靈活。
- C. 更為多元化的管理才能。
- D. 全部合夥人享有有限債務責任。

2. 1991.MC.Q16

以下哪一項被視為私人有限公司「上市」的一項好處？

- A. 股東享有有限債務責任。
- B. 擁有權和管理權分開。
- C. 籌措資金的來源更為廣泛。
- D. 股票可以轉讓。

3. 1993.MC.Q13

私人有限公司轉為公眾有限公司的好處之一是：

- A. 有限償債責任
- B. 有更多途徑獲得資金
- C. 以較低利得稅率繳稅
- D. 被收購的機會較低

4. 1993.MC.Q17

香港的公營電台較私營電台優勝處包括：

- A. 生產成本較低
- B. 有優先權獲得世界新聞
- C. 分工更為廣泛
- D. 較易應付財政困

5. 1994.MC.Q25

公眾有限公司有別於私人有限公司，例如：

- A. 前者享有股東最高人數的法定限制。
- B. 前者股東享有有限償債責任。
- C. 前者不必向公司註冊處呈交公司組織大綱。
- D. 前者利得稅率較高

6. 1995.MC.Q25

公眾有限公司在籌集資金時較私人有限公司優勝，因為前者

- A. 由政府擁有，而後者則不是。
- B. 有較多董事。
- C. 可向公眾發行股票，而後者則不能。
- D. 生產規模較大

## 7. 1996.MC.Q17

下列哪兩項是從獨資經營轉為私人有限公司的好處？

- (1) 決策更為靈活
- (2) 資金來源更廣
- (3) 更有工作熱誠
- (4) 有限償債責任

- A. 只有(1)及(2)
- B. 只有(1)及(3)
- C. 只有(2)及(4)
- D. 只有(3)及(4)

## 8. 1997.MC.Q16

若一家上市公司轉為一家私人有限公司，它

- A. 可以避免受到政府控制。
- B. 縮小生產規模。
- C. 可以減少被收購的危險。
- D. 喪失法人的地位。

## 9. 1997.MC.Q19

細閱以下有關甲、乙廠商的資料：

	甲廠商	乙廠商
東主數目	6	7
擁有權的轉讓	須獲得其他東主同意	須獲得其他東主同意
廠商的法律地位	法人	並非法人

甲廠商和乙廠商的擁有權形式分別屬於\_\_\_\_\_和\_\_\_\_\_。

- A. 公眾有限公司...私人有限公司
- B. 私人有限公司...合夥
- C. 合夥...私人有限公司
- D. 公眾有限公司...合夥

## 10. 1997.MC.Q58

衛先生在大埔獨自擁有一家飯店，他的妻子替他打理該飯店的業務。與公眾有限公司比較，下列哪一項並非該飯店的擁有權形式所具備的優點？

- A. 可即時作管理上的決定
- B. 利得稅的稅率較低
- C. 擁有權和管理權分開
- D. 不須公開其財政狀況

## 11. 1998.MC.Q18

小光作為小額投資者，會選擇做公眾有限公司的股東多於選擇做私人有限公司的股東。這是因為：

- A. 他可享受有限償債責任。
- B. 轉讓股權較為容易。
- C. 股東有權控告該公司。
- D. 公眾有限公司股東的數目沒有法定最高數目。

## 12. 1999.MC.Q21

合夥經營與獨資經營比較，前者

- A. 有更多資本。
- B. 風險較低。
- C. 享有更多規模經濟。
- D. 在決策上靈活性較低。

## 13. 1999.MC.Q22

下列哪一項是公眾有限公司較私人有限公司優勝之處？

- A. 資金來源更廣。
- B. 享有更大的規模經濟。
- C. 有更佳的專業化管理。
- D. 股東人數更多

## 14. 2000.MC.Q21

將一家私人有限公司轉為一家在股票市場裏上市的公司會有下列哪些好處？

- (1) 該公司可獲得法人地位。
- (2) 該公司可享受規模經濟。
- (3) 該公司可獲得更廣泛的資金來源。
- (4) 該公司的擁有權可在市場上自由轉讓。

- A. 只有(1)、(2)
- B. 只有(1)、(4)
- C. 只有(2)、(3)
- D. 只有(3)、(4)

## 15. 2001.MC.Q18

	甲廠商	乙廠商
法律地位	獨立法人	獨立法人
債務責任	有限	有限
擁有權的轉讓	無需其他東主同意	需要其他東主同意

參閱上表。下列哪一項是正確的？

- A. 甲廠商比乙廠商有較多資金。
- B. 與乙廠商相比，甲廠商被其他廠商收購的風險較高。
- C. 由廠商是上市公司而乙廠商不是。
- D. 兩廠商都需要向公眾公開其帳目

## 16. 2002.MC.Q18

嘉芬是一位小額投資者，在香港的上市公司與私人有限公司之中，她會選擇購買前者的股票，因為上市公司的

- A. 帳目須由註冊會計師核實。
- B. 擁有權與管理權是分離的。
- C. 股票在股票市場上可自由轉讓。
- D. 股東的償債責任限於他們在該公司的投資額。

## 17. 2002.MC.Q21

若香港的一家私人有限公司轉變成為一家公眾有限公司，

- A. 該公司繳付的利得稅稅率會較高。
- B. 該公司會獲得法人地位。
- C. 該公司的資金來源會更廣。
- D. 原來的東主必須增加他們在該公司的投資額。

## 18. 2004.MC.Q22

與有限公司相比，普通合夥

- A. 有經營延續性。
- B. 利得稅稅率較高。
- C. 資金來源更廣。
- D. 成立的法律程序較為簡單。

## 19. 2005.MC.Q20、

若相關一家上市的公眾有限公司轉變為一家私人有限公司，則該公司

- A. 可以減少被收購的風險。
- B. 繳付的利得稅稅率會較低。
- C. 會失去法人地位。
- D. 的股東須承擔無限償債責任。

## 20. 2005.MC.Q22

下列哪一項是普通合夥較獨資經營優勝的地方？

- A. 東主享有有限償債責任。
- B. 資金來源較廣。
- C. 經營風險較低。
- D. 無需向公眾公開賬目。

## 21. 2005.MC.Q23

細閱以下有關甲、乙廠商的資料。

	甲廠商	乙廠商
東主數目	2	12
擁有權的轉讓	自由轉讓	須獲得其他東主同意
債務責任	有限	無限

根據上述資料，甲廠商是\_\_\_\_\_，乙廠商是\_\_\_\_\_。

- A. 公眾有限公司 ... 私人有限公司
- B. 私人有限公司 ... 合夥
- C. 合夥 ... 私人有限公司
- D. 公眾有限公司 ... 合夥

## 22. 2007.MC.Q20

下列哪一項是由合夥轉為私人有限公司的可能原因？

- A. 東主可獲更高利潤。
- B. 東主可享受有限債務責任。
- C. 該廠商的財務狀況可保持機密。
- D. 廠商擁有權的轉讓毋須得到其他東主同意。

## 23. 2008.MC.Q19

	甲廠商	乙廠商
東主數目	3	12
擁有權的轉讓	須獲得其他東主的同意	須獲得其他東主的同意
法律地位	法人	不是法人

根據上表資料，下列哪項關於本港甲、乙廠商的描述是正確的？

- A. 甲廠商所有東主對其他東主在生意上的決定都須負上法律責任，乙廠商的東主則無須負責。
- B. 甲廠商須公開其財務狀況，但乙廠商則無須如此做。
- C. 甲廠商的利得稅率較乙廠商高。
- D. 甲廠商被其他廠商收購的風險較乙廠商高。

## 24. 2009.MC.Q21

李先生原是一位獨資經營者。他為了擴充生意，與陳先生合組了一家普通合夥。結果，

- A. 他們的償債責任限於他們在該廠商的投資額。
- B. 他們須均分利潤。
- C. 他們每人都要為另一合夥人的商業決策負責。
- D. 他們可發行股票以籌集資金。

25. 2009.MC.Q23

2008年股市大跌後，香港部份上市公司建議將公司私有化。若一家上市公司私有化，並轉為一家私人有限公司，則

- A. 該公司不再是法人。
- B. 該公司的規模會縮小。
- C. 該公司可享有較低的利得稅稅率。
- D. 該公司被收購的風險會減少。

26. PP.MC.Q7

湯美和大衛將他們的公司由合夥轉成私人有限公司。下列哪項陳述是正確的？

- A. 他們工作意慾較高，因為利得稅稅率減低了。
- B. 即使其中一個東主破產，公司仍可繼續存在。
- C. 公司的規模會增加。
- D. 公司的財政狀況須透露予公眾。

27. 2012.MC.Q8

	甲廠商	乙廠商
東主數目	2	10
擁有權的轉讓	須獲得其他東主的同意	須獲得其他東主的同意
延續性	當一名東主破產，該廠商仍然繼續存在	當一名東主破產，該廠商會解散

根據上表資料，下列哪句關於甲、乙廠商的描述是正確的？

- A. 甲廠商被其他廠商收購的風險較乙廠商高。
- B. 甲廠商是獨立法人，而乙廠商不是。
- C. 兩件廠商要繳付相同的利得稅稅率。
- D. 甲廠商須公開其財政狀況，但乙廠商則不須。

28. 2013.MC.Q9

若一家合夥變成一家私人有限公司，

- (1) 該公司會成為一獨立法人。
- (2) 該公司被收購的風險會較高。
- (3) 該公司須付較高的利得稅率。
- (4) 東主的數目會上升。

- A. 只有(1)、(3)
- B. 只有(1)、(4)
- C. 只有(2)、(3)
- D. 只有(2)、(4)

29. 2014.MC.Q8

下列哪項有關合夥經營與獨資經營的陳述是正確的？

- A. 與獨自經營相比，合夥經營的持續性較佳。
- B. 與獨自經營相比，合夥經營在決策上靈活性較低。
- C. 與獨自經營相比，合夥經營有更多資本。
- D. 與獨自經營相比，合夥經營享有更多規模經濟。

30. 2018.Q7

	廠商 X	廠商 Y
擁有者數目	2	10
擁有權的轉讓	需要其他擁有者的同意	毋須其他擁有者的同意
向公眾披露財務資料	不需要	需要

根據上表，下列哪項有關廠商 X 和廠商 Y 的描述是正確的？

- A. 廠商 Y 比廠商 X 賺取更高利潤。
- B. 廠商 Y 所籌集的資本比廠商 X 多。
- C. 兩家廠商的擁有者均享有有限債務責任。
- D. 廠商 Y 是獨立法人而廠商 X 可能不是。

31. 2019.Q7

新世界中國地產有限公司（股票編號：0917）宣布把公司私有化，並取消其香港交易所的上市地位。

下列哪些是上述改變的可能好處？

- (1) 該公司可以選擇不向公眾披露其財務帳目。
- (2) 該公司可以減低被收購的風險。
- (3) 該公司可享有較低的利得稅率。

- A. 只有(1)、(2)
- B. 只有(1)、(3)
- C. 只有(2)、(3)
- D. (1)、(2)及(3)

注意：「優先股股東」並非DSE課程範圍。

06MC4 私營企業的比較 參考答案

1.	C	11.	B	21.	D
2.	C	12.	D	22.	B
3.	B	13.	A	23.	C
4.	D	14.	D	24.	C
5.	A	15.	B	25.	D
6.	C	16.	C	26.	B
7.	C	17.	C	27.	B
8.	C	18.	D	28.	A
9.	B	19.	A	29.	B
10.	C	20.	B	30.	D

31 A

1. 1990.MC.Q14 (Modified)

當一公司清盤時，下列哪一類人士首先獲得償還款項？

- A. 普通股股東
- ~~B. 優先股股東~~
- C. 董事
- D. 債券持有人

2. 1991.MC.Q18

以下哪一項描述普通股股東和優先股股東的分別是正確的？

- A. 優先股股東對公司行政有更大影響力。
- B. 公司結束營業時，優先股股東對公司的資產有優先獲償權。
- C. 普通股股東獲派股息的息率固定。
- D. 普通股股東獲派股息的息率更高

3. 1993.MC.Q7

從公眾有限公司的角度看，籌集資金時，發行債券較發行股票為佳的一項原因是：

- A. 該公司可籌得較多資金。
- B. 現時的股東對該公司有較大的控制權。
- C. 當利潤微薄時，該公司付予債券持有人的金錢可較付予股東的為少。
- D. 發行更多債券較發行更多股票可使該公司較易獲得銀行貸款。

4. 1997.MC.Q18

下列哪一種籌集資金的方法，最有可能導致一家公眾有限公司有股東的控制權減少？

- A. 增加發行普通股予公眾認購
- B. 增加發行優先股予公眾認購
- C. 增加發行債券予公眾認購
- D. 從銀行借入一筆短期貸款

5. 2001.MC.Q22

李先生是一位私人執業醫生。他可以用下列哪些集資方法以擴充業務？

- (1) 向銀行借貸。
- (2) 邀請別人做合夥人，成立一家普通合夥。
- (3) 成立一家私人有限公司及發行股票。
- A. 只有(1)、(2)
- B. 只有(1)、(3)
- C. 只有(2)、(3)
- D. (1)、(2)、(3)



6. 2004.MC.Q23

上市公司發行的債券\_\_\_\_\_在證券市場中買賣。該公司要在派發股息予股東\_\_\_\_\_支付利息予債券持有人。

- A. 可以 ..... 之前
- B. 可以 ..... 之後
- C. 不可以 ..... 之前
- D. 不可以 ..... 之後

7. 2005.MC.Q21 (Modified)

下列哪一項關於公司股東和公司債券持有人的描述是正確的？

- A. 普通股股東所得的回報較債券持有人的為高。
- B. ~~不論公司有沒有盈利，優先股股東有權按固定股息率收取股息。~~
- C. ~~普通股和優先股股東都是公司的債權人。~~
- D. 公司結業時，債券持有人較公司股東有先取回金錢的權利。

8. 2006.MC.Q22

從公司的角度出發，下列哪一項是發行普通股股票（ordinary share）較發行債券（bond）以籌集資金更為優勝之處？

- A. 該公司可籌得更多資金。
- B. 該公司有責任贖回債券，但不用贖回普通股股票。
- C. 普通股股票可在股市中自由轉讓。
- D. 股東的債務責任只限於他們在該公司已投資的金額。

9. 2007.MC.Q21

從上市公司的現有股東的觀點出發，為了籌集資金作發展用途，下列哪一項可顯示發行債券較發行普通股股票為佳？

- A. 他們對該公司的控制權不會被攤薄。
- B. 支付予債券持有人的利息較股息低。
- C. 該公司有虧損時，毋須支付利息予債券持有人。
- D. 債券持有人無權控告該公司，但股東則有此權利。

10. 2008.MC.Q20

在2006年，交通銀行的股份在香港的證券交易所上市買賣。此舉會導致

- A. 該銀行在香港成為法人。
- B. 該銀行較易在香港籌集資金。
- C. 該銀行的東主可享有有限償債責任。
- D. 該銀行的擁有權和管理權可以分開。

11. 2008.MC.Q21 (Modified)

下列哪種籌集資金的方法會攤薄一家上市公司現有股東對該公司的控制權？

- A. 向接受存款公司借款
- B. 發行債券
- C. ~~發行優先股~~
- D. 發行普通股

12. 2009.MC.Q20 (Modified)

一家公眾有限公司清盤時，在該公司的普通股股東、優先股股東、債券持有人，及僱員中，\_\_\_\_\_有權優先討回\_\_\_\_\_。

- A. 普通股股東 ..... 他們投資於該公司的金錢
- B. ~~優先股股東 ..... 他們投資於該公司的金錢~~
- C. 債券持有人 ..... 他們借貸給該公司的金錢
- D. 僱員 ..... 他們的欠薪

13. 2009.MC.Q22

從投資者角度看，下列哪項是購買普通股股票勝於購買債券之處？

- A. 普通股回報是高於債券回報的。
- B. 普通股市價可上升，但債券市價是固定的。
- C. 普通股股東在該公司投資的風險低於債券持有人。
- D. 普通股股東在週年大會上有投票權，而債券持有人則沒有。

14. 2009.MC.Q23

2008年股市大跌之後香港部份上市公司建議將公司私有化，若一家上市公司私有化，並轉為一家私人有限公司，則

- A. 該公司不再是法人。
- B. 該公司的規模會縮小。
- C. 該公司可享有較低的利得稅稅率。
- D. 該公司被收購的風險會減少。

15. 2010.MC.Q23

下列哪項對一家有限公司普通股股東的描述是正確的？

- A. 他們是公司的債權人。
- B. 他們在董事局會議中有投票權。
- C. 他們收取股息，其股息率是不固定的。
- D. ~~他們獲派股息的股息率較優先股股東高。~~

## 16. 2014.MC.Q7

某公眾有限公司計劃發行新的債券，以擴展業務。對現有的股東來說，下列哪項是發行債券而非股票的優點？

- A. 毋須向公眾人士披露公司的賬戶資料。
- B. 若公司清盤，他們會優先取回他們的資本。
- C. 付予債券持有人的利息比付予股東的股息低。
- D. 他們對公司的控制權不會被削弱。

若香港一家公眾有限公司在股票交易所上市，

- A. 它會面對更高的利得稅率。
- B. 它不能再對其會計資料保密。
- C. 它的股東會享有更高的資產流動性。
- D. 它會享有規模經濟。

## 17. 2015.MC.Q7

某廠商有獨立的法人地位，但擁有人不得未經其他擁有人同意而轉讓其擁有權。當擁有人想擴展廠商的業務，他們可以

- (1) 運用廠商的保留利潤
- (2) 向公眾發行股票以籌集資金
- (3) 向朋友借貸以籌集資金

- A. 只有 (1)。(2)
- B. 只有 (1)。(3)
- C. 只有 (2)。(3)
- D. (1)。(2) 及 (3)

## 18. 2047 Q6

政府為 65 歲或以上的香港居民推出銀色債券。債券持有人會獲發利息，利率和香港通脹掛鈎。但年利率不會少於 2%。債券持有人可在到期前將其債券以原價賣給政府。

下列哪(幾)項有關銀色債券的陳述是正確的？

- (1) 持有銀色債券的風險較持有上市公司股票的低。
- (2) 在通脹時銀色債券的回報會上升，而上市公司股票的回報率不會。
- (3) 銀色債券持有人的利率較上市公司股東收取的股息為高。

- A. 只有 (1)
- B. 只有 (2)
- C. 只有 (3)
- D. (1)。(2) 及 (3)

## 19 2020 Q4

一些小投資者偏好購買債券多於股票。下列哪項是可能的原因？

- A. 債券的回報普遍高於股票的回報。
- B. 股票價格可能上升，而債券價格是固定的。
- C. 股東需要花時間管理公司，而債券持有人則不需要。
- D. 公司有贖回債券的義務，卻沒有贖回股票的義務。

1.	D	11.	D
2.	B	12.	D
3.	B	13.	D
4.	A	14.	D
5.	A	15.	C
6.	A	16.	D
7.	D	17.	B
8.	B	18.	A
9.	A	19.	D
10.	B	20.	C

1. 1990.Q2(c)

市場由幾間大銀行所壟斷，它們分別為香港匯豐銀行，中國銀行和渣打銀行。

另外，市場有激烈的非價格競爭，例如，銀行會在招來顧客方面耗用龐大的廣告費。

2. 1991.Q2(c)(i)&amp;(ii)

(i) 這是壟斷，因為市場上只有一個廠商。

(ii) 氣球供給市場的結構多年來也無改變，因為新廠商難於與現有廠商競爭，它們要一段很長的時期去建立產品形象。

另外，高固定成本會阻礙新廠商加入市場。

3. 1992.Q1(a)

香港的士業並不屬於完全競爭。

首先，的士提供異質勞務。有些的士是四座位的，而有些則是五座位的。另外，的士勞務市場是不能免費加入的。的士的數目亦受政府發出的牌照所控制。

4. 1993.Q3(b)

要有專車經營地下鐵路服務，必須達到一定的生產規模去取得很低的平均成本。如果香港有多於一間地下鐵路公司，它們不可能有足夠的需求去配合此生產規模。

同時，若有多於一間公司，則會有設施上的重複，此舉會浪費資源。

5. 1995.Q4

香港海關辦理報關行業並非屬於完全競爭，因為它們的賣品質產品，例如它們提供有關服務，有些亦會招徠不同類型的旅客。

另外，這些海關並非尋價者，因為它們對服務的價格並非一樣。

6. 1996.Q5

這是壟斷性競爭。

壟斷性競爭的店舖會進行價格競爭。另外，它們亦會進行非價格競爭，例如包裝和顧客服務。

市場內含有很多賣家，而且他們能自由進出市場。

7. 1997.Q5

(a) 壟斷性競爭。

(b) 價格競爭，如提供不同的利率；銀行亦提供異質產品和服務，如不同的服務期。

(c) 市場會有非價格競爭和市場內的訊息不完全流通。

8. 1998.Q10(c)

用一個合適例子說明異質產品/ 服務/ 不完全訊息/ 不同生產成本。

例如：不同的售後服務

壟斷性競爭 1

9. 1999.Q9(d)

- 很多買家

- 有若干賣家 / 只有少數能操控市場的廠商

- 廠商互相倚賴

- 自由進出市場

- 異質產品

- 訊息不完全

- 非價格競爭

- 其他相關點

1@,

[只批閱 首兩項。]

最高 2

10. 2001.Q4

- 價格競爭

- 異質產品：不同服務，例如部分商店

24 小時售賣罐裝可口可樂

- 不同成本：不同店鋪繳交不同租金；

批發商對大量購買的零售商給予折扣優惠，等等

- 資訊不完全：在其他商店的售價如

何？附近有沒有其他商店也有得出售？

等等資訊不完全清楚

2@,

- 任何其他相關點

最高：

[ 只批閱首兩項。]

4

11. 2002.Q5

- 很多買家或賣家

1@,

- 異質產品

最高： 3

- 容易加入或退出該行業資訊不完全

- 有價格競爭

- 有非價格競爭

- 其他相關點

[ 只批閱首三項。]

12. 2003.Q4

完全競爭市場的特徵包括：

- 很多賣家 / 很多買家

- 所有廠商都是受價者

- 同質產品

- 有完全資訊

- 自由加入或退出

13. 2004.Q10(d)

兩項理由是：

- 異質產品：不同服務的五天遊

- 在競爭下有不同價格：不同團費

14. 2005.Q3(b)

寡佔。

- 少數壟斷性廠商

- 賣家因應其他賣家的行為作出反應

- 非價格競爭

- 異質產品或同質產品 / 異質產品

- 賣家進入市場有障礙

- 不完全資訊

- 價格競爭

- 任何其他相關點

[只批閱 首三 項特徵。]

15. 2006.Q9(b)

- 異質產品，例如不同店舖提供不同服務，等等

- 不同價格/尋價，例如不同顧客獲得不同折扣，等等

- 資訊不完全，例如顧客不知道在不同店舖裡的售價，等等

- 非價格競爭，例如某些商店送禮物給顧客，等等

- 任何其他相關點：就本個案作出解釋

[只批閱首兩項。]

16. 2007.Q8(c)

- 不同價格，例如不同的補習費

- 異質產品，例如教學質量不相同

- 非價格競爭，例如在超級市場賣廣告

，訊息不完全，例如學生不知道那位補習老師的教學質素較佳

- 任何其他相關點：就本個案作出解釋

[只批閱首兩項。]

18. 2008.Q3

寡頭壟斷。

1

- 由少數廠商控制市場

1@,

- 尋價者

最高：

- 策略上互相影響 / 互相牽制 3\*

- 產品可以是異質

- 非價格競爭

- 不容易加入市場

- 不完全資訊

- 任何其他相關點

[只批閱 首三 項特徵。]

\*[註：若考生於第一部份寫出錯誤答案例如壟斷性競爭，不用批改此部份答案。]

19. 2009.Q11(c)(ii)

- 不開的服務，例如：只有一些商店提供送貨服務。

- 不完全訊息，例如：消費者不知道哪一間商店售價較低。

- 不同的生產成本，例如：不同的租金。

- 任何其他含有經濟解釋的相關點。

20. 2010.Q4

壟斷性競爭。

1

壟斷性競爭的特徵：

1@, 最高： 3\*

- 很多賣家

- 自由加入或退出該行業

- 異質產品

- 資訊不完全流通

- 有非價格競爭

- 尋價者

- 其他相關點

[只批閱首三項]

21. 2011.Q9(b)

- 不同的服務 / 例如：有些店舖提供較佳的售後服務

- 不完全訊息 / 顧客不知道哪一間店舖售價較低

- 位置較佳的店舖租金較高

- 任何其他相關點，並附有合理解釋。

[只批閱首兩項。]

2@, 最高： 4

17. PP.Q11(c)

寡頭壟斷

(1)

特徵：

- 由少數廠商控制市場
- 策略上互相影響
- 非價格競爭
- 不易加入市場
- 任何其他相關點

(1)

(1)

(1)

(1)

(1)

[只批閱首兩項。]

或

壟斷性競爭

(1)

特徵：

- 很多賣家
- 異質產品
- 資訊不完全流動
- 自由加入或退出市場
- 任何其他相關點

(1)

(1)

(1)

(1)

(1)

[只批閱首兩項。]

以上 1 + 2，最高：3

18. 2012.Q12(a)

寡頭壟斷

- 數間具支配力的廠商
- 尋價者
- 定價策略互相依賴
- 產品可為異質
- 非價格競爭
- 進入該行業並不容易
- 不完全資訊

[只批閱首兩項。]

1@；最高：2

19. 2013.Q1

原因：

- ✓ 賣家提供異質服務，例如不同的旅行團
- ✓ 市場資訊並不完全，例如有關路線和服務的資訊
- ✓ 賣家進行價格及非價格競爭，例如廣告

[只批閱首兩項。]

2@；最高：4

20. 2014.Q2(c)

壟斷性競爭

(1)

原因：

- ✓ 有很多賣家 / 沒有具支配力的賣家
- ✓ 賣家售賣異質的產品
- ✓ 自由進出市場
- ✓ 任何其他相關點

(1)

(1)

(1)

(1)

[只批閱首兩項。]

@1 最高：2

21. 2015.Q9(c)

可能原因：

- 咖啡質素較低
- 生產成本較低
- 環境較差
- 品牌欠吸引
- 任何其他相關點

@2;

最高：4

[只批閱首兩項]

22. 2016.Q.10a

(a) 壟斷性競爭

特點：

- 許多賣家
- 尋價者
- (少許) 異質的商品
- 非價格競爭
- 市場資訊不完全
- 任何其他相關點

[只批閱首兩項]

2017.Q3

寡頭壟斷。

(1)

特徵：

- 有數間具支配性的廠商
- 進入市場有障礙
- 互相影響的價格策略
- 不完全的市場資訊
- 任何其他相關點

[只批閱首兩項特徵]

@1  
最高：2

12. 2003.MC.Q49

在香港，電視廣播有限公司(TVB)和亞洲電視有限公司(ATV)播放免費的電視節目。以下哪一項並非正確？

該兩家公司

- A. 是寡頭壟斷者。
- B. 獲政府發給專營權。
- C. 所提供的電視節目是經濟物品。
- D. 彼此只有非價格競爭。

13. 2004.MC.Q25

在香港，石油公司（例如埃索、加德士）的市場結構可視作寡頭壟斷，因為

- A. 這些公司決策時須考慮業內其他有影響力的公司的反應。
- B. 市場裏的全部銷售收益被這些公司平分。
- C. 這些公司售賣同質產品。
- D. 不需要成本便可獲知他們產品的資訊。

14. 2005.MC.Q25

下列哪一項關於獨佔的描述是正確的？

- A. 獨佔者必須擁有專營權。
- B. 獨佔者毋須面對競爭。
- C. 獨佔者可能會有虧損。
- D. 獨佔者只售賣一種產品。

15. 2006.MC.Q24

在下列哪種情況下，一個市場可被視為寡頭壟斷？

- A. 市場訊息不完全。
- B. 少數廠商的市場佔有率明顯比其他廠商大很多。
- C. 市場上出售的貨品是日常必需品。
- D. 賣家能否進入市場是由政府操控的。

16. 2007.MC.Q25

機場快線是香港唯一載客往返機場的鐵路服務，下列哪一項對機場快線的描述是正確的？

- A. 它肯定獲得利潤，因為它是機場鐵路服務的唯一供應者。
- B. 它毋須透過賣廣告來推廣業務。
- C. 它可以加價而不流失顧客顧客。
- D. 它在市場上須面對其他來往機場運輸服務者的競爭。

17. 2008.MC.Q25

港島電力供應的市場結構被視為

- A. 獨佔，因為政府控制供應商進入市場。
- B. 寡頭壟斷，因為香港有兩家電力公司。
- C. 獨佔，因為只有一個供應商。
- D. 寡頭壟斷，因為供應商是尋價者。

18. 2010.MC.Q25

網絡供應商（例如：電訊盈科和有線寬頻）的市場結構可被視為\_\_\_\_\_，該種市場結構的一個特色是\_\_\_\_\_。

- A. 壟斷性競爭..... 有關它們得服務的資訊是不完全流通的。
- B. 壟斷性競爭..... 它們進行價格競爭及非價格競爭。
- C. 寡頭壟斷..... 它們的服務是同質的。
- D. 寡頭壟斷..... 它們在決策時會考慮同業的反應

19. 2011.MC.Q25

在下列哪種情況下，一個市場會被歸類為壟斷性競爭？

- A. 訊息不完全。
- B. 有很多售賣異質產品的賣家。
- C. 價格及非價格競爭同時存在。
- D. 可以自由進入市場。

20. SP.MC.Q17

在下列哪種情況下，一個市場可被視為寡頭壟斷？

- A. 市場訊息不完全
- B. 市場被少數賣家支配
- C. 政府限制賣家進入市場
- D. 不同賣家出售相似但可區別的產品

21. 2012.MC.Q18

若一廠商是某市場的壟斷者，

- A. 它的壟斷能力可能來自政府。
- B. 它的回報會是正數。
- C. 它無需面對競爭。
- D. 它無需承擔風險。

22. 2013.MC.Q17

香港電力行業的市場結構屬

- A. 寡頭壟斷，因為市場上有兩間具支配力的公司。
- B. 寡頭壟斷，因為各公司的訂價策略互相影響。
- C. 壟斷，因為各公司可提高價格而不會流失顧客。
- D. 壟斷，因為在任何地區只有一間電力公司提供電力。



## 23. 2014.MC.Q17

下表顯示2012年香港超級市場的市場份額的分佈。

名稱	市場份額 (%)
惠康	39.8
百佳	33.1
華潤萬家	7.8
其他	19.3
合共	100

我們可由上表得出結論如下：香港超級市場是 \_\_\_\_\_ 市場的一個例子，因為 \_\_\_\_\_。

- A. 寡頭壟斷 ..... 賣家的營銷策略互相影響  
 B. 寡頭壟斷 ..... 幾位主要賣家操控了市場的總銷售量  
 C. 壟斷性競爭 ..... 賣家能影響市價，從消費者角度看來，它們的貨品是異質的  
 D. 壟斷性競爭 ..... 市場上有許多賣家採用非價格競爭

## 24. 2015.MC.Q20

下列哪項有關香港主題公園行業的陳述是正確的？

- A. 香港迪士尼樂園是一壟斷者，因為當遊客增加，它的平均生產成本下降。  
 B. 香港迪士尼樂園保證能獲得利潤，因為它受政府保護。  
 C. 香港迪士尼樂園和香港海洋公園之間沒有競爭，因為遊客可能兩個主題公園皆到訪。  
 D. 香港迪士尼樂園和香港海洋公園的營銷策略是互相影響的。

## 25. 2016.MC.Q20

下列哪些有關壟斷的陳述是正確的？

- (1) 壟斷者訂立市場價格。  
 (2) 當沒有廠商可以獲准進入該市場，便會出現自然壟斷。  
 (3) 壟斷者所提供的產品是有替代品的。  
 A. 只有 (1)、(2)  
 B. 只有 (1)、(3)  
 C. 只有 (2)、(3)  
 D. (1)、(2) 及 (3)

## 26. 2017.Q19

下列哪項有關壟斷性競爭的陳述是正確的？

- (1) 市場內可以有大量或大量的賣家和買家。  
 (2) 賣家都是領導者。  
 (3) 賣家所提供的物品及服務屬同質的。  
 (4) 該市場是自由進入和退出的。  
 A. 只有 (1)、(3)  
 B. 只有 (1)、(4)  
 C. 只有 (2)、(3)  
 D. 只有 (2)、(4)

## 27. 2018.Q21

索尼的 PS4 的銷售額為 178 億元，在環球遊戲機硬件市場的佔有率為 51%。與其相比，微軟的 Xbox One 的銷售額為 91 億元，市場佔有率為 26%。任天堂的 3DS 平台 (及其他型號如 2DS) 則是遠遠落後的第三名，銷售額 26 億元，市場佔有率為 8%。

上述環球遊戲機硬件市場的市場結構屬寡頭壟斷。這陳述

- A. 是正確的，因為各公司在市場售賣異質物品。  
 B. 是正確的，因為市場有數家具支配力的公司。  
 C. 是不正確的，因為 PS4 只佔市場的 51%。  
 D. 是不正確的，因為環球市場有眾多賣家。



07MC2 不同的市場結構 多項選擇題 答案

1.	B	11.	B	21.	A
2.	C	12.	D	22.	D
3.	C	13.	A	23.	B
4.	A	14.	C	24.	D
5.	C	15.	B	25.	B
6.	D	16.	D	26.	D
7.	D	17.	C	27.	B
8.	C	18.	D	28.	
9.	B	19.	B	29.	
10.	B	20.	B	30.	