

第一部分：此題必答，設問內容涵蓋甲、乙部，佔40分。

1. 資料一：鄭國公舉行大典的祭祀坑

周禮規定，國家舉行祭祀大典或葬禮時，只有周天子可以享用最高禮儀。位居禮器首位的銅鼎，尊卑序列更為嚴格，天子享用九鼎，諸侯享用七鼎。

鼎



劉煒、何洪《中華文明傳真 3 春秋戰國》

資料二：

公元前707年，周桓王因鄭莊公不去朝見他而帶領幾個諸侯國討伐鄭國。鄭莊公出兵抵禦，雙方交戰。周桓王被打得大敗，在後退時還被箭射傷了肩膀，威風掃地。

改寫自戴逸等主編《中國通史 學生彩圖版 第二冊》

資料三：


- 吳起本是衛國人，喜好兵法，曾經學習於孔丘的弟子曾參，先後在魯國、魏國為將。
- 蘇秦是洛陽人，他出身低微。在學有成就之後，游說燕文公與趙國結盟，燕文公十分讚賞蘇秦。蘇秦先後到了趙、韓、魏、齊、楚，以三寸不爛之舌，講解合縱抗秦的主張。

改寫自戴逸等主編《中國通史》及戴逸等主編《中國通史 學生彩圖版 第二冊》

- (a) (i) 以下哪一項最適合用來描述資料一和資料二所反映春秋時期的現象？把代表答案的英文字母寫在答題簿內。(1分)並從資料一和資料二各找出一項證據，解釋你的看法。(4分)
- A.周室衰微 B.尊王攘夷 C.諸侯兼併
- (ii) 承上題，平王東遷洛邑和封建制度崩壞如何導致上述現象出現？試援引史實，加以解釋。(6分)
- (iii) 以下哪兩項最適合用來描述資料三所反映戰國時期的現象？把代表答案的英文字母寫在答題簿內。(2分)並從資料三各找出一項證據支持你的看法。(2分)
- A.游俠風氣盛行 B.商人地位提升 C.平民興起
D.諸子百家爭鳴 E.中央集權加強 F.郡縣出現
- (iv) 承上題，學術下移如何導致上述現象出現？試援引史實，加以解釋。(5分)

資料四：與蔣介石有關的兩幅漫畫

漫畫一：刊於1946年，題為「十五年前的一幕童話」。



張學良

不抵抗命令

蔣介石

東北

漫畫二：作於1949年，題為「元旦蔣介石大閱兵」。



資料五：抗日戰爭時期的兩張宣傳品

宣傳品一：海報

萬眾一心誓滅倭寇

寇倭滅誓心一眾萬



中華全國救國聯合會

宣傳品二：傳單

華北華中的日軍完全連絡

的中華北華
絡連全完軍日



了陷失州徐

徐州失陷了！

- (b) (i) 資料四漫畫一記述的是哪宗事件？把代表答案的英文字母寫在答題簿內。(1分)並從漫畫找出三項證據支持你的看法。(3分)
A.東北易幟 B.九一八事變 C.西安事變
- (ii) 資料四的兩幅漫畫對蔣介石持什麼態度？把代表答案的英文字母寫在答題簿內。(1分)並從兩幅漫畫各找出一項證據支持你的看法。(2分)
A.欣賞 B.諷刺 C.中立
- (iii) 承上題，你同意漫畫家的觀點嗎？試援引史實，加以解釋。(4分)
- (iv) 資料五兩張宣傳品描繪的日軍形象有什麼不同？(2分)試從海報及傳單各找出一項證據支持你的看法。(2分)
- (v) 承上題，為什麼會出現上述的不同描繪？試舉出一個原因，加以解釋。(2分)
- (vi) 你同意資料五宣傳品二的觀點嗎？試援引史實，加以解釋。(3分)

第二部分：分甲部及乙部，考生須於每部各選答一題，共答兩題，每題佔 25 分。
甲部：上古至十九世紀中葉（下列三題，選答一題）

2. **資料一：**

漢時匈奴有二十四個部落的結盟，勢力範圍達一千五百英里，自東北至於青海。公元前200年，匈奴曾號稱以三十萬騎兵圍困漢高祖劉邦於山西。

改寫自黃仁宇《中國大歷史》

資料二：

因社會經濟復蘇，對上層統治階級的影響，最先是諸侯王的驕縱，小者荒淫越法，大者睽孤橫逆（驕橫不忠）。貴族與商人，聲氣互通，相為消長。這些情況皆足以動搖政局。

改寫自錢穆《秦漢史》

資料三：

武帝用了桑弘羊，行了些榷鹽鐵酒酤、均輸、平準等政策。其結果只達到籌款的目的，且因行政的腐敗，使人民受累。

改寫自呂思勉《中國通史》及錢穆《秦漢史》

- (a) 根據資料一和資料二，並援引史實，分析漢武帝改變治國思想的背景。(6分)
- (b) 為什麼漢武帝選擇以儒家思想治國？試援引史實加以分析。(9分)
- (c) 試援引史實印證資料三的說法。(10分)

3. **資料一：**

「他(隋文帝)二十四年節儉勤政、休養生息的統治，使廣大的百姓受惠，為唐代盛世奠定基礎。」

李定一《中華史綱》

資料二：

- 貞觀初，太宗謂侍臣曰：「為君之道，必須先存百姓。」
- 唐太宗對太子說：「……水能載舟，亦能覆舟。爾(你)方為人主，可不畏懼！」這種治國意識在貞觀君臣論治中十分普遍。

改寫自袁行霈等主編《中華文明史》

- (a) 你同意資料一對隋文帝的評價嗎？試援引史實加以析論。(15分)
- (b) (i) 資料二反映了唐太宗什麼治國思想？(1分)
- (ii) 資料二的「水」和「舟」分別比喻什麼？(2分)
- (iii) 資料二所說的貞觀君臣論治內容記載於唐代哪一本著述中？(1分)
- (c) 試從以下三方面，印證資料二所指唐太宗施政是「先存百姓」的說法。(6分)
- 改良地方政制，留心吏治
 - 確立田制及賦役制度
 - 完善兵制

4. 資料一：

「從法理上說，中央政府以命令授權形式將部分權力交與行省行使，一切治權皆屬中央政府，行省只是中央的代理而已。……朝廷總是在直接掌握某些基本權力(如主要軍隊、官吏任用等)的同時，把相當一部分權力分寄於行省，然後借行省集權於中央。」

李治安《行省制度研究》

- (a) 元代行省制如何有利於管治地方？試根據資料一，並援引史實，加以闡析。(15分)
- (b) 明太祖除了嚴刑峻法，還以什麼方法達致「君尊臣卑」的施政目的？試援引史實，加以說明。(10分)

乙部：十九世紀中葉至二十世紀末（下列三題，選答一題）

5. 資料一：

圖一：1900年西方出版的明信片



圖二：「盛來與端去」，作於1911年。




資料二：

- 1895年，孫中山在香港成立 A 總部，並以「驅除韃虜，恢復中華，創立合眾政府」為宗旨。
- 1903年，黃興在長沙組織華興會。
- 1904年，蔡元培在上海創立光復會。
- 1905年，孫中山在東京聯合各革命團體成立統一的組織，稱 B，並以「驅除韃虜，恢復中華，創立民國，平均地權」為綱領。
- 1906-1911年間，起義此起彼落。1911年4月在廣州發生起義，七十二位烈士遺骸葬於 C。

改寫自徐中約《中國近代史》和 www.sx.gov.cn

資料三：「官與民之擔負」，作於1910年。



- (a) (i) 資料一圖一是指哪一場戰爭？(1分)試從圖一找出一項證據支持你的看法。(1分)
- (ii) 承上題，試援引史實，說明這場戰爭對中國國防和民族自信兩方面的影響。(4分)
- (b) (i) 資料一圖二與清廷頒布的哪項政策有關？(1分)試從圖二找出一項證據支持你的看法。(2分)
- (ii) 承上題，民眾對此項政策的態度如何？(1分)這與武昌起義的成功有什麼關係？試援引史實，加以解釋。(2分)
- (c) 根據資料二，在答題簿內寫出A和B代表的革命組織，以及C代表的地點。(3分)
- (d) 資料二和資料三是否足以闡釋辛亥革命發生的背景？試援引史實，加以分析。(10分)

資料一：李烈鈞於1913年發表《江西討袁軍總司令檄文》

「袁世凱乘時竊柄，帝制自為，……暗殺元勳，弁髦（輕視）約法，而擅借巨款。」

鄒魯《中國國民黨史稿》

資料二：「自作孽，不可活」，作於1917年。

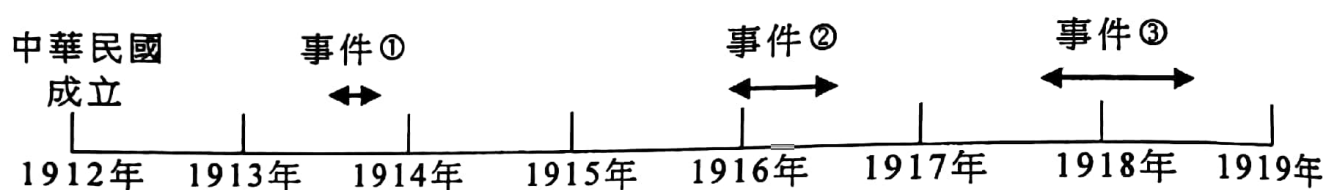


資料三：

- 「與國民黨合作的想法，實際上又是共產黨方面主動提出來的。」
- 「來自共產國際和蘇俄的代表正在積極謀求與孫中山的合作。」
- 「孫中山為什麼願意吸收共產黨員加入國民黨？……與孫中山的現實需要有關。」

楊奎松《國民黨的「聯共」與「反共」》

- (a) (i) 根據資料一，李烈鈞所指的「元勳」是誰？(1分)又這「元勳」為何被暗殺？(1分)
- (ii) 承上題，「擅借巨款」是指什麼？(1分)
- (b) (i) 資料二圖中的人物是誰？(1分)試從圖中找出一項證據支持你的看法。(1分)
- (ii) 承上題，漫畫作者對此人物有何看法？試加以解釋。(2分)
- (c) 事件①、②和③分別是什麼？把數字連同答案代表的英文字母寫在答題簿內。(3分)



- A. 護法運動
- B. 二次革命
- C. 護國運動

- (d) 根據資料三，並援引史實，闡析國共第一次合作的背景。(15分)


7. 資料一：

- 毛澤東發動「文革」的動機既有領導人之間的政策分歧，又有權力鬥爭。
- 「文化大革命」的中心口號是「反修防修」，是從中蘇的分歧引起的。

改寫自熊景明等主編《中外學者談文革》和金春明《「文化大革命」史稿》

資料二：「文化大革命」期間的照片及宣傳畫

圖一



圖二



資料三：

- 「文化大革命」導致全國經濟破壞、文化遺產破壞、教育停頓、文藝創作與學術研究停頓。
- 黨組織遭受了嚴重破壞，許多黨領導人或被清洗，或被撤職。

改寫自徐中約《中國近代史》和連浩鋈《中國現代化與蛻變的歷程(1900-2000年)》

- (a) 根據資料一，並援引史實，分析「文化大革命」的背景。(10分)
- (b) 根據資料二的圖一和圖二，並援引史實，分別說明「文化大革命」的其中兩項特點。(6分)
- (c) 根據資料三，並援引史實，分析「文化大革命」對經濟、文教和政治的影響。(9分)

- 試卷完 -

本試卷所引資料的來源，將於香港考試及評核局稍後出版的《香港中學文憑考試試題專輯》內列明。